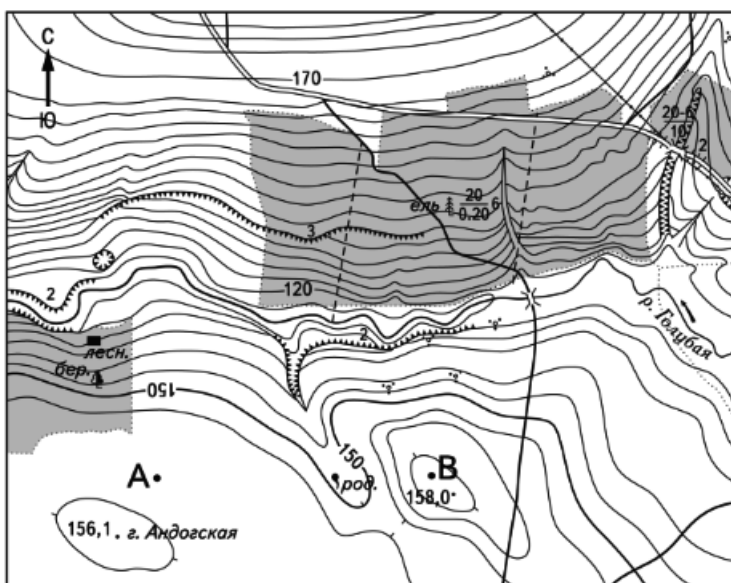


Задания

Задание 28 № 2779


Постройте профиль рельефа местности по линии А—В, используя горизонтальный масштаб — в 1 см 50 м и вертикальный масштаб — в 1 см 5 м.



Масштаб 1:10 000
 В 1 см 100 м
 100 0 100 200
 Горизонтالي проведены через 2,5 метра

РЕШУЕГЭ.РФ

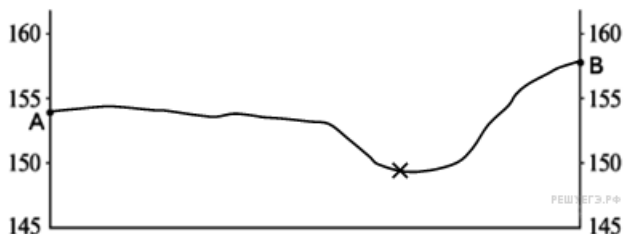
Укажите на профиле знаком «X» положение родника.



РЕШУЕГЭ.РФ

Пояснение.

- 1) Горизонтальный масштаб профиля равен 1 : 5000. Длина горизонтальной линии АВ на профиле равна 8,4 см ("=" " 2 мм).
- 2) Расстояние от левой вертикальной оси до родника 5,4 см.
- 3) Форма профиля в основном совпадает с эталоном.



РЕШУЕГЭ.РФ

Поделиться