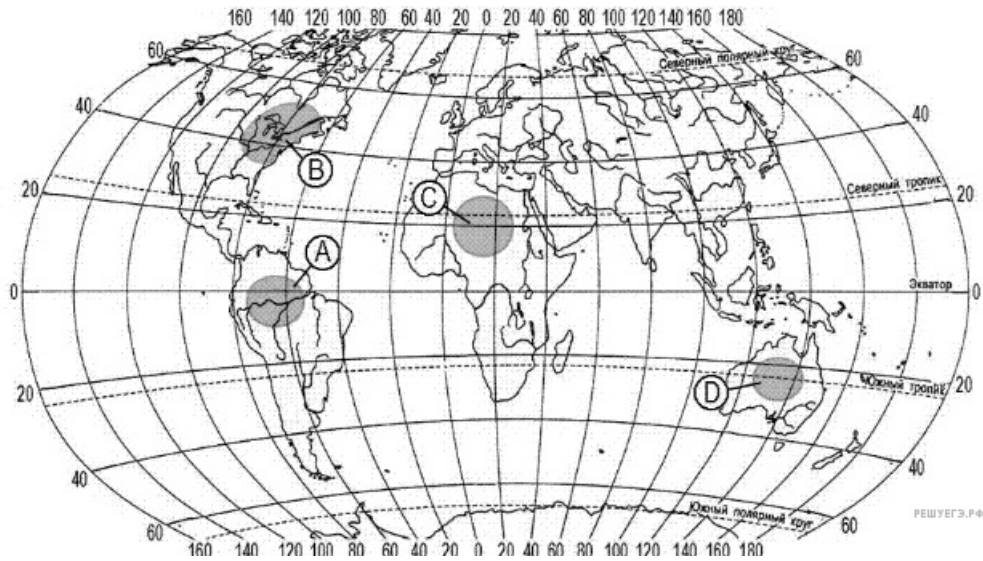


Задания для подготовки

1.

Какая из территорий, обозначенных буквами на карте мира, имеет наибольшую среднюю плотность населения?



- 1) A
- 2) B
- 3) C
- 4) D

2.

В какой из перечисленных стран средняя плотность населения наибольшая?

- 1) Бангладеш
- 2) Намибия
- 3) Тунис
- 4) Алжир

3.

В пределах какой из перечисленных стран средняя плотность населения наименьшая?

- 1) Чехия
- 2) Турция
- 3) Монголия
- 4) США

4.

В пределах какой из перечисленных стран средняя плотность населения наибольшая?

- 1) Австралия
- 2) Бангладеш
- 3) Великобритания
- 4) Германия

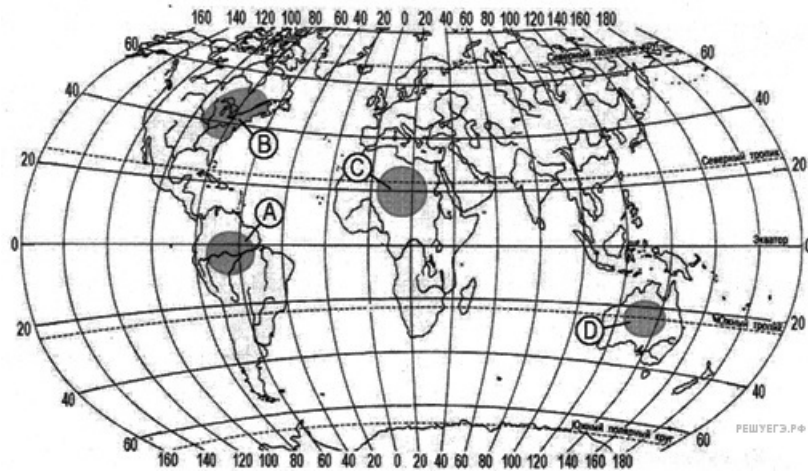
5.

Какая из перечисленных стран относится к числу наиболее густонаселенных?

- 1) Алжир
- 2) Бельгия
- 3) Ливия
- 4) Монголия

6.

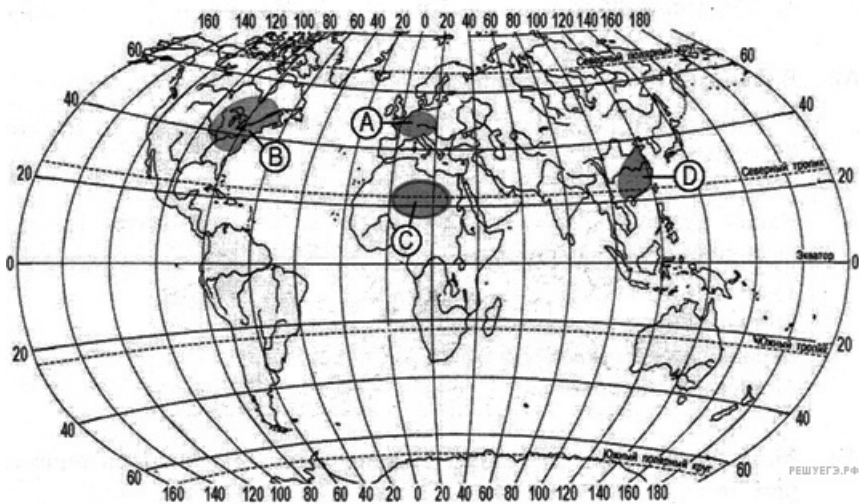
Какая из территорий, обозначенных буквами на карте, имеет наибольшую среднюю плотность населения?



- 1) A
- 2) B
- 3) C
- 4) D

7.

Какая из территорий, обозначенных на карте, имеет наименьшую среднюю плотность населения?



- 1) A
- 2) B
- 3) C
- 4) D

8.

В пределах какой из перечисленных стран средняя плотность населения наибольшая?

- 1) Алжир
- 2) Намибия
- 3) Тунис
- 4) Япония

9.

В пределах какой из перечисленных стран средняя плотность населения наименьшая?

- 1) Япония
- 2) Франция
- 3) Канада
- 4) Индия

10.

В пределах какой из перечисленных стран средняя плотность населения наименьшая?

- 1) Австрия
- 2) Ливия
- 3) Бангладеш
- 4) Португалия

11.

В пределах какой из перечисленных стран средняя плотность населения наибольшая?

- 1) Австралия
- 2) Бангладеш
- 3) Канада
- 4) Монголия

12.

Какая из перечисленных стран относится к числу наиболее густонаселенных?

- 1) Алжир
- 2) Бельгия
- 3) Ливия
- 4) Монголия

13.

В пределах какой из перечисленных стран плотность населения наименьшая?

- 1) Австрия
- 2) Ливия
- 3) Бангладеш
- 4) Португалия

14.

В какой из перечисленных стран плотность населения наименьшая?

- 1) Япония
- 2) Франция
- 3) Канада
- 4) Индия

15.

Какая из перечисленных стран наиболее густо заселена?

- 1) Австралия
- 2) Канада
- 3) Германия
- 4) Алжир

16.

В каком из перечисленных регионов наибольшая средняя плотность населения?

- 1) Южная Америка
- 2) Северная Америка
- 3) Северная Африка
- 4) Юго-Восточная Азия

17.

В какой из перечисленных стран средняя плотность населения наибольшая?

- 1) Австралия
- 2) Индонезия
- 3) Бразилия
- 4) Египет

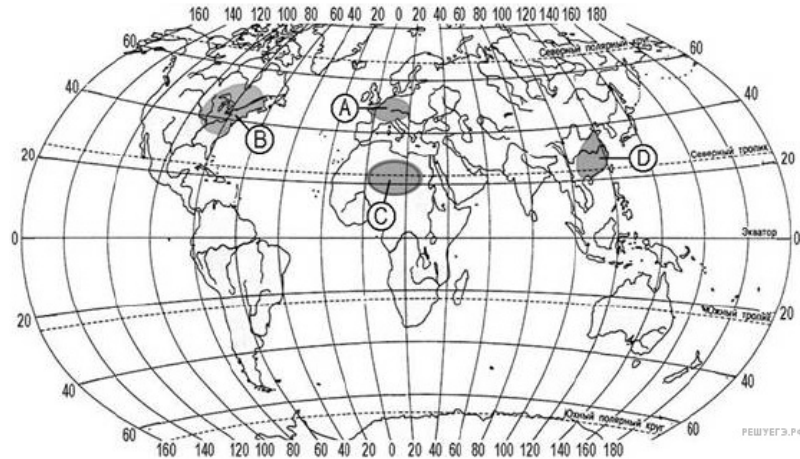
18.

В какой из перечисленных стран средняя плотность населения наименьшая?

- 1) Австралия
- 2) Бангладеш
- 3) Вьетнам
- 4) Франция

19.

Какой из территорий, обозначенных буквами на карте, имеет наименьшую среднюю плотность населения?



- 1) A
- 2) B
- 3) C
- 4) D

20.

В какой из перечисленных стран средняя плотность населения наименьшая?

- 1) Италия
- 2) США
- 3) Канада
- 4) Германия

21.

В какой из перечисленных стран средняя плотность населения наибольшая?

- 1) Пакистан
- 2) Алжир
- 3) Австралия
- 4) Канада

22.

В какой из перечисленных стран средняя плотность населения наибольшая?

- 1) Алжир
- 2) Австралия
- 3) Франция
- 4) Канада

23.

В какой из перечисленных стран средняя плотность населения наименьшая?

- 1) Австралия
- 2) Германия
- 3) США
- 4) Япония

24.

В какой из перечисленных стран средняя плотность населения **наименьшая**?

- 1) Великобритания
- 2) США
- 3) Франция
- 4) Канада

25.

В какой из перечисленных стран средняя плотность населения **наименьшая**?

- 1) Австрия
- 2) Австралия
- 3) Венгрия
- 4) Мексика