

Задания тренировочных и диагностических работ

1.

В какой из перечисленных стран средняя плотность населения наименьшая?

- 1) Великобритания
- 2) Канада
- 3) США
- 4) Италия

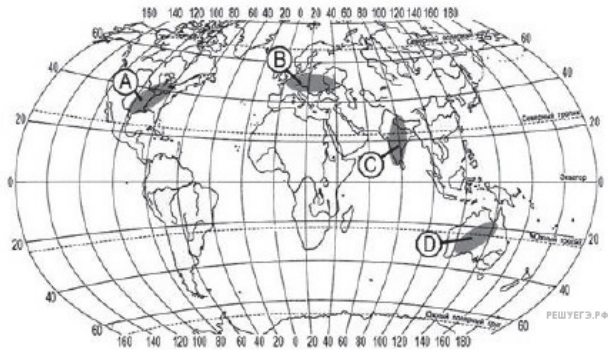
2.

В какой из перечисленных стран средняя плотность населения наибольшая?

- 1) Австралия
- 2) Бельгия
- 3) Бразилия
- 4) Россия

3.

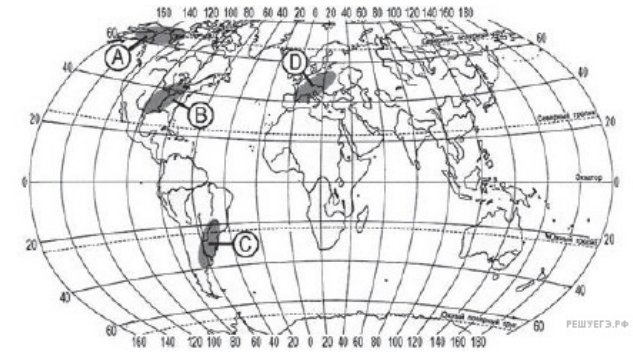
В пределах какой из территорий, обозначенных буквами на карте, средняя плотность населения наименьшая?



- 1) A
- 2) B
- 3) C
- 4) D

4.

В пределах какой из территорий, обозначенных буквами на карте, средняя плотность населения наименьшая?



- 1) A
- 2) B
- 3) C
- 4) D

5.

В какой из перечисленных стран средняя плотность населения наименьшая?

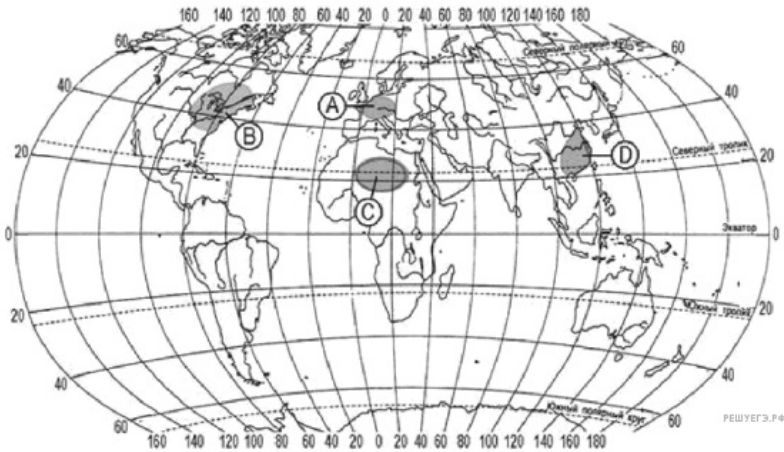
- 1) Австралия
- 2) Бельгия
- 3) США
- 4) Таиланд

6.

В какой из перечисленных стран средняя плотность населения наименьшая?

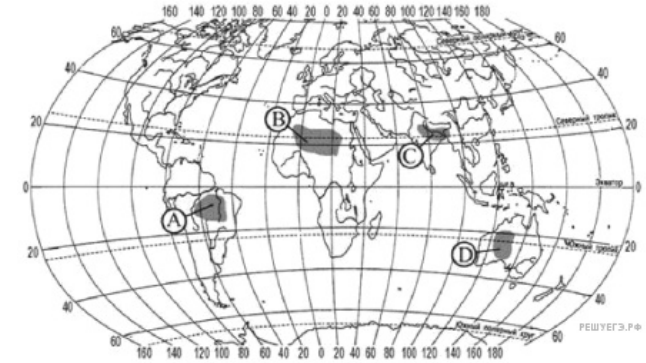
- 1) США
- 2) Канада
- 3) Франция
- 4) Республика Корея

7. Какая из территорий, обозначенных буквами на карте, имеет наименьшую среднюю плотность населения?



- 1) A
- 2) B
- 3) C
- 4) D

8. Какая из территорий, обозначенных буквами на карте, имеет наибольшую среднюю плотность населения?



- 1) A
- 2) B
- 3) C
- 4) D

9. В какой из перечисленных стран средняя плотность населения наибольшая?

- 1) Австралия
- 2) Монголия
- 3) Канада
- 4) Франция

10. В какой из перечисленных стран средняя плотность населения наименьшая?

- 1) Бангладеш
- 2) Монголия
- 3) Республика Корея
- 4) Япония

11. В какой из перечисленных стран средняя плотность населения наибольшая?

- 1) Канада
- 2) Россия
- 3) Монголия
- 4) Япония

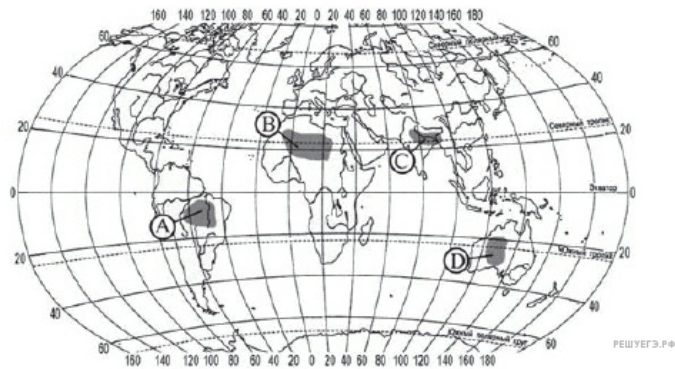
12.

В какой из перечисленных стран средняя плотность населения наибольшая?

- 1) Австралия
- 2) Россия
- 3) Канада
- 4) Швейцария

13.

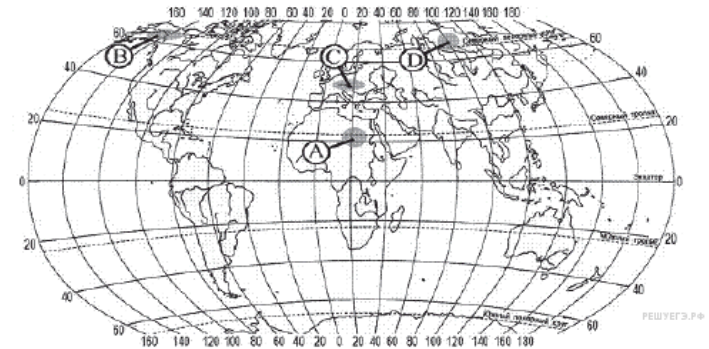
Какая из территорий, обозначенных буквами на карте, имеет наибольшую среднюю плотность населения?



- 1) A
- 2) B
- 3) C
- 4) D

14.

Какая из территорий, обозначенных буквами на карте, имеет наибольшую среднюю плотность населения?



- 1) A
- 2) B
- 3) C
- 4) D

15.

В какой из перечисленных стран средняя плотность населения наибольшая?

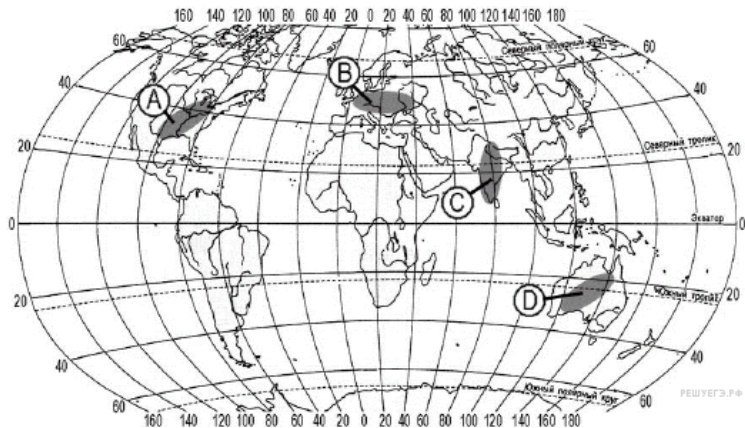
- 1) Канада
- 2) Исландия
- 3) Австралия
- 4) Бангладеш

16.

В какой из перечисленных стран средняя плотность населения наибольшая?

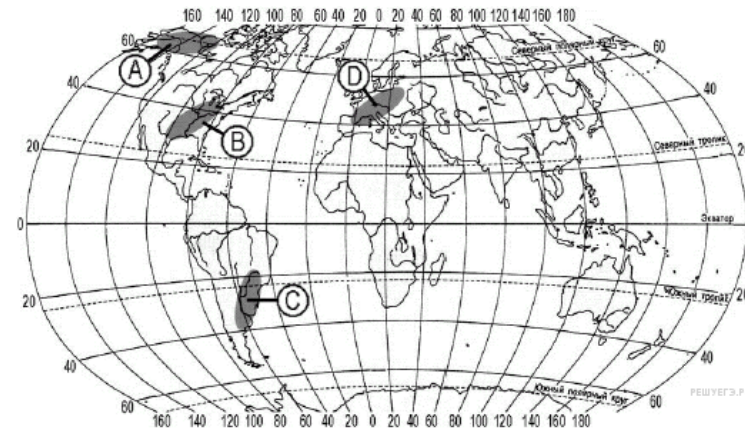
- 1) Монголия
- 2) Исландия
- 3) Великобритания
- 4) Австралия

17. В пределах какой из территорий, обозначенных буквами на карте, средняя плотность населения **наименьшая**?



- 1) A
- 2) B
- 3) C
- 4) D

18. В пределах какой из территорий, обозначенных буквами на карте, средняя плотность населения **наименьшая**?



- 1) A
- 2) B
- 3) C
- 4) D

19. В какой из перечисленных стран средняя плотность населения **наибольшая**?

- 1) Австралия
- 2) Вьетнам
- 3) Монголия
- 4) Россия

20. В какой из перечисленных стран средняя плотность населения **наименьшая**?

- 1) Австрия
- 2) Вьетнам
- 3) Китай
- 4) Россия

21.

В какой из перечисленных стран средняя плотность населения наибольшая?

- 1) Канада
- 2) Великобритания
- 3) Алжир
- 4) Австралия

22.

В какой из перечисленных стран средняя плотность населения наибольшая?

- 1) Австралия
- 2) Канада
- 3) Великобритания
- 4) Исландия