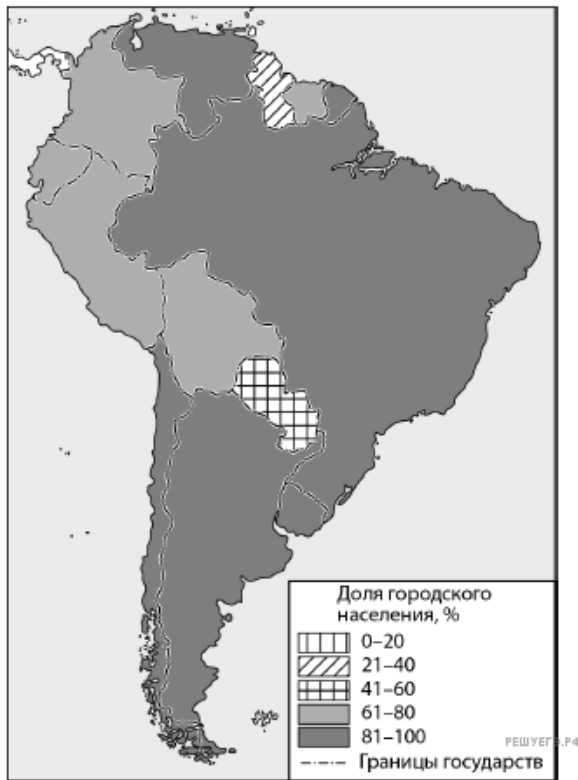


Задание выполняется с использованием справочных материалов и приведённой ниже карты.

Южная Америка. Доля городского населения.



Карта составлена по состоянию на 01.01.2022

Таблица 1. Основные демографические показатели некоторых стран Южной Америки и Африки в 2017 г.

Страна	Численность населения, млн человек	Рождаемость, ‰	Смертность, ‰	Доля городского населения, %	Ожидаемая продолжительность жизни, лет	Доля лиц в возрасте младше 15 лет, %	Доля лиц в возрасте старше 65 лет, %
Аргентина	42,7	16	6	91	77	25	12
Боливия	11,3	23	7	70	69	32	7
Бразилия	207,9	14	6	86	75	23	8
Венесуэла	31,4	19	5	88	75	28	7
Гвиана (Фр)	0,3	21	8	85	78	33	5
Колумбия	49,8	15	6	76	76	26	8
Парагвай	6,9	21	6	60	73	30	6
Перу	32,2	19	6	79	75	27	7
Уругвай	3,5	14	9	95	77	21	15
Чили	18,6	14	6	87	80	21	11
Эквадор	17	20	5	65	76	29	7
Алжир	42,7	26	4	73	77	29	6

Ангола	30,4	45	10	45	60	48	2
Египет	97,0	27	6	43	72	33	4
Кабо-Верде	0,5	20	6	66	73	31	5
Кения	51,0	31	6	27	67	41	3
Ливия	6,4	20	5	79	72	29	4
Мали	19,4	45	10	42	60	47	2
Марокко	35,1	19	5	79	75	25	6
Нигер	22,2	48	10	16	60	50	3
Судан	40,6	34	8	36	64	41	4
Танзания	57,5	39	7	34	65	45	3
Тунис	11,6	19	6	68	76	24	8
Уганда	44,1	41	9	24	63	48	3
Чад	14,9	45	13	23	53	47	2
Эфиопия	105,0	33	7	20	65	41	4






Таблица 2. Показатели социально-экономического развития некоторых стран Южной Америки и Африки в 2017 г.

Страна	Объём ВВП, млрд долл.	Объём ВВП, созданный в сельском хозяйстве, млрд долл.	Структура занятости населения, %			Доля сельского хозяйства в общем объёме экспорта, %
			Сфера услуг	Промышленность	Сельское хозяйство	
Аргентина	922,1	99,6	66	29	5	64,0
Боливия	85,8	11,8	49	22	29	20,9
Бразилия	3243,2	214,1	59	32	9	41,5
Венесуэла	452,7	21,3	70	22	8	0,1
Колумбия	711,6	51,2	62	21	17	22,0
Парагвай	69,7	12,5	55	19	26	63,8
Перу	420,2	31,1	57	18	25	21,3
Суринам	8,6	1,0	69	19	12	7,5
Уругвай	76,5	4,7	73	14	13	77,7
Чили	453,8	19,1	67	24	9	33,7
Эквадор	193,8	13,6	55	18	27	55,7
Алжир	642,6	85,5	59	31	10	1,2
Ангола	193,6	19,7	34	15	49	0,1
Египет	1204,0	140,9	50	26	24	19,1
Кения	163,2	56,3	42	20	38	55,8
Мали	41,9	17,5	11	28	61	21,8
Марокко	291,3	40,8	43	20	37	21,9
Ливия	31,3	0,3	59	24	17	0,1
Нигер	21,9	9,1	20	5	75	34,0

Судан	177,8	70,4	41	7	52	66,8
Танзания	166,7	39,0	50	28	22	37,1
Тунис	133,3	13,5	52	34	14	11,0
Уганда	89,1	25,1	23	7	70	48,7
Чад	28,6	15,0	9	4	87	Нет данных
Эфиопия	198,5	69,0	22	9	69	40,5

Ольге необходимо составить карту «Африка. Доля городского населения», используя такую же интервальную шкалу, как на приведённой выше карте Южной Америки.

Установите соответствие между страной и условным обозначением, которое необходимо использовать для отображения доли городского населения каждой из перечисленных стран на карте: к каждой позиции, данной в первом столбце, подберите соответствующую позицию из второго столбца.

СТРАНА	УСЛОВНОЕ ОБОЗНАЧЕНИЕ
А) Мали	1)  0–20%
Б) Кения	2)  21–40%
В) Кабо-Верде	3)  41–60%
	4)  61–80%
	5)  81–100%

Запишите в ответ цифры, расположив их в порядке, соответствующем буквам:

А	Б	В