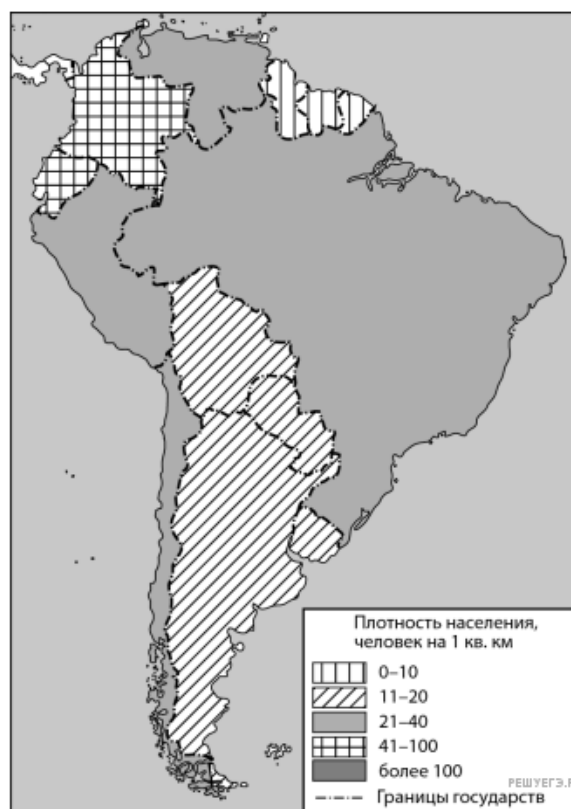


Задание выполняется с использованием справочных материалов и приведённой ниже карты.

Южная Америка. Плотность населения



Карта составлена по состоянию на 01.01.2023

Таблица 1. Основные демографические показатели некоторых стран Южной Америки и Африки в 2017 г.

Страна	Численность населения, млн человек	Рождаемость, ‰	Смертность, ‰	Доля городского населения, %	Ожидаемая продолжительность жизни, лет	Доля лиц в возрасте младше 15 лет, %	Доля лиц в возрасте старше 65 лет, %	Плотность населения, человек на 1 кв. км
Аргентина	42,7	16	6	91	77	25	12	16
Боливия	11,3	23	7	70	69	32	7	11
Бразилия	207,9	14	6	86	75	23	8	25
Венесуэла	31,4	19	5	88	75	28	7	33
Колумбия	49,8	15	6	76	76	26	8	43
Парагвай	6,9	21	6	60	73	30	6	17
Перу	32,2	19	6	79	75	27	7	26
Уругвай	3,5	14	9	95	77	21	15	20
Чили	18,6	14	6	87	80	21	11	24
Эквадор	17	20	5	65	76	29	7	67
Алжир	42,7	26	4	73	77	29	6	17

Зимбабве	16,6	39	8	33	61	41	3	38
Конго	5	36	10	66	60	42	3	15
Мали	19,4	45	10	42	60	47	2	16
Марокко	35,1	19	5	60	75	25	6	80
Намибия	2,5	28	8	48	64	38	4	3
Нигерия	191	39	13	44	53	44	3	212
Судан	40,6	34	8	36	64	41	4	23
Танзания	57,5	39	7	34	65	45	3	62
Тунис	11,6	19	6	68	76	24	8	74
Уганда	44,1	41	9	24	63	48	3	206
Эсватини (Свазиленд)	1,4	29	10	21	57	38	3	65

Таблица 2. Показатели социально-экономического развития некоторых стран Южной Америки и Африки в 2017 г.

Страна	Объём ВВП, млрд долл.	Объём ВВП, созданный в сельском хозяйстве, млрд долл.	Структура занятости населения, %			Доля сельского хозяйства в общем объёме экспорта, %
			Сфера услуг	Промышленность	Сельское хозяйство	
Аргентина	922,1	99,6	66	29	5	64
Боливия	85,8	11,8	49	22	29	20,9
Бразилия	3243,2	214,1	59	32	9	41,5
Венесуэла	452,7	21,3	70	22	8	0,1
Колумбия	711,6	51,2	62	21	17	22
Парагвай	69,7	12,5	55	19	26	63,8
Перу	420,2	31,1	57	18	25	21,3
Уругвай	76,5	4,7	73	14	13	77,7
Чили	453,8	19,1	67	24	9	33,7
Эквадор	193,8	13,6	55	18	27	55,7
Алжир	642,6	85,5	59	31	10	1,2
Бенин	35,4	9,2	40	21	39	21
Египет	1204	140,9	50	26	24	19,1
Габон	31	1,6	42	19	39	8
Замбия	61,1	4,6	35	10	55	10
Зимбабве	48	5,8	26	7	67	35,1
Конго	20,6	1,9	49	16	35	3,1
Мали	41,9	17,5	11	28	61	21,8
Марокко	291,3	40,8	43	20	37	21,9

ия	26,6	1,8	56	22	22	24,1
Нигерия	1001	210,2	46	18	36	5,8
Судан	177,8	70,4	41	7	52	66,8
Танзания	166,7	39	50	28	22	37,1
Тунис	133,3	13,5	52	34	14	11
Уганда	89,1	25,1	23	7	70	48,7
Эсватини (Свазиленд)	9,6	0,6	58	30	12	18






Алексею необходимо составить карту «Африка. Плотность населения», используя такую же интервальную шкалу, как на приведённой выше карте Южной Америки.

Установите соответствие между страной и условным обозначением, которое необходимо использовать для отображения плотности населения каждой из перечисленных стран на карте: к каждой позиции, данной в первом столбце, подберите соответствующую позицию из второго столбца.

СТРАНА

- А) Габон
- Б) Бенин
- В) Алжир

УСЛОВНОЕ ОБОЗНАЧЕНИЕ, человек/км²

- 1)  0–10
- 2)  11–20
- 3)  21–40
- 4)  41–100
- 5)  более 100

Запишите в ответ цифры, расположив их в порядке, соответствующем буквам:

А	Б	В