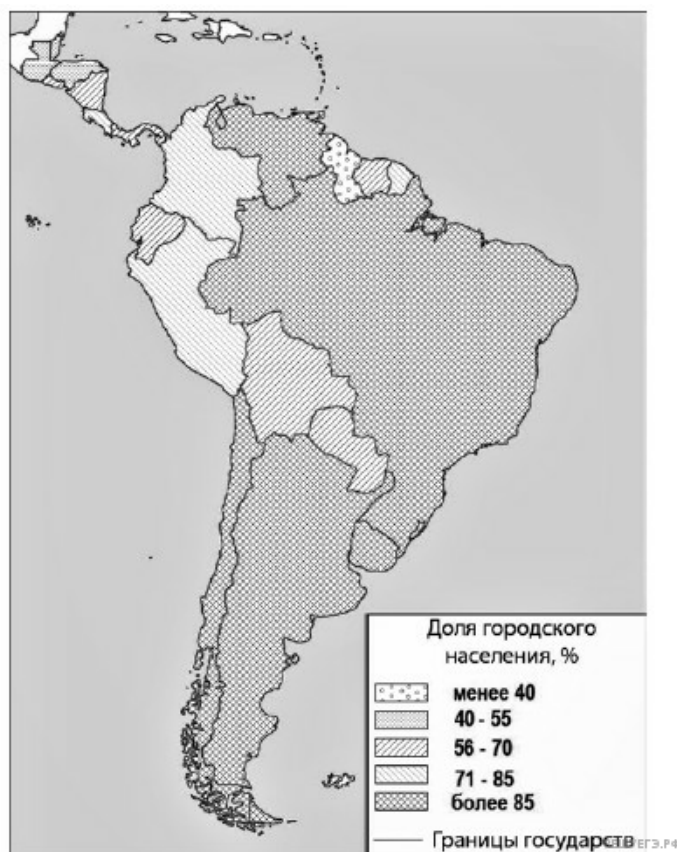


Южная Америка. Доля городского населения.



Карта составлена по состоянию на 01.01.2024

Таблица 1. Основные демографические показатели некоторых стран Центральной и Южной Америки и Африки в 2017 г.

Страна	Численность населения, млн человек	Рождаемость, ‰	Смертность, ‰	Доля городского населения, %	Ожидаемая продолжительность жизни, лет		Доля лиц в возрасте младше 15 лет, %	Доля лиц в возрасте старше 65 лет, %
					мужчины	женщины		
Аргентина	44,9	17	8	92	74	81	25	11
Бразилия	207,9	14	6	86	72	79	23	8
Венесуэла	28,5	18	7	88	68	76	28	7
Гайана	0,8	20	7	27	67	73	29	6
Гватемала	17,6	23	5	51	69	76	35	5
Гвиана (Фр)	0,3	21	8	85	78	83	32	6
Колумбия	50,4	15	6	77	73	79	26	8
Перу	32,2	19	6	79	73	77	27	7
Суринам	0,6	18	7	66	68	75	27	7
Сальвадор	6,4	20	7	66	70	78	28	8
Эквадор	17,3	20	5	64	74	80	29	7
Буркина-Фасо	19,6	41	9	31	58	62	44	3
Габон	2,0	30	8	87	64	67	36	5
Египет	97,0	27	6	43	70	74	34	4
Ливия	6,7	21	5	80	69	75	29	4

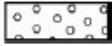


Марокко	35,1	19	5	63	75	78	26	7
Нигер	22,2	48	10	16	60	63	50	3
Судан	40,6	34	8	36	63	67	41	4
Танзания	57,5	39	7	34	63	66	45	3
Тунис	11,6	19	6	68	75	78	24	8
Уганда	44,1	41	9	24	60	65	48	3
Чад	14,9	45	13	23	55	59	47	2
Эфиопия	105,0	33	7	20	64	68	41	4

Таблица 2. Показатели социально-экономического развития некоторых стран Южной Америки и Африки в 2017 г.

Страна	Объём ВВП, млрд долл.	Структура ВВП, %			Структура занятости населения, %			Объём экспорта, млрд долл.	Объём сельско-хозяйственного экспорта, млрд долл.
		Сфера услуг	Промышленность	Сельское хозяйство	Сфера услуг	Промышленность	Сельское хозяйство		
Аргентина	922,1	61,1	28,1	10,8	66	29	5	58,4	37,4
Боливия	85,8	48,2	37,8	13,8	49	22	29	7,7	1,6
Бразилия	3243,2	72,7	20,7	6,6	59	32	9	217,7	90,4
Венесуэла	452,7	54,9	40,4	4,7	70	22	8	31,6	0,03
Колумбия	711,6	62,1	30,8	7,2	62	21	17	37,8	8,3
Парагвай	69,7	54,5	27,7	17,9	55	19	26	8,6	5,5
Перу	420,2	59,9	32,7	7,4	57	18	25	44,9	9,6
Сальвадор	52,6	60,3	27,7	12	58	20	22	5,8	1,1
Суринам	8,6	57,3	31,1	11,6	69	19	12	2,1	0,15
Уругвай	76,5	69,7	24,1	6,2	73	14	13	7,8	6,06
Чили	453,8	63	32,2	4,2	67	24	9	68,3	23
Эквадор	193,8	60,1	32,9	7	55	18	27	19,1	11
Буркина-Фасо	35,8	45	24	31	18	6	76	2,4	0,8
Египет	1204,0	54,0	34,3	11,7	50	26	24	25,6	4,9
Ливия	31,3	46,2	52,8	1	59	24	17	15,6	0,1
Мали	41,9	40,5	17,7	41,8	11	28	61	2,8	0,6
Намибия	26,6	67,4	25,8	6,6	54	14	31	4	0,99
Сенегал	54,8	58,8	24,3	16,9	22	0	78	2,3	0,78
Танзания	166,7	47,6	29	23,4	50	28	22	4,5	1,7
Тунис	133,3	63,7	26,2	10,1	52	34	14	14,2	1,6
Уганда	89,1	50,7	21,1	28,2	23	7	70	2,8	1,4
Чад	28,6	33,4	14,2	52,4	9	4	87	1,2	0,05
Эфиопия	198,5	43,6	21,6	34,8	22	9	69	3,2	1,3

Ольге необходимо составить карту «Африка. Доля городского населения», используя такую же интервальную шкалу, как на приведённой выше карте Южной Америки.

Установите соответствие между страной и условным обозначением, которое необходимо использовать для показа доли городского населения каждой из перечисленных стран на карте: к каждой позиции, данной в первом столбце, подберите соответствующую позицию из второго столбца.

СТРАНА	УСЛОВНОЕ ОБОЗНАЧЕНИЕ
А) Габон	1)  менее 40 %
Б) Египет	2)  40–55 %
В) Чад	3)  56–70 %
	4)  71–85 %
	5)  более 85 % <small>РЕШУ ЕГЭ.РФ</small>

Запишите в ответ цифры, расположив их в порядке, соответствующем буквам:

А	Б	В