




Установите соответствие между страной и диаграммой, отражающей распределение её ВВП по секторам экономики.

 сельское хозяйство     промышленность     сфера услуг

СТРАНА

- А) Никарагуа    Б) Габон    В) Швеция

РАСПРЕДЕЛЕНИЕ ВВП ПО СЕКТОРАМ ЭКОНОМИКИ

