

Задания 19 и 20 выполняются с использованием справочных материалов и приведённой ниже карты.

Южная Америка. Плотность населения



Таблица 1. Основные демографические показатели некоторых стран Южной Америки и Африки в 2023 г.

Страна	Численность населения, млн человек	Рождаемость, ‰	Смертность, ‰	Плотность населения, человек на км ²	Ожидаемая продолжительность жизни, лет	Доля лиц в возрасте младше 15 лет, %	Доля лиц в возрасте старше 65 лет, %
Аргентина	46,3	14	9	17	76	24	12
Боливия	12,2	21	6	11	65	29	8
Бразилия	204,0	12	8	24	73	20	10
Венесуэла	28,8	16	8	32	71	29	7
Колумбия	52,2	14	7	47	74	21	9
Парагвай	6,2	20	7	16	70	24	9
Перу	33,8	17	8	26	73	26	9
Уругвай	3,6	10	9	19	78	20	15
Чили	20,0	9	7	26	71	19	13
Эквадор	17,1	17,5	5	72	78	26	8
Алжир	46,8	24	5	19	78	30	6
Ангола	36,7	38	8	29	62	45	3
Габон	2,4	30	7	10	66	36	4
Гана	34,1	27	8	149	64	37	4
Гвинея	14,2	34	10	58	61	42	3
Египет	105,2	21	6	105	72	34	4
Ливия	6,9	17	6	4	72	28	5
Камерун	28,1	35	9	60	60	42	3
Конго	6,1	30	7	18	63	41	3
Мали	23,3	41	9	19	59	47	2
Марокко	37,0	16	5	84	77	25	8
Нигер	27,2	45	8	21	62	49	2






Тунис	11,9	14	11	77	76	25	10
Уганда	48,6	36	6	244	64	44	2
Чад	19,3	43	12	16	53	47	2
Эфиопия	126,5	32	6	126	66	39	3

Таблица 2. Показатели социально-экономического развития некоторых стран Южной Америки и Африки в 2023 г.

Страна	Объём ВВП, млрд долл.	Объём ВВП, созданный в сельском хозяйстве, млрд долл.	Структура занятости населения, %			Доля сельского хозяйства в общем объёме экспорта, %
			Сфера услуг	Промышленность	Сельское хозяйство	
Аргентина	640,6	38,8	73	19	8	54,8
Боливия	45,8	5,7	52	19	29	20,0
Бразилия	2173,7	135,7	71	19	10	39,6
Венесуэла	482,4	24,2	71	16	13	1,2
Колумбия	363,5	31,8	65	19	16	23,4
Парагвай	43,0	4,9	64	16	20	70,4
Перу	267,6	17,6	57	15	28	21,4
Уругвай	77,2	4,3	74	18	8	77,6
Чили	335,5	11,8	71	22	7	25,3
Эквадор	118,8	9,1	51	17	32	52,8
Алжир	239,9	31,6	59	31	10	1,3
Ангола	84,7	12,6	38	3	59	0,3
Габон	20,5	1,2	55	16	29	6,6
Гана	76,3	16,1	41	19	40	54,3
Гвинея	23,6	6,7	32	9	59	3,3
Египет	395,9	42,0	53	27	20	14,7
Ливия	50,5	0,8	68	16	16	0,1
Камерун	47,9	8,0	42	15	43	36,0
Конго	15,3	1,4	46	18	36	5,1
Мали	20,9	7,7	22	10	68	11,8
Марокко	141,1	16,9	45	20	35	20,7
Нигер	16,8	8,0	22	7	71	10,2
Судан	109,3	6,1	45	14	41	48,8
Тунис	48,5	4,6	53	33	14	11,2
Уганда	49,3	11,7	26	11	63	49,1
Чад	13,1	3,3	21	10	69	Нет данных
Эфиопия	163,7	58,6	31	5	64	77,3

Сергею необходимо составить карту «Африка. Плотность населения», используя такую же интервальную шкалу, как на приведённой выше карте Южной Америки.

Установите соответствие между страной и условным обозначением, которое необходимо использовать для отображения плотности населения каждой из перечисленных стран на карте: к каждой позиции, данной в первом столбце, подберите соответствующую позицию из второго столбца.

СТРАНА	УСЛОВНОЕ ОБОЗНАЧЕНИЕ, человек/км ²
А) Чад	1)  0-10
Б) Уганда	2)  11-20
В) Габон	3)  21-40
	4)  41-100
	5)  более 100

Запишите в таблицу выбранные цифры под соответствующими буквами.

А	Б	В