




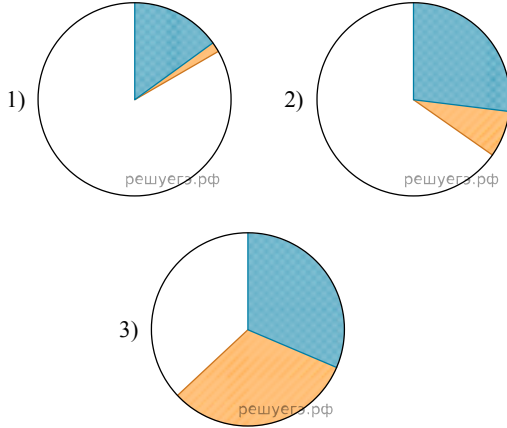
Установите соответствие между страной и диаграммой, отражающей распределение её ВВП по секторам экономики: к каждой позиции, данной в первом столбце, подберите соответствующую позицию из второго столбца.

 промышленность  сельское хозяйство  сфера услуг

СТРАНА

- А) Турция Б) Великобритания В) Лаос

РАСПРЕДЕЛЕНИЕ ВВП ПО СЕКТОРАМ ЭКОНОМИКИ



Запишите в ответ цифры, расположив их в порядке, соответствующем буквам:

А	Б	В