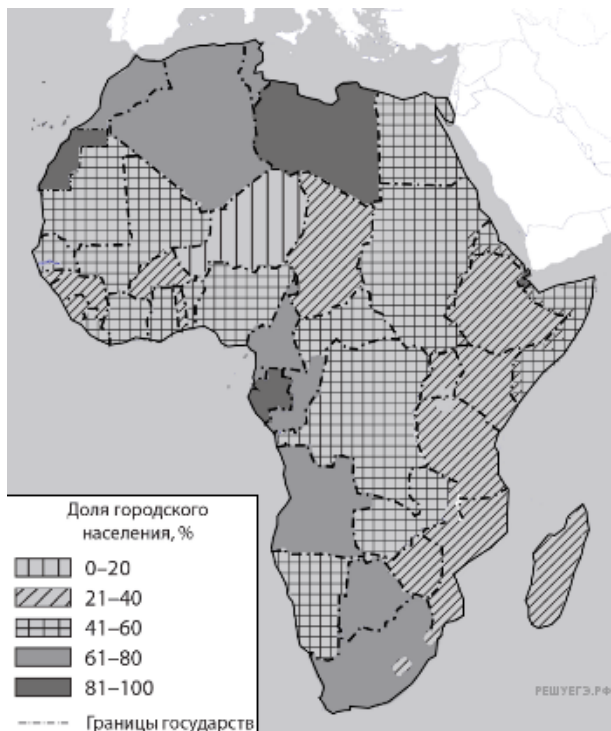


Африка. Доля городского населения



Карта составлена по состоянию на 01.01.2021

Таблица для выполнения задания 19.






Страна	Численность населения, млн. чел	Плотность населения, чел. на км. кв.	Средняя ожидаемая продолжительность жизни, лет	Доля городского населения в странах, %
ЮАР	97	40	65	67,35
Нигерия	40,6	165	63	51,96
Чад	14,9	13	53	23,00

Таблица для выполнения задания 20.

Страна	Численность населения, млн. чел	Плотность населения, чел. на км. кв.	Средняя ожидаемая продолжительность жизни, лет	Доля городского населения в странах, %
Китай	1400	139	77	59,03
Саудовская Аравия	34	12	74	84,29
Индия	1370	357	71	34,93

Сергею необходимо построить картограмму «Евразия. Доля городского населения», используя такую же интервальную шкалу, как на приведённой выше карте Африки.

Установите соответствие между страной и условным обозначением, которое необходимо использовать для отображения доли городского населения каждой из перечисленных стран на карте: к каждой позиции, данной в первом столбце, подберите соответствующую позицию из второго столбца.

СТРАНА	УСЛОВНОЕ ОБОЗНАЧЕНИЕ
А) Китай	1)  0–20
Б) Саудовская Аравия	2)  21–40
В) Индия	3)  41–60
	4)  61–80*
	5)  81–100

Запишите в ответ цифры, расположив их в порядке, соответствующем буквам:

А	Б	В