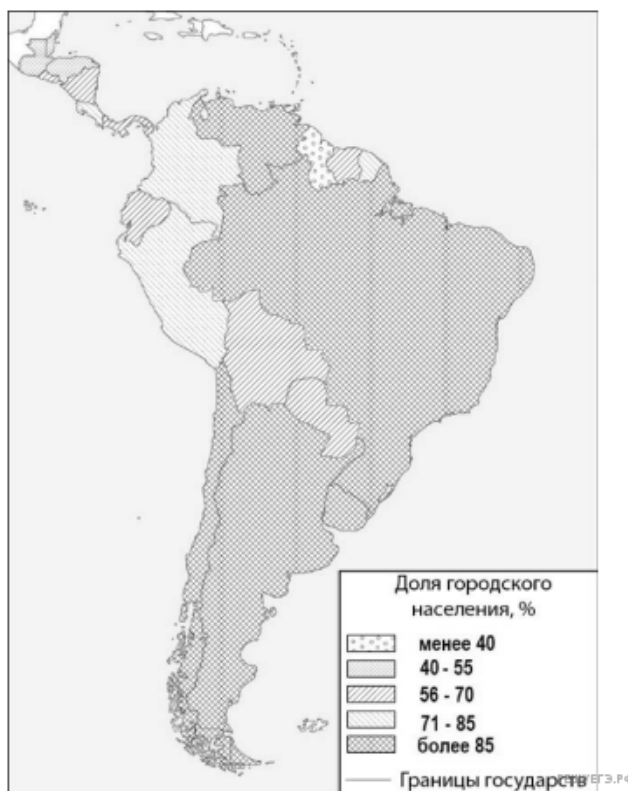


Южная Америка. Доля городского населения



Карта составлена по состоянию на 01.01.2021

Таблица 1. Основные демографические показатели некоторых стран Центральной и Южной Америки и Африки в 2017г.

Страна	Численность населения, млн человек	Рождаемость, ‰	Смертность, ‰	Доля городского населения, %	Ожидаемая продолжительность жизни, лет		Доля лиц в возрасте младше 15 лет, %	Доля лиц в возрасте старше 65 лет, %
					мужчины	женщины		
Аргентина	44,9	17	8	92	74	81	25	11
Бразилия	207,9	14	6	86	72	79	23	8
Венесуэла	28,5	18	7	88	68	76	28	7
Гайана	0,8	20	7	27	67	73	29	6
Гватемала	17,6	23	5	51	69	76	35	5
Гвиана (Фр)	0,3	21	8	85	78	83	32	6
Колумбия	50,4	15	6	77	73	79	26	8
Коста-Рика	78	83	22	9	5,1	14	5	73
Парагвай	7,2	21	6	61	72	76	30	6
Суринам	0,6	18	7	66	68	75	27	7

ор	6,4	20	7	66	70	78	28	8
Эквадор	17,3	20	5	64	74	80	29	7
Бенин	11,2	37	9	44	59	62	48	3
Габон	2	30	8	87	64	67	36	5
Египет	97	27	6	43	71	74	34	4
Кения	51	31	6	27	64	68	41	2
Ливия	6,7	21	5	80	69	75	29	4
Мали	19,4	45	10	42	58	63	48	3
Марокко	35,1	19	5	63	75	78	26	7
Нигер	22,2	48	10	16	60	63	50	3
Судан	40,6	34	8	36	63	67	41	4
Танзания	57,5	39	7	34	63	66	45	3
Тунис	11,6	19	6	68	75	78	24	8
Уганда	44,1	41	9	24	60	65	48	3
Чад	14,9	45	13	23	55	59	47	2
Эфиопия	105	33	7	20	64	68	41	4






Таблица 2. Показатели социально-экономического развития некоторых стран Южной Америки и Африки в 2017г.

Страна	Объём ВВП, млрд долл.	Структура ВВП, %			Структура занятости населения, %			Объём экспорта, млрд долл.	Объём сельскохозяйственного экспорта, млрд долл.
		Сфера услуг	Промышленность	Сельское хозяйство	Сфера услуг	Промышленность	Сельское хозяйство		
Аргентина	922,1	61,1	28,1	10,8	66	29	5	58,4	37,4
Боливия	85,8	48,2	37,8	13,8	49	22	29	7,7	1,6
Бразилия	3243,2	72,7	20,7	6,6	59	32	9	217,7	90,4
Венесуэла	452,7	54,9	40,4	4,7	70	22	8	31,6	0,03
Колумбия	711,6	62,1	30,8	7,2	62	21	17	37,8	8,3
Парагвай	69,7	54,5	27,7	17,9	55	19	26	8,6	5,5
Перу	420,2	59,9	32,7	7,4	57	18	25	44,9	9,6
Сальвадор	52,6	60,3	27,7	12	58	20	22	5,8	1,1
Суринам	8,6	57,3	31,1	11,6	69	19	12	2,1	0,15
Уругвай	76,5	69,7	24,1	6,2	73	14	13	7,8	6,06
Чили	453,8	63	32,2	4,2	67	24	9	68,3	23

Эквадор	193,8	60,1	32,9	7	55	18	27	19,1	11
Ангола	193,6	32,2	57,6	10,2	34	15	49	33,1	0,03
Египет	1204	54	34,3	11,7	50	26	24	25,6	4,9
Кения	163,2	47,5	18	34,5	42	20	38	5,7	3,2
Ливия	31,3	46,2	52,8	1	59	24	17	15,6	0,1
Мали	41,9	40,5	17,7	41,8	11	28	61	2,8	0,6
Нигер	21,9	39	19,5	41,5	20	5	75	1,2	0,4
Судан	177,8	57,8	2,6	39,6	41	7	52	3	2
Танзания	166,7	47,6	29	23,4	50	28	22	4,5	1,7
Тунис	133,3	63,7	26,2	10,1	52	34	14	14,2	1,6
Уганда	89,1	50,7	21,1	28,2	23	7	70	2,8	1,4
Чад	28,6	33,4	14,2	52,4	9	4	87	1,2	0,05
Эфиопия	198,5	43,6	21,6	34,8	22	9	69	3,2	1,3

Снежане необходимо построить картограмму «Африка. Доля городского населения», используя такую же интервальную шкалу как на приведённой выше карте Южной Америки.

Установите соответствие между страной и условным обозначением, которое необходимо использовать для отображения доли городского населения каждой из перечисленных стран на карте: к каждой позиции, данной в первом столбце, подберите соответствующую позицию из второго столбца.

СТРАНА	УСЛОВНОЕ ОБОЗНАЧЕНИЕ
А) Габон	1)  менее 40
Б) Египет	2)  40–55
В) Чад	3)  56–70
	4)  71–85
	5)  более 85

Запишите в ответ цифры, расположив их в порядке, соответствующем буквам:

А	Б	В