

Демонстрационная версия ЕГЭ—2024 по географии

В демонстрационном варианте представлены конкретные примеры заданий, не исчерпывающие всего многообразия возможных формулировок заданий на каждой позиции варианта экзаменационной работы.

В демонстрационном варианте представлено по несколько примеров заданий на некоторых позициях экзаменационной работы. В реальных вариантах экзаменационной работы на каждой позиции будет предложено только одно задание.

1. Город Терезина имеет географические координаты $5^{\circ} 05' \text{ ю. ш. } 42^{\circ} 48' \text{ з. д.}$ Определите, на территории какого государства находится этот город.

2. На метеостанциях 1, 2 и 3 одновременно проводят измерения содержания водяного пара в 1 м^3 воздуха и определяют относительную влажность воздуха. Расположите эти метеостанции в порядке закономерного повышения температуры воздуха на них в момент проведения указанных измерений (от наиболее низкой к наиболее высокой).

Метеостанция	Содержание водяного пара в 1 м^3 воздуха, г	Относительная влажность воздуха, %
1	6,9	79
2	17,2	79
3	9,0	79

ИЛИ

В пунктах 1, 2 и 3 были одновременно проведены измерения температуры и относительной влажности воздуха. Полученные значения показаны в таблице. Расположите эти пункты в порядке повышения в них показателя абсолютной влажности воздуха (от наиболее низкой к наиболее высокой).

Пункт	Температура воздуха, $^{\circ}\text{C}$	Относительная влажность воздуха, %
1	+11	95
2	+12	75
3	+13	55

3. Затраты на отопление жилых и производственных помещений в холодное время года в значительной степени зависят от средних зимних температур. Расположите перечисленные города России в порядке повышения средней температуры января в них, начиная с города с самой низкой температурой.

1. Псков.
2. Красноярск.
3. Екатеринбург.

Запишите в таблицу получившуюся последовательность цифр.

ИЛИ

Эффективность работы солнечных панелей, используемых для энергоснабжения жилых домов, во многом зависит от продолжительности светового дня. Расположите перечисленные города в порядке увеличения продолжительности светового дня 1 мая, начиная с города с наименьшей продолжительностью светового дня.

1. Ханты-Мансийск.
2. Омск.
3. Воркута.

Запишите в таблицу получившуюся последовательность цифр.

4. Установите соответствие между полуостровом и его обозначением на карте мира: к каждому элементу первого столбца подберите соответствующий элемент из второго столбца.



Карта составлена по состоянию на 01.09.2023

ПОЛУОСТРОВ	ОБОЗНАЧЕНИЕ НА КАРТЕ
А) Камчатка	1) 1
Б) Кейп-Йорк	2) 2
В) Калифорния	3) 3
	4) 4

Запишите в таблицу выбранные цифры под соответствующими буквами:

А	Б	В

ИЛИ

Расположите перечисленные реки с запада на восток в том порядке, в котором они располжены на карте Евразии, начиная с самой западной.

1. Енисей.
2. Лена.
3. Дунай.

Запишите получившуюся последовательность цифр.

5. Прочитайте приведённый ниже текст, в котором пропущен ряд слов (чисел, словосочетание). Выберите из предлагаемого списка слова (числа, словосочетание), которые необходимо вставить на места пропусков.

Атмосферное давление

Воздух, окружающий Землю, имеет значительную массу и поэтому оказывает давление на земную поверхность. Нормальным атмосферным давлением считается давление столба ртути высотой _____ (А) мм на уровне моря при температуре 0 °С на широте 45°. При увеличении абсолютной высоты атмосферное давление _____ (Б). У поверхности Земли атмосферное давление распределяется неравномерно, образуя пояса высокого и низкого давления. Повышенное атмосферное давление в течение всего года преобладает в тропических и _____ (В) широтах.

Выбирайте последовательно одно слово (число, словосочетание) за другим, мысленно вставляя на места пропусков слова (числа, словосочетание) из списка в нужной форме. Обратите внимание на то, что слов (чисел, словосочетания) в списке больше, чем Вам потребуется для заполнения пропусков. Каждое слово (число, словосочетание) может быть использовано только один раз.

Список слов (чисел, словосочетание)

1. Умеренный.
2. Арктический и антарктический.
3. Повышается.
4. 740.
5. Понижается.
6. 760.

В данной ниже таблице приведены буквы, обозначающие пропущенные слова (числа, словосочетание). Запишите в таблицу под каждой буквой номер выбранного Вами слова (числа, словосочетания).

А	Б	В

ИЛИ

Прочитайте приведённый ниже текст, в котором пропущен ряд слов (словосочетаний). Выберите из предлагаемого списка слова (словосочетания), которые необходимо вставить на места пропусков.

Географические особенности ЮАР

ЮАР — одна из крупных по площади стран Африки. Большую часть её территории занимает плато, на юге и востоке страны расположены горы. ЮАР богата разнообразными полезными ископаемыми. По объёмам добычи алмазов и _____ (А) ЮАР входит в первую десятку стран мира. На территории ЮАР добывают также золото, железные, марганцевые руды и другие полезные ископаемые. Климат страны благоприятен для жизни и хозяйственной деятельности. Большая часть территории страны находится в _____ (Б) климатическом поясе. Количество атмосферных осадков на западном побережье значительно _____ (В), чем на восточном, что приводит к формированию разных природных комплексов на побережьях Атлантического и Индийского океанов.

Выбирайте последовательно одно слово (словосочетание) за другим, мысленно вставляя на места пропусков слова (словосочетания) из списка в нужной форме. Обратите внимание на то, что слов (словосочетаний) в списке больше, чем Вам потребуется для заполнения пропусков. Каждое слово (словосочетание) может быть использовано только один раз.

Список слов (словосочетаний)

1. Природный газ.
2. Тропический.
3. Меньше.
4. Каменный уголь.
5. Больше.
6. Субэкваториальный.

В данной ниже таблице приведены буквы, обозначающие пропущенные слова (словосочетания). Запишите в таблицу под каждой буквой номер выбранного Вами слова (словосочетания).

А	Б	В

ИЛИ

Прочитайте приведённый ниже текст, в котором пропущен ряд слов. Выберите из предлагаемого списка слова, которые необходимо вставить на место пропусков.

Географические особенности природы Западной Сибири

Западная Сибирь как крупный географический район России имеет ряд особенностей природы. Вся северную часть территории района занимает _____ (А). Климат более континентальный, по сравнению с Восточно-Европейской равниной, что проя

вляется в меньшем количестве атмосферных осадков и большей годовой амплитуде температур. Район располагается в нескольких природных зонах: от тундры на севере до _____ (Б) на юге. Для территории района характерна _____ (В) степень заболоченности.

Выбирайте последовательно одно слово за другим, мысленно вставляя на места пропусков слова из списка в нужной форме. Обратите внимание на то, что слов в списке больше, чем Вам потребуется для заполнения пропусков. Каждое слово может быть использовано только один раз.

Список слов

1. Пустыня.
2. Степи.
3. Низменность.
4. Плоскогорье.
5. Высокая.
6. Низкая.

Ответ:

А	Б	В
<input type="text"/>	<input type="text"/>	<input type="text"/>

ИЛИ

Прочитайте приведённый ниже текст, в котором пропущен ряд слов (словосочетаний). Выберите из предлагаемого списка слова (словосочетания), которые необходимо вставить на места пропусков.

Рельеф и полезные ископаемые Центральной России

Главная особенность рельефа Центральной России — его равнинность. В основании территории района находится _____ (А). С породами осадочного чехла связаны месторождения _____ (Б), добыча которого долгое время велась в Подмосковном бассейне, но в настоящее время практически прекращена. На территории Центральной России в уникальном бассейне Курской магнитной аномалии добывают железные руды. Железорудный бассейн находится на территории Курской, _____ (В) и Орловской областей.

Выбирайте последовательно одно слово (словосочетание) за другим, мысленно вставляя на места пропусков слова (словосочетания) из списка в нужной форме. Обратите внимание на то, что слов (словосочетаний) в списке больше, чем Вам потребуется для заполнения пропусков. Каждое слово (словосочетание) может быть использовано только один раз.

Список слов (словосочетаний)

1. Бурый уголь.
2. Смоленская.
3. Природный газ.
4. Плита молодой платформы.
5. Белгородская.
6. Древняя платформа.

В данной ниже таблице приведены буквы, обозначающие пропущенные слова (словосочетания). Запишите в таблицу под каждой буквой номер выбранного Вами слова (словосочетания).

А	Б	В
<input type="text"/>	<input type="text"/>	<input type="text"/>

6. Густонаселённые регионы России расположены в районах с благоприятными природными условиями, имеют развитую транспортную инфраструктуру. Какие три из перечисленных регионов России имеют наибольшую среднюю плотность населения? Запишите цифры, под которыми указаны эти регионы.

1. Брянская область.
2. Тульская область.
3. Курская область.
4. Мурманская область.
5. Республика Коми.
6. Республика Бурятия.

ИЛИ

Численность населения города является важным фактором, определяющим его экономическое и социальное развитие. Какие три из перечисленных городов России имеют наибольшую численность населения? Запишите в таблицу цифры, под которыми указаны эти города.

1. Новосибирск.
2. Томск.
3. Петрозаводск.
4. Ставрополь.
5. Уфа.
6. Ростов-на-Дону.

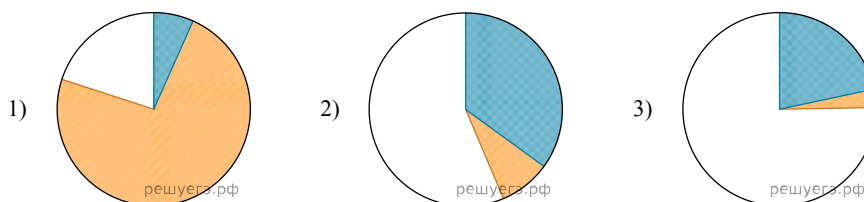
7. Установите соответствие между страной и диаграммой, отражающей распределение её экономически активного населения по секторам экономики: к каждой позиции, данной в первом столбце, подберите соответствующую позицию из второго столбца.

промышленность
 сельское хозяйство
 сфера услуг

СТРАНА

- А) Малайзия Б) Лаос В) Франция

РАСПРЕДЕЛЕНИЕ ЭКОНОМИЧЕСКИ АКТИВНОГО НАСЕЛЕНИЯ



Запишите в ответ цифры, расположив их в порядке, соответствующем буквам:

А	Б	В

8. Расположите перечисленные страны в порядке возрастания в них показателя естественного прироста населения (на 1 тыс. жителей), начиная со страны с наименьшим значением этого показателя.

1. Нигерия.
2. Мексика.
3. Швеция.

Запишите в таблицу получившуюся последовательность цифр.

ИЛИ

Расположите перечисленные страны в порядке возрастания в них показателя ИЧР (индекса человеческого развития), начиная со страны с наименьшим значением этого показателя.

1. Ангола.
2. Австралия.
3. Малайзия.

Запишите в таблицу получившуюся последовательность цифр.

9. Атомные электростанции обеспечивают получение относительно дешёвой электроэнергии. Они могут быть размещены в регионах с высоким энергопотреблением, покрывая пиковые нагрузки в энергосистемах. В каких трёх из перечисленных регионов России построены крупные АЭС? Запишите цифры, под которыми указаны эти регионы.

1. Мурманская область.
2. Ростовская область.
3. Красноярский край.
4. Хабаровский край.
5. Тюменская область.
6. Воронежская область.

ИЛИ

В последнее десятилетие Россия стала одним из крупнейших мировых экспортёров зерна. Постоянная забота о качестве продукции, поставляемой на мировой рынок, способствует успеху в конкурентной борьбе с другими странами — экспортёрами зерна.

С какими тремя из перечисленных стран Россия конкурирует на мировом зерновом рынке? Запишите цифры, под которыми указаны эти страны.

1. Австралия.
2. США.
3. Турция.
4. Египет.
5. Канада.
6. ЮАР.

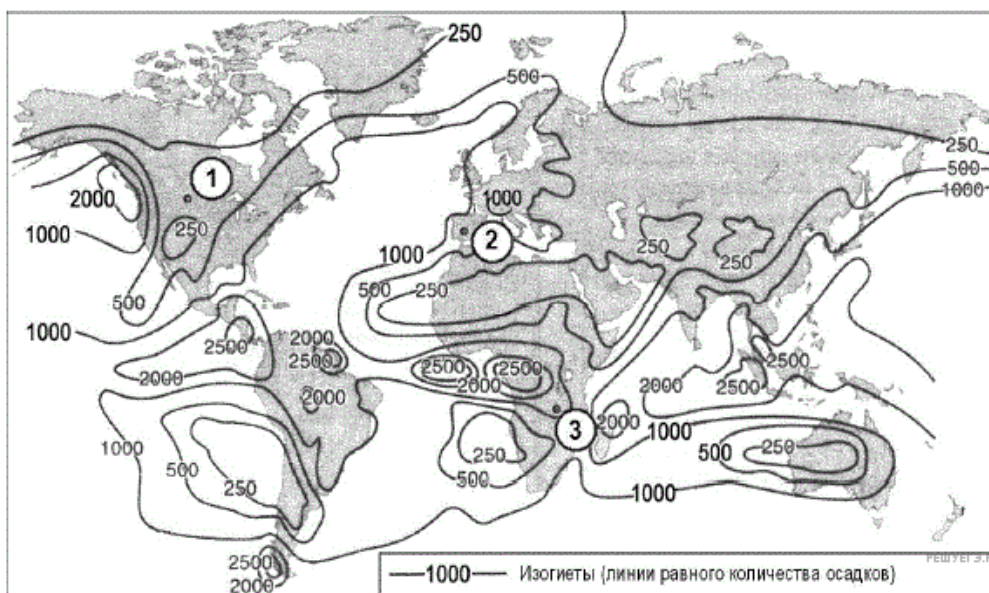
10. На основе анализа данных приведённой ниже таблицы укажите все регионы, в которых в период с 2019 по 2021 г. ежегодно увеличивались объёмы добычи полезных ископаемых. Запишите цифры, под которыми указаны эти регионы.

Динамика добычи полезных ископаемых (в % к предыдущему году)

Регион	2019 г.	2020 г.	2021 г.
1) Белгородская область	99,7	101,5	103,8
2) Тульская область	112,2	102,4	103,9
3) Чувашская Республика	122,0	107,1	105,0
4) Свердловская область	98,5	103,2	103,4

11. С помощью карты сравните среднегодовое количество атмосферных осадков в точках, обозначенных на карте цифрами 1, 2, 3. Расположите эти точки в порядке увеличения количества осадков, выпадающих в них.

Среднее годовое количество атмосферных осадков (мм)



Карта составлена по состоянию на 01.01.2014

Запишите в ответ получившуюся последовательность цифр.

12. Выберите все высказывания с информацией о миграциях населения и запишите цифры, под которыми они указаны.

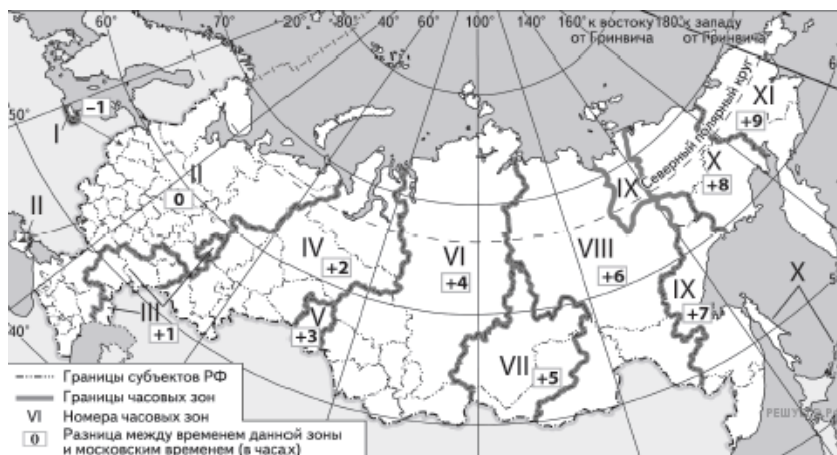
1. По прогнозу ООН 2022 г. снижение детской смертности продолжится и в ближайшие десятилетия; к середине века она составит 24‰ в целом по миру, изменяясь от 2‰ в Европе до 42‰ в Африке.
2. По данным Всемирного банка Молдавию, которая за годы независимости превратилась в одну из беднейших стран Европы, в поисках работы покинуло от 700 тыс. до 1 млн граждан.
3. Число иностранцев с действующим разрешением на работу в России увеличилось к концу 2021 г. до 54 тыс. человек.
4. За два года пандемии средняя продолжительность жизни населения мира снизилась на 1,8 года, составив в 2021 г. 71 год, но к середине века она, возможно, превысит 77 лет.
5. За последние полвека число стран, которые проводят определённую политику в отношении рождаемости, заметно увеличилось.

13. Расположите события в геологической истории Земли в хронологическом порядке, начиная с самого раннего.

1. Появление сумчатых млекопитающих и первых птиц относится к юрскому периоду.
2. Вымирание динозавров произошло в меловом периоде.
3. Появление земноводных и широкое распространение споровых растений произошло в девонском периоде.

Запишите в таблицу получившуюся последовательность цифр.

14. Прямая трансляция матча за Суперкубок России между футбольными командами «Зенит» и «Локомотив» началась 6 июля 2019 г. в 19 ч по московскому времени. Используя карту, определите, во сколько часов по местному времени эта трансляция началась в Ханты-Мансийске. Ответ запишите в виде числа.

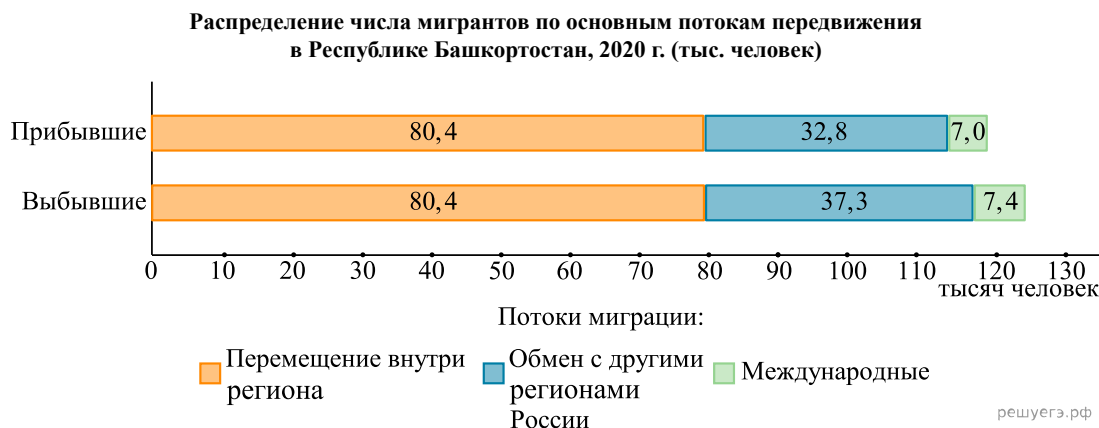


Карта составлена по состоянию на 06.07.2019

15. Учащиеся на уроке анализировали содержание Государственного доклада о состоянии и использовании минерально-сырьевых ресурсов Российской Федерации в 2020 г., где была дана информация о состоянии мирового рынка хромовых руд. Согласно представленным сведениям величина разведанных запасов хромовых руд в пересчёте на металл в мире составляла 1854 млн т, а ресурсообеспеченность ими в 2020 г. — 60 лет.

Определите, каков был объём добычи хромовых руд в мире в 2020 г. Ответ запишите в виде числа.

16. Используя данные диаграммы, определите значение показателя миграционного прироста населения Республики Башкортостан в 2020 г. Ответ запишите в виде числа (по образцу, указанному в инструкции по выполнению работы).



ИЛИ

На численность населения субъектов Российской Федерации заметное влияние оказывают как естественное движение населения, так и миграции. Используя данные таблицы, определите значение показателя миграционного прироста населения Республики Хакасия в 2021 г. Ответ запишите в виде числа.

Численность и естественный прирост населения Республики Хакасия (человек)

Показатель	2020 г.	2021 г.	2022 г.
Численность постоянного населения на 1 января	534 262	532 036	528 338
Среднегодовая численность населения	533 149	530 187	Нет данных
Естественный прирост населения, значение показателя за год	-2121	-3266	Нет данных

17. Определите страну по её краткому описанию.

Эта страна находится в Евразии. В пределах её территории средние высоты не превышают 200 м над уровнем моря. По численности населения она входит в первую десятку стран мира, при этом более 60% составляет сельское население. Большинство верующих исповедует ислам. На мировой рынок страна поставляет продукцию текстильной и швейной промышленности.

18. Определите регион России по его краткому описанию.

Эта область расположена в центральной части Восточно-Европейской равнины, преимущественно в лесной зоне, климат умеренно континентальный умеренного климатического пояса. Ведущая отрасль промышленности — многоотраслевое машиностроение. Здесь производятся автомобили, речные суда, оборудование для различных отраслей хозяйства. Областной центр, расположенный в месте слияния самой протяжённой реки Европейской части РФ и её крупнейшего правого притока, является городом-миллионником.

Южная Америка. Доля городского населения



Карта составлена по состоянию на 01.01.2021

Основные демографические показатели некоторых стран Южной Америки и Африки в 2017г.

Страна	Численность населения, млн человек	Рождаемость, ‰	Смертность, ‰	Плотность населения, человек на км ²	Доля городского населения, %	Ожидаемая продолжительность жизни, лет	Доля лиц в возрасте младше 15 лет, %	Доля лиц в возрасте старше 65 лет, %
Аргентина	42,7	16	6	16	91	77	25	12
Боливия	11,3	23	7	11	70	69	32	7
Бразилия	207,9	14	6	25	86	75	23	8
Венесуэла	31,4	19	5	36	88	75	28	7
Гвиана (Фр)	0,3	21	8	4	85	78	33	5
Колумбия	49,8	15	6	45	76	76	26	8
Парагвай	6,9	21	6	18	60	73	30	6
Перу	32,2	19	6	26	79	75	27	7
Уругвай	3,5	14	9	20	95	77	21	15
Чили	18,6	14	6	25	87	80	21	11
Эквадор	17	20	5	69	65	76	29	7
Алжир	42,7	26	4	18	73	77	29	6
Ангола	30,4	45	10	25	45	60	48	2
Египет	97	27	6	101	43	72	33	4
Кения	51	31	6	92	27	67	41	3
Ливия	6,4	20	5	4	79	72	29	4
Мали	19,4	45	10	16	42	60	47	2
Марокко	35,1	19	5	81	79	75	25	6
Нигер	22,2	48	10	18	16	60	50	3
Судан	40,6	34	8	23	36	64	41	4

Тунис	11,6	19	6	76	68	76	24	8
Уганда	44,1	41	9	229	24	63	48	3
Чад	14,9	45	13	13	23	53	47	2
Эфиопия	105	33	7	110	20	65	41	4

Показатели социально-экономического развития некоторых стран Южной Америки и Африки в 2017г.

Страна	Объём ВВП, млрд долл.	Структура ВВП, %			Структура занятости населения, %			Объём экспорта, млрд долл.	Объём сельско-хозяйственного экспорта, млрд долл.
		Сфера услуг	Промышленность	Сельское хозяйство	Сфера услуг	Промышленность	Сельское хозяйство		
Аргентина	922,1	61,1	28,1	10,8	66	29	5	58,43	37,4
Боливия	85,8	48,2	37,8	13,8	49	22	29	7,7	1,6
Бразилия	3243,2	72,7	20,7	6,6	59	32	9	217,7	90,4
Венесуэла	452,7	54,9	40,4	4,7	70	22	8	31,6	0,03
Колумбия	711,6	62,1	30,8	7,2	62	21	17	37,8	8,3
Парагвай	69,7	54,5	27,7	17,9	55	19	26	8,6	5,5
Перу	420,2	59,9	32,7	7,4	57	18	25	44,9	9,6
Суринам	8,6	57,3	31,1	11,6	69	19	12	2,1	0,15
Уругвай	76,5	69,7	24,1	6,2	73	14	13	7,8	6,06
Чили	453,8	63	32,2	4,2	67	24	9	68,3	23
Эквадор	193,8	60,1	32,9	7	55	18	27	19,1	11
Алжир	642,6	47,4	39,3	13,3	59	31	10	34,9	0,42
Ангола	193,6	32,2	57,6	10,2	34	15	49	33,1	0,03
Египет	1204	54	34,3	11,7	50	26	24	25,6	4,9
Кения	163,2	47,5	18	34,5	42	20	38	5,7	3,2
Мали	41,9	40,5	17,7	41,8	11	28	61	2,8	0,6
Марокко	291,3	56,5	29,5	14	43	20	37	25,3	5,5
Ливия	31,3	46,2	52,8	1	59	24	17	15,6	0,1
Нигер	21,9	39	19,5	41,5	20	5	75	1,2	0,4
[Судан	177,8	57,8	2,6	39,6	41	7	52	3	2
Танзания	166,7	47,6	29	23,4	50	28	22	4,5	1,7
Тунис	133,3	63,7	26,2	10,1	52	34	14	14,2	1,6
Уганда	89,1	50,7	21,1	28,2	23	7	70	2,8	1,4
Чад	28,6	33,4	14,2	52,4	9	4	87	1,2	0,05
Эфиопия	198,5	43,6	21,6	34,8	22	9	69	3,2	1,3

19. Расположите перечисленные страны в порядке возрастания в них доли городского населения в общей численности населения, начиная со страны с наименьшим значением этого показателя.

1. Гайана;
2. Эквадор;
3. Колумбия.

Запишите в таблицу получившуюся последовательность цифр.

20. Сергею необходимо построить картограмму «Африка. Доля городского населения», используя такую же интервальную шкалу, как на приведённой выше карте Южной Америки.

Установите соответствие между страной и условным обозначением, которое необходимо использовать для отображения доли городского населения каждой из перечисленных стран на карте: к каждой позиции, данной в первом столбце, подберите соответствующую позицию из второго столбца.

СТРАНА	УСЛОВНОЕ ОБОЗНАЧЕНИЕ
А) Нигер	1) 0–20
Б) Тунис	2) 21–40
В) Уганда	3) 41–60
	4) 61–80
	5) 81–100

Запишите в ответ цифры, расположив их в порядке, соответствующем буквам:

А	Б	В

Задание выполняется с использованием приведённого ниже текста.

Хопёрский заповедник не должен пострадать

На территории Воронежской области разведаны крупные месторождения богатых медно-никелевых руд. Руды залегают на глубине 300–350 м от поверхности. В них по оценкам геологов содержится 1 млн т никеля, 100 тыс. т меди, 25 тыс. т кобальта, а также 46 т платины и 30 т золота.

Экологов беспокоят возможные негативные последствия реализации проекта. Образование терриконов, по их мнению, приведёт к изъятию из оборота ценных земельных угодий и вызовет загрязнение почв и воздушной среды.

В непосредственной близости разведанных месторождений находится Хопёрский заповедник, в задачи которого входит и сохранение биологического разнообразия, и поддержание в естественном состоянии охраняемых природных комплексов лесостепных рек. Под охраной в заповеднике находится более 100 видов растений, 45 видов млекопитающих, включая занесённую в Красную книгу России выхухоль, 48 видов рыб и 236 — птиц.

Создание рудников всего в 15 км от границ заповедника может привести к обмелению Хопра, что неминуемо погубит уникальные экосистемы речных пойм и внепойменных территорий долины Хопра.

Разрабатывающая проект освоения этих месторождений «УГМК» с пониманием относится к этим опасениям и планирует использовать самые современные, безопасные для природы технологии добычи руд.

21. Назовите географический регион России, в котором находится Воронежская область.
22. Объясните, что такое терриконы, о которых говорится в тексте.
23. Объясните, почему создание рудников может привести к обмелению Хопра.

Основные демографические показатели некоторых стран Южной Америки и Африки в 2017 г.

Страна	Численность населения, млн человек	Рождаемость, ‰	Смертность, ‰	Плотность населения, человек на км ²	Доля городского населения, %	Ожидаемая продолжительность жизни, лет	Доля лиц в возрасте младше 15 лет, %	Доля лиц в возрасте старше 65 лет, %
Аргентина	42,7	16	6	16	91	77	25	12
Боливия	11,3	23	7	11	70	69	32	7
Бразилия	207,9	14	6	25	86	75	23	8
Венесуэла	31,4	19	5	36	88	75	28	7
Гвиана (Фр)	0,3	21	8	4	85	78	33	5
Колумбия	49,8	15	6	45	76	76	26	8
Парагвай	6,9	21	6	18	60	73	30	6
Перу	32,2	19	6	26	79	75	27	7
Уругвай	3,5	14	9	20	95	77	21	15
Чили	18,6	14	6	25	87	80	21	11
Эквадор	17,0	20	5	69	65	76	29	7
Алжир	42,7	26	4	18	73	77	29	6
Ангола	30,4	45	10	25	45	60	48	2
Египет	97,0	27	6	101	43	72	33	4
Кения	51,0	31	6	92	27	67	41	3
Ливия	6,4	20	5	4	79	72	29	4
Мали	19,4	45	10	16	42	60	47	2
Марокко	35,1	19	5	81	79	75	25	6
Нигер	22,2	48	10	18	16	60	50	3
Судан	40,6	34	8	23	36	64	41	4
Танзания	57,5	39	7	69	34	65	45	3
Тунис	11,6	19	6	76	68	76	24	8
Уганда	44,1	41	9	229	24	63	48	3
Чад	14,9	45	13	13	23	53	47	2
Эфиопия	105,0	33	7	110	20	65	41	4

Показатели социально-экономического развития некоторых стран Южной Америки и Африки в 2017 г.

Страна	Объём ВВП, млрд долл.	Структура ВВП, %			Структура занятости населения, %			Объём экспорта, млрд долл.	Объём сельскохозяйственно-го экспорта, млрд долл.
		Сфера услуг	Промышленность	Сельское хозяйство	Сфера услуг	Промышленность	Сельское хозяйство		
Аргентина	922,1	61,1	28,1	10,8	66	29	5	58,43	37,4
Боливия	85,8	48,2	37,8	13,8	49	22	29	7,7	1,6
Бразилия	3243,2	72,7	20,7	6,6	59	32	9	217,7	90,4
Венесуэла	452,7	54,9	40,4	4,7	70	22	8	31,6	0,03
Колумбия	711,6	62,1	30,8	7,2	62	21	17	37,8	8,3
Парагвай	69,7	54,5	27,7	17,9	55	19	26	8,6	5,5

Суринам	8,6	57,3	31,1	11,6	69	19	12	2,1	0,15
Уругвай	76,5	69,7	24,1	6,2	73	14	13	7,8	6,06
Чили	453,8	63,0	32,2	4,2	67	24	9	68,3	23,0
Эквадор	193,8	60,1	32,9	7,0	55	18	27	19,1	11,0
Алжир	642,6	47,4	39,3	13,3	59	31	10	34,9	0,42
Ангола	193,6	32,2	57,6	10,2	34	15	49	33,1	0,03
Египет	1204,0	54,0	34,3	11,7	50	26	24	25,6	4,9
Кения	163,2	47,5	18,0	34,5	42	20	38	5,7	3,2
Мали	41,9	40,5	17,7	41,8	11	28	61	2,8	0,6
Марокко	291,3	56,5	29,5	14,0	43	20	37	25,3	5,5
Ливия	31,3	46,2	52,8	1,0	59	24	17	15,6	0,1
Нигер	21,9	39,0	19,5	41,5	20	5	75	1,2	0,4
Судан	177,8	57,8	2,6	39,6	41	7	52	3,0	2,0
Танзания	166,7	47,6	29,0	23,4	50	28	22	4,5	1,7
Тунис	133,3	63,7	26,2	10,1	52	34	14	14,2	1,6
Уганда	89,1	50,7	21,1	28,2	23	7	70	2,8	1,4
Чад	28,6	33,4	14,2	52,4	9	4	87	1,2	0,05
Эфиопия	198,5	43,6	21,6	34,8	22	9	69	3,2	1,3

24. На основе анализа данных таблиц справочных материалов предположите, какая из стран: Алжир или Боливия — находилась в 2017 г. выше в рейтинге ООН по индексу человеческого развития (ИЧР). Для обоснования Вашего ответа запишите необходимые числовые данные из таблиц и вычисления, на основании которых Вы сделали своё предположение.

25. Используя данные справочных материалов, сравните доли населения, занятого в сельском хозяйстве, и доли сельского хозяйства в общих объёмах экспорта Судана и Марокко. Сделайте вывод о том, в какой из этих стран сельское хозяйство играет большую роль в экономике в 2017 г. Для обоснования Вашего ответа запишите необходимые числовые данные и вычисления.

26. В 2015 г. рядом с городом Свободный, расположенным на Транссибирской магистрали в 150 км от Благовещенска, началось строительство Амурского газоперерабатывающего завода (ГПЗ).

На первом этапе были построены подъездные пути, причал на реке Зее, а затем уже доставлено и установлено самое крупногабаритное оборудование для завода — три колонны выделения метана, каждая весом в 1014 т и длиной 87 м. Завод был сдан в эксплуатацию в 2021 г.

Также завершено строительство железнодорожного перегона от Транссибирской магистрали до завода протяжённостью 17,5 км.

Завод перерабатывает природный газ, добываемый на месторождениях Иркутской области и Якутии. Газ этих месторождений многокомпонентный, и на Амурском ГПЗ из него извлекаются наиболее ценные компоненты — пропан, бутан и гелий. Очищенный метан экспортируется в Китай, а в страны АТР через порт Восточный на экспорт идут поставки сжиженных дорогостоящих пропана, бутана (до 1,5 млн т в год) и гелия (до 60 млн м³ в год).



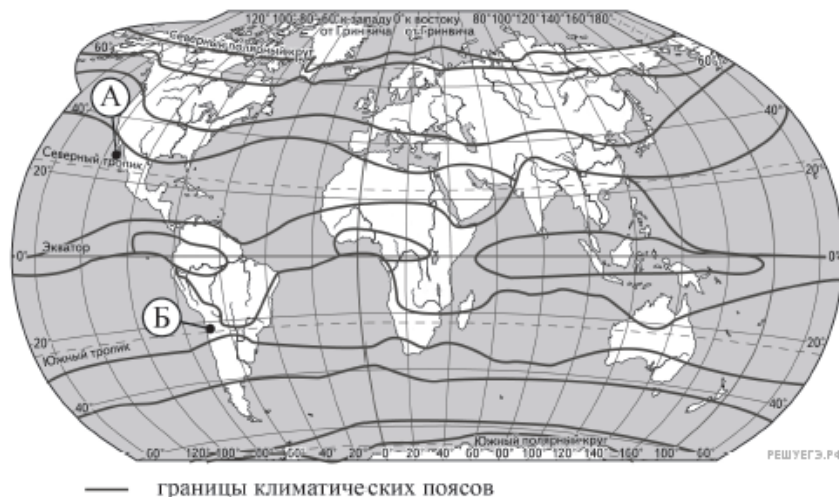
Карта составлена по состоянию на 01.01.2015

Назовите две любые особенности транспортно-географического положения г. Свободный, кроме положения на трассе газопровода, которые определили его выбор для строительства ГПЗ.

ИЛИ

В условиях длинного полярного дня температура воздуха в Арктике в летние месяцы повышается, но при этом на большей части акватории она не превышает 0 °С. Почему в Арктике температура воздуха самого тёплого месяца близка к 0 °С, при том что Солнце в это время не заходит за горизонт? Укажите две причины.

27. Определите, в каком из пунктов, обозначенных на карте мира буквами А и Б, в декабре количество суммарной солнечной радиации на 1 см² земной поверхности будет больше. Для обоснования Вашего ответа приведите два довода.



Карта составлена по состоянию на 01.01.2023

28. Определите географическую долготу пункта, если известно, что в полдень по солнечному времени Гринвичского меридиана местное солнечное время в нём 14 ч 40 мин. Запишите решение задачи.

ИЛИ

С корабля, находящегося в точке с координатами 3° с. ш. 134° в. д., поступило радиосообщение о неисправности двигателя. Какое расстояние (в км) до неисправного судна пройдёт ремонтный корабль из порта Маноквари (0° ш. 134° в. д.), если известно, что корабль будет идти строго по меридиану, а неисправное судно останется в той же точке, откуда было передано сообщение? Ответ округлите до целого числа. Запишите решение задачи.

29. Изменения климата вызывают серьёзные проблемы в мировом сельском хозяйстве. В России климатические изменения, связанные с повышением среднегодовых температур воздуха, также принесут немало сложностей, однако могут иметь и положительный эффект.

Учащиеся на уроке обсуждали возможные последствия изменений климата для растениеводства России. Некоторые из них высказали мнение, что изменения климата могут привести к снижению урожайности. Другие, наоборот, считали, что изменения климата будут способствовать развитию растениеводства в некоторых регионах страны. Приведите по одному аргументу, подтверждающему каждое из мнений, высказанных учащимися.