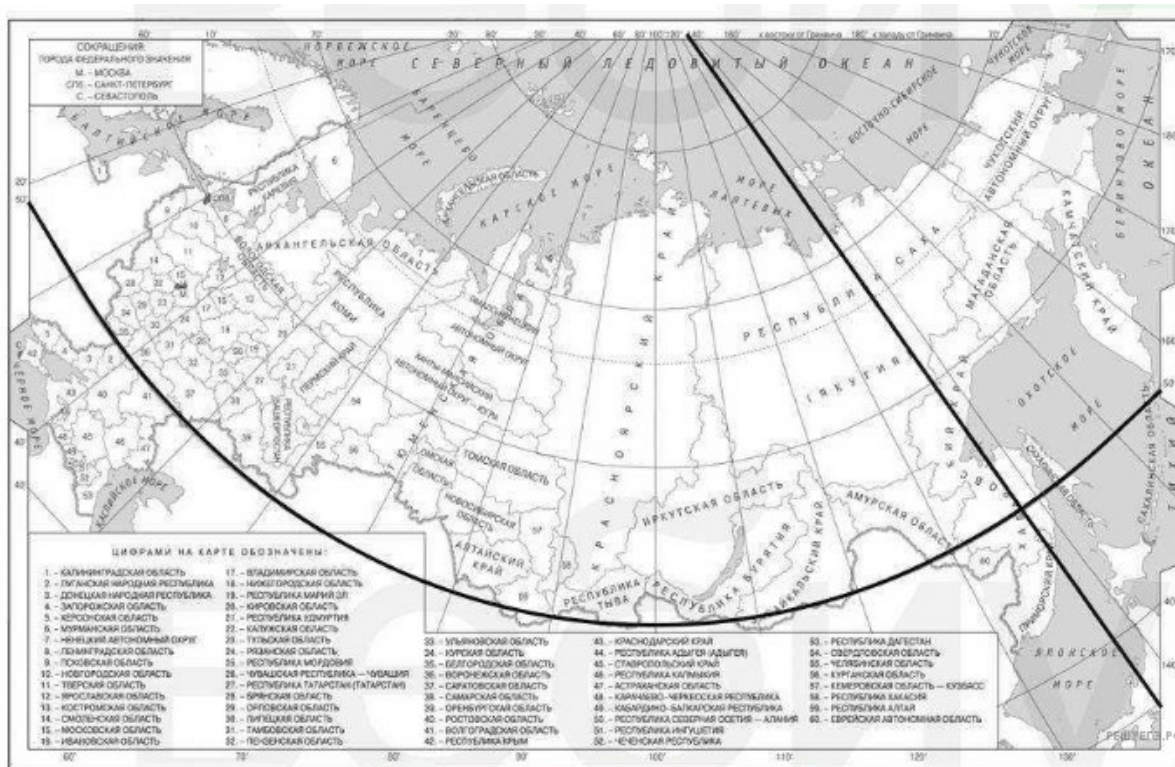


ЕГЭ по географии 23.05.2024. Основная волна. Дальний Восток. Разные задания

При выполнении заданий с кратким ответом впишите в поле для ответа цифру, которая соответствует номеру правильного ответа, или число, слово, последовательность букв (слов) или цифр. Ответ следует записывать без пробелов и каких-либо дополнительных символов. Дробную часть отделяйте от целой десятичной запятой. Единицы измерений писать не нужно.

Если вариант задан учителем, вы можете вписать или загрузить в систему ответы к заданиям с развернутым ответом. Учитель увидит результаты выполнения заданий с кратким ответом и сможет оценить загруженные ответы к заданиям с развернутым ответом. Выставленные учителем баллы отобразятся в вашей статистике.

1. Населённый пункт имеет географические координаты 50° с. ш. 137° в. д. Определите, на территории какого субъекта РФ расположен этот населённый пункт.



Карта составлена по состоянию на 01.01.2024

2. В пунктах, обозначенных в таблице цифрами 2 и 3, одновременно проводятся измерения абсолютной влажности воздуха (содержание водяного пара в 1м³ воздуха) и температуры воздуха. Расположите эти метеостанции в порядке повышения температуры воздуха на них в момент проведения измерений [от наиболее низкой к наиболее высокой].

Пункт	Содержание водяного пара, г	Относительная влажность, %
1	3,9	60
2	3,9	40
3	3,9	70

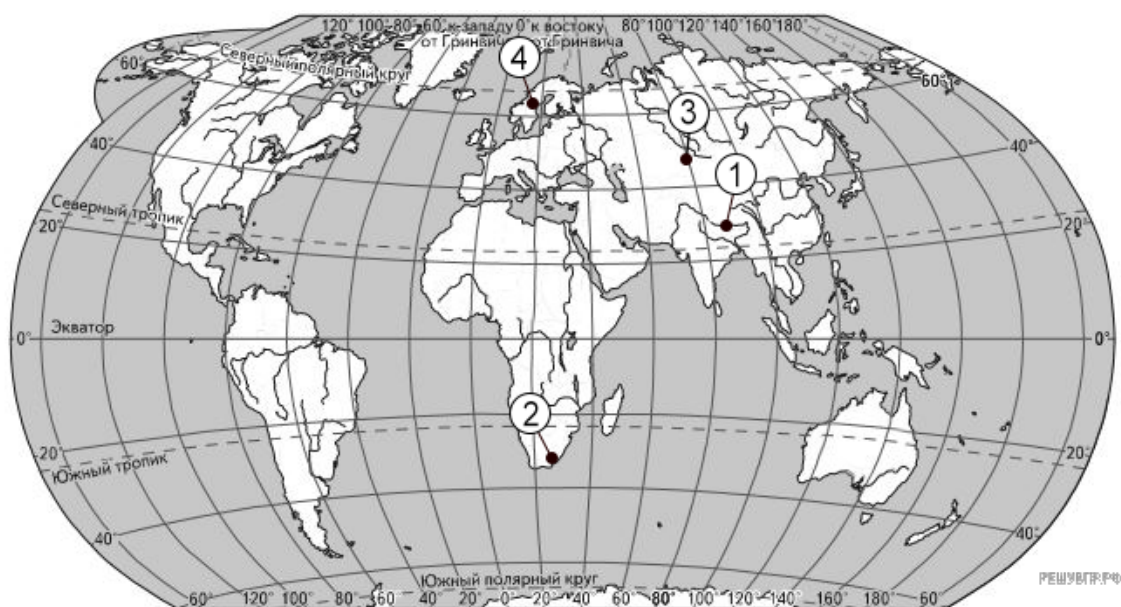
3. Установите соответствие между островом и его обозначением на карте Европы: к каждому элементу первого столбца подберите соответствующий элемент из второго столбца.



Карта составлена по состоянию на 01.01.2024

ОСТРОВ	ОБОЗНАЧЕНИЕ
1) Сардиния	1) 1
2) Ирландия	2) 2
3) Исландия	3) 3
	4) 4

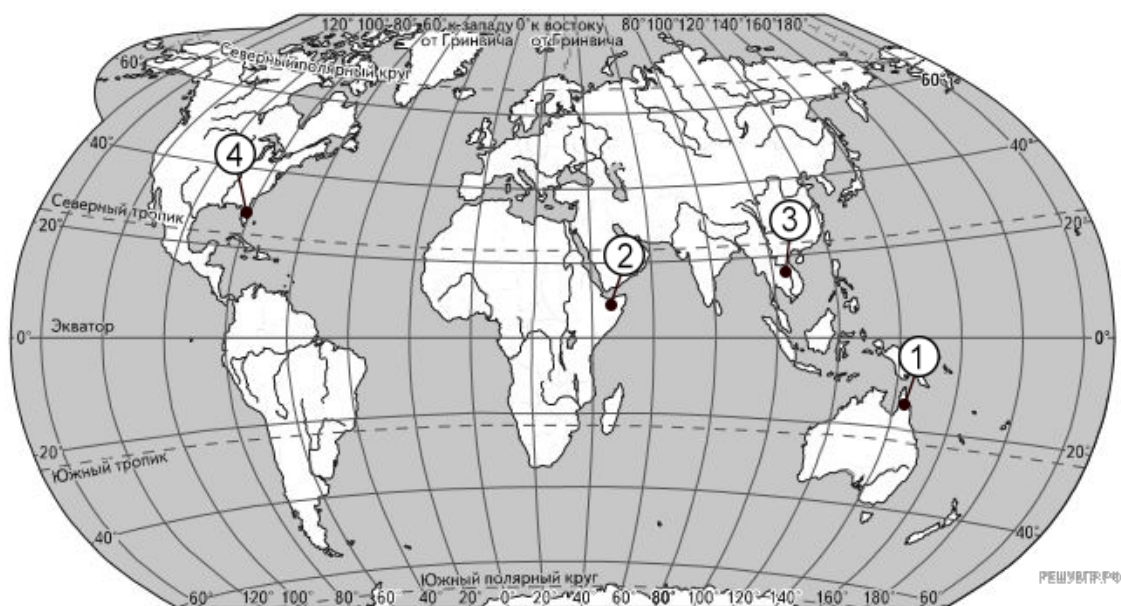
4. Соотнесите горные системы и их обозначения на карте.



Карта составлена по состоянию на 01.01.2024

- А) Гималаи
- Б) Скандинавские горы
- В) Тянь-Шань

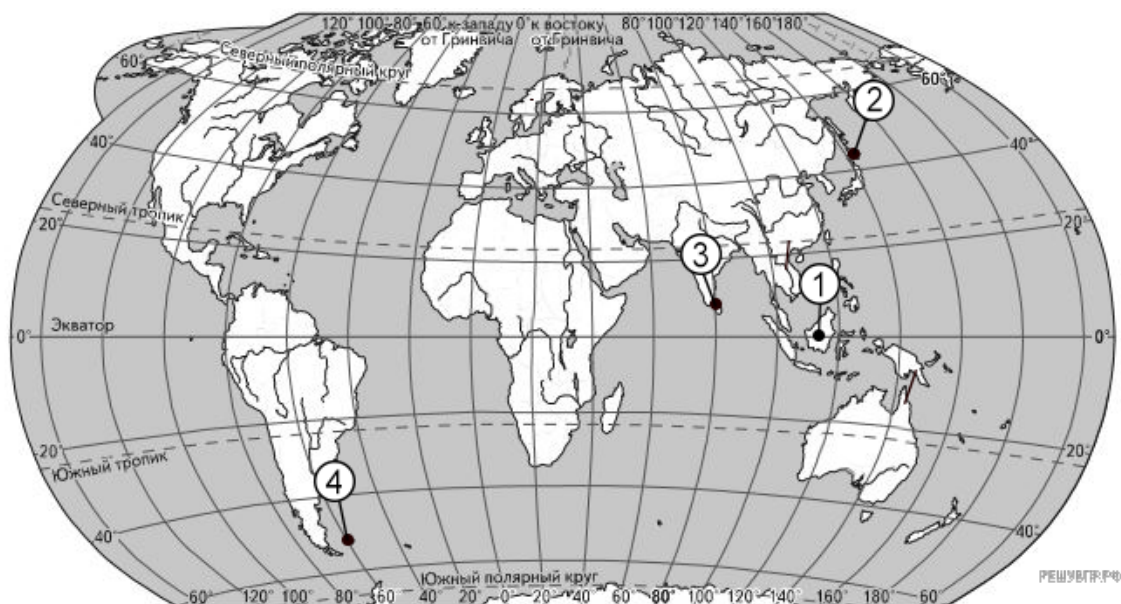
5. Соотнесите полуострова и их обозначения на карте.



Карта составлена по состоянию на 01.01.2024

- А) Кейп-Йорк
- Б) Флорида
- В) Индокитай

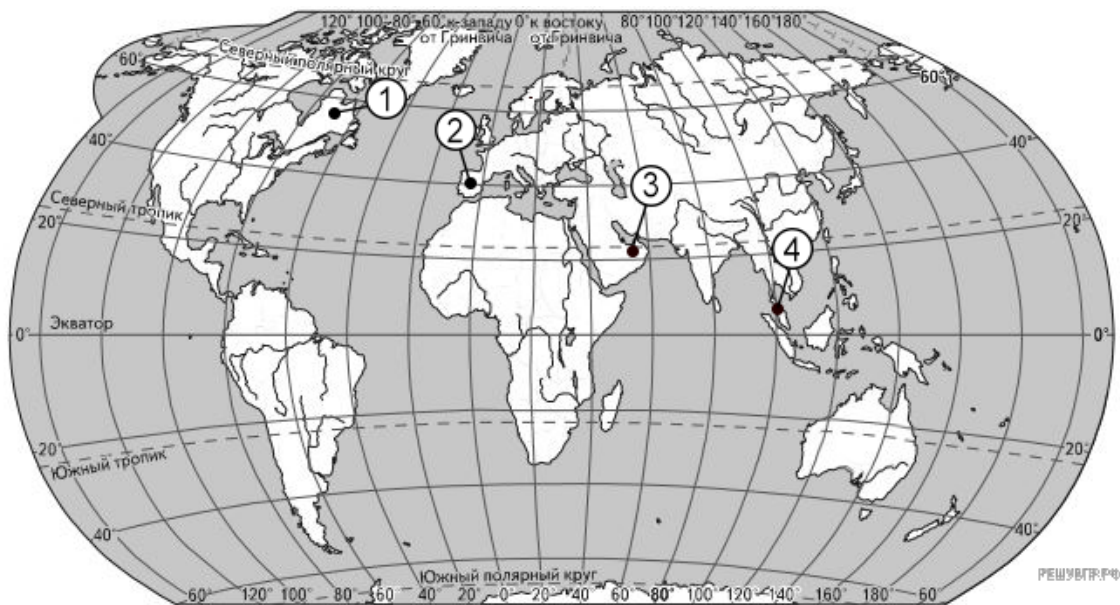
6. Соотнесите острова и их обозначения на карте.



Карта составлена по состоянию на 01.01.2024

- А) Хоккайдо
- Б) Калимантан
- В) Шри-Ланка

7. Установите соответствие между полуостровом и его обозначением на карте мира.



Карта составлена по состоянию на 01.01.2024

ПОЛУОСТРОВ	ОБОЗНАЧЕНИЕ НА КАРТЕ
А) Пиренейский	1) 1
Б) Малакка	2) 2
В) Лабрадор	3) 3
	4) 4

8. Прочитайте приведённый ниже текст, в котором пропущен ряд слов. Выберите из предлагаемого списка слова, которые необходимо вставить на место пропусков.

Восточная Сибирь

Восточная Сибирь занимает обширные территории от Енисея и до Забайкалья, от гор Алтая на юге и до Северного Ледовитого океана на севере. Плотность населения здесь ... (А), чем в среднем по России. Население сконцентрировано в основном на ... (Б) границе района. В пределах Восточной Сибири располагается город-миллионер — ... (В).

Слова:

1. Меньше
2. Больше
3. Северной
4. Южной
5. Красноярск
6. Екатеринбург

9. Прочитайте приведённый ниже текст, в котором пропущен ряд слов. Выберите из предлагаемого списка слова, которые необходимо вставить на место пропусков.

Почвы России

Россия является родиной почвоведения во многом благодаря разнообразию типов почв, встречающихся на ее территории. В. В. Докучаев заложил основы этой науки описывая чернозёмы, которые ... (А) гумусом. Его экспедиции проходили на юге России, поэтому эталонный профиль чернозёма располагается в ... (Б) области.

Севернее, в таежной зоне почвы кардинально отличаются и в основном представлены ... (В) почвами.

Слова:

1. Бедные
2. Богатые
3. Воронежская
4. Астраханская
5. Подзолистые
6. Серые

10. Прочитайте приведённый ниже текст, в котором пропущен ряд слов. Выберите из предлагаемого списка слова, которые необходимо вставить на место пропусков.

Климат Дальнего Востока России (обновленный вариант)

Российский Дальний Восток располагается в разнообразных климатических условиях. Так, на юго-востоке Дальнего востока наблюдается ... (А) тип климата. А на ... (Б) Якутии располагается полюс холода. Самые северные районы Дальнего Востока занимает ... (В) климатический пояс.

Слова:

1. Муссонный
2. Континентальный
3. Северо-восток
4. Восток
5. Субарктический
6. Субтропический

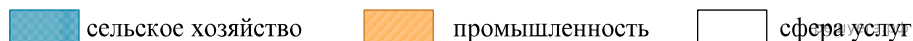
11. Выберите регионы, где есть крупные морские порты.

1. Тульская область.
2. Краснодарский край.
3. Мурманская область.
4. Томская область.
5. Приморский край.
6. Омская область.

12. Какие три из перечисленных городов имеют наибольшую численность населения?

1. Краснодар.
2. Оренбург.
3. Псков.
4. Красноярск.
5. Пермь.
6. Томск.

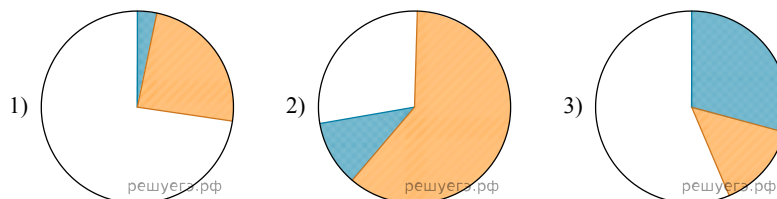
13. Установите соответствие между страной и диаграммой, отражающей распределение её ВВП по секторам экономики.



СТРАНА

- А) Никарагуа Б) Габон В) Швеция

РАСПРЕДЕЛЕНИЕ ВВП ПО СЕКТОРАМ ЭКОНОМИКИ



14. Расположите перечисленные страны в порядке возрастания в них показателя индекса человеческого развития (ИЧР), начиная со страны с наименьшим значением этого показателя.

1. Мексика.
2. Швейцария.
3. Нигерия.

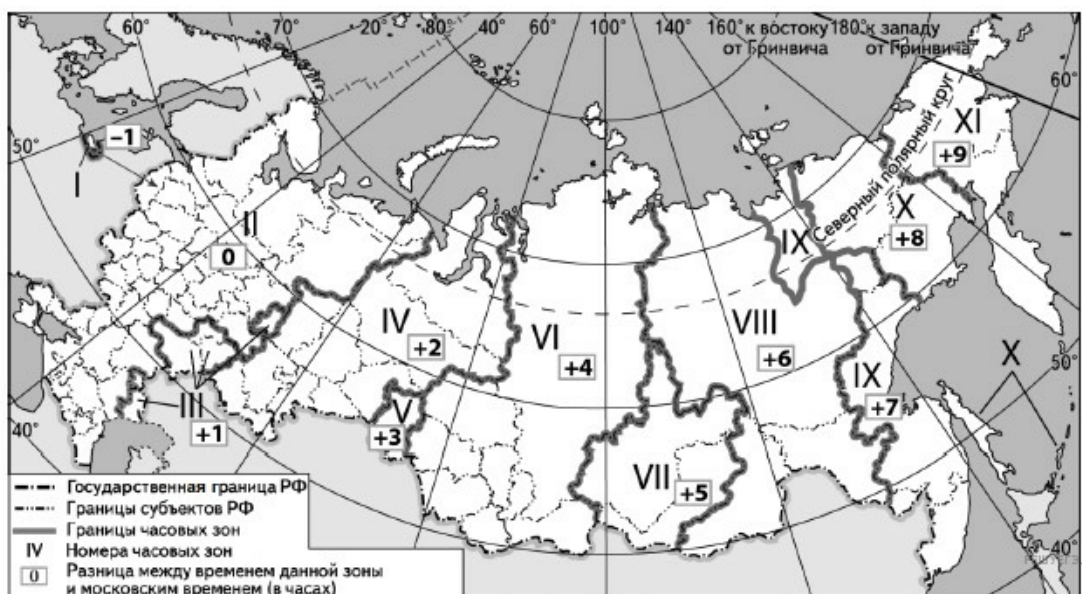
15. Выберите регионы, которые являются лидерами по добыче каменного угля.

1. Кемеровская область.
2. Республика Саха.
3. Курганская область.
4. Белгородская область.
5. Тюменская область.
6. Ростовская область.

16. Какие три из перечисленных стран являются крупными производителями и экспортёрами металлического алюминия?

1. Польша.
2. Китай.
3. Норвегия.
4. Монголия.
5. Словакия.
6. Индия.

17. Прямая трансляция открытия Олимпийских игр в Туле начинается в 9 ч по местному времени. Сколько времени будет в Амурской области, когда трансляция начнётся.



Карта составлена по состоянию на 01.01.2024

18. Определите регион России по его краткому описанию.

Эта область расположена в Центральной России. Численность её областного центра превышает 400 тыс. Её территория не имеет выхода к государственной границе России. Главными отраслями промышленности являются машиностроение и электроэнергетика. На территории области работает крупная АЭС. Сельское хозяйство специализируется на производстве продукции животноводства, выращивании картофеля и кормовых культур.

19. Определите страну по описанию.

Эта страна полностью расположена в Северном полушарии и на севере граничит с развитым государством. Её территория омывается водами двух океанов. Столица располагается на высоте 2000 м над уровнем моря и окружена крупной агломерацией. Численность населения превышает 100 млн человек.

20. Определите страну по описанию.

Эта страна граничит лишь с двумя государствами, омывается водами Индийского океана. Большая часть территории расположена в пределах низменности. В сельском хозяйстве занята примерно треть экономически активного населения. В стране выращивают одни из самых тепло- и влаголюбивых культур и получают два-три урожая в год. Основные сельскохозяйственные культуры — рис, хлопчатник, джут. Средняя плотность населения превышает 1000 человек на км.

21. Определите страну по описанию.

Эта страна по форме правления является конституционной монархией. Основная часть её территории расположена на одном из полуостровов, который пересекает нулевой меридиан. Стране принадлежит ряд островов в Средиземном море и Атлантическом океане. В стране хорошо развиты лёгкая, пищевая, химическая промышленность, машиностроение и металлургия. Это одна из ведущих стран ЕС по производству цитрусовых, винограда, овощей, оливкового масла. Туризм — одна из самых доходных статей бюджета страны.

22. Определите регион России по описанию.

Эта республика находится в Сибири, не имеет выхода к Государственной границе России, большая часть её территории приходится на горы. На территории протекает полноводная река, на которой построена крупная ГЭС.

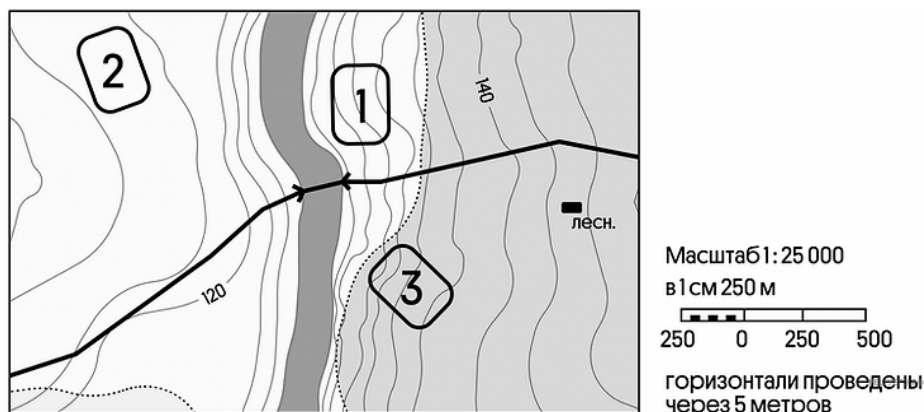
23. Определите регион России по описанию.

Этот регион располагается в районе Крайнего Севера. Он омывается водами трех морей двух разных океанов. Здесь работает атомная электростанция. Коренные народы занимаются оленеводством. Ведется разработка месторождений золота.

24. Определите регион России по описанию.

Эта республика располагается в зоне тайги и имеет выход к государственной границе. Она богата водными и лесными ресурсами, есть металлургические, деревообрабатывающие, машиностроительные предприятия. Столица находится на берегу одного из крупнейших озер России.

25. Определите, в пределах какого из участков, обозначенных на фрагменте топографической карты цифрами 1, 2 и 3, существует наибольшая опасность развития водной эрозии почвенного слоя. Для обоснования Вашего ответа приведите два довода.



Карта составлена по состоянию на 01.01.2024

Демографическая ситуация в Кубе и Гаити.


Статистические данные, характеризующие демографическую ситуацию в этих странах, представлены в следующей таблице.

Показатели	Куба	Гаити
Общая численность населения, млн человек	11,0	8,8
Рождаемость, ‰	8,6	23,5
Смертность, ‰	10,8	8,7
Доля лиц в возрасте младше 15 лет, %	15,7	32,8
Доля лиц в возрасте старше 65 лет, %	15,7	4,8
Ожидаемая продолжительность жизни, лет	78,0	65,9

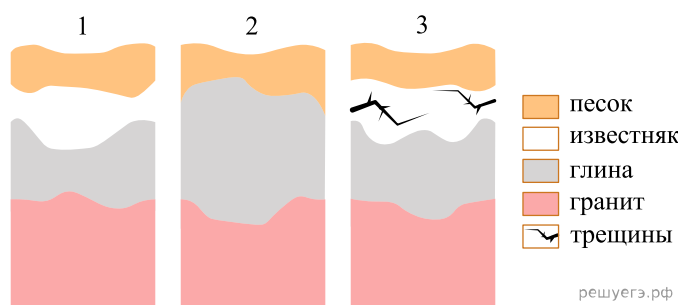
26. Определите, в каком из двух государств, о которых говорится в тексте, выше естественный прирост населения (в расчёте на 1 тыс. жителей). Для обоснования Вашего ответа запишите необходимые числовые данные или вычисления.

27. Потепление климата. Цепочка.

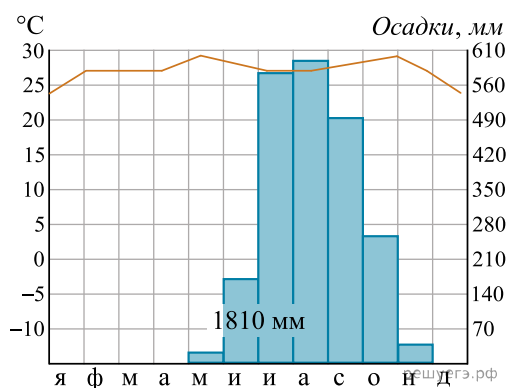
Восстановите цепочку событий, которые могут произойти в области многолетней мерзлоты из-за потепления климата.



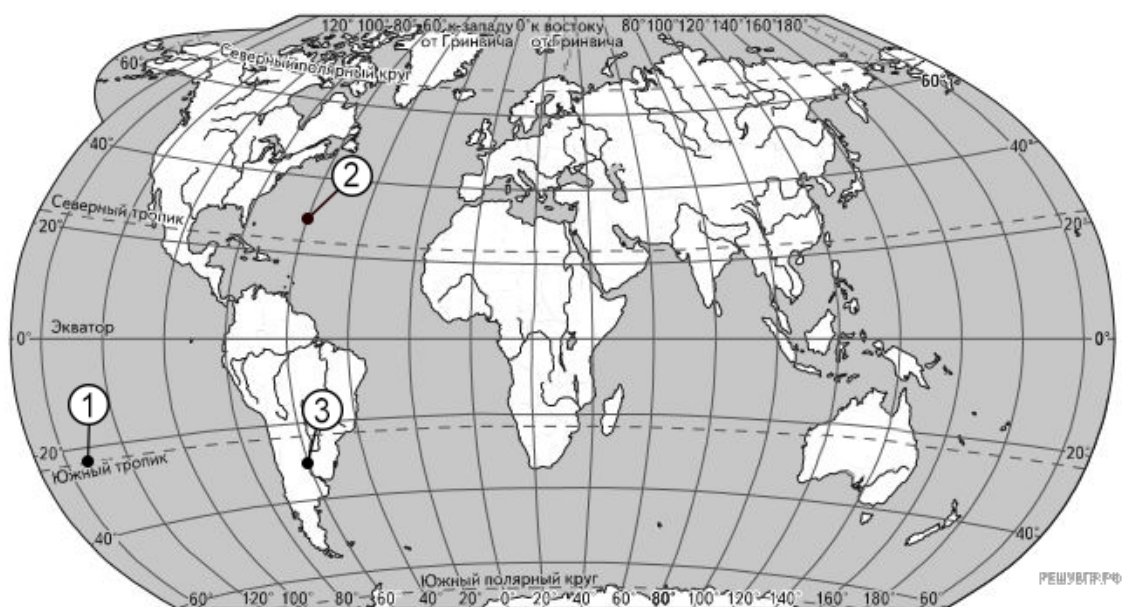
28. Используя схему залегания горных пород, объясните, почему на участке 3 развитие карстовых процессов будет происходить более активно, чем на других участках 1 и 2. Укажите две причины.



29. Определите, в каком из 13 климатических поясов расположен пункт, климат которого отображён на климатограмме?



30. Определите, в какой точке из указанных, Солнце встанет раньше 25 июля.

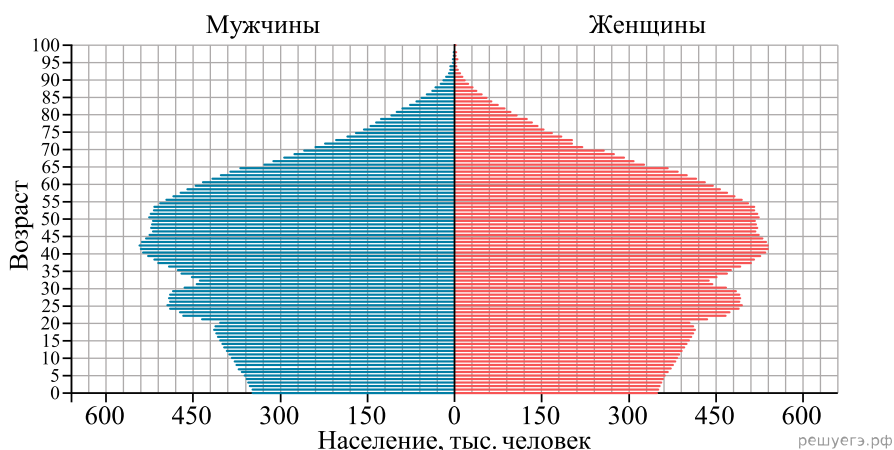


Карта составлена по состоянию на 01.01.2024

31. Определите, в какой из точек, географические координаты которых указаны в таблице, 15 августа Солнце раньше [по времени Гринвичского меридиана] поднимется над горизонтом. Запишите обоснование Вашего ответа.

Точка	Широта	Долгота
А	53° ю. ш.	85° з. д.
Б	35° ю. ш.	85° з. д.
В	35° ю. ш.	90° з. д.

32. В 2024 г. численность населения Таиланда составляла 69 млн человек, рождаемость — 101%, смертность — 77 %. При этом значение суммарного коэффициента рождаемости [количество новорожденных, приходящихся на одну женщину в детородном [от 15 по 49 лет] возрасте] составляло 1,54. Ниже приводится половозрастная пирамида Таиланда в 2024 г.



Тайланд, 2024

На основе анализа данных половозрастной пирамиды Таиланда в 2024 г. сделайте прогноз от том, как изменится [уменьшится или увеличится] естественный прирост населения в этой стране в ближайшие 20 лет, если суммарный коэффициент рождаемости останется таким же, каким он был в 2024 г. Для обоснования своего прогноза приведите два аргумента.

33. Определите географическую долготу точки, если известно, что в 23 ч по солнечному времени меридиана 15° з. д. местное солнечное время в ней 01 ч следующих суток. Запишите решение задачи.

34. Определите географическую долготу пункта, если известно, что в полночь по солнечному времени Гринвичского меридиана местное время в нем 12 часов 40 минут.

35. Корабль движется строго по меридиану на север. Начальная точка движения 35 с. ш. 30 в. д., конечная 40 с. ш. 30 в. д. Рассчитайте расстояние, которое было пройдено кораблем.

36. Глобальное потепление и функционирование Северного морского пути.

Специалистами влияние потепления климата на работу Северного морского пути оценивается по разному. Некоторые из них говорят о положительном эффекте, а другие об отрицательном. Приведите аргумент за каждую из точек зрения.

37. Аргументы на тему: есть ли смысл сейчас строить ледоколы, если происходит глобальное потепление.

38. Изменение количества осадков, связанное с потеплением климата.

Изменение общепланетарной температуры воздуха. Из-за этого в разных регионах мира изменится количество выпадающих атмосферных осадков. Одни учащиеся посчитали, что это положительно скажется на судоходстве, а другие — привели аргументы в защиту отрицательного воздействия. Приведите аргументы за каждую точку зрения.