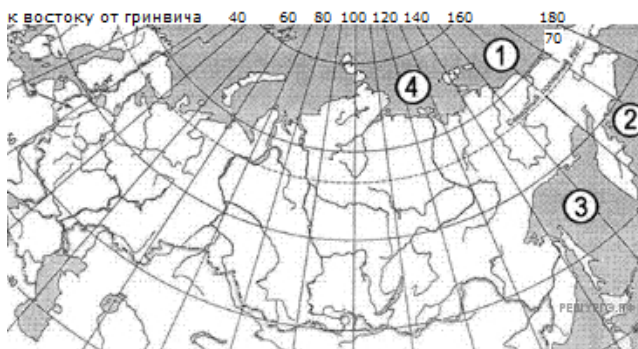


1. Установите соответствие между морем и его расположением на карте, обозначенным цифрой: к каждому элементу первого столбца подберите соответствующий элемент из второго и внесите в строку ответов выбранные цифры в правильной последовательности.



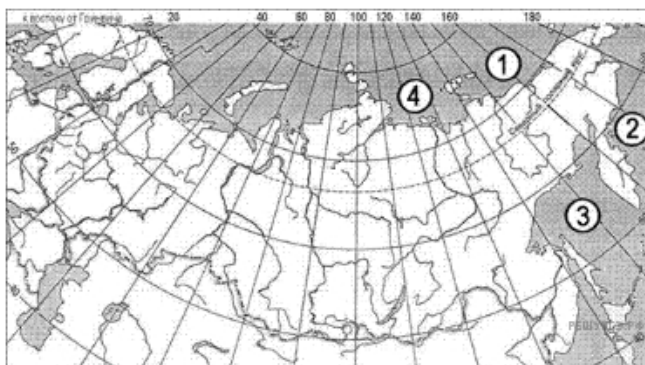
Карта составлена по состоянию на 01.01.2014

МОРЕ	РАСПОЛОЖЕНИЕ НА КАРТЕ
А) Берингово	1) 1
Б) Лаптевых	2) 2
В) Охотское	3) 3
	4) 4

Запишите в ответ цифры, расположив их в порядке, соответствующем буквам:

А	Б	В

2. Установите соответствие между морем и его расположением на карте, обозначенным цифрой: к каждому элементу первого столбца подберите соответствующий элемент из второго и внесите в строку ответов выбранные цифры в правильной последовательности.



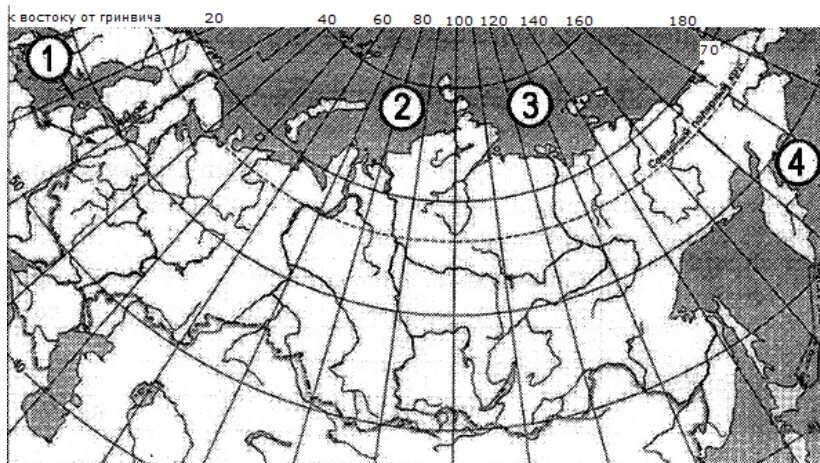
Карта составлена по состоянию на 01.01.2014

МОРЕ	РАСПОЛОЖЕНИЕ НА КАРТЕ
А) Берингово	1) 1
Б) Лаптевых	2) 2
В) Восточно-Сибирское	3) 3
	4) 4

Запишите в ответ цифры, расположив их в порядке, соответствующем буквам:

А	Б	В

3. Установите соответствие между морем и его расположением на карте, обозначенным цифрой.



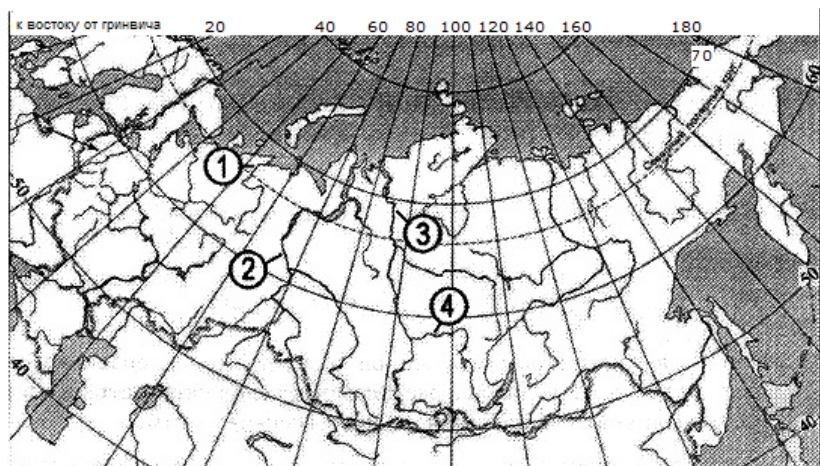
Карта составлена по состоянию на 01.01.2014

МОРЕ	РАСПОЛОЖЕНИЕ НА КАРТЕ
А) Берингово	1) 1
Б) Карское	2) 2
В) Лаптевых	3) 3
	4) 4

Запишите в ответ цифры, расположив их в порядке, соответствующем буквам:

А	Б	В

4. Установите соответствие между рекой и её расположением на карте, обозначенным цифрой.



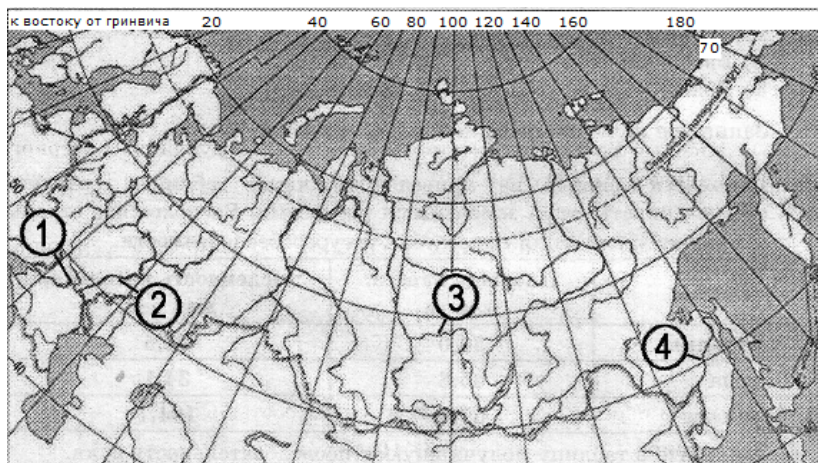
Карта составлена по состоянию на 01.01.2014

РЕКА	РАСПОЛОЖЕНИЕ НА КАРТЕ
А) Печора	1) 1
Б) Ангара	2) 2
В) Обь	3) 3
	4) 4

Запишите в ответ цифры, расположив их в порядке, соответствующем буквам:

А	Б	В

5. Установите соответствие между рекой и её расположением на карте, где она обозначена цифрой.



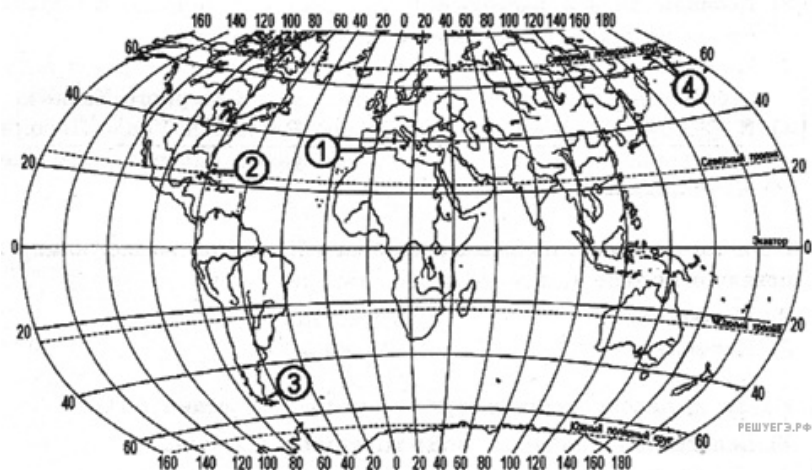
Карта составлена по состоянию на 01.01.2014

ЗАЛИВ	РАСПОЛОЖЕНИЕ НА КАРТЕ
А) Ангара	1) 1
Б) Волга	2) 2
В) Дон	3) 3
	4) 4

Запишите в ответ цифры, расположив их в порядке, соответствующем буквам:

А	Б	В

6. Установите соответствие между проливом и его расположением на карте, обозначенным цифрой.



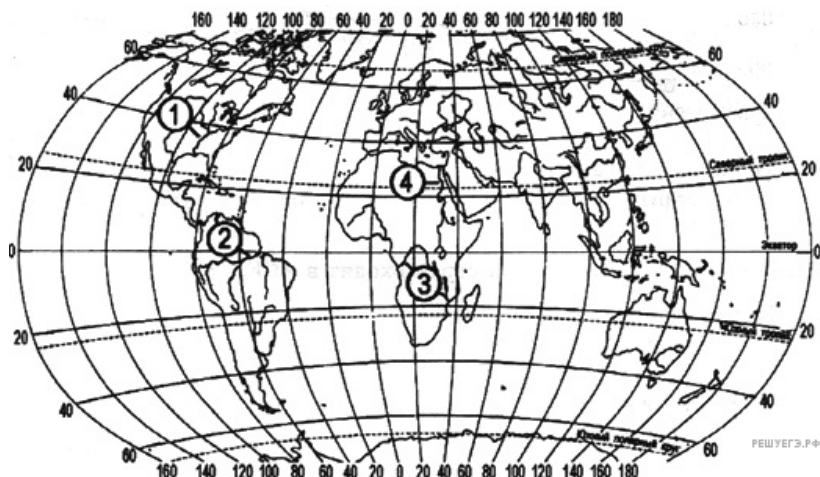
Карта составлена по состоянию на 01.01.2014

ПРОЛИВ	РАСПОЛОЖЕНИЕ НА КАРТЕ
А) Берингов	1) 1
Б) Гибралтарский	2) 2
В) Магелланов	3) 3
	4) 4

Запишите в ответ цифры, расположив их в порядке, соответствующем буквам:

А	Б	В

7. Установите соответствие между рекой и ее расположением на карте, обозначенным цифрой.



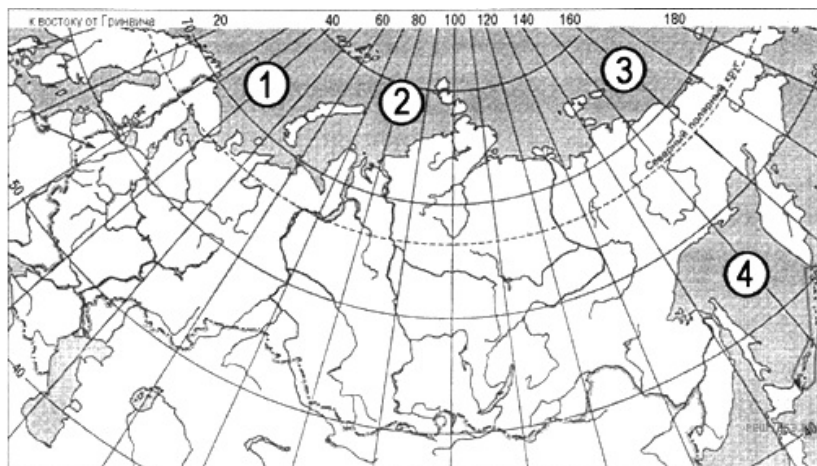
Карта составлена по состоянию на 01.01.2014

РЕКА	РАСПОЛОЖЕНИЕ НА КАРТЕ
А) Амазонка	1) 1
Б) Миссисипи	2) 2
В) Конго	3) 3
	4) 4

Запишите в ответ цифры, расположив их в порядке, соответствующем буквам:

А	Б	В

8. Установите соответствие между морем и его расположением на карте, обозначенным цифрой.



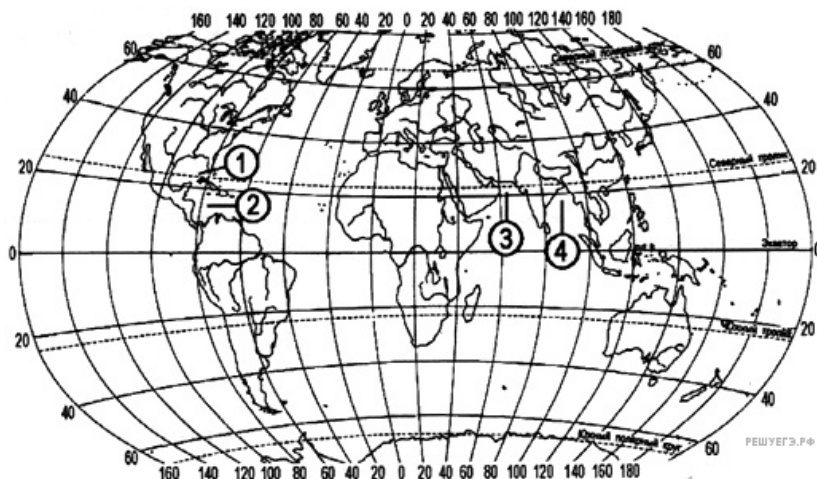
Карта составлена по состоянию на 01.01.2014

МОРЕ	РАСПОЛОЖЕНИЕ НА КАРТЕ
А) Баренцево	1) 1
Б) Восточно-Сибирское	2) 2
В) Охотское	3) 3
	4) 4

Запишите в ответ цифры, расположив их в порядке, соответствующем буквам:

А	Б	В

9. Установите соответствие между частью Мирового океана и ее расположением на карте, обозначенным цифрой.



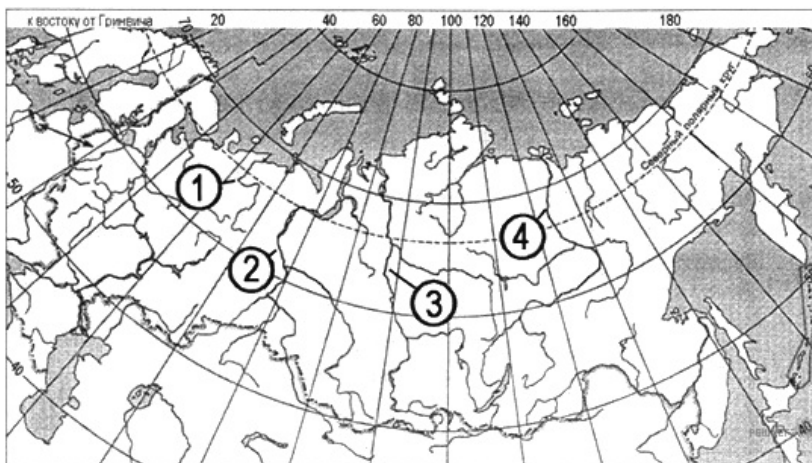
Карта составлена по состоянию на 01.01.2014

ЧАСТЬ МИРОВОГО ОКЕАНА	РАСПОЛОЖЕНИЕ НА КАРТЕ
А) Карибское море	1) 1
Б) Бенгальский залив	2) 2
В) Мексиканский залив	3) 3
	4) 4

Запишите в ответ цифры, расположив их в порядке, соответствующем буквам:

А	Б	В

10. Установите соответствие между рекой и ее расположением на карте, обозначенным цифрой.



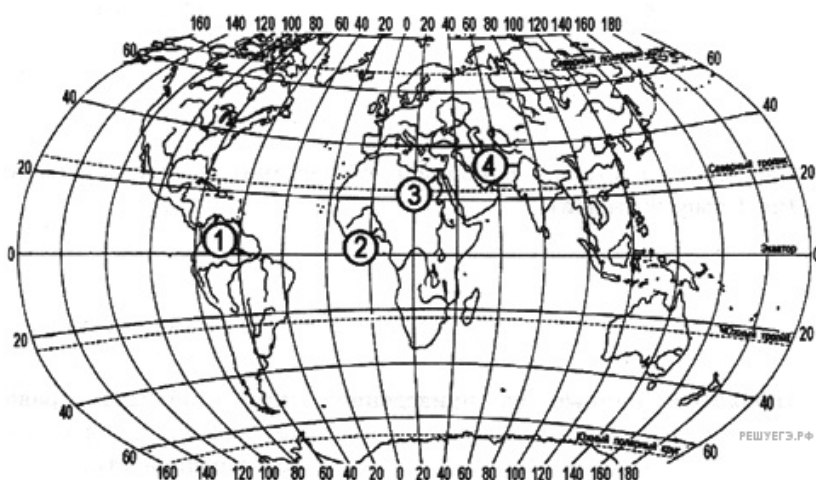
Карта составлена по состоянию на 01.01.2014

РЕКА	РАСПОЛОЖЕНИЕ НА КАРТЕ
А) Енисей	1) 1
Б) Лена	2) 2
В) Обь	3) 3
	4) 4

Запишите в ответ цифры, расположив их в порядке, соответствующем буквам:

А	Б	В

11. Установите соответствие между рекой и ее расположением на карте, обозначенным цифрой.



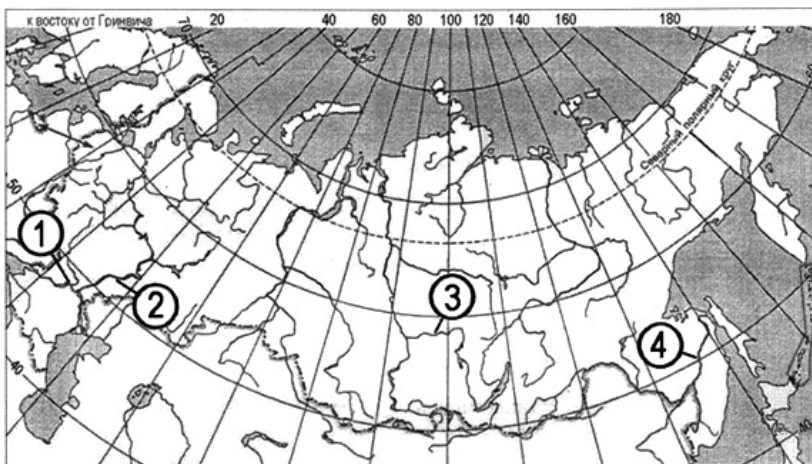
Карта составлена по состоянию на 01.01.2014

РЕКА	РАСПОЛОЖЕНИЕ НА КАРТЕ
А) Амазонка	1) 1
Б) Нил	2) 2
В) Нигер	3) 3
	4) 4

Запишите в ответ цифры, расположив их в порядке, соответствующем буквам:

А	Б	В

12. Установите соответствие между рекой и ее расположением на карте, обозначенным цифрой.



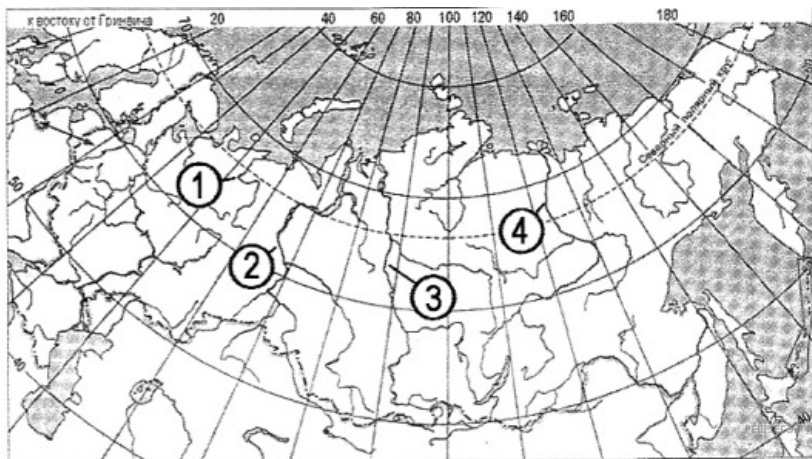
Карта составлена по состоянию на 01.01.2014

РЕКА	РАСПОЛОЖЕНИЕ НА КАРТЕ
А) Ангара	1) 1
Б) Волга	2) 2
В) Дон	3) 3
	4) 4

Запишите в ответ цифры, расположив их в порядке, соответствующем буквам:

А	Б	В

13. Установите соответствие между рекой и ее расположением на карте, обозначенным цифрой.



Карта составлена по состоянию на 01.01.2014

РЕКА	РАСПОЛОЖЕНИЕ НА КАРТЕ
А) Енисей	1) 1
Б) Лена	2) 2
В) Обь	3) 3
	4) 4

Запишите в ответ цифры, расположив их в порядке, соответствующем буквам:

А	Б	В

14. Установите соответствие между рекой и ее расположением на карте, обозначенным цифрой.



Карта составлена по состоянию на 01.01.2014

РЕКА	РАСПОЛОЖЕНИЕ НА КАРТЕ
А) Амазонка	1) 1
Б) Миссисипи	2) 2
В) Конго	3) 3
	4) 4

Запишите в ответ цифры, расположив их в порядке, соответствующем буквам:

А	Б	В

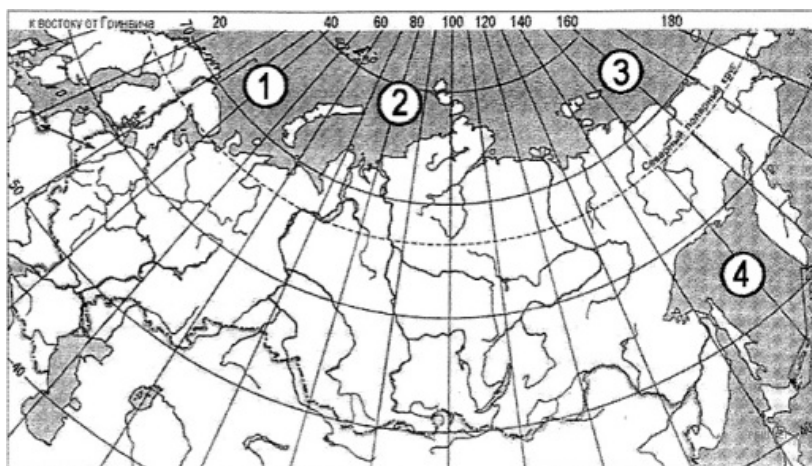
15. Установите соответствие между страной и ее столицей.

СТРАНА	СТОЛИЦА
А) Бангладеш	1) Бангкок
Б) Малайзия	2) Джакарта
В) Таиланд	3) Куала-Лумпур
	4) Дакка

Запишите в ответ цифры, расположив их в порядке, соответствующем буквам:

А	Б	В

16. Установите соответствие между морем и его расположением на карте, обозначенным цифрой.



Карта составлена по состоянию на 01.01.2014

МОРЕ	РАСПОЛОЖЕНИЕ НА КАРТЕ
А) Баренцево	1) 1
Б) Восточно-Сибирское	2) 2
В) Охотское	3) 3
	4) 4

Запишите в ответ цифры, расположив их в порядке, соответствующем буквам:

А	Б	В

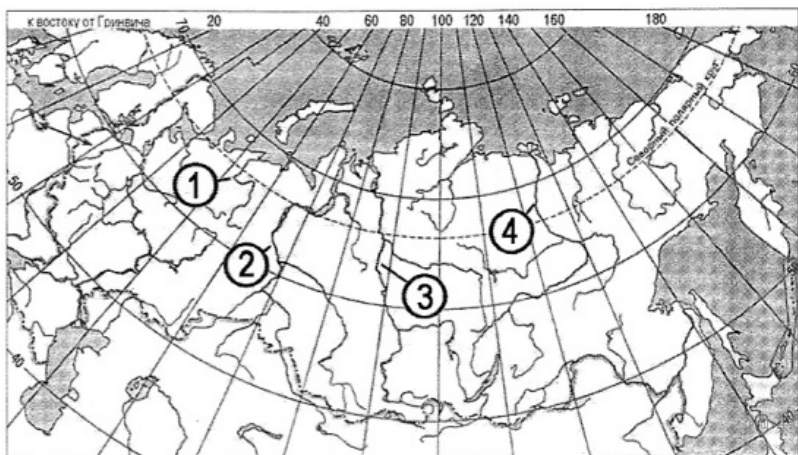
17. Установите соответствие между страной и ее столицей.

СТРАНА	РАСПОЛОЖЕНИЕ НА КАРТЕ
А) Венесуэла	1) Лима
Б) Перу	2) Каракас
В) Канада	3) Торонто
	4) Оттава

Запишите в ответ цифры, расположив их в порядке, соответствующем буквам:

А	Б	В

18. Установите соответствие между рекой и ее расположением на карте, обозначенным цифрой.



Карта составлена по состоянию на 01.01.2014

РЕКА	РАСПОЛОЖЕНИЕ НА КАРТЕ
А) Печора	1) 1
Б) Обь	2) 2
В) Енисей	3) 3
	4) 4

Запишите в ответ цифры, расположив их в порядке, соответствующем буквам:

А	Б	В

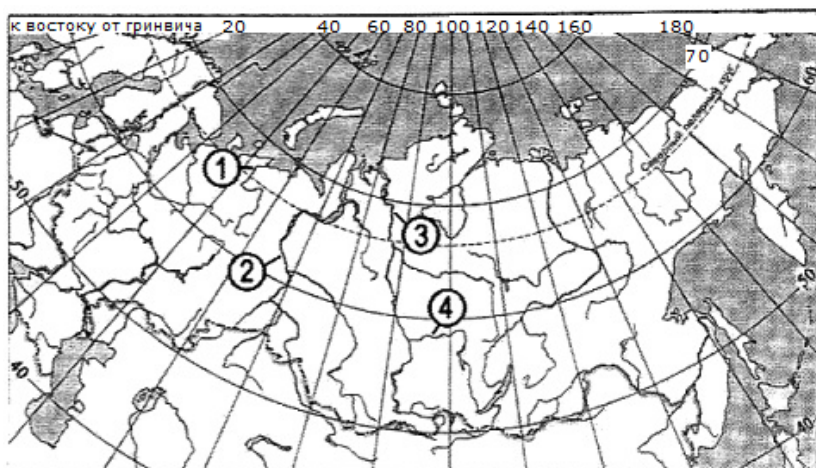
19. Установите соответствие между страной и ее столицей.

СТРАНА	РАСПОЛОЖЕНИЕ НА КАРТЕ
А) Австралия	1) Дублин
Б) Ирландия	2) Копенгаген
В) Дания	3) Канберра
	4) Веллингтон

Запишите в ответ цифры, расположив их в порядке, соответствующем буквам:

А	Б	В

20. Установите соответствие между рекой и ее расположением на карте, обозначенным цифрой.



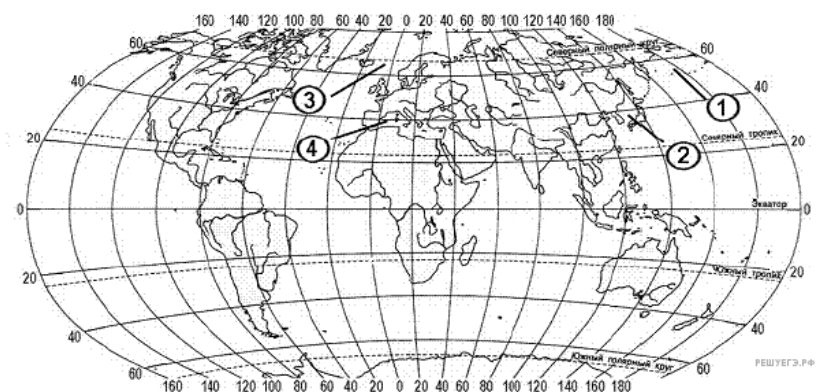
Карта составлена по состоянию на 01.01.2014

РЕКА	РАСПОЛОЖЕНИЕ НА КАРТЕ
А) Печора	1) 1
Б) Ангара	2) 2
В) Обь	3) 3
	4) 4

Запишите в ответ цифры, расположив их в порядке, соответствующем буквам:

А	Б	В

21. Установите соответствие между морем и цифрой, которой оно обозначено на карте: к каждому элементу первого столбца подберите соответствующий элемент из второго и внесите в строку ответов выбранные цифры под соответствующими буквами.



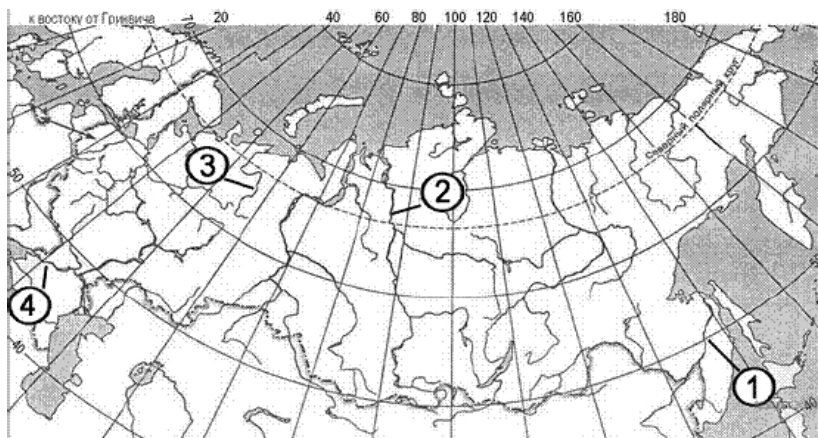
Карта составлена по состоянию на 01.01.2014

МОРЕ	РАСПОЛОЖЕНИЕ НА КАРТЕ
А) Норвежское	1) 1
Б) Берингово	2) 2
В) Японское	3) 3
	4) 4

Запишите в ответ цифры, расположив их в порядке, соответствующем буквам:

А	Б	В

22. Установите соответствие между рекой и цифрой, которой она обозначена на карте: к каждому элементу первого столбца подберите соответствующий элемент из второго и внесите в строку ответов выбранные цифры под соответствующими буквами.



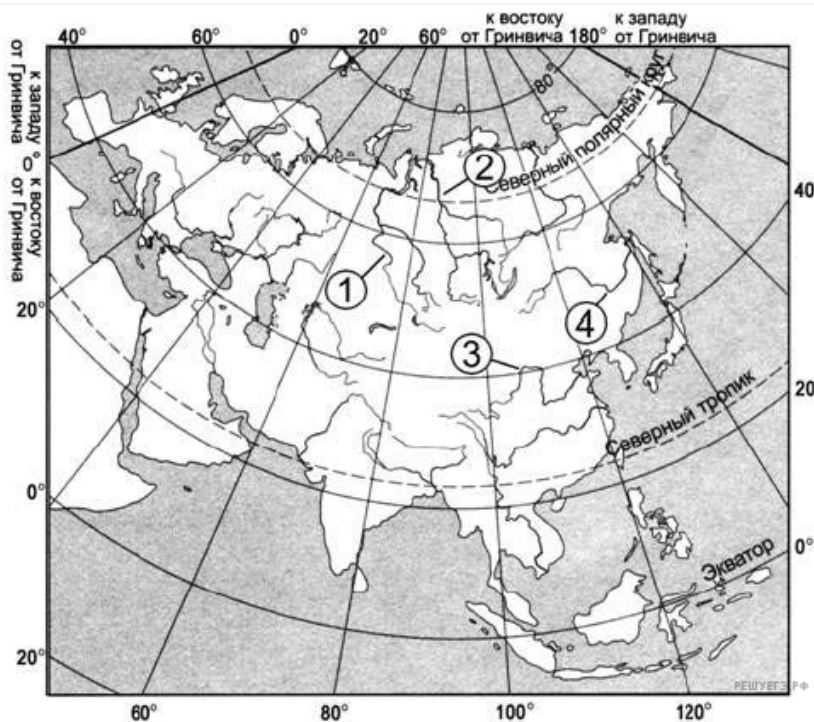
Карта составлена по состоянию на 01.01.2014

РЕКА	РАСПОЛОЖЕНИЕ НА КАРТЕ
А) Дон	1) 1
Б) Амур	2) 2
В) Енисей	3) 3
	4) 4

Запишите в ответ цифры, расположив их в порядке, соответствующем буквам:

А	Б	В

23. Установите соответствие между рекой и цифрой, которой она обозначена на карте: к каждому элементу первого столбца подберите соответствующий элемент из второго и внесите в строку ответов выбранные цифры под соответствующими буквами.



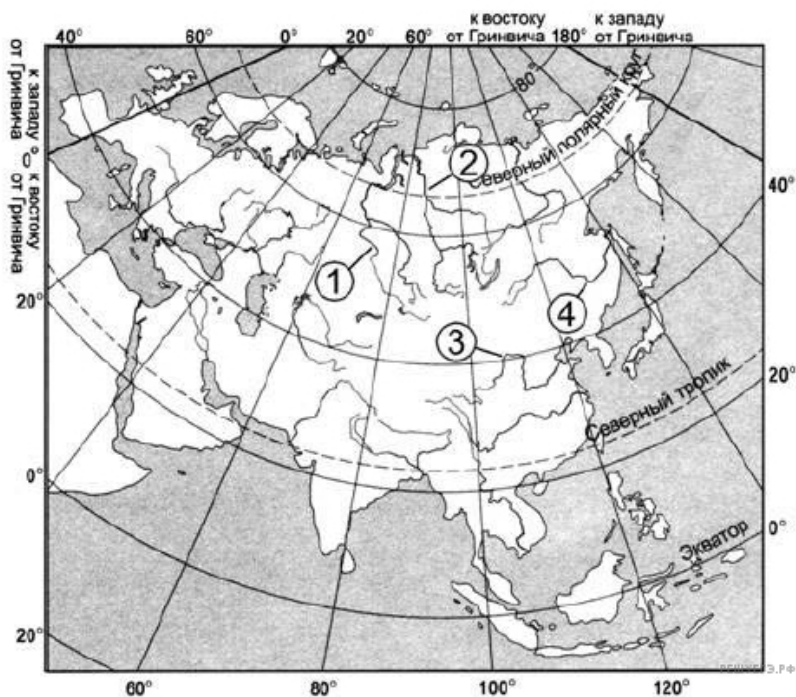
Карта составлена по состоянию на 01.01.2014

РЕКА	РАСПОЛОЖЕНИЕ НА КАРТЕ
А) Амур	1) 1
Б) Енисей	2) 2
В) Хуанхэ	3) 3
	4) 4

Запишите в ответ цифры, расположив их в порядке, соответствующем буквам:

А	Б	В

24. Установите соответствие между рекой и цифрой, которой она обозначена на карте: к каждому элементу первого столбца подберите соответствующий элемент из второго и внесите в строку ответов выбранные цифры под соответствующими буквами.



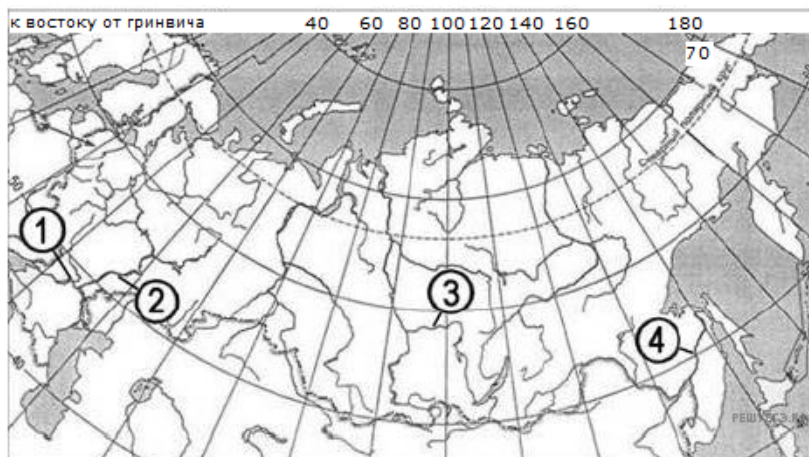
Карта составлена по состоянию на 01.01.2014

РЕКА	РАСПОЛОЖЕНИЕ НА КАРТЕ
А) Енисей	1) 1
Б) Амур	2) 2
В) Иртыш	3) 3
	4) 4

Запишите в ответ цифры, расположив их в порядке, соответствующем буквам:

А	Б	В

25. Установите соответствие между рекой и цифрой, которой она обозначено на карте: к каждому элементу первого столбца подберите соответствующий элемент из второго и внесите в строку ответов выбранные цифры под соответствующими буквами.



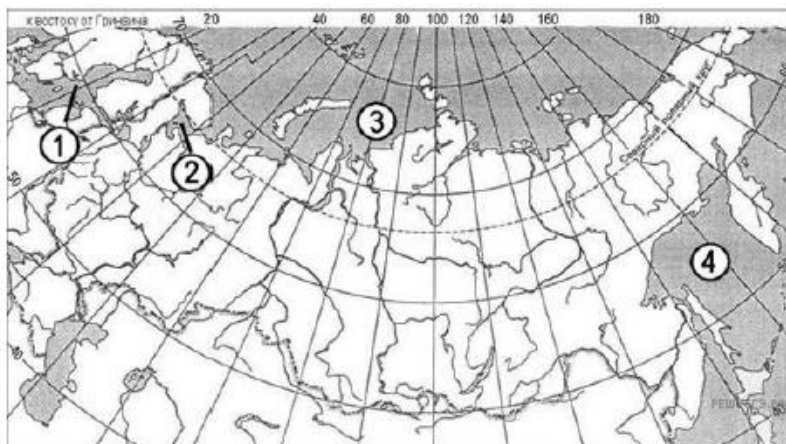
Карта составлена по состоянию на 01.01.2014

РЕКА	РАСПОЛОЖЕНИЕ НА КАРТЕ
А) Ангара	1) 1
Б) Дон	2) 2
В) Волга	3) 3
	4) 4

Запишите в ответ цифры, расположив их в порядке, соответствующем буквам:

А	Б	В

26. Установите соответствие между морем и цифрой, которой оно обозначено на карте: к каждому элементу первого столбца подберите соответствующий элемент из второго и внесите в строку ответов выбранные цифры под соответствующими буквами.



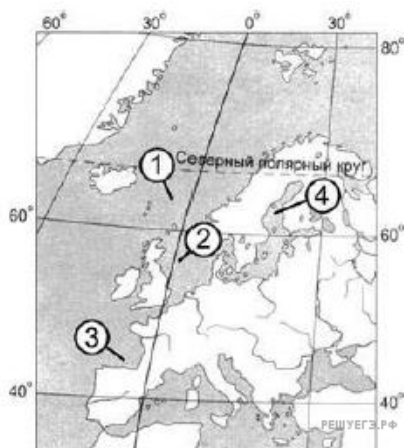
Карта составлена по состоянию на 01.01.2014

МОРЕ	РАСПОЛОЖЕНИЕ НА КАРТЕ
А) Белое	1) 1
Б) Карское	2) 2
В) Охотское	3) 3
	4) 4

Запишите в ответ цифры, расположив их в порядке, соответствующем буквам:

А	Б	В

27. Установите соответствие между частью Атлантического океана и цифрой, которой она обозначена на карте: к каждому элементу первого столбца подберите соответствующий элемент из второго и внесите в строку ответов выбранные цифры под соответствующими буквами.



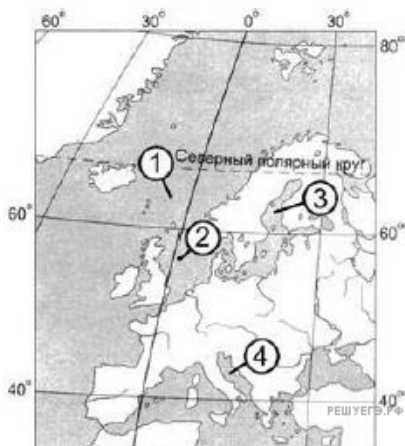
Карта составлена по состоянию на 01.01.2014

ЧАСТЬ ОКЕАНА	РАСПОЛОЖЕНИЕ НА КАРТЕ
А) Северное море	1) 1
Б) Норвежское море	2) 2
В) Бискайский залив	3) 3
	4) 4

Запишите в ответ цифры, расположив их в порядке, соответствующем буквам:

А	Б	В

28. Установите соответствие между морем, являющимся частью Атлантического океана, и цифрой, которой она обозначена на карте: к каждому элементу первого столбца подберите соответствующий элемент из второго и внесите в строку ответов выбранные цифры под соответствующими буквами.



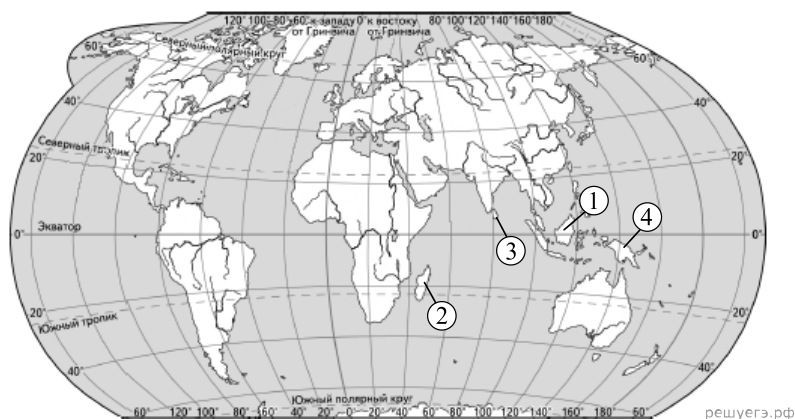
Карта составлена по состоянию на 01.01.2014

МОРЕ	РАСПОЛОЖЕНИЕ НА КАРТЕ
А) Норвежское	1) 1
Б) Северное	2) 2
В) Адриатическое	3) 3
	4) 4

Запишите в ответ цифры, расположив их в порядке, соответствующем буквам:

А	Б	В

29. Установите соответствие между островом и цифрой, которым он обозначен на карте: к каждому элементу первого столбца подберите соответствующий элемент из второго столбца.



Карта составлена по состоянию на 01.01.2023

Остров	ОБОЗНАЧЕНИЕ НА КАРТЕ
А) Шри-Ланка	1) 1
Б) Мадагаскар	2) 2
В) Калимантан	3) 3
	4) 4

Запишите в ответ цифры, расположив их в порядке, соответствующем буквам:

А	Б	В

30. Расположите перечисленные равнины с запада на восток в том порядке, в котором они располагаются на карте России, начиная с самой западной.

1. Западно-Сибирская равнина.
2. Восточно-Европейская равнина.
3. Среднесибирское плоскогорье.

Запишите в таблицу получившуюся последовательность цифр.

31. Расположите перечисленные острова с севера на юг в том порядке, в котором они располагаются на карте мира, начиная с самого северного.

1. Мадагаскар.
2. Огненная Земля.
3. Суматра.

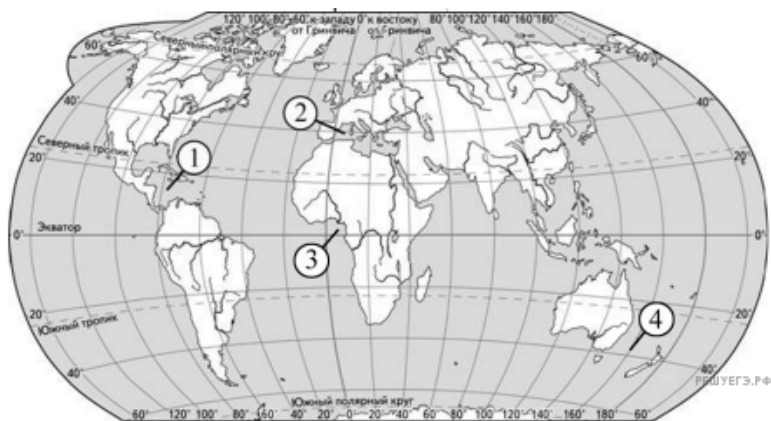
Запишите в таблицу получившуюся последовательность цифр.

32. Расположите перечисленные реки с запада на восток в том порядке, в котором они располагаются на карте мира, начиная с самой западной.

1. Нил.
2. Меконг.
3. Брахмапутра.

Запишите в таблицу получившуюся последовательность цифр.

33. Установите соответствие между частью Мирового океана и её обозначением на карте мира: к каждому элементу первого столбца подберите соответствующий элемент из второго столбца.



Карта составлена по состоянию на 01.01.2024

ЧАСТЬ МИРОВОГО ОКЕАНА

- А) Гвинейский залив
- Б) Карибское море
- В) Тасманово море

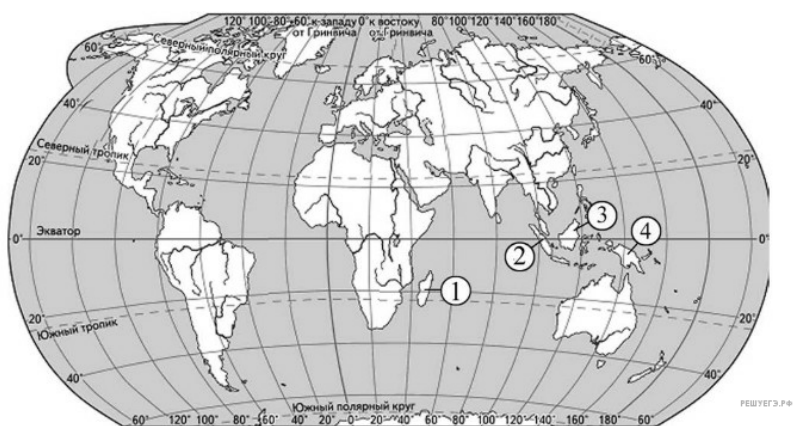
ОБОЗНАЧЕНИЕ НА КАРТЕ

- 1) 1
- 2) 2
- 3) 3
- 4) 4

Запишите в таблицу выбранные цифры под соответствующими буквами.

А	Б	В

34. Установите соответствие между островом и его обозначением на карте мира: к каждому элементу первого столбца подберите соответствующий элемент из второго столбца.



Карта составлена по состоянию на 01.01.2024

ОСТРОВ

- А) Калимантан
- Б) Мадагаскар
- В) Суматра

ОБОЗНАЧЕНИЕ НА КАРТЕ

- 1) 1
- 2) 2
- 3) 3
- 4) 4

Запишите в таблицу выбранные цифры под соответствующими буквами.

А	Б	В

35. Установите соответствие между островом и его обозначением на карте Европы: к каждому элементу первого столбца подберите соответствующий элемент из второго столбца.



Карта составлена по состоянию на 01.01.2024

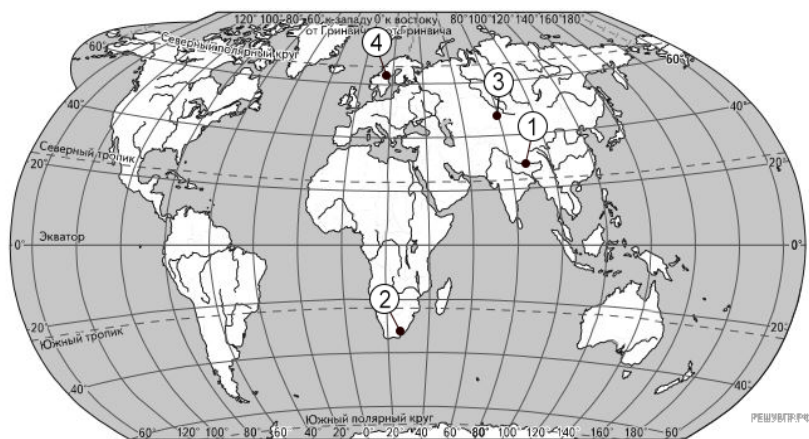
ОСТРОВ

- 1) Сардиния
- 2) Ирландия
- 3) Исландия

ОБОЗНАЧЕНИЕ

- 1) 1
- 2) 2
- 3) 3
- 4) 4

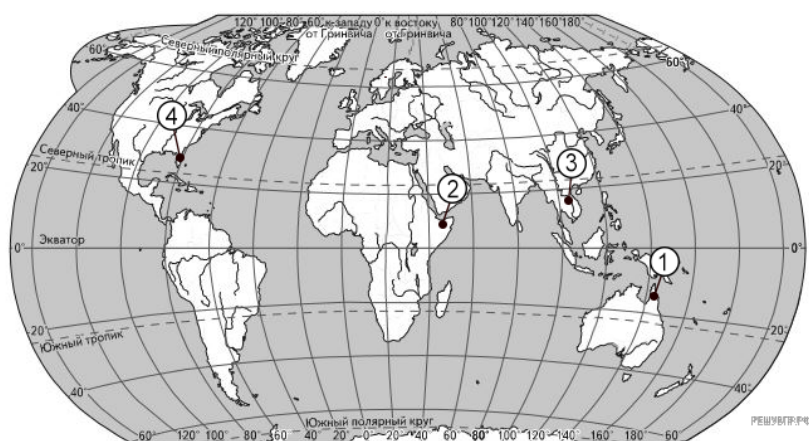
36. Соотнесите горные системы и их обозначения на карте.



Карта составлена по состоянию на 01.01.2024

- А) Гималаи
- Б) Скандинавские горы
- В) Тянь-Шань

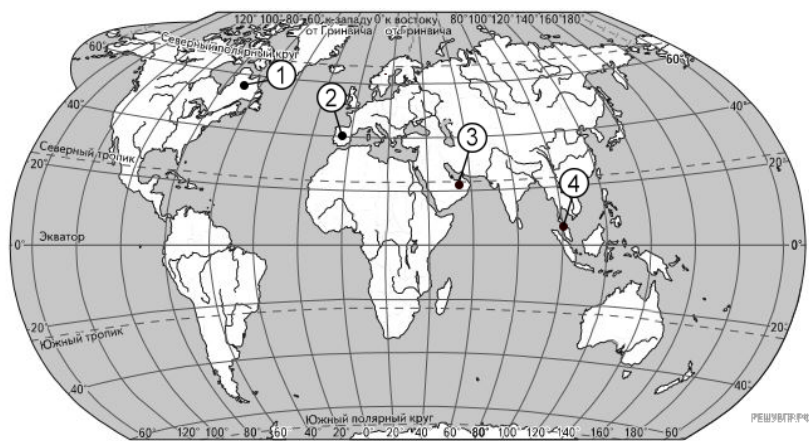
37. Соотнесите полуострова и их обозначения на карте.



Карта составлена по состоянию на 01.01.2024

- А) Кейп-Йорк
- Б) Флорида
- В) Индокитай

38. Установите соответствие между полуостровом и его обозначением на карте мира.



Карта составлена по состоянию на 01.01.2024

ПОЛУОСТРОВ

- А) Пиренейский
- Б) Малакка
- В) Лабрадор

ОБОЗНАЧЕНИЕ НА КАРТЕ

- 1) 1
- 2) 2
- 3) 3
- 4) 4

39. Расположите перечисленные моря с запада на восток в том порядке, в котором они располагаются на карте мира в справочных материалах, начиная с самого западного.

- 1) Карское
- 2) Лаптевых
- 3) Берингово

Запишите получившуюся последовательность цифр.

40. Установите соответствие между островом и его обозначением на карте Евразии: к каждому элементу первого столбца подберите соответствующий элемент из второго столбца.



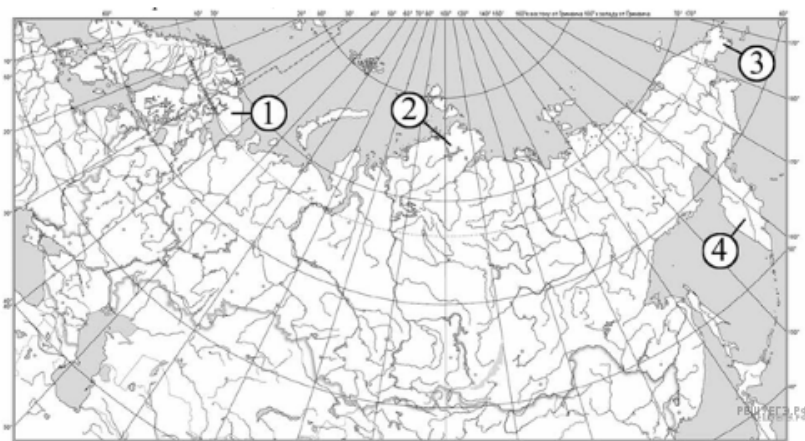
Карта составлена по состоянию на 01.01.2025

ОСТРОВ	ОБОЗНАЧЕНИЕ НА КАРТЕ
А) Сахалин	1) 1
Б) Хонсю	2) 2
В) Шри-Ланка	3) 3
	4) 4

Запишите в ответ цифры, расположив их в порядке, соответствующем буквам:

А	Б	В

41. Установите соответствие между полуостровом и его обозначением на карте России: к каждому элементу первого столбца подберите соответствующий элемент из второго столбца.



ПОЛУОСТРОВ

- А) Таймыр
- Б) Чукотский
- В) Камчатка

ОБОЗНАЧЕНИЕ НА КАРТЕ

- 1) 1
- 2) 2
- 3) 3
- 4) 4

Запишите в таблицу выбранные цифры под соответствующими буквами.

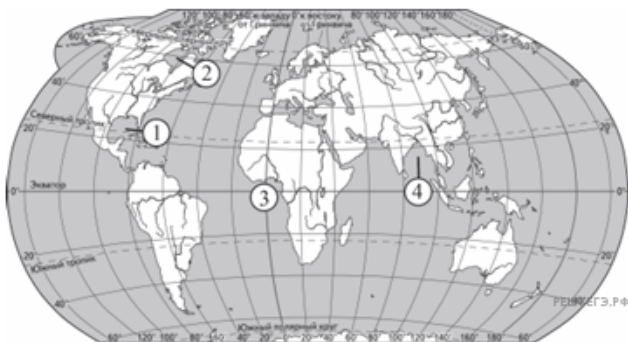
А	Б	В

42. Расположите перечисленные проливы с запада на восток в том порядке, в котором они располагаются на карте Евразии, начиная с самого западного.

- 1) Босфор
- 2) Гибралтарский
- 3) Лаперуза

Запишите в получившуюся последовательность цифр.

43. Установите соответствие между заливом и его обозначением на карте мира: к каждому элементу первого столбца подберите соответствующий элемент из второго столбца.



Карта составлена по состоянию на 01.01.2025

ЗАЛИВ	ОБОЗНАЧЕНИЕ НА КАРТЕ
А) Бенгальский	1) 1
Б) Гвинейский	2) 2
В) Гудзонов	3) 3
	4) 4

Запишите в таблицу выбранные цифры под соответствующими буквами.

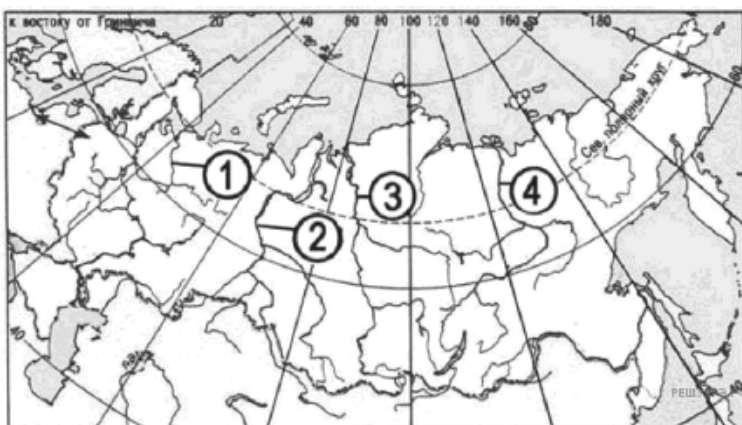
А	Б	В

44. Расположите перечисленные горные системы с запада на восток в том порядке, в котором они расположены на карте Евразии, начиная с самой западной.

- 1) Тянь-Шань
- 2) Сихотэ-Алинь
- 3) Пиренеи

Запишите в таблицу получившуюся последовательность цифр.

45. Установите соответствие между рекой и её обозначением на карте России: к каждому элементу первого столбца подберите соответствующий элемент из второго столбца.



Карта составлена по состоянию на 01.01.2014

РЕКА	ОБОЗНАЧЕНИЕ НА КАРТЕ
А) Енисей	1) 1
Б) Обь	2) 2
В) Северная Двина	3) 3
	4) 4

Запишите в таблицу выбранные цифры под соответствующими буквами.

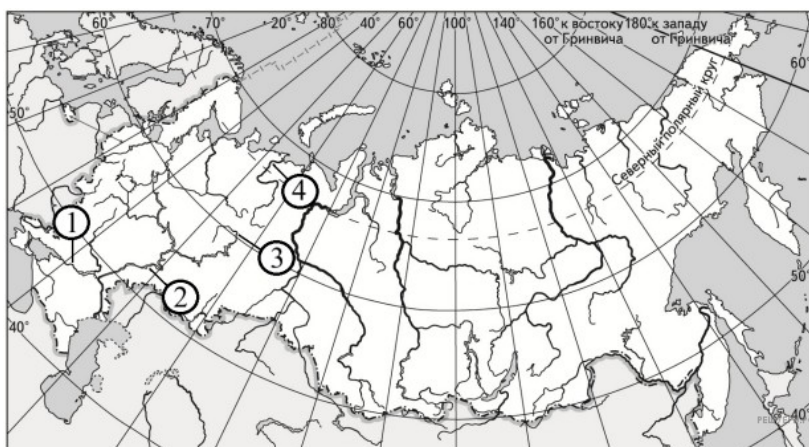
А	Б	В

46. Расположите перечисленные острова с запада на восток в том порядке, в котором они располагаются на карте мира в справочных материалах, начиная с самого западного.

- 1) Кипр
- 2) Ньюфаундленд
- 3) Хоккайдо

Запишите в таблицу получившуюся последовательность цифр.

47. Установите соответствие между рекой и её обозначением на карте России: к каждому элементу первого столбца подберите соответствующий элемент из второго столбца.



Карта составлена по состоянию на 01.01.2014

РЕКА	ОБОЗНАЧЕНИЕ НА КАРТЕ
А) Волга	1) 1
Б) Дон	2) 2
В) Печора	3) 3
	4) 4

Запишите в таблицу выбранные цифры под соответствующими буквами.

А	Б	В