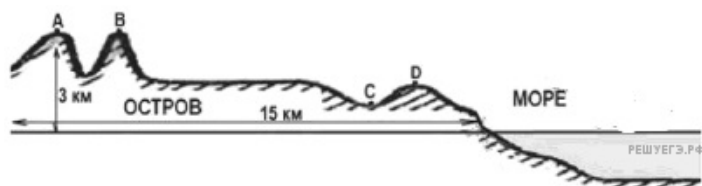


1. Какой буквой на рисунке обозначен пункт, в котором будет наблюдаться наибольшее атмосферное давление?

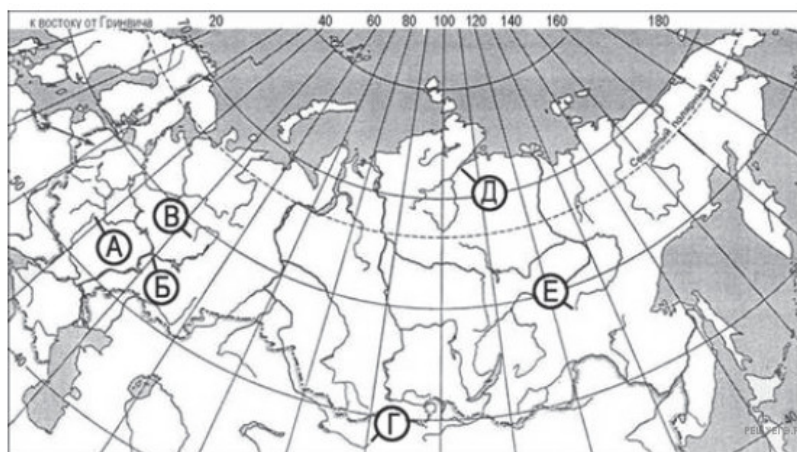


- 1) А
- 2) В
- 3) С
- 4) D

2. К какой группе горных пород по происхождению относится мрамор?

1. Магматическим
2. Осадочным химическим
3. Метаморфическим
4. Осадочным органическим

3. Какими буквами на карте обозначены устья рек?



- 1) А и В
- 2) Б и Д
- 3) Г и Д
- 4) А и Е


4. Как изменяются температура воздуха и атмосферное давление в тропосфере с увеличением высоты?

1. Температура повышается, давление понижается
2. Температура понижается, давление повышается
3. Температура понижается, давление понижается
4. Температура повышается, давление повышается

5. Как называется ближайший к земной поверхности слой атмосферы?

1. Ионосфера
2. Термосфера
3. Тропосфера
4. Озонсфера

6. На какой диаграмме правильно показано соотношение пресных и соленых вод в гидросфере? (Доля солёных вод показана тёмным цветом.)



- 1) 1
- 2) 2
- 3) 3
- 4) 4

7. Какая из перечисленных горных пород относится к числу водоупорных?

1. Песок
2. Глина
3. Известняк
4. Гравий

8. Пассатами называют постоянные ветры, дующие

- 1) от тропиков к экватору
- 2) от экватора к тропикам
- 3) с материков на океан
- 4) с океана на материки

9. Бризами называют ветры, дующие

- 1) летом от тропиков к экватору
- 2) зимой от экватора к тропикам
- 3) летом с океана на материки
- 4) ночью с суши на море, а днём с моря на сушу

10. Какая из перечисленных горных пород является осадочной по происхождению?

1. Гранит
2. Базальт
3. Кварцит
4. Песок

11. Как изменяются температура воздуха и атмосферное давление в тропосфере с увеличением высоты?

1. Температура повышается, давление понижается
2. Температура понижается, давление повышается
3. Температура понижается, давление понижается
4. Температура повышается, давление повышается

12.

Суша по сравнению с океаном

- 1) быстрее нагревается и остывает
- 2) быстрее нагревается и медленнее остывает
- 3) медленнее нагревается и быстрее остывает
- 4) медленнее нагревается и остывает

13. Какая из перечислены горных пород является метаморфической?

1. Мрамор
2. Песок
3. Гранит
4. Калийная соль

14. Какая из перечислены горных пород является обломочной по происхождению?

1. Гранит
2. Базальт
3. Кварцит
4. Песок

15. Какая из перечисленных горных пород имеет магматическое происхождение?

1. Известняк
2. Гипс
3. Глинистый сланец
4. Гранит

16. Какая из перечисленных горных пород имеет магматическое происхождение?

1. Мрамор
2. Известняк
3. Песчаник
4. Габбро

17. Какая из перечисленных горных пород является магматической?

1. Каменный уголь
2. Песчаник
3. Гранит
4. Мрамор

18. Какая из перечисленных горных пород является метаморфической?

1. Глина
2. Базальт
3. Мрамор
4. Гранит

19. Какая из перечисленных горных пород образуется в результате застывания магмы?

1. Базальт
2. Известняк
3. Каменная соль
4. Мрамор

20. Воды какого из перечисленных морей **наименее** солёные?

- 1) Балтийское
- 2) Баренцево
- 3) Средиземное
- 4) Аравийское

21. В каком из перечисленных слоёв атмосферы плотность воздуха наибольшая?

1. Стратосфера
2. Тропосфера
3. Мезосфера
4. Экзосфера

22. Студенты на экскурсии собрали образцы горных пород. В них были заметны вкрапления окаменевших раковин моллюсков. Образцы какой горной породы собрали студенты?

1. Пемза
2. Гранит
3. Известняк
4. Базальт

