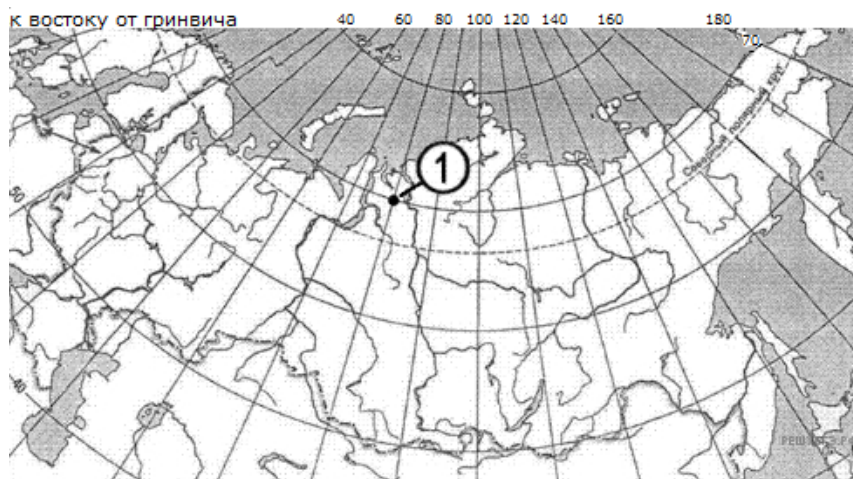
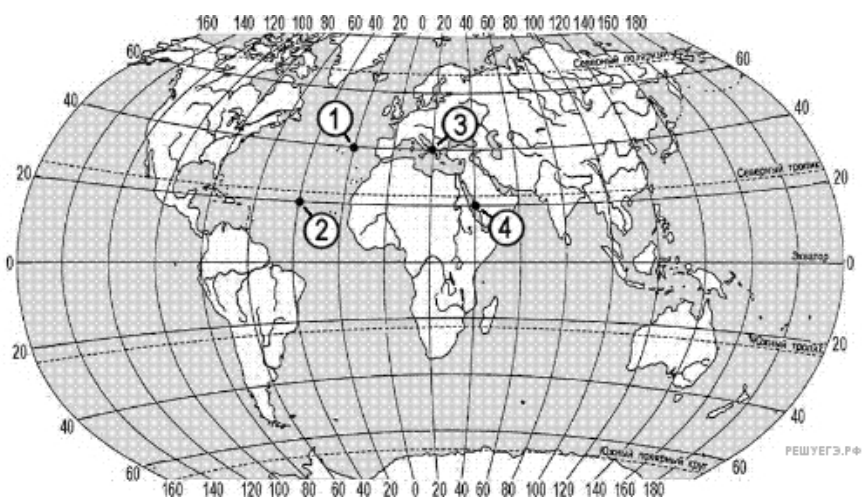


1. Какие географические координаты имеет точка, обозначенная на карте цифрой 1?



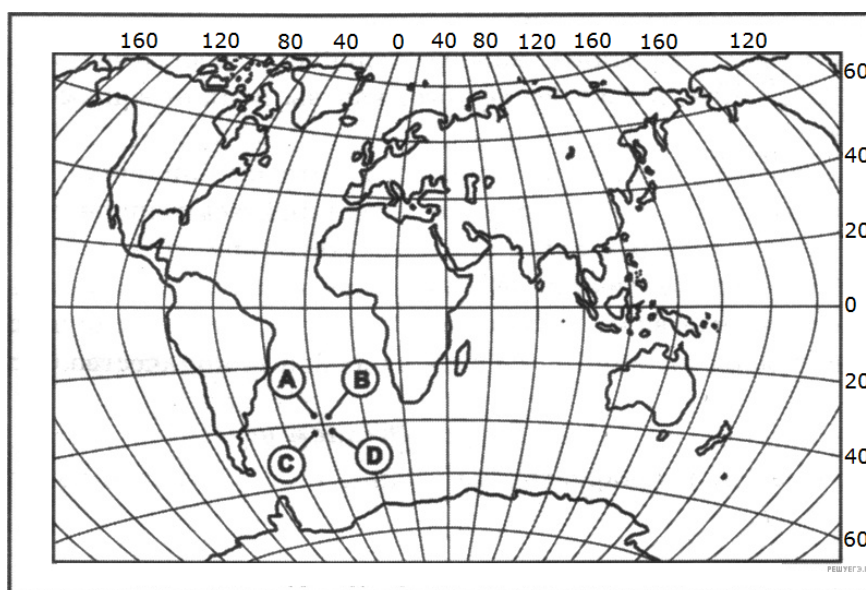
1. 70° с. ш. и 80° з. д.
2. 80° с. ш. и 70° з. д.
3. 70° с. ш. и 80° в. д.
4. 80° с. ш. и 70° в. д.

2. Какой цифрой на карте мира обозначена точка с географическими координатами 20° с. ш. и 40° в. д.?



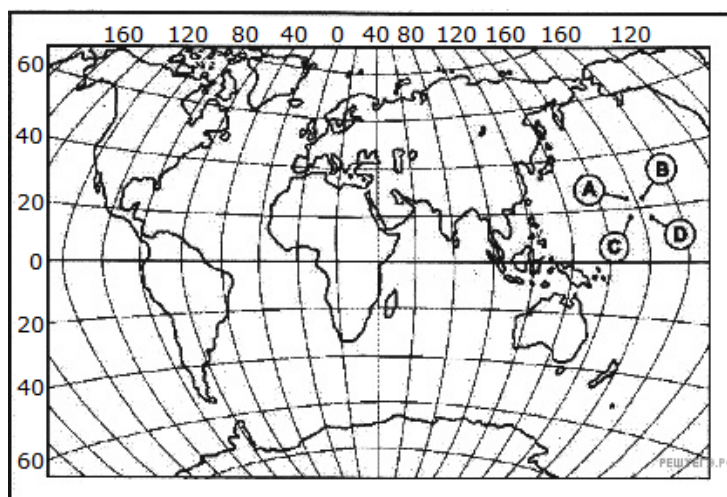
1. 1;
2. 2;
3. 3;
4. 4.

3. Какой буквой на карте мира обозначена точка, имеющая координаты 35° ю. ш. и 17° з. д.?



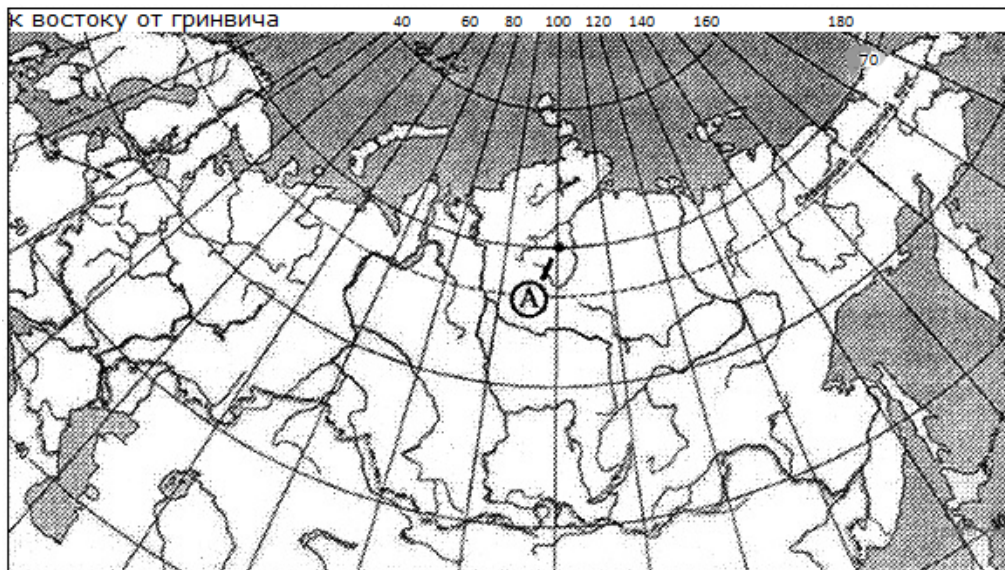
1. A;
2. B;
3. C;
4. D.

4. Какой буквой на карте мира обозначена точка, имеющая координаты 24° с. ш. и 176° в. д.?



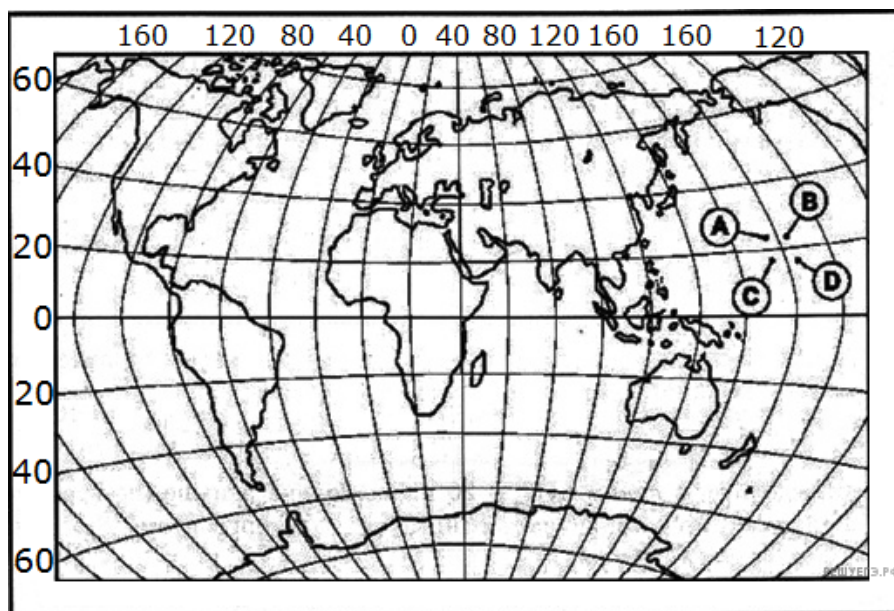
1. A;
2. B;
3. C;
4. D.

5. Какие географические координаты имеет точка, обозначенная на карте буквой А?



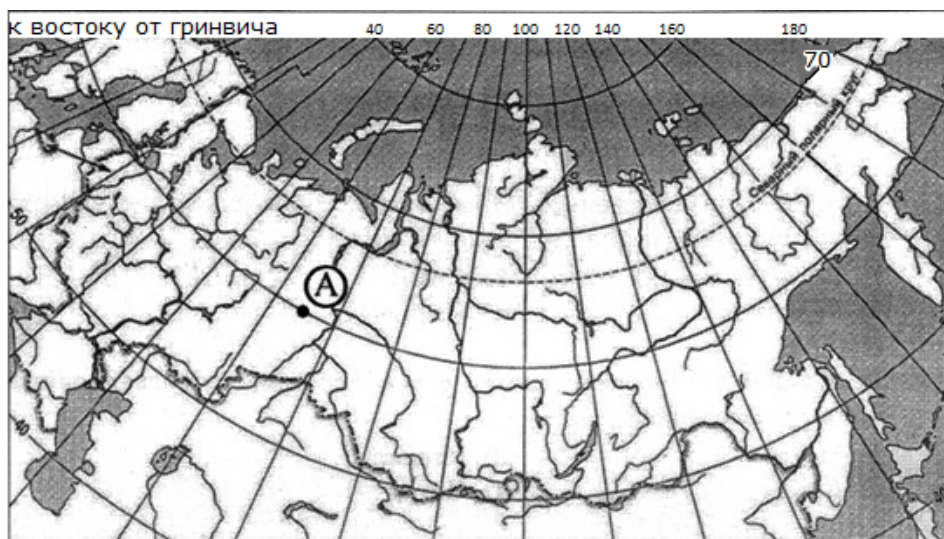
1. 70° с. ш. и 100° з. д.
2. 100° с. ш. и 70° з. д.
3. 100° с. ш. и 70° в. д.
4. 70° с. ш. и 100° в. д.

6. Какой буквой на карте мира обозначена точка, имеющая координаты 24° с. ш. и 175° з. д.?



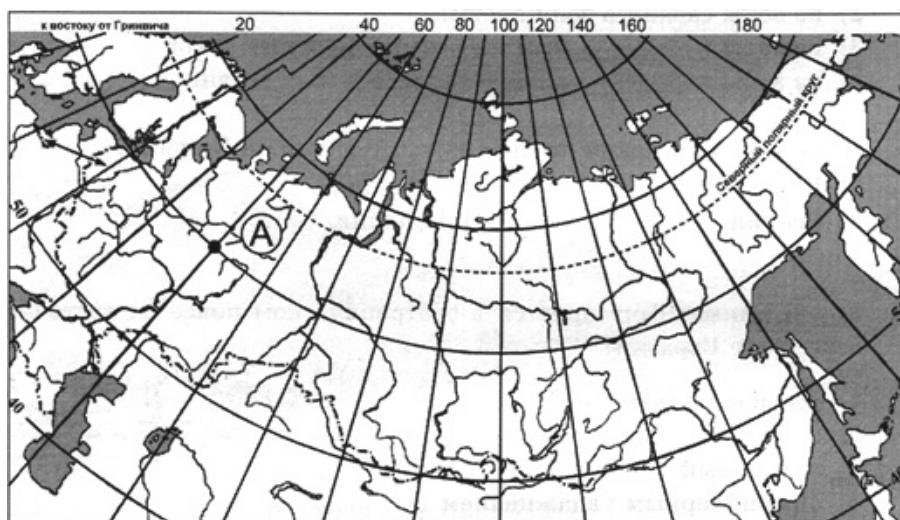
1. А;
2. В;
3. С;
4. D.

7. Какие географические координаты имеет точка, обозначенная на карте буквой А?



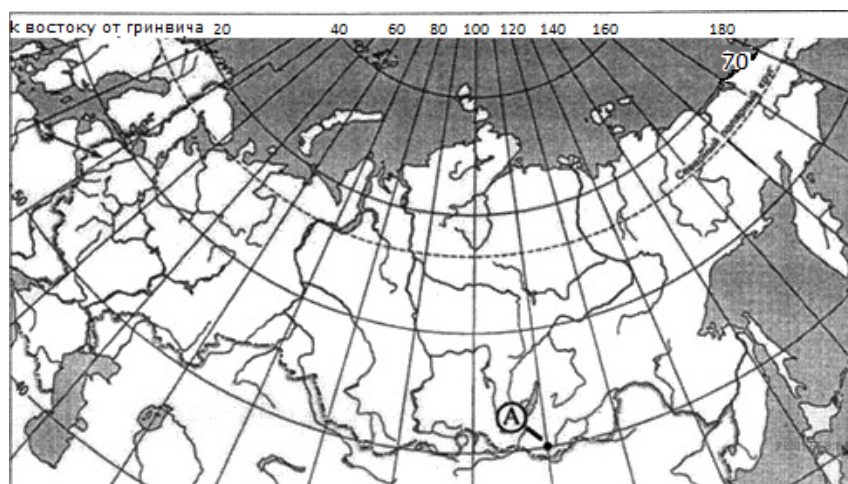
1. 65° с. ш. и 60° в. д.
2. 65° с. ш. и 60° з. д.
3. 60° с. ш. и 65° в. д.
4. 60° с. ш. и 65° з. д.

8. Какие географические координаты имеет точка, обозначенная на карте буквой А?



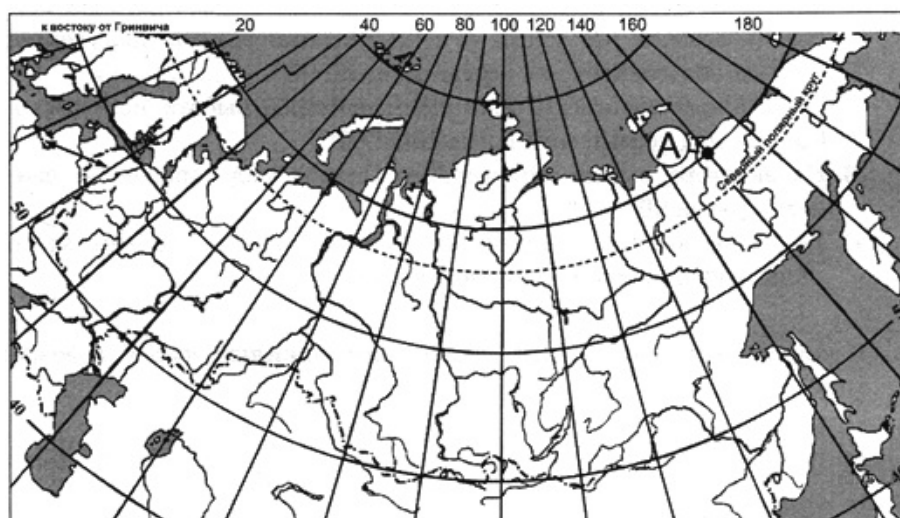
1. 60° с. ш. и 50° в. д.
2. 50° с. ш. и 60° з. д.
3. 50° с. ш. и 60° в. д.
4. 60° с. ш. и 50° з. д.

9. Какие географические координаты имеет точка, обозначенная на карте буквой А?



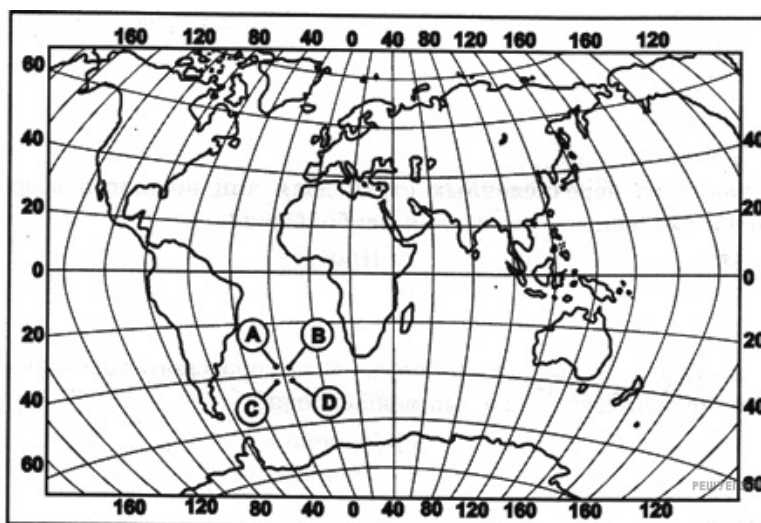
1. 110° с. ш. и 50° в. д.
2. 50° с. ш. и 110° з. д.
3. 50° с. ш. и 110° в. д.
4. 110° с. ш. и 50° з. д.

10. Какие географические координаты имеет точка, обозначенная на карте буквой А?



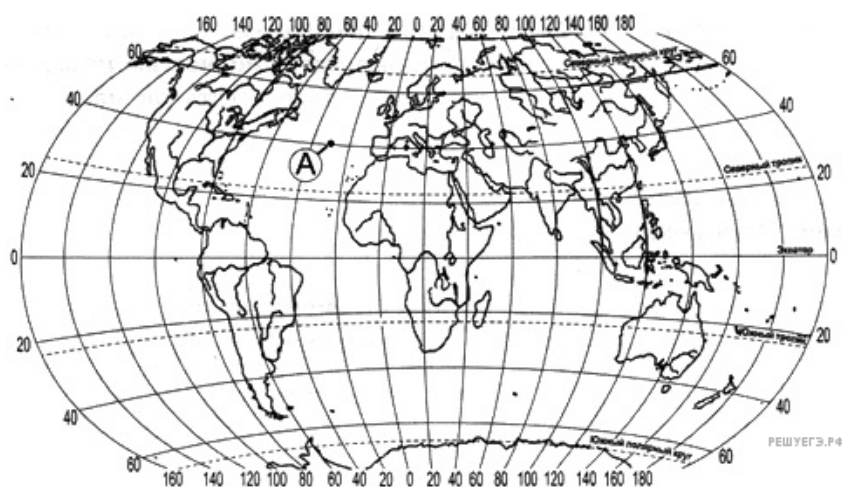
1. 70° с. ш. и 150° в. д.
2. 150° с. ш. и 70° з. д.
3. 150° с. ш. и 70° в. д.
4. 70° с. ш. и 50° з. д.

11. Какой буквой на карте мира обозначена точка, имеющая координаты 35° ю. ш. и 25° з. д.?



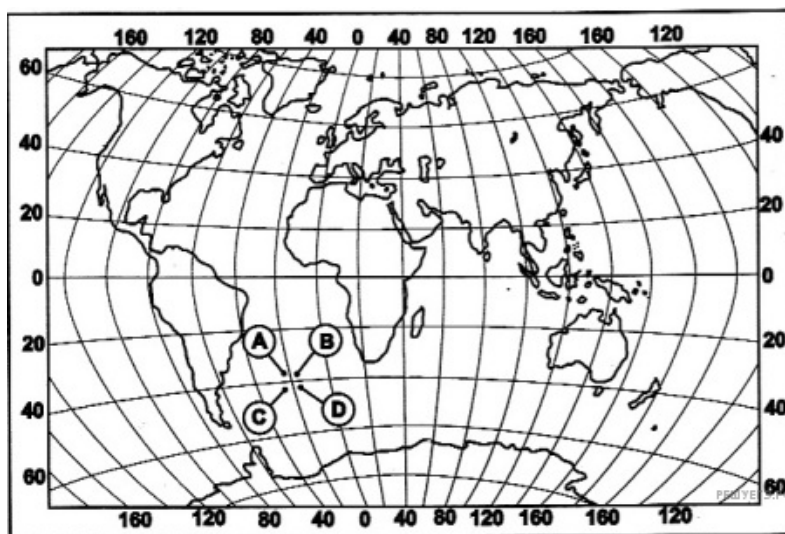
1. A;
2. B;
3. C;
4. D.

12. Какие географические координаты имеет точка, обозначенная на карте буквой А?



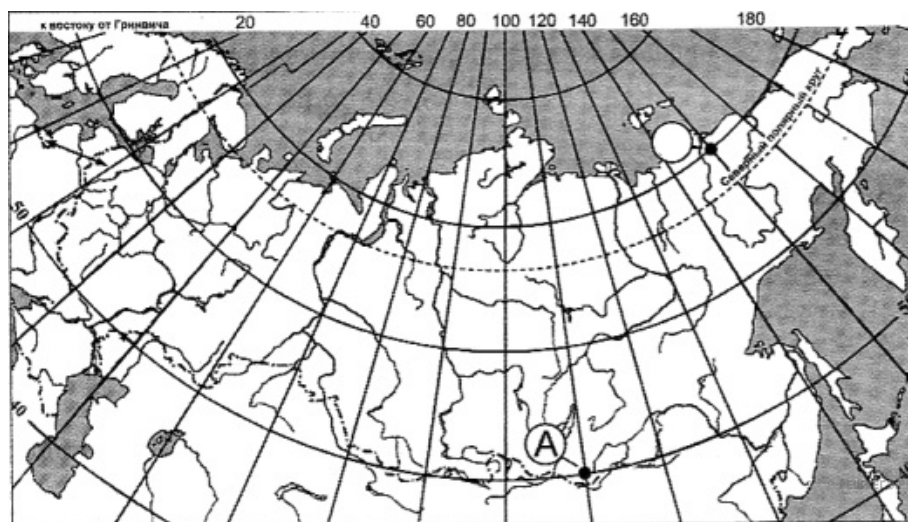
1. 40° с. ш. и 30° з. д.
2. 40° с. ш. и 30° в. д.
3. 30° с. ш. и 40° в. д.
4. 30° с. ш. и 40° з. д.

13. Какой буквой на карте мира обозначена точка, имеющая координаты 45° ю. ш. и 17° з. д.?



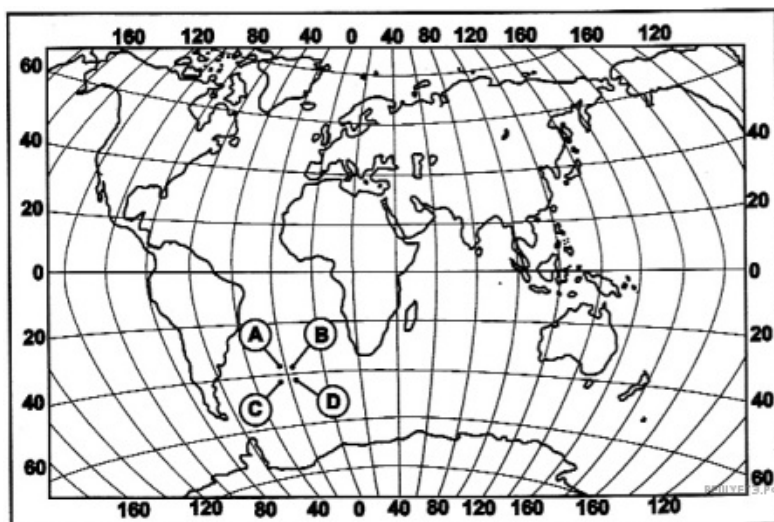
1. A;
2. B;
3. C;
4. D.

14. Какие географические координаты имеет точка, обозначенная на карте буквой А?



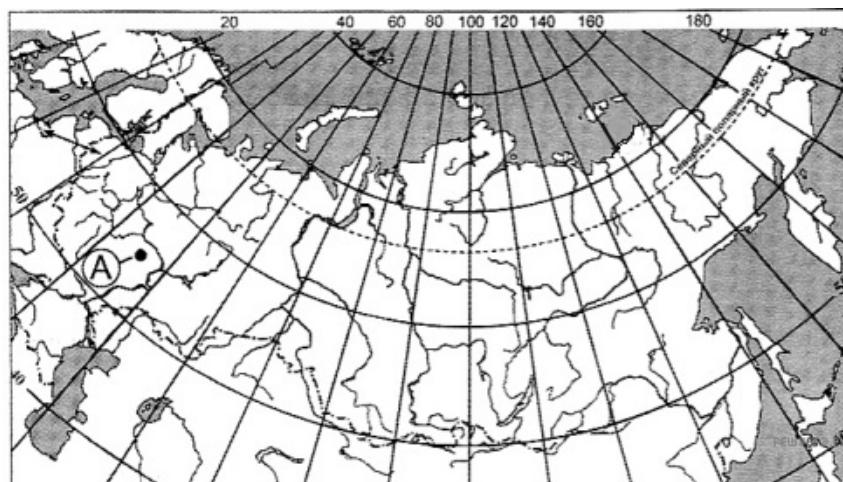
1. 110° с. ш. и 50° в. д.
2. 50° с. ш. и 110° з. д.
3. 50° с. ш. и 110° в. д.
4. 110° с. ш. и 50° з. д.

15. Какой буквой на карте мира обозначена точка, имеющая координаты 45° ю. ш. и 25° з. д.?



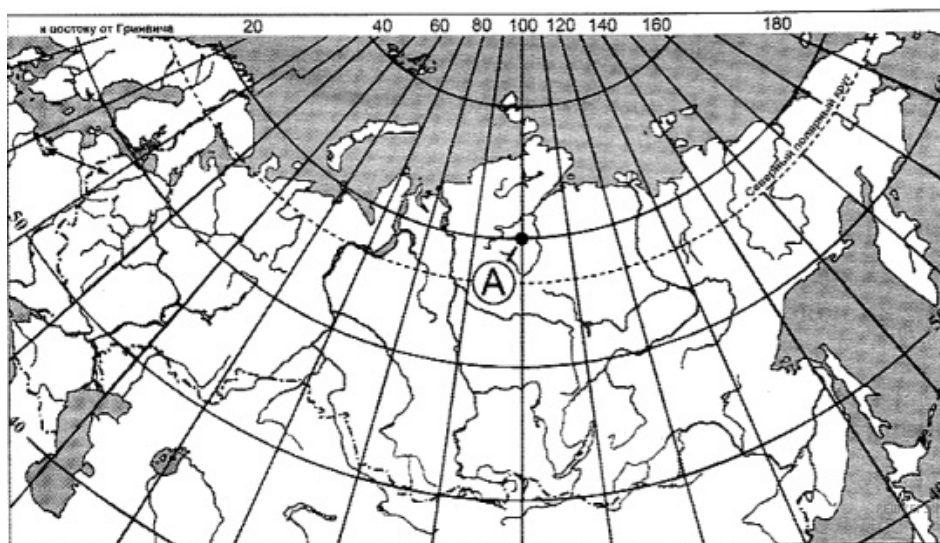
1. A;
2. B;
3. C;
4. D.

16. Какие географические координаты имеет точка, обозначенная на карте буквой А?



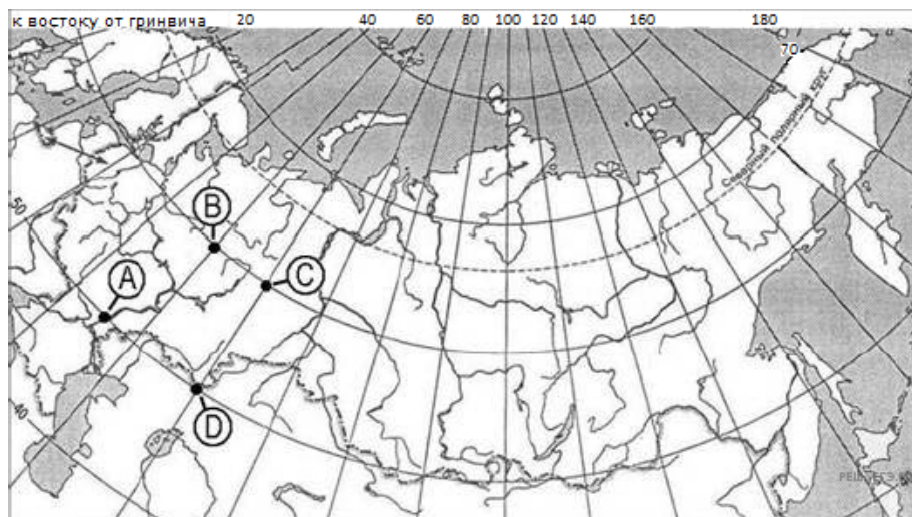
1. 55° с. ш. и 45° з. д.
2. 55° с. ш. и 45° в. д.
3. 45° с. ш. и 55° в. д.
4. 45° с. ш. и 55° з. д.

17. Какие географические координаты имеет точка, обозначенная карте буквой А?



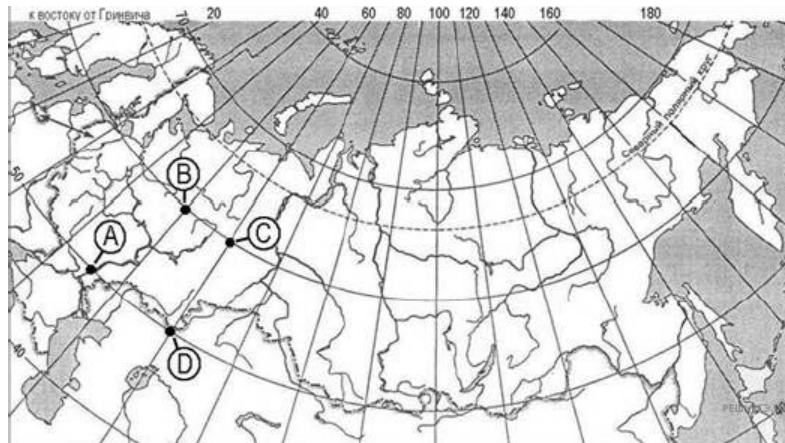
1. 70° с. ш. и 100° з. д.
2. 100° с. ш. и 70° з. д.
3. 100° с. ш. и 70° в. д.
4. 70° с. ш. и 100° в. д.

18. Какая из точек, обозначенных буквами на карте имеет географические координаты 50° с. ш. и 60° в. д.?



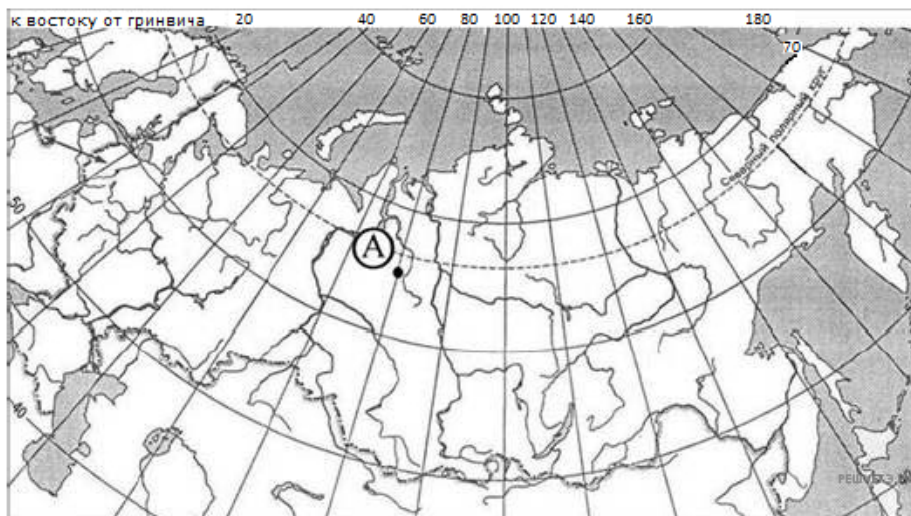
1. А;
2. В;
3. С;
4. D.

19. Какая из точек, обозначенных буквами на карте имеет географические координаты 50° с. ш. и 60° в. д.?



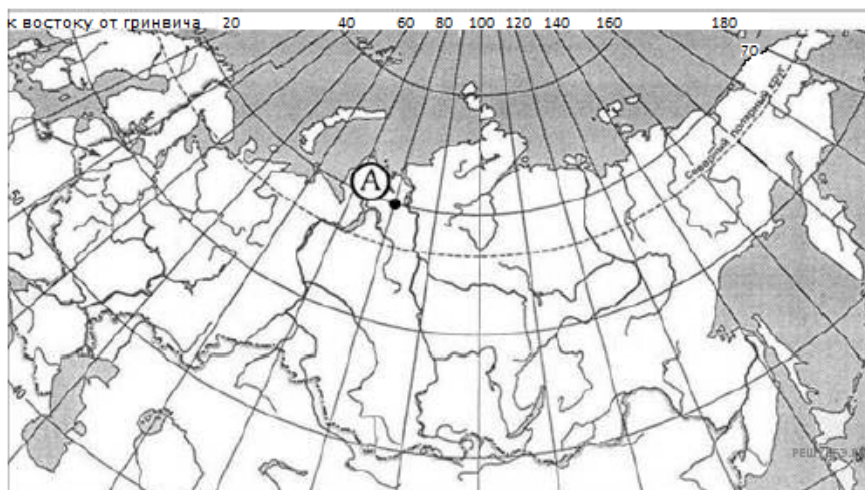
1. A;
2. B;
3. C;
4. D.

20. Какие географические координаты имеет точка, обозначенная на карте буквой А?



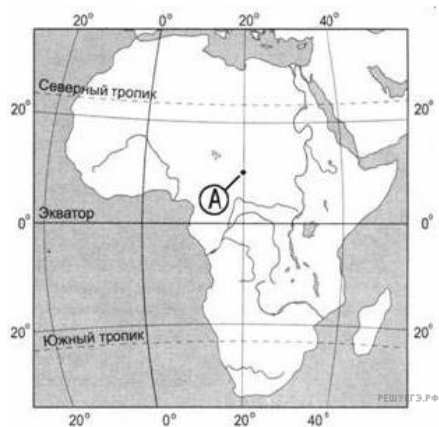
1. 65° с. ш. и 80° з. д.
2. 65° с. ш. и 80° в. д.
3. 80° с. ш. и 65° з. д.
4. 80° с. ш. и 65° в. д.

21. Какие географические координаты имеет точка, обозначенная на карте буквой А?



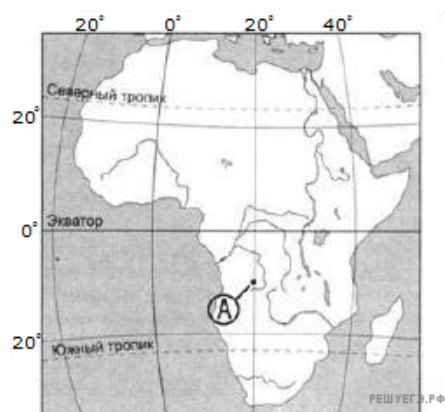
1. 70° с. ш. и 80° з. д.
2. 70° с. ш. и 80° в. д.
3. 80° с. ш. и 70° з. д.
4. 80° с. ш. и 70° в. д.

22. Какие географические координаты имеет точка, обозначенная на карте буквой А?



1. 10° с. ш. и 20° з. д.
2. 20° с. ш. и 10° в. д.
3. 20° с. ш. и 10° з. д.
4. 10° с. ш. и 20° в. д.

23. Какие географические координаты имеет точка обозначенная на карте буквой А?



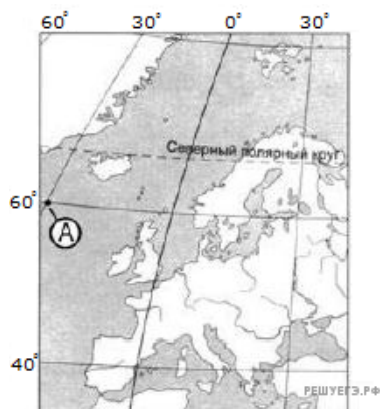
1. 10° ю. ш. и 20° з. д.
2. 20° ю. ш. и 10° в. д.
3. 10° ю. ш. и 20° в. д.
4. 20° ю. ш. и 10° з. д.

24. Какие географические координаты имеет точка, обозначенная на карте буквой А?



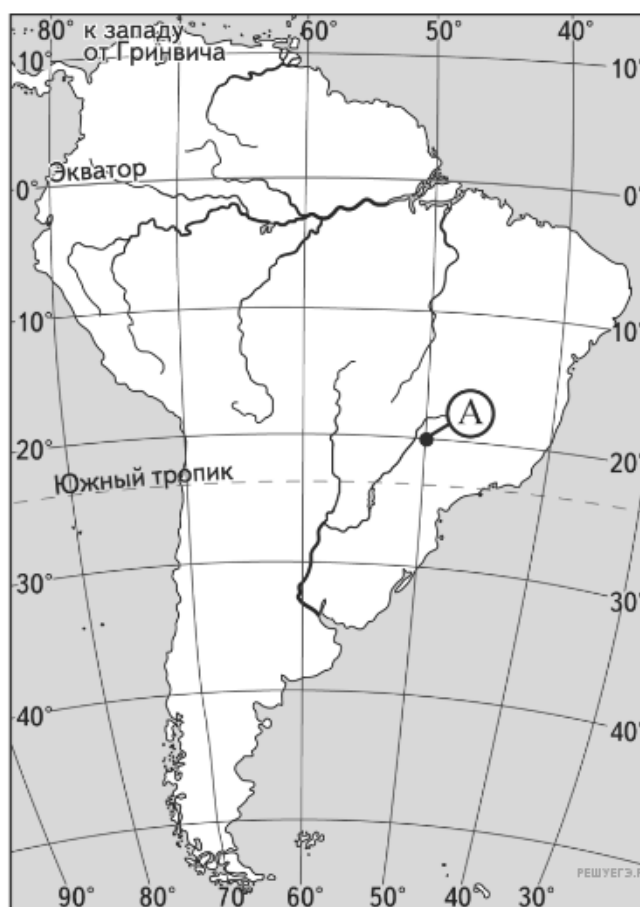
1. 60° с. ш. и 30° з. д.
2. 60° с. ш. и 30° в. д.
3. 30° с. ш. и 60° з. д.
4. 30° с. ш. и 60° в. д.

25. Какие географические координаты имеет точка, обозначенная на карте буквой А?



1. 60° с. ш. и 30° з. д.
2. 60° с. ш. и 30° в. д.
3. 30° с. ш. и 60° з. д.
4. 30° с. ш. и 60° в. д.

26. Какие географические координаты имеет пункт, обозначенный на карте Южной Америки буквой А?

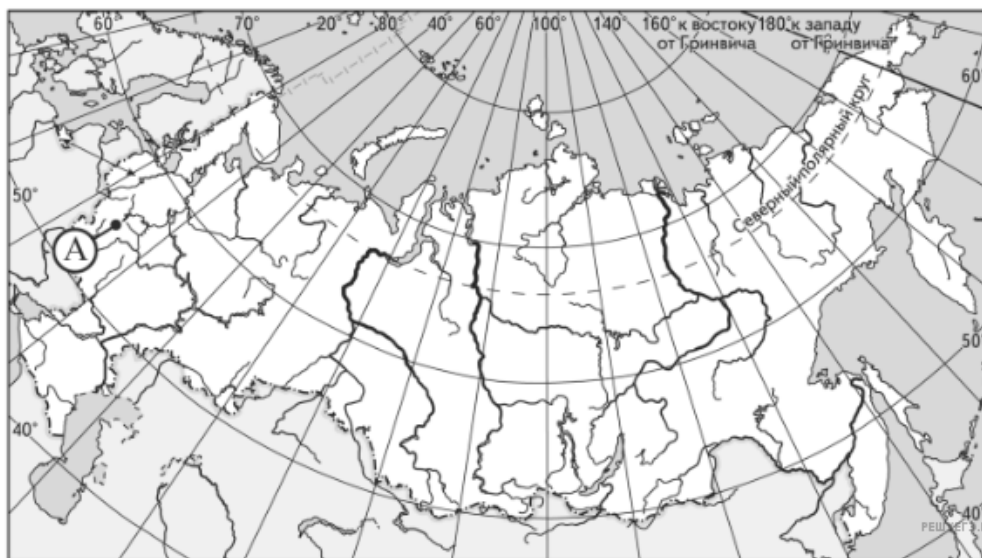


1. 50° ю. ш. 20° з. д.
2. 20° ю. ш. 50° з. д.

3. 50° ю. ш. 20° в. д.

4. 20° ю. ш. 50° в. д.

27. Какие географические координаты имеет точка, обозначенная на карте России буквой А?



1. 55° с. ш. 35° з. д.

2. 55° с. ш. 35° в. д.

3. 35° с. ш. 55° в. д.

4. 35° с. ш. 55° з. д.