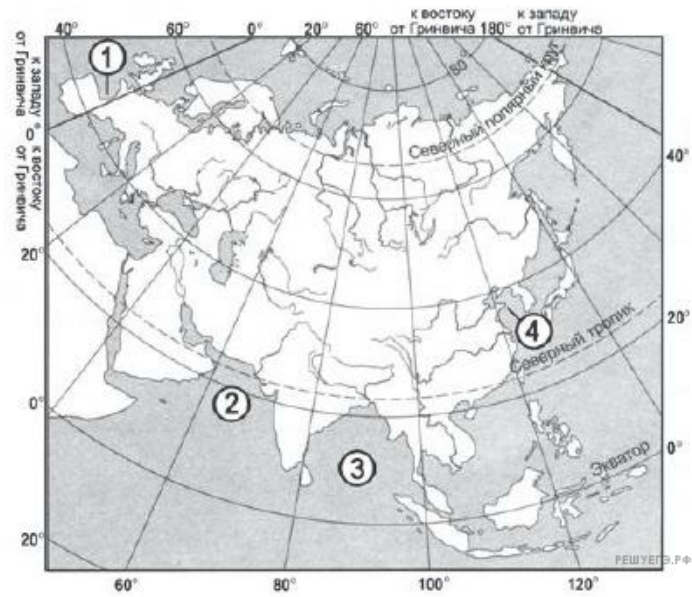


1. Установите соответствие между частью Мирового океана и цифрой, которой она обозначена на карте.



Карта составлена по состоянию на 01.01.2014

ЧАСТЬ МИРОВОГО ОКЕАНА

РАСПОЛОЖЕНИЕ НА КАРТЕ

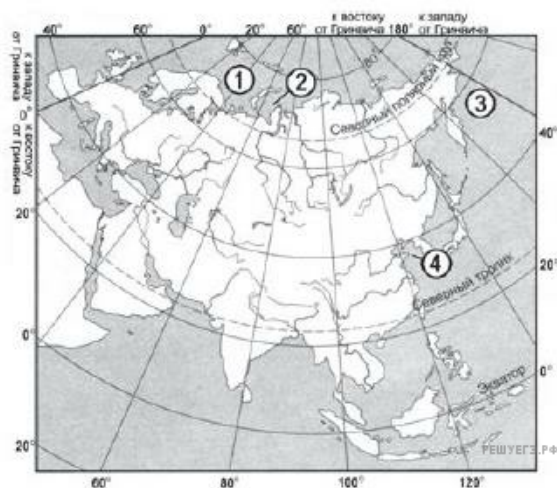
- А) Бискайский залив
- Б) Бенгальский залив
- В) Жёлтое море

- 1) 1
- 2) 2
- 3) 3
- 4) 4

Запишите в ответ цифры, расположив их в порядке, соответствующем буквам:

А	Б	В
<input type="text"/>	<input type="text"/>	<input type="text"/>

2. Установите соответствие между морем и цифрой, которой оно обозначено на карте.



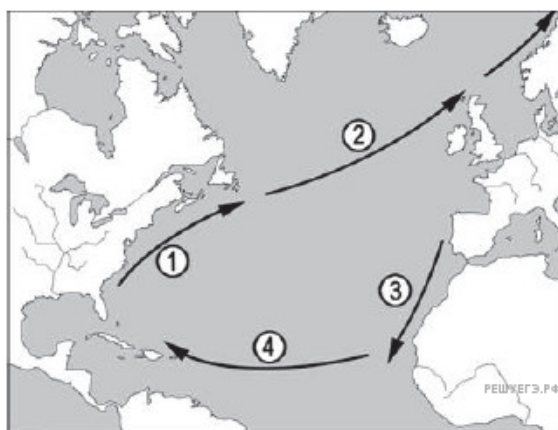
Карта составлена по состоянию на 01.01.2014

МОРЕ	РАСПОЛОЖЕНИЕ НА КАРТЕ
А) Баренцево	1) 1
Б) Берингово	2) 2
В) Жёлтое	3) 3
	4) 4

Запишите в ответ цифры, расположив их в порядке, соответствующем буквам:

А	Б	В

3. Установите соответствие между течением и цифрой, которой оно обозначено на карте северной части Атлантического океана.



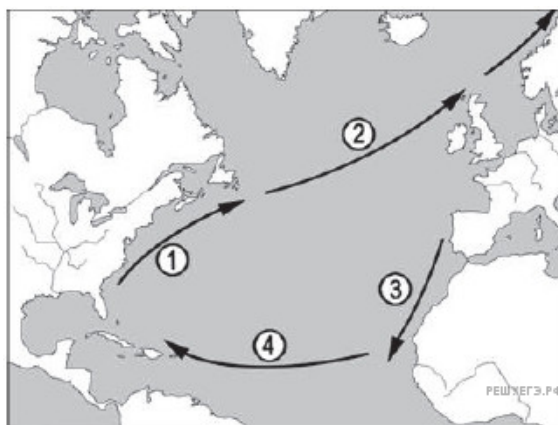
Карта составлена по состоянию на 01.01.2014

ТЕЧЕНИЕ	РАСПОЛОЖЕНИЕ НА КАРТЕ
А) Гольфстрим	1) 1
Б) Канарское	2) 2
В) Северо-Атлантическое	3) 3
	4) 4

Запишите в ответ цифры, расположив их в порядке, соответствующем буквам:

А	Б	В

4. Установите соответствие между течением и цифрой, которой оно обозначено на карте северной части Атлантического океана.



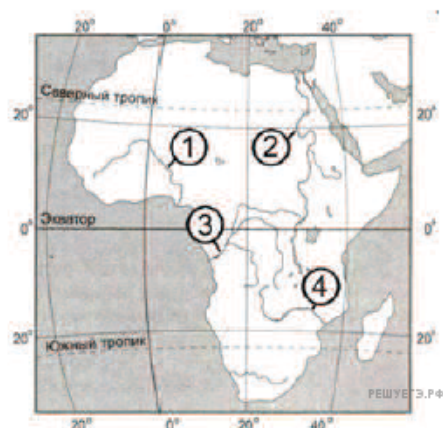
Карта составлена по состоянию на 01.01.2014

ТЕЧЕНИЕ	РАСПОЛОЖЕНИЕ НА КАРТЕ
А) Северо-Атлантическое	1) 1
Б) Гольфстрим	2) 2
В) Северное пассатное	3) 3
	4) 4

Запишите в ответ цифры, расположив их в порядке, соответствующем буквам:

А	Б	В

5. Установите соответствие между рекой и цифрой, которой она обозначена на карте.



Карта составлена по состоянию на 01.01.2014

РЕКА	РАСПОЛОЖЕНИЕ НА КАРТЕ
А) Нигер	1) 1
Б) Конго	2) 2
В) Замбези	3) 3
	4) 4

Запишите в ответ цифры, расположив их в порядке, соответствующем буквам:

А	Б	В

6. Установите соответствие между рекой и цифрой, которой она обозначена на карте.



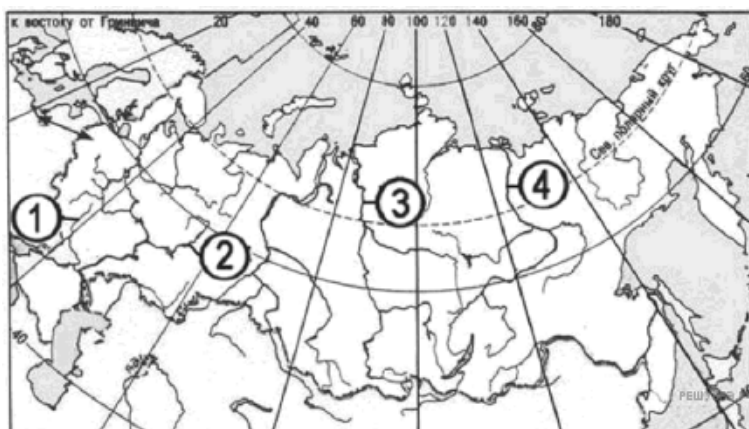
Карта составлена по состоянию на 01.01.2014

РЕКА	РАСПОЛОЖЕНИЕ НА КАРТЕ
А) Рейн	1) 1
Б) Днепр	2) 2
В) Дунай	3) 3
	4) 4

Запишите в ответ цифры, расположив их в порядке, соответствующем буквам:

А	Б	В

7. Установите соответствие между рекой и цифрой, которой она обозначена на карте.



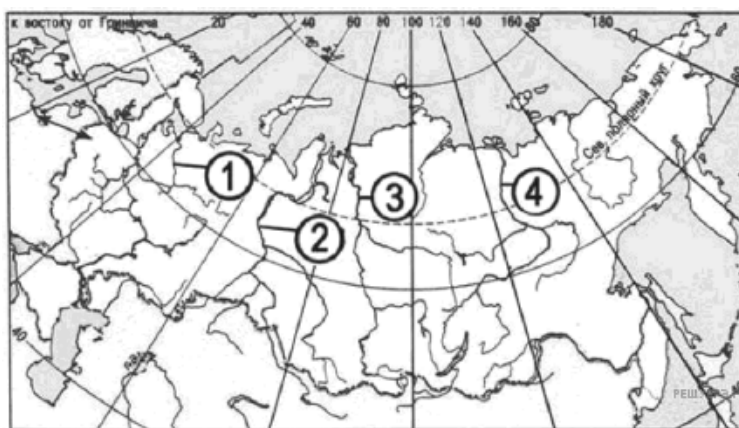
Карта составлена по состоянию на 01.01.2014

РЕКА	РАСПОЛОЖЕНИЕ НА КАРТЕ
А) Лена	1) 1
Б) Енисей	2) 2
В) Кама	3) 3
	4) 4

Запишите в ответ цифры, расположив их в порядке, соответствующем буквам:

А	Б	В

8. Установите соответствие между рекой и цифрой, которой она обозначена на карте.



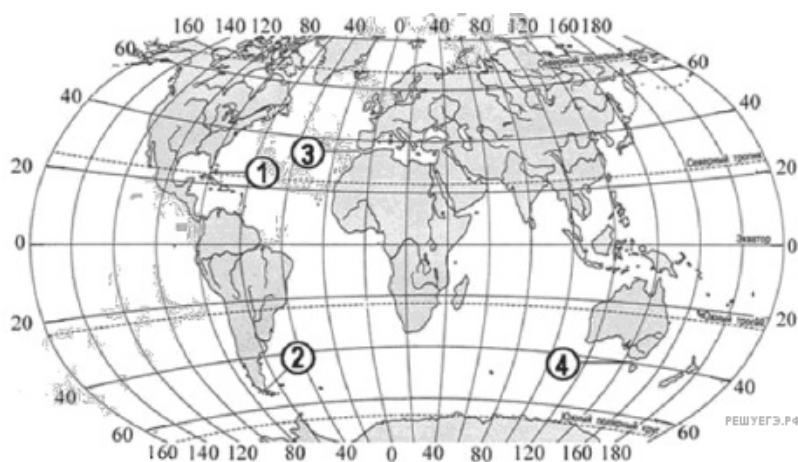
Карта составлена по состоянию на 01.01.2014

РЕКА	РАСПОЛОЖЕНИЕ НА КАРТЕ
А) Енисей	1) 1
Б) Северная Двина	2) 2
В) Обь	3) 3
	4) 4

Запишите в ответ цифры, расположив их в порядке, соответствующем буквам:

А	Б	В

9. Установите соответствие между проливом и цифрой, которой он обозначен на карте.



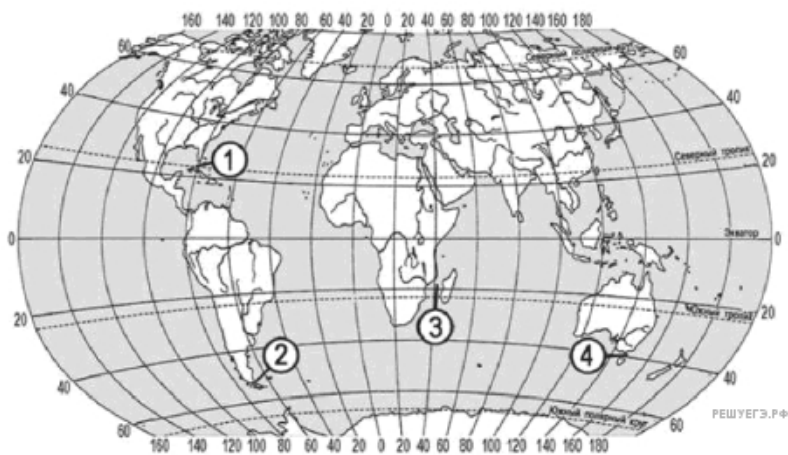
Карта составлена по состоянию на 01.01.2014

ПРОЛИВ	РАСПОЛОЖЕНИЕ НА КАРТЕ
А) Гибралтарский	1) 1
Б) Флоридский	2) 2
В) Магелланов	3) 3
	4) 4

Запишите в ответ цифры, расположив их в порядке, соответствующем буквам:

А	Б	В

10. Установите соответствие между проливом и цифрой, которой он обозначен на карте: к каждому элементу первого столбца подберите соответствующий элемент из второго и внесите в строку ответов выбранные цифры под соответствующими буквами.



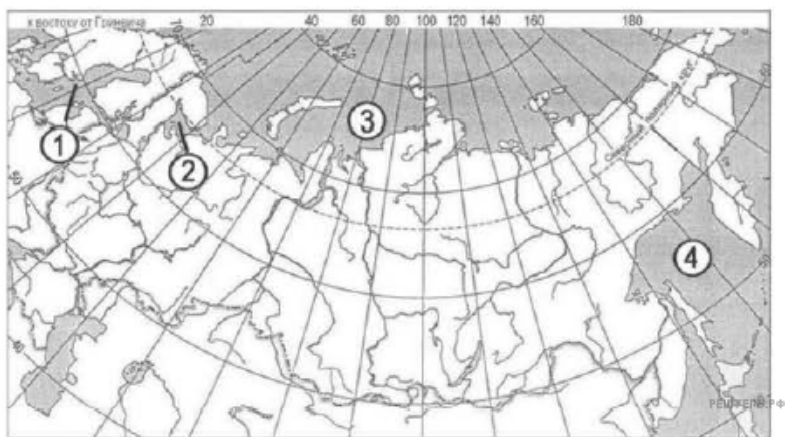
Карта составлена по состоянию на 01.01.2014

ПРОЛИВ	РАСПОЛОЖЕНИЕ НА КАРТЕ
А) Магелланов	1) 1
Б) Мозамбикский	2) 2
В) Флоридский	3) 3
	4) 4

Запишите в ответ цифры, расположив их в порядке, соответствующем буквам:

А	Б	В

11. Установите соответствие между морем и его обозначением на карте.



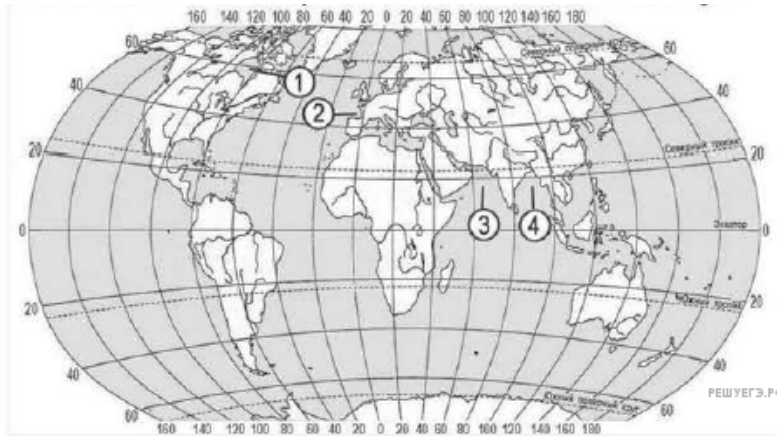
Карта составлена по состоянию на 01.01.2014

МОРЕ	РАСПОЛОЖЕНИЕ НА КАРТЕ
А) Белое	1) 1
Б) Карское	2) 2
В) Охотское	3) 3
	4) 4

Запишите в ответ цифры, расположив их в порядке, соответствующем буквам:

А	Б	В

12. Установите соответствие между заливом и его обозначением на карте.



Карта составлена по состоянию на 01.01.2014

ЗАЛИВ	РАСПОЛОЖЕНИЕ НА КАРТЕ
А) Бенгальский	1) 1
Б) Бискайский	2) 2
В) Гудзонов	3) 3
	4) 4

Запишите в ответ цифры, расположив их в порядке, соответствующем буквам:

А	Б	В

13. Установите соответствие между морем и цифрой, которой оно обозначено на карте: к каждому элементу первого столбца подберите соответствующий элемент из второго и внесите в строку ответов выбранные цифры под соответствующими буквами.



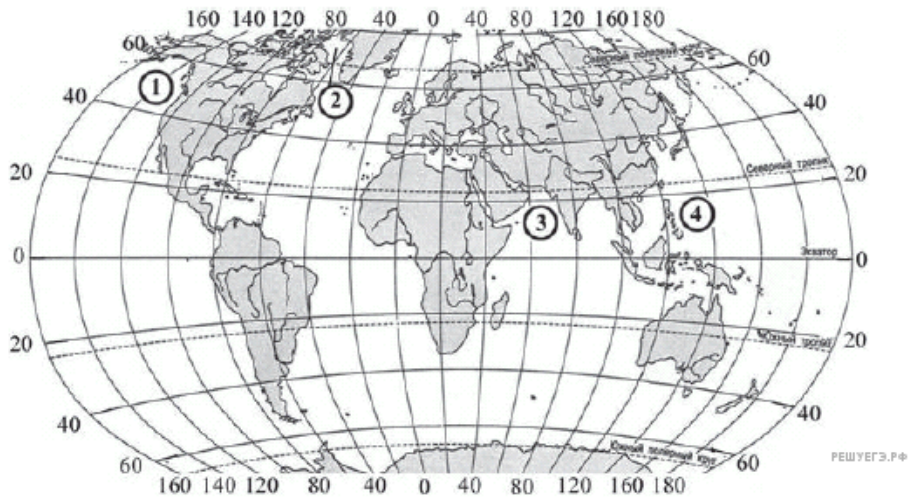
Карта составлена по состоянию на 01.01.2014

МОРЕ	РАСПОЛОЖЕНИЕ НА КАРТЕ
А) Карибское	1) 1
Б) Аравийское	2) 2
В) Средиземное	3) 3
	4) 4

Запишите в ответ цифры, расположив их в порядке, соответствующем буквам:

А	Б	В

14. Установите соответствие между морем и его расположением на карте, обозначенным цифрой.



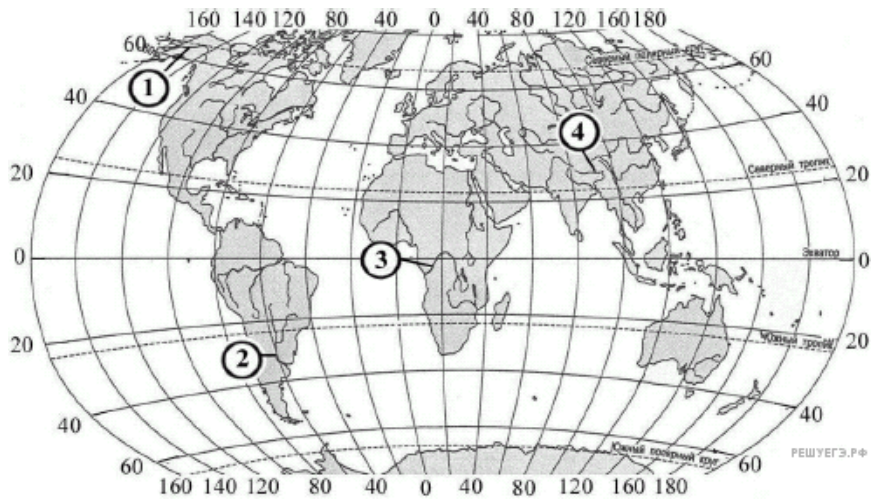
Карта составлена по состоянию на 01.01.2014

МОРЕ	РАСПОЛОЖЕНИЕ НА КАРТЕ
А) Баффина	1) 1
Б) Аравийское	2) 2
В) Филиппинское	3) 3
	4) 4

Запишите в ответ цифры, расположив их в порядке, соответствующем буквам:

А	Б	В

15. Установите соответствие между рекой и её обозначением на карте.



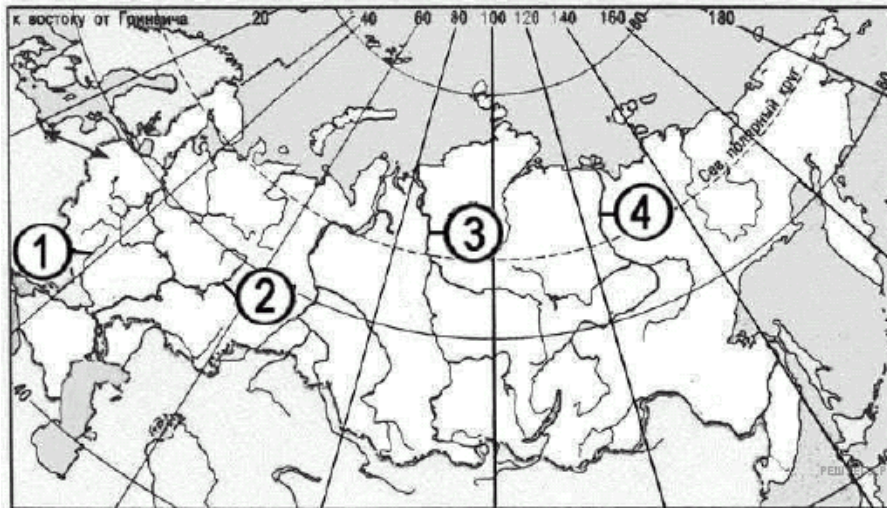
Карта составлена по состоянию на 01.01.2014

РЕКА	ОБОЗНАЧЕНИЕ НА КАРТЕ
А) Юкон	1) 1
Б) Парана	2) 2
В) Брахмапутра	3) 3
	4) 4

Запишите в ответ цифры, расположив их в порядке, соответствующем буквам:

А	Б	В

16. Установите соответствие между рекой и её обозначением на карте.



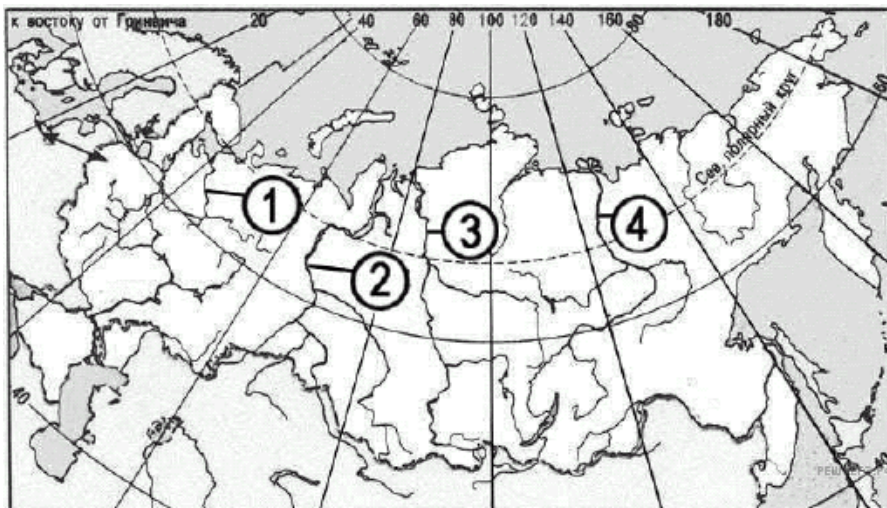
Карта составлена по состоянию на 01.01.2014

РЕКА	ОБОЗНАЧЕНИЕ НА КАРТЕ
А) Енисей	1) 1
Б) Кама	2) 2
В) Дон	3) 3
	4) 4

Запишите в ответ цифры, расположив их в порядке, соответствующем буквам:

А	Б	В

17. Установите соответствие между рекой и её обозначением на карте.



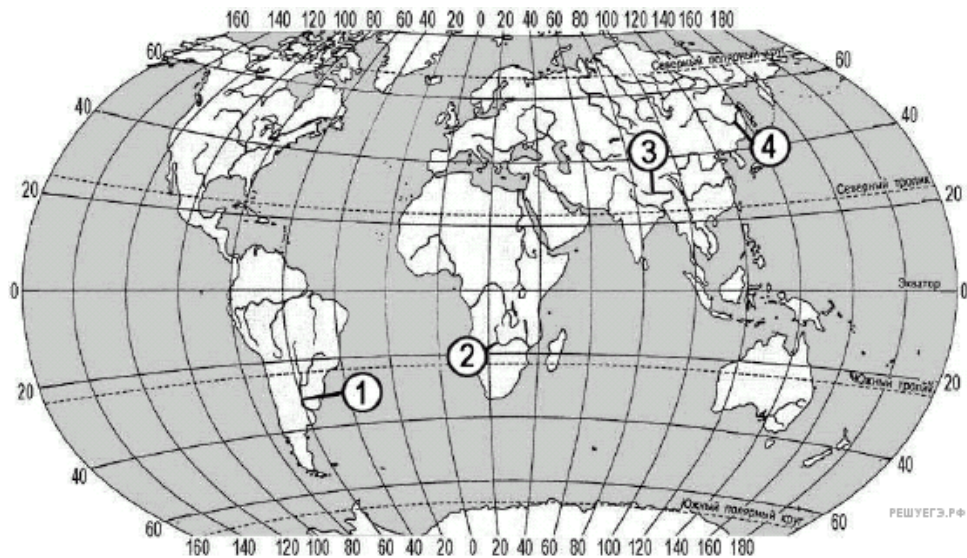
Карта составлена по состоянию на 01.01.2014

РЕКА	ОБОЗНАЧЕНИЕ НА КАРТЕ
А) Лена	1) 1
Б) Енисей	2) 2
В) Обь	3) 3
	4) 4

Запишите в ответ цифры, расположив их в порядке, соответствующем буквам:

А	Б	В

18. Установите соответствие между рекой и её обозначением на карте.



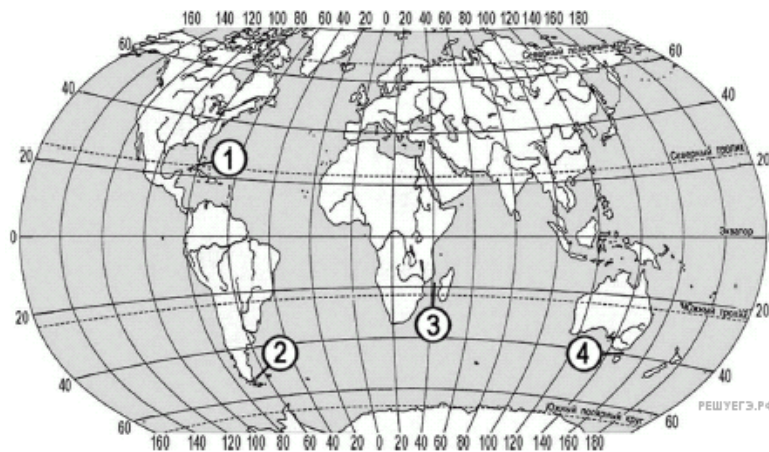
Карта составлена по состоянию на 01.01.2014

РЕКА	ОБОЗНАЧЕНИЕ НА КАРТЕ
А) Амур	1) 1
Б) Замбези	2) 2
В) Парана	3) 3
	4) 4

Запишите в ответ цифры, расположив их в порядке, соответствующем буквам:

А	Б	В

19. Установите соответствие между проливом и его обозначением на карте.



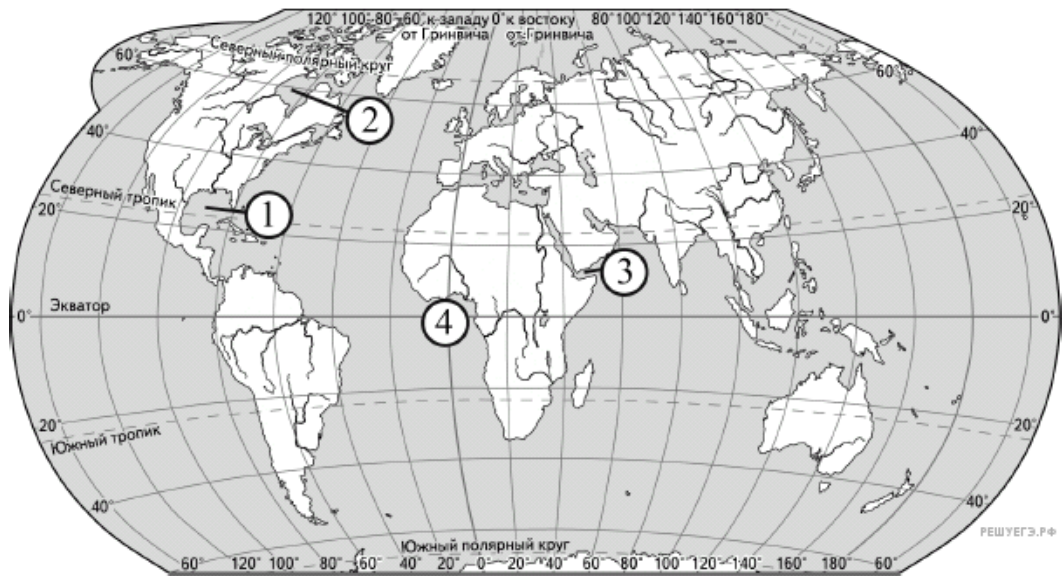
Карта составлена по состоянию на 01.01.2014

ПРОЛИВ	ОБОЗНАЧЕНИЕ НА КАРТЕ
А) Мозамбикский	1) 1
Б) Магелланов	2) 2
В) Флоридский	3) 3
	4) 4

Запишите в ответ цифры, расположив их в порядке, соответствующем буквам:

А	Б	В

20. Установите соответствие между заливом и его обозначением на карте.



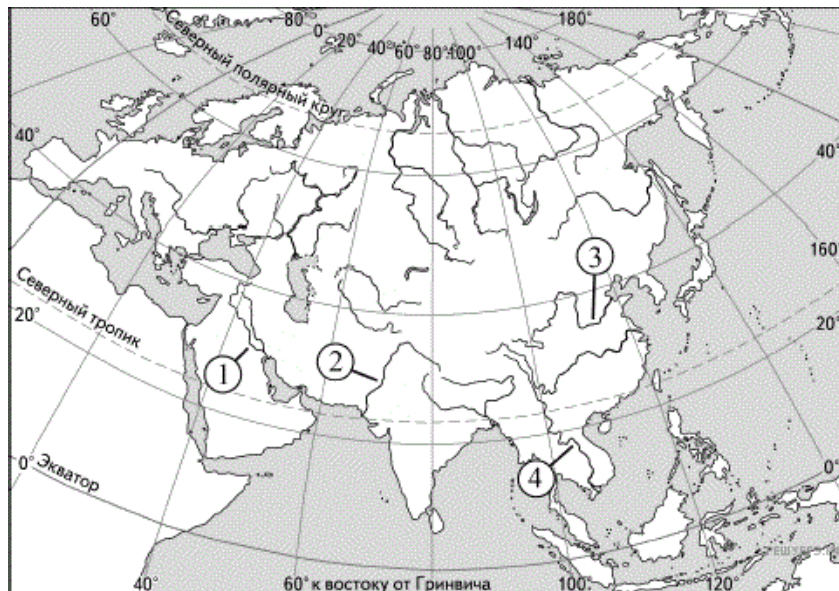
Карта составлена по состоянию на 01.01.2014

ЗАЛИВ	ОБОЗНАЧЕНИЕ НА КАРТЕ
А) Мексиканский	1) 1
Б) Гвинейский	2) 2
В) Гудзонов	3) 3
	4) 4

Запишите в ответ цифры, расположив их в порядке, соответствующем буквам:

А	Б	В

21. Установите соответствие между рекой и её обозначением на карте Евразии.

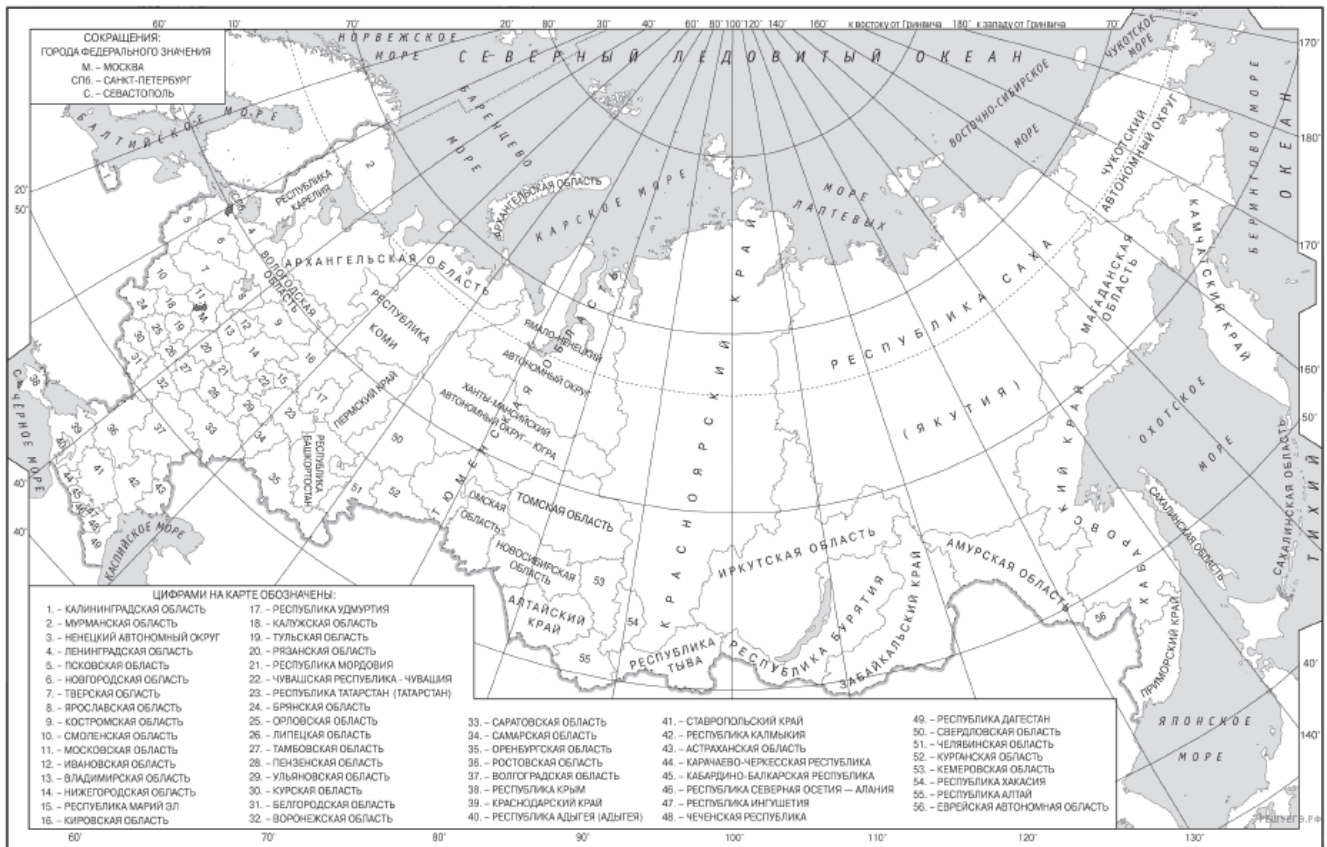


Карта составлена по состоянию на 01.01.2014

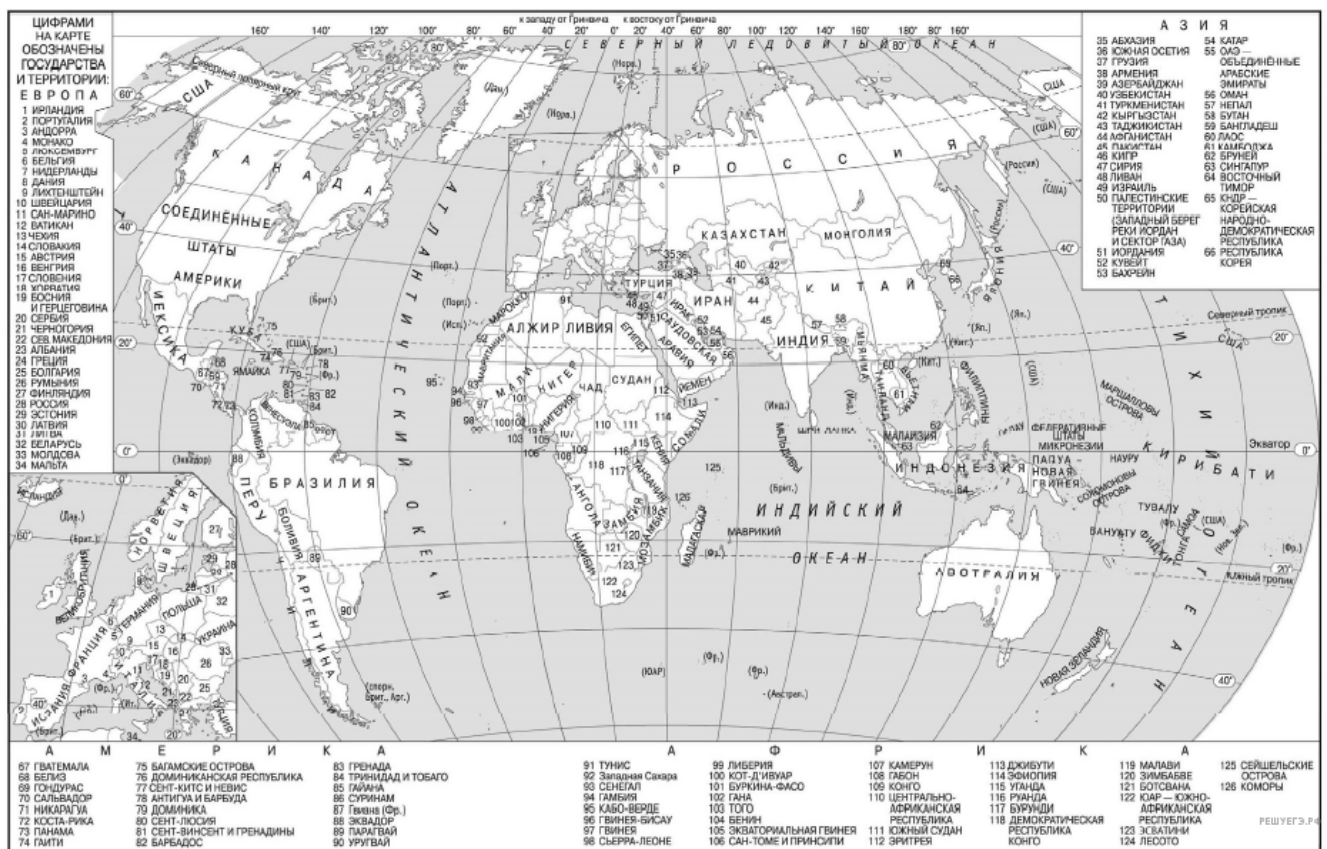
РЕКА	ОБОЗНАЧЕНИЕ НА КАРТЕ
А) Евфрат	1) 1
Б) Меконг	2) 2
В) Инд	3) 3
	4) 4

Запишите в ответ цифры, расположив их в порядке, соответствующем буквам:

А	Б	В



Карта составлена по состоянию на 01.01.2021



Карта составлена по состоянию на 01.01.2021

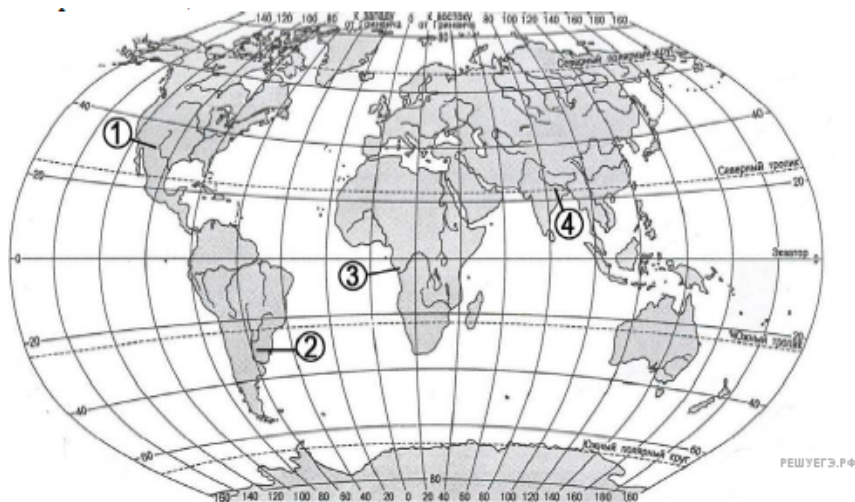
22. Расположите перечисленные заливы с запада на восток в том порядке, в котором они располагаются на карте мира, начиная с самого западного.

1. Бенгальский.

- 2. Персидский.
- 3. Мексиканский.

Запишите получившуюся последовательность цифр.

23. Установите соответствие между рекой и её обозначением на карте мира: к каждому элементу первого столбца подберите соответствующий элемент из второго столбца.



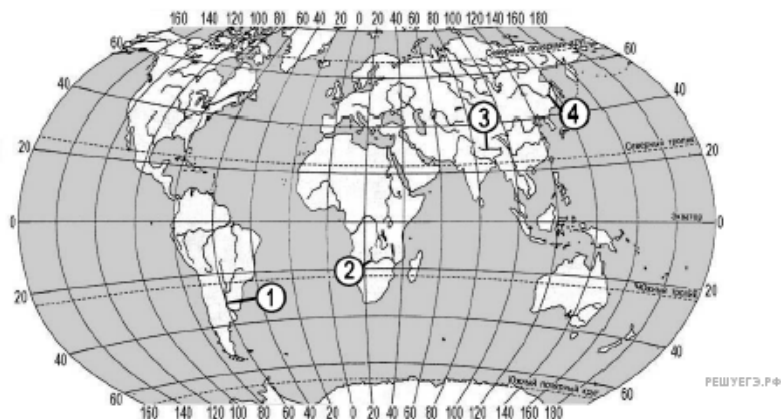
Карта составлена по состоянию на 01.01.2022

РЕКА	ОБОЗНАЧЕНИЕ НА КАРТЕ
А) Парана	1) 1
Б) Конго	2) 2
В) Ганг	3) 3
	4) 4

Запишите в таблицу выбранные цифры под соответствующими буквами.

А	Б	В

24. Установите соответствие между рекой и её обозначением на карте мира: к каждому элементу первого столбца подберите соответствующий элемент из второго столбца.



Карта составлена по состоянию на 01.01.2022

РЕКА	ОБОЗНАЧЕНИЕ НА КАРТЕ
А) Амур	1) 1
Б) Замбези	2) 2
В) Брахмапутра	3) 3
	4) 4

Запишите в таблицу выбранные цифры под соответствующими буквами.

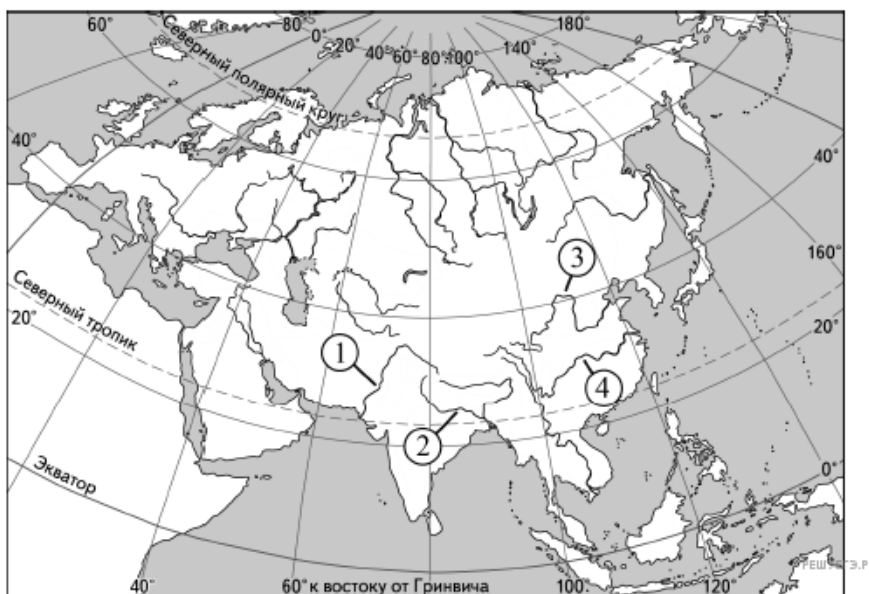
А	Б	В

25. Расположите перечисленные заливы с запада на восток в том порядке, в котором они располагаются на карте мира, начиная с самого западного.

1. Мексиканский.
2. Персидский.
3. Бенгальский.

Запишите в таблицу получившуюся последовательность цифр.

26. Установите соответствие между рекой и её обозначением на карте Евразии: к каждому элементу первого столбца подберите соответствующий элемент из второго столбца.



Карта составлена по состоянию на 01.01.2022

РЕКА	ОБОЗНАЧЕНИЕ НА КАРТЕ
А) Хуанхэ	1) 1
Б) Янцзы	2) 2
В) Ганг	3) 3
	4) 4

Запишите в таблицу выбранные цифры под соответствующими буквами.

А	Б	В

27. Расположите перечисленные реки с запада на восток в том порядке, в котором они располагаются на карте России, начиная с самой западной.

1. Нева.
2. Иртыш.
3. Ангара.

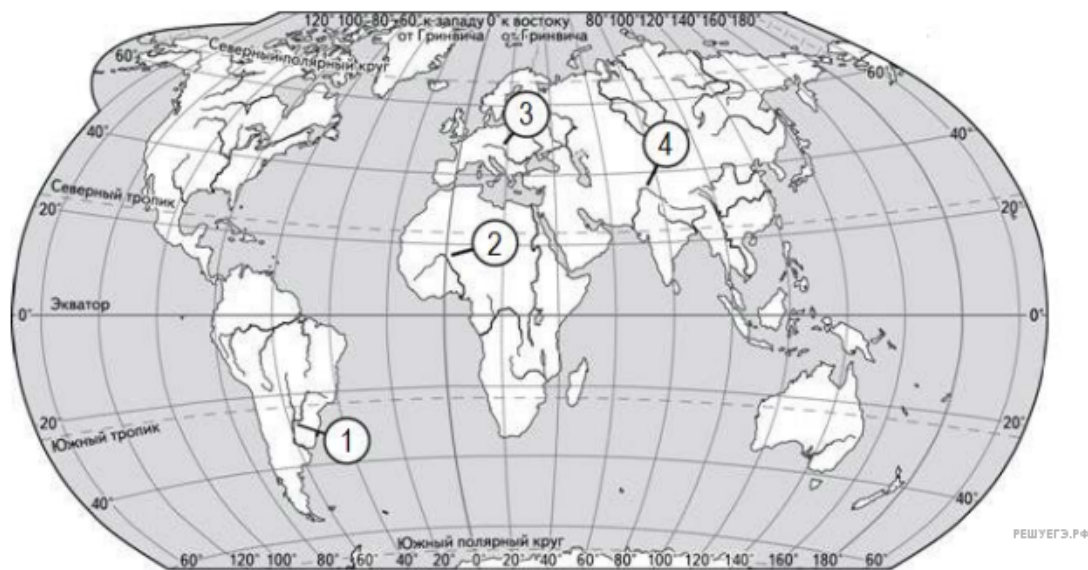
Запишите в таблицу получившуюся последовательность цифр.

28. Расположите перечисленные горные страны с юга на север в том порядке, в котором они располагаются на карте мира, начиная с самой южной.

1. Пиренеи.
2. Атлас.
3. Скандинавские горы.

Запишите в таблицу получившуюся последовательность цифр.

29. Установите соответствие между рекой и её обозначением на карте мира: к каждому элементу первого столбца подберите соответствующий элемент из второго столбца.



Карта составлена по состоянию на 01.01.2023

РЕКА	ОБОЗНАЧЕНИЕ НА КАРТЕ
А) Дунай	1) 1
Б) Инд	2) 2
В) Парана	3) 3
	4) 4

Запишите в ответ цифры, расположив их в порядке, соответствующем буквам:

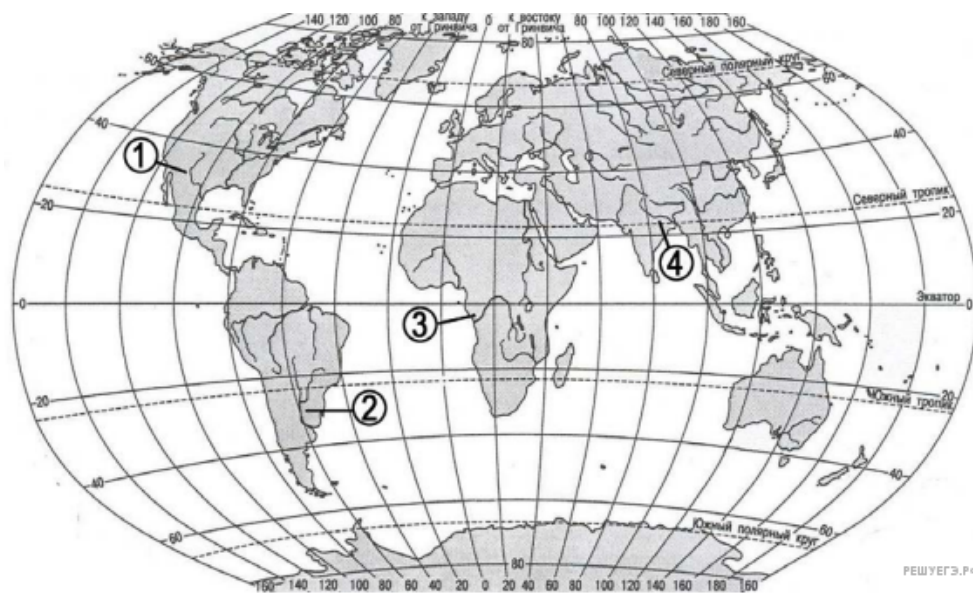
А	Б	В

30. Расположите перечисленные реки с запада на восток в том порядке, в котором они располагаются на карте Евразии, начиная с самой западной.

1. Дунай.
2. Днепр.
3. Ангара.

Запишите в таблицу получившуюся последовательность цифр.

31. Установите соответствие между рекой и её обозначением на карте мира: к каждому элементу первого столбца подберите соответствующий элемент из второго столбца.



Карта составлена по состоянию на 01.01.2023

РЕКА	ОБОЗНАЧЕНИЕ НА КАРТЕ
А) Ганг	1) 1
Б) Конго	2) 2
В) Парана	3) 3
	4) 4

Запишите в таблицу выбранные цифры под соответствующими буквами.

А	Б	В

32. Установите соответствие между морем и его обозначением на карте Европы: к каждому элементу первого столбца подберите соответствующий элемент из второго столбца.



Карта составлена по состоянию на 01.01.2023

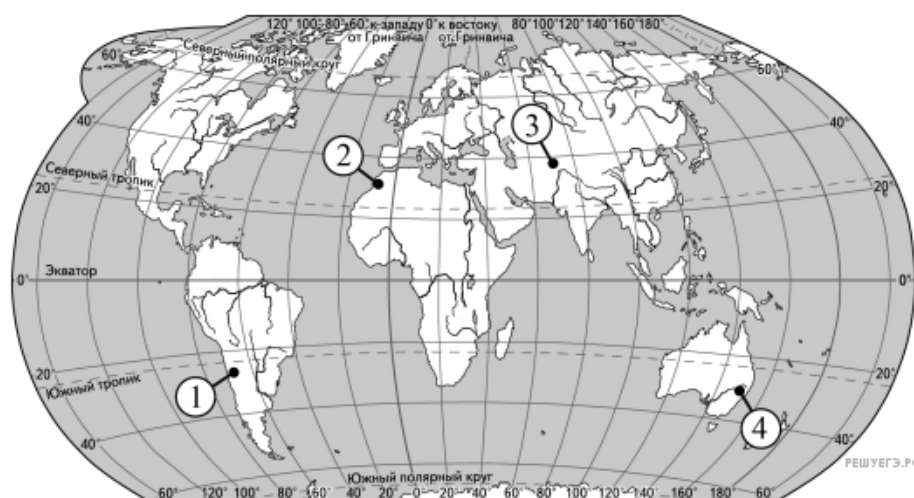
МОРЕ	ОБОЗНАЧЕНИЕ НА КАРТЕ
А) Чёрное	1) 1
Б) Северное	2) 2
В) Средиземное	3) 3
	4) 4

Запишите в таблицу выбранные цифры под соответствующими буквами.

А	Б	В

33. Установите соответствие между горной системой и обозначением на карте мира горной вершины, находящейся в пределах этой горной системы: к каждому элементу первого столбца подберите соответствующий элемент из второго столбца.

Карта составлена по состоянию на 01.01.2024



ГОРНАЯ СИСТЕМА	ОБОЗНАЧЕНИЕ ГОРНОЙ ВЕРШИНЫ
А) Атлас	1) 1
Б) Памир	2) 2
В) Большой Водораздельный хребет	3) 3
	4) 4

Запишите в таблицу выбранные цифры под соответствующими буквами.

А	Б	В

34. Установите соответствие между островом и его обозначением на карте Евразии: к каждому элементу первого столбца подберите соответствующий элемент из второго столбца.



Карта составлена по состоянию на 01.01.2024

ОСТРОВ	ОБОЗНАЧЕНИЕ НА КАРТЕ
А) Сахалин	1) 1
Б) Калимантан	2) 2
В) Шри-Ланка	3) 3
	4) 4

Запишите в ответ цифры, расположив их в порядке, соответствующем буквам:

А	Б	В

35. Расположите перечисленные острова с запада на восток в том порядке, в котором они располагаются на карте мира в справочных материалах, начиная с самого западного.

- 1) Крит
- 2) Ньюфаундленд
- 3) Хонсю

Запишите получившуюся последовательность цифр.