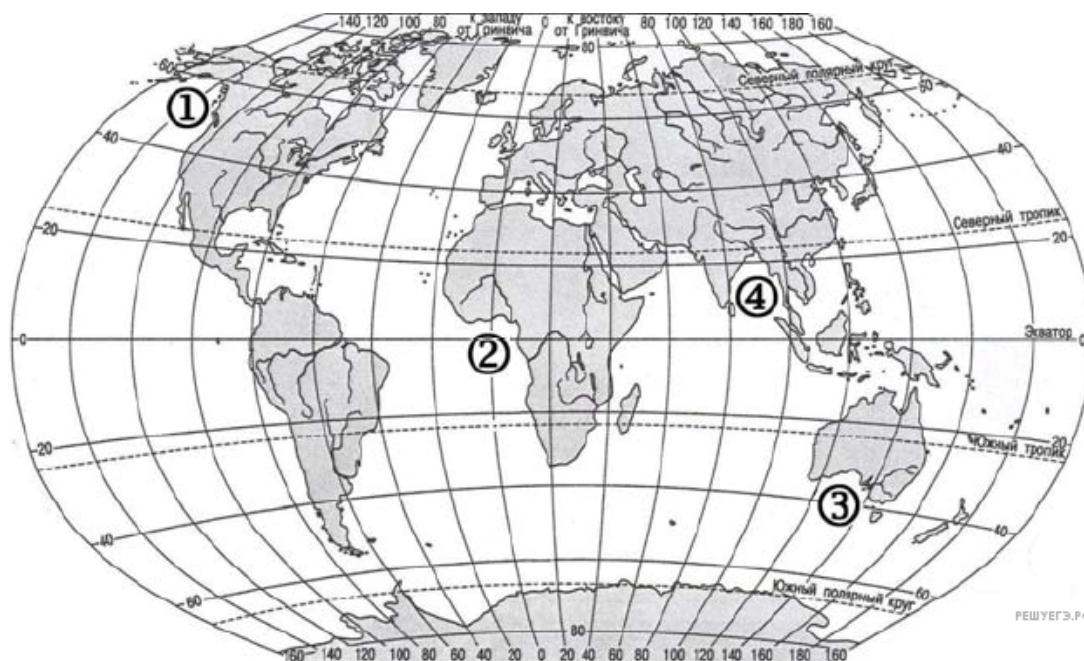


1. Установите соответствие между заливом и его расположением на карте, обозначенным цифрой.



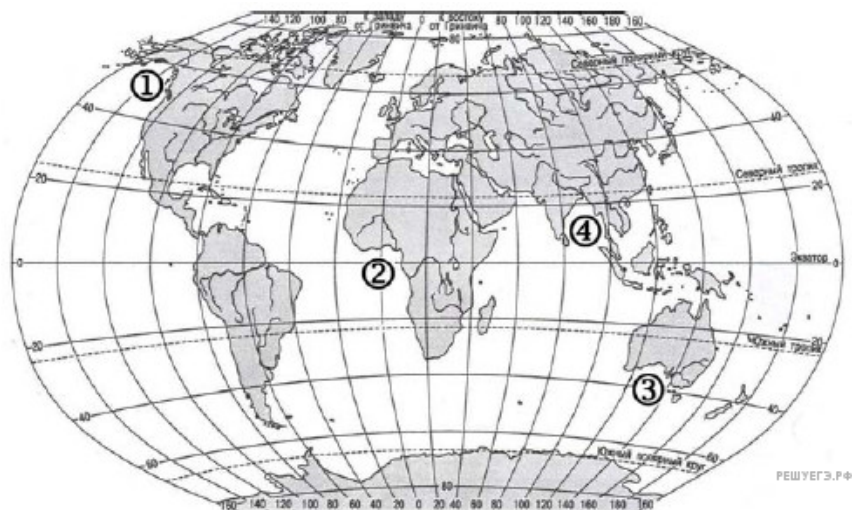
Карта составлена по состоянию на 01.01.2012

ЗАЛИВ	РАСПОЛОЖЕНИЕ НА КАРТЕ
А) Гвинейский	1) 1
Б) Бенгальский	2) 2
В) Аляска	3) 3
	4) 4

Запишите в ответ цифры, расположив их в порядке, соответствующем буквам:

А	Б	В

2. Установите соответствие между заливом и его расположением на карте, обозначенным цифрой.



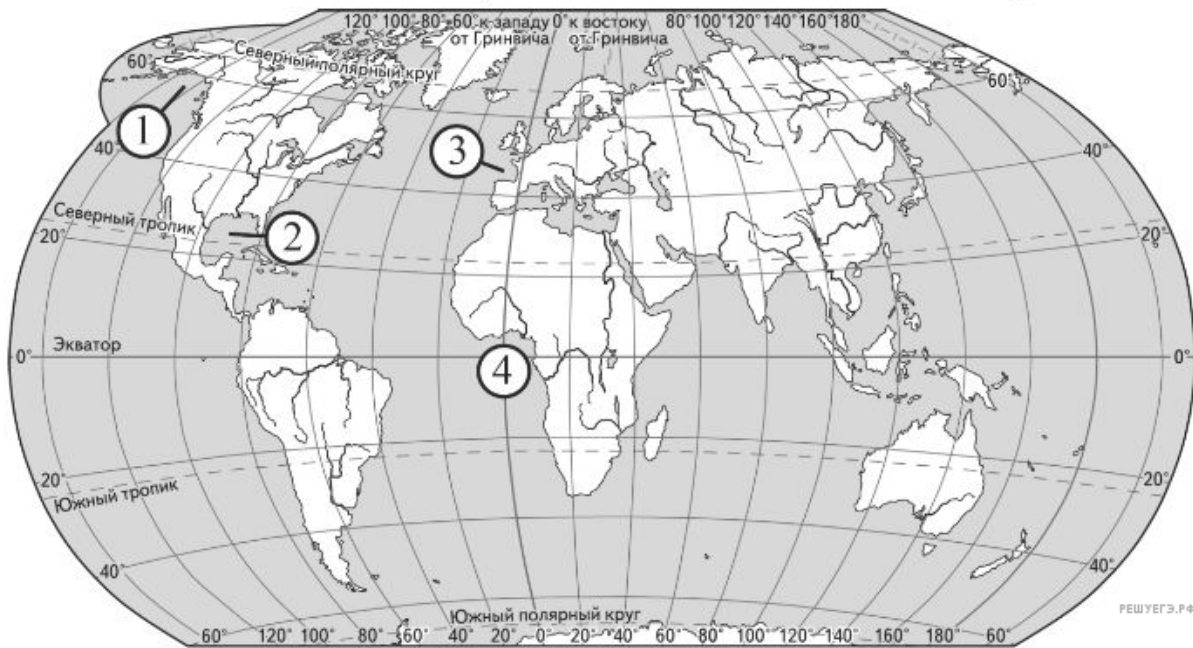
Карта составлена по состоянию на 01.01.2013

ЗАЛИВ	РАСПОЛОЖЕНИЕ НА КАРТЕ
А) Гвинейский	1) 1
Б) Бенгальский	2) 2
В) Аляска	3) 3
	4) 4

Запишите в ответ цифры, расположив их в порядке, соответствующем буквам:

А	Б	В

3. Установите соответствие между заливом и его расположением на карте, обозначенным цифрой.



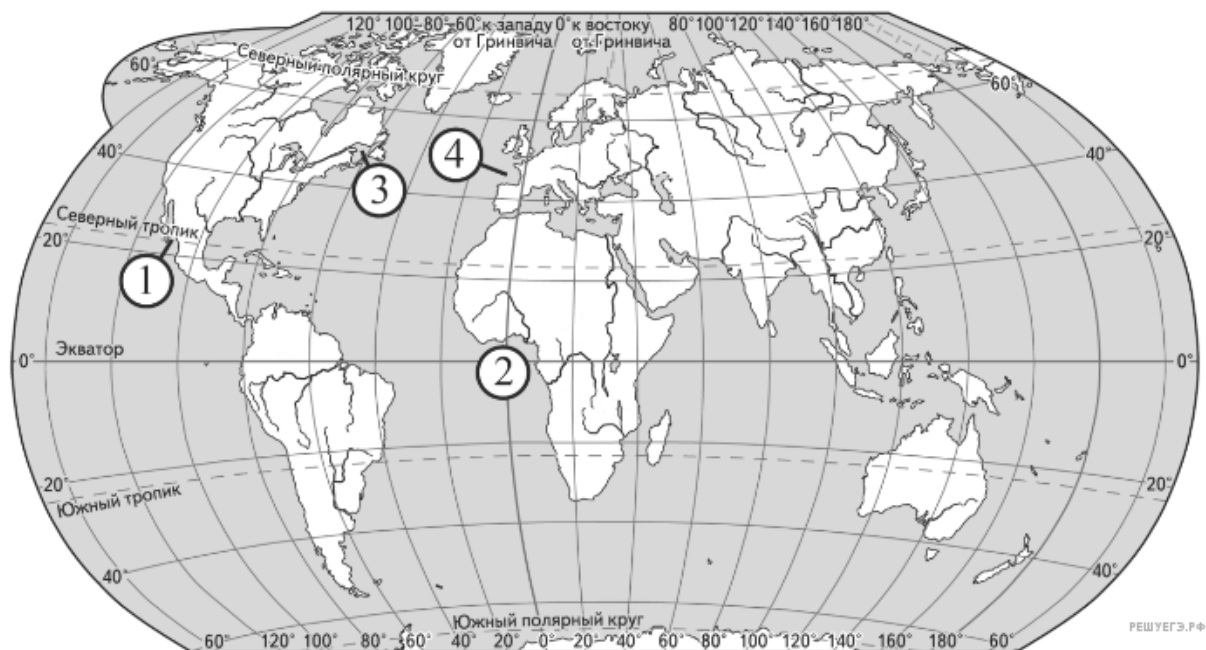
Карта составлена по состоянию на 01.01.2013

ЗАЛИВ	ОБОЗНАЧЕНИЕ НА КАРТЕ
А) Аляска	1) 1
Б) Бискайский	2) 2
В) Мексиканский	3) 3
	4) 4

Запишите в ответ цифры, расположив их в порядке, соответствующем буквам:

А	Б	В

4. Установите соответствие между заливом Мирового океана и его обозначением на карте.



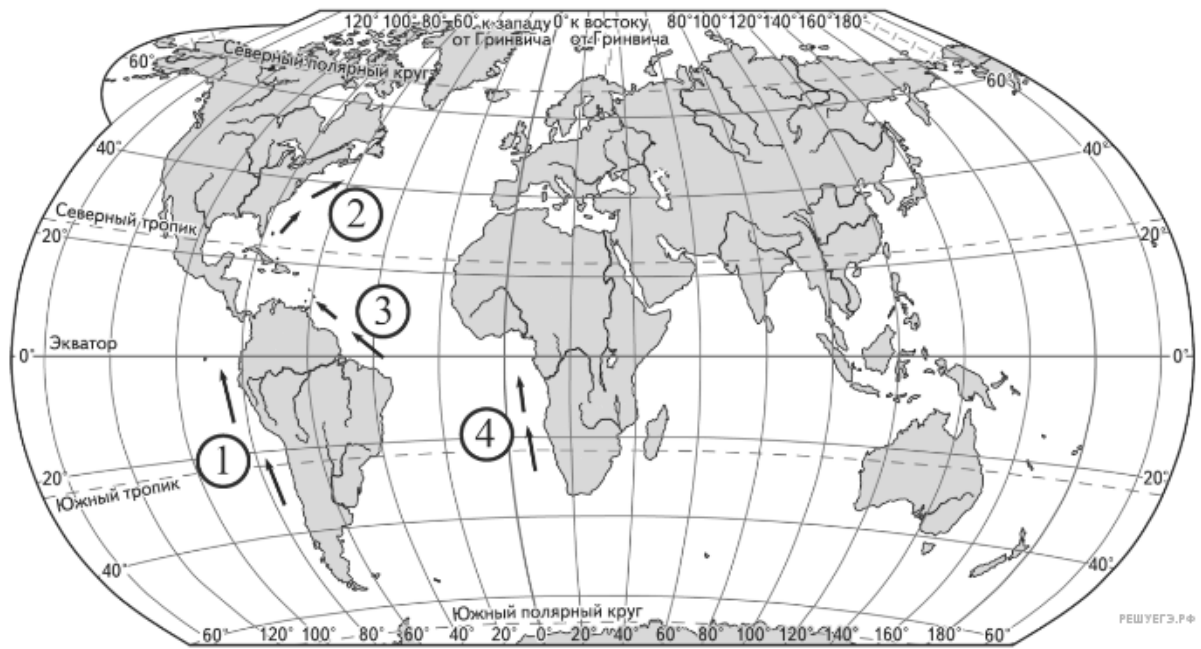
Карта составлена по состоянию на 01.01.2013

ЗАЛИВ	РАСПОЛОЖЕНИЕ НА КАРТЕ
А) Калифорнийский	1) 1
Б) Гвинейский	2) 2
В) Бискайский	3) 3
	4) 4

Запишите в ответ цифры, расположив их в порядке, соответствующем буквам:

А	Б	В

5. Установите соответствие между океаническим течением и его обозначением на карте.



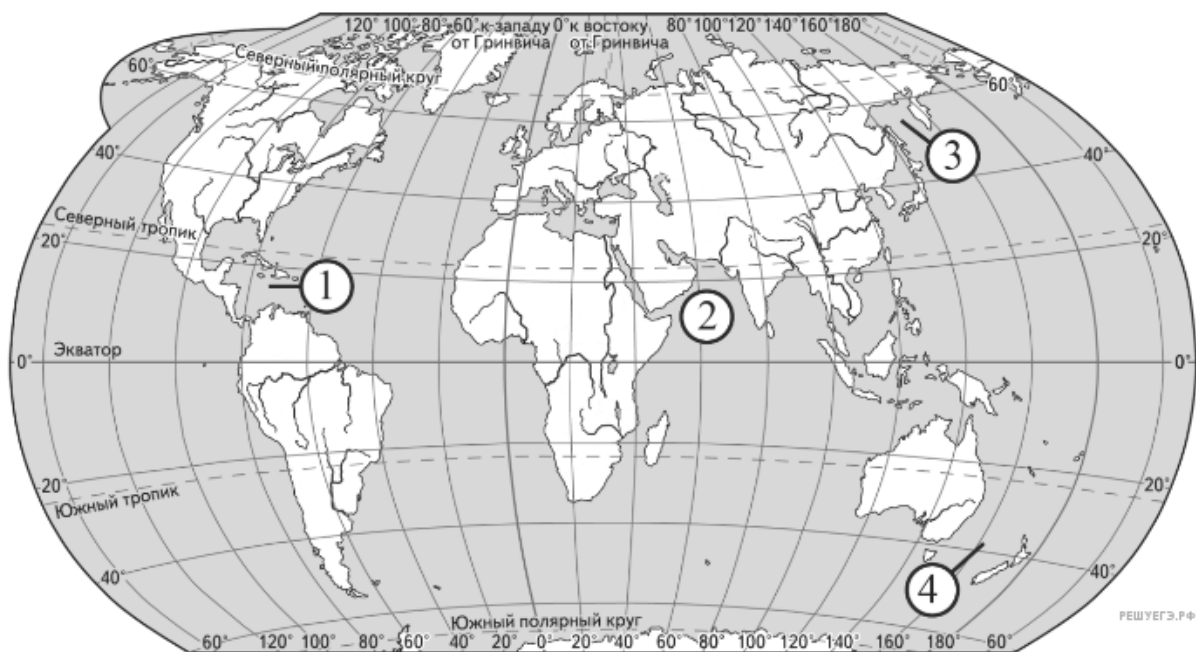
Карта составлена по состоянию на 01.01.2013

ТЕЧЕНИЕ	ОБОЗНАЧЕНИЕ НА КАРТЕ
А) Гольфстрим	1) 1
Б) Перуанское	2) 2
В) Гвианское	3) 3
	4) 4

Запишите в ответ цифры, расположив их в порядке, соответствующем буквам:

А	Б	В

6. Установите соответствие между морем и его обозначением на карте.



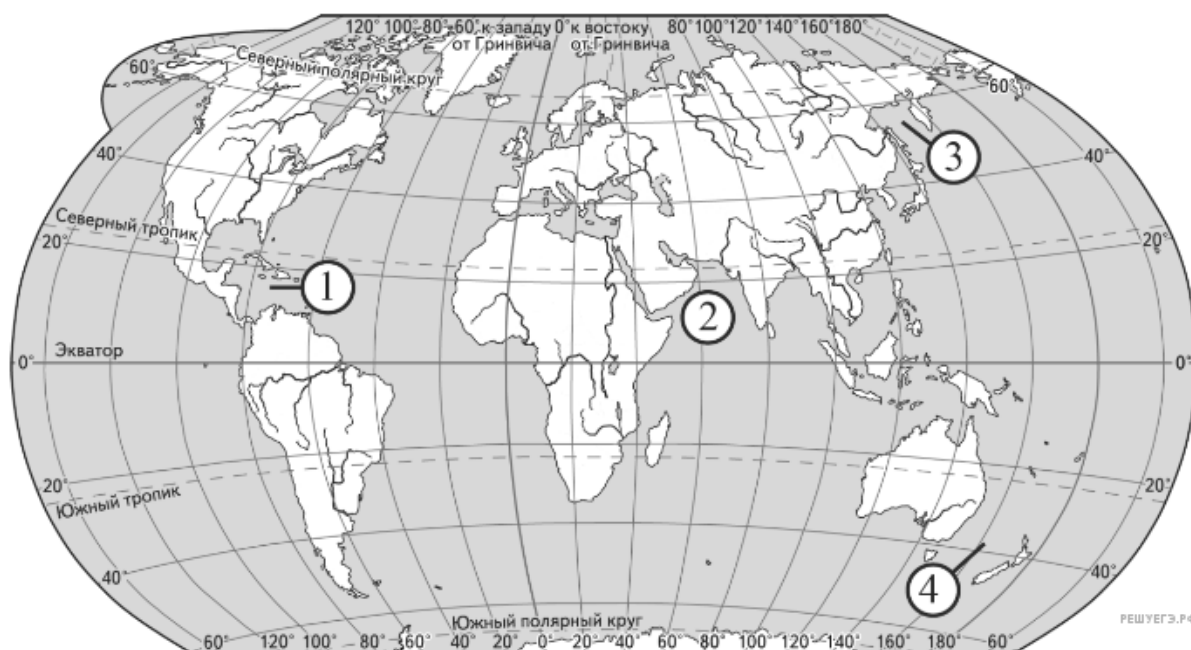
Карта составлена по состоянию на 01.01.2013

МОРЕ	ОБОЗНАЧЕНИЕ НА КАРТЕ
А) Карибское	1) 1
Б) Охотское	2) 2
В) Тасманово	3) 3
	4) 4

Запишите в ответ цифры, расположив их в порядке, соответствующем буквам:

А	Б	В

7. Установите соответствие между морем и его обозначением на карте.



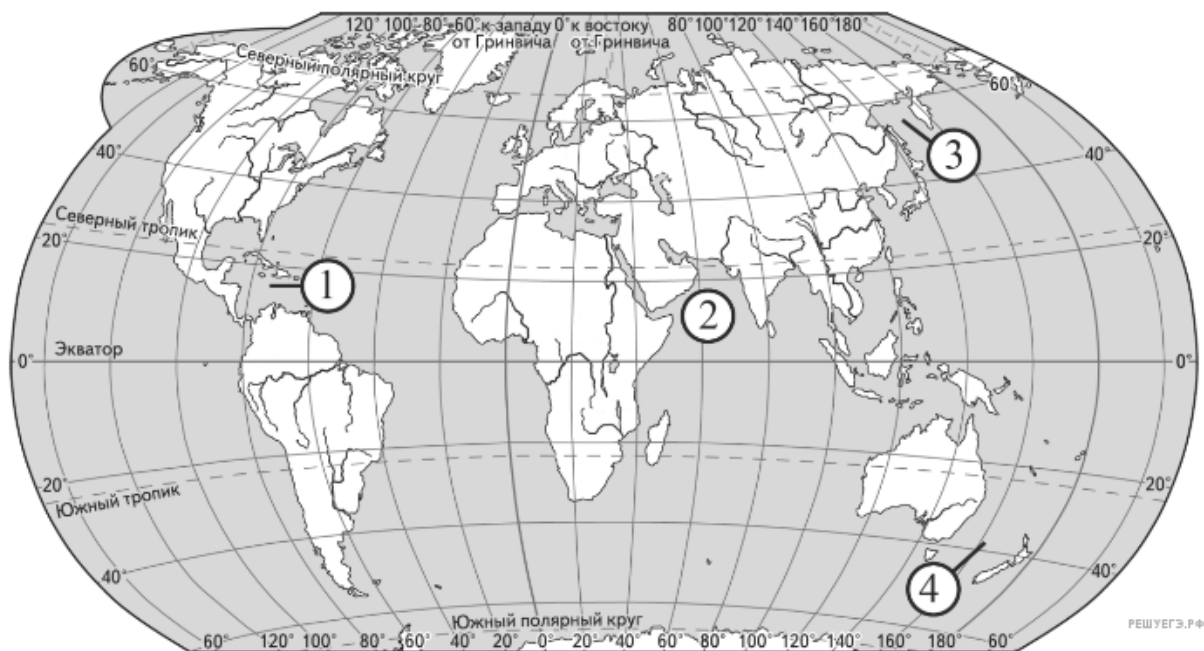
Карта составлена по состоянию на 01.01.2013

МОРЕ	ОБОЗНАЧЕНИЕ НА КАРТЕ
А) Тасманово	1) 1
Б) Аравийское	2) 2
В) Охотское	3) 3
	4) 4

Запишите в ответ цифры, расположив их в порядке, соответствующем буквам:

А	Б	В

8. Установите соответствие между морем и его обозначением на карте.



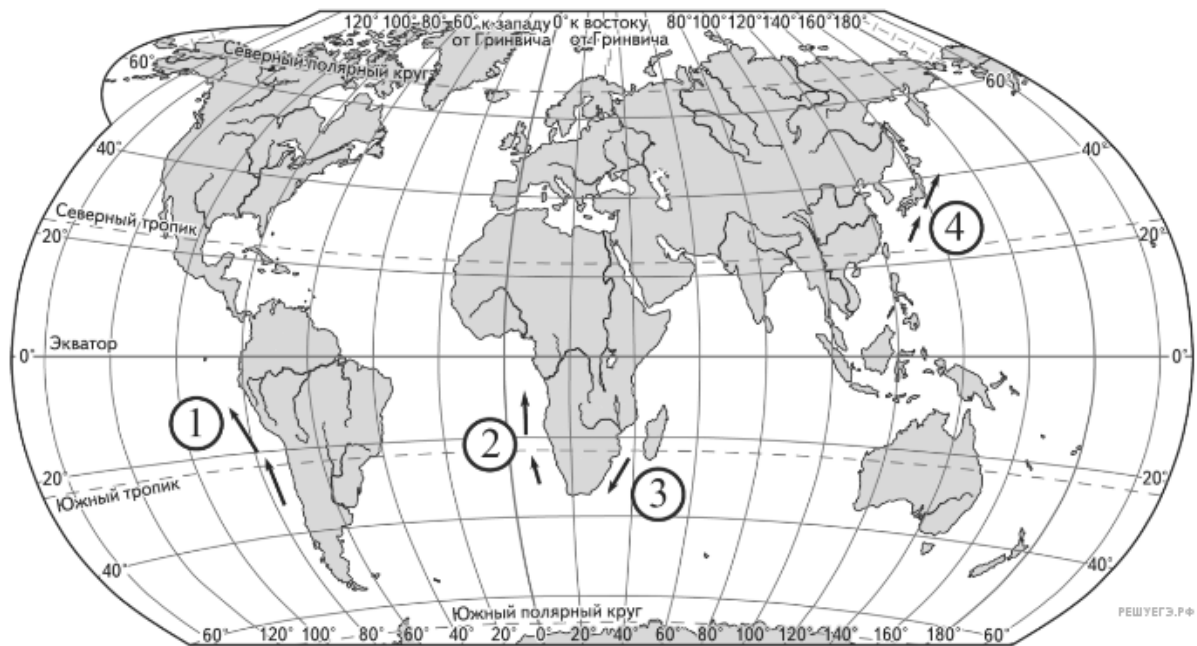
Карта составлена по состоянию на 01.01.2013

МОРЕ	ОБОЗНАЧЕНИЕ НА КАРТЕ
А) Карибское	1) 1
Б) Аравийское	2) 2
В) Тасманово	3) 3
	4) 4

Запишите в ответ цифры, расположив их в порядке, соответствующем буквам:

А	Б	В

9. Установите соответствие между океаническим течением и его местоположением на карте.



Карта составлена по состоянию на 01.01.2013

ТЕЧЕНИЕ	РАСПОЛОЖЕНИЕ НА КАРТЕ
А) Кюросио	1) 1
Б) Бенгельское	2) 2
В) Перуанское	3) 3
	4) 4

Запишите в ответ цифры, расположив их в порядке, соответствующем буквам:

А	Б	В

10. Установите соответствие между океаническим течением и его обозначением на карте.



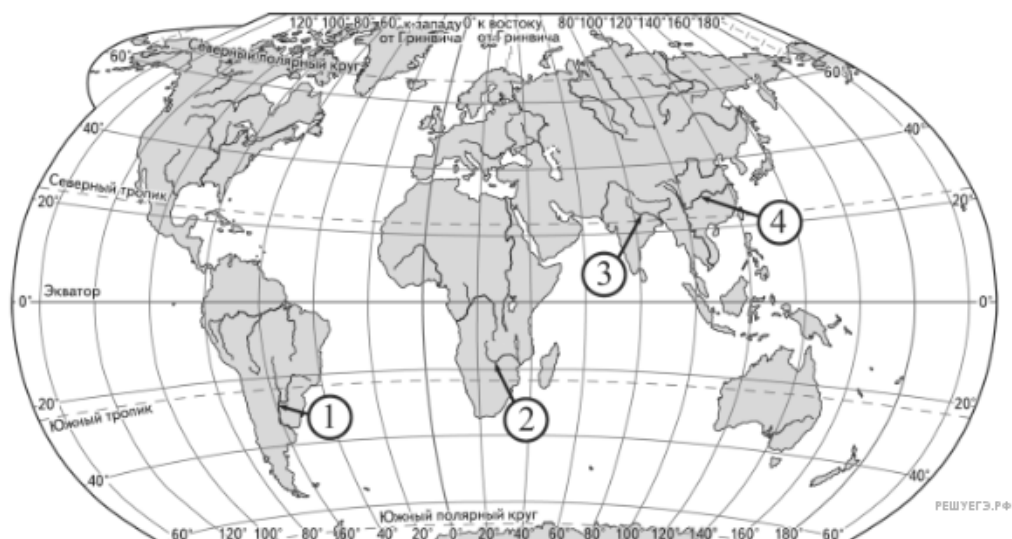
Карта составлена по состоянию на 01.01.2013

ТЕЧЕНИЕ	ОБОЗНАЧЕНИЕ НА КАРТЕ
А) Перуанское	1) 1
Б) Канарское	2) 2
В) Кurocиo	3) 3
	4) 4

Запишите в ответ цифры, расположив их в порядке, соответствующем буквам:

А	Б	В

11. Установите соответствие между рекой и её обозначением на карте.



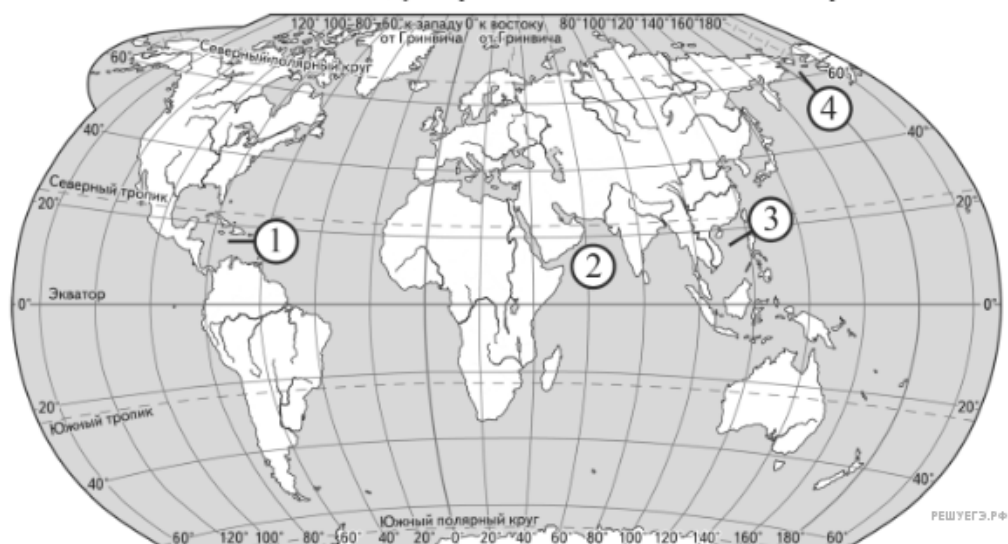
Карта составлена по состоянию на 01.01.2013

РЕКА	ОБОЗНАЧЕНИЕ НА КАРТЕ
А) Ганг	1) 1
Б) Янцзы	2) 2
В) Парана	3) 3
	4) 4

Запишите в ответ цифры, расположив их в порядке, соответствующем буквам:

А	Б	В

12. Установите соответствие между морем и его обозначением на карте.



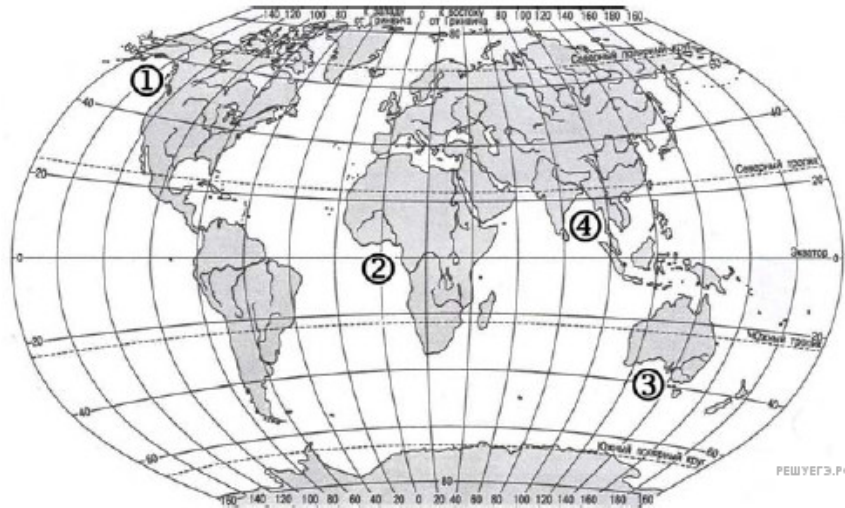
Карта составлена по состоянию на 01.01.2013

МОРЕ	ОБОЗНАЧЕНИЕ НА КАРТЕ
А) Карибское	1) 1
Б) Южно-Китайское	2) 2
В) Берингово	3) 3
	4) 4

Запишите в ответ цифры, расположив их в порядке, соответствующем буквам:

А	Б	В

13. Установите соответствие между заливом и его расположением на карте, обозначенным цифрой.



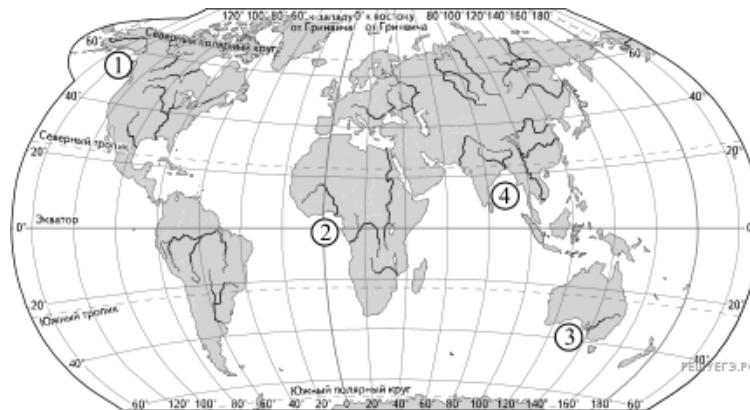
Карта составлена по состоянию на 01.01.2014

ЗАЛИВ	ОБОЗНАЧЕНИЕ НА КАРТЕ
А) Гвинейский	1) 1
Б) Бенгальский	2) 2
В) Аляска	3) 3
	4) 4

Запишите в ответ цифры, расположив их в порядке, соответствующем буквам:

А	Б	В

14. Установите соответствие между заливом и его обозначением на карте мира: к каждому элементу первого столбца подберите соответствующий элемент из второго столбца.



Карта составлена по состоянию на 01.01.2015

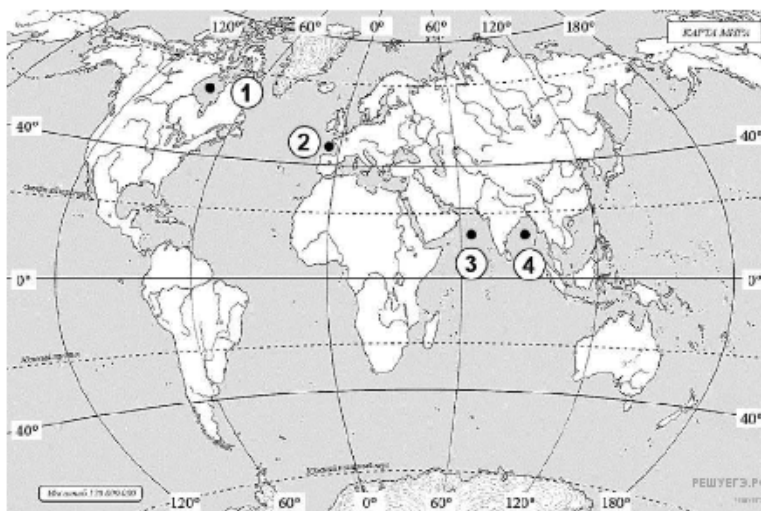
ЗАЛИВ	ОБОЗНАЧЕНИЕ НА КАРТЕ
А) Гвинейский	1) 1
Б) Бенгальский	2) 2
В) Аляска	3) 3
	4) 4

Запишите в таблицу выбранные цифры под соответствующими буквами.

Запишите в ответ цифры, расположив их в порядке, соответствующем буквам:

А	Б	В

15. Установите соответствие между заливом и его обозначением на карте мира: к каждому элементу первого столбца подберите соответствующий элемент из второго столбца.



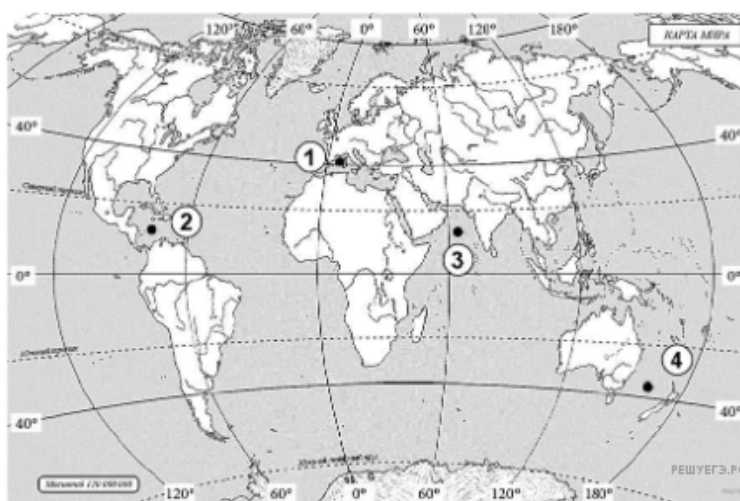
Карта составлена по состоянию на 01.01.2014

ЗАЛИВ	ОБОЗНАЧЕНИЕ НА КАРТЕ
А) Бенгальский	1) 1
Б) Бискайский	2) 2
В) Гудзонов	3) 3
	4) 4

Запишите в ответ цифры, расположив их в порядке, соответствующем буквам:

А	Б	В

16. Установите соответствие между морем и его обозначением на карте мира: к каждому элементу первого столбца подберите соответствующий элемент из второго столбца.



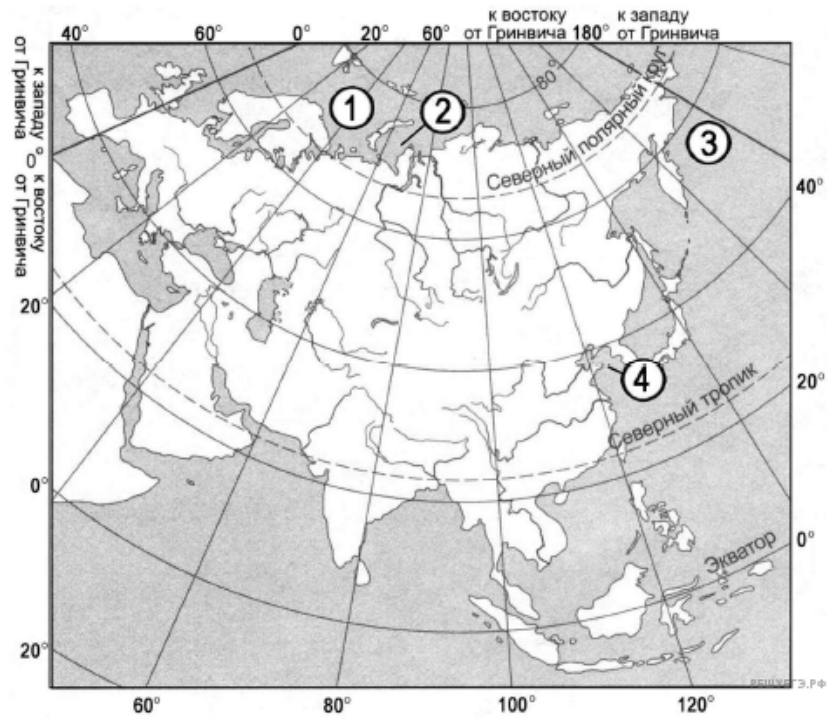
Карта составлена по состоянию на 01.01.2014

МОРЕ	ОБОЗНАЧЕНИЕ НА КАРТЕ
А) Карибское	1) 1
Б) Аравийское	2) 2
В) Средиземное	3) 3
	4) 4

Запишите в ответ цифры, расположив их в порядке, соответствующем буквам:

А	Б	В

17. Установите соответствие между морем и его обозначением на карте мира: к каждому элементу первого столбца подберите соответствующий элемент из второго столбца.



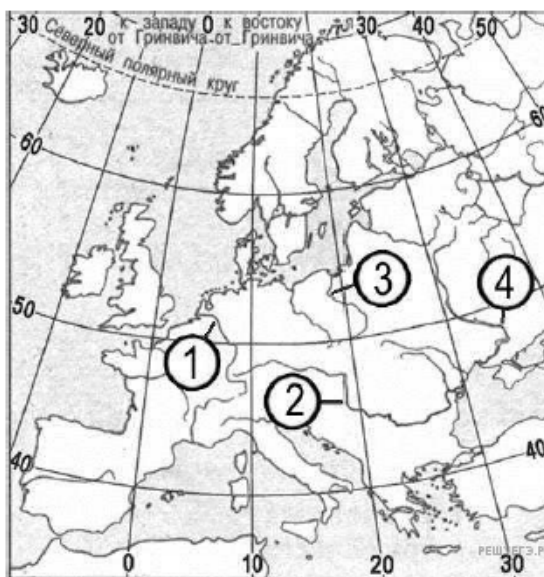
Карта составлена по состоянию на 01.01.2015

МОРЕ	ОБОЗНАЧЕНИЕ НА КАРТЕ
А) Баренцево	1) 1
Б) Берингово	2) 2
В) Жёлтое	3) 3
	4) 4

Запишите в ответ цифры, расположив их в порядке, соответствующем буквам:

А	Б	В

18. Установите соответствие между рекой и её обозначением на карте мира: к каждому элементу первого столбца подберите соответствующий элемент из второго столбца.



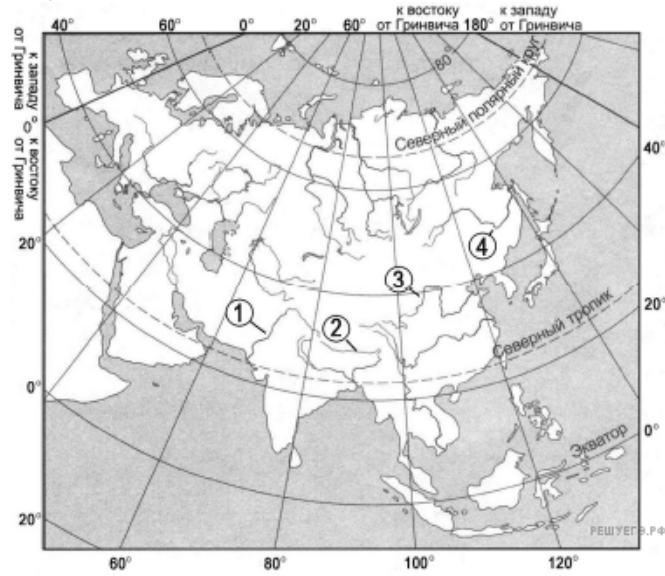
Карта составлена по состоянию на 01.01.2015

РЕКА	ОБОЗНАЧЕНИЕ НА КАРТЕ
А) Дунай	1) 1
Б) Рейн	2) 2
В) Днепр	3) 3
	4) 4

Запишите в ответ цифры, расположив их в порядке, соответствующем буквам:

А	Б	В

19. Установите соответствие между рекой и её обозначением на карте Евразии: к каждому элементу первого столбца подберите соответствующий элемент из второго столбца.



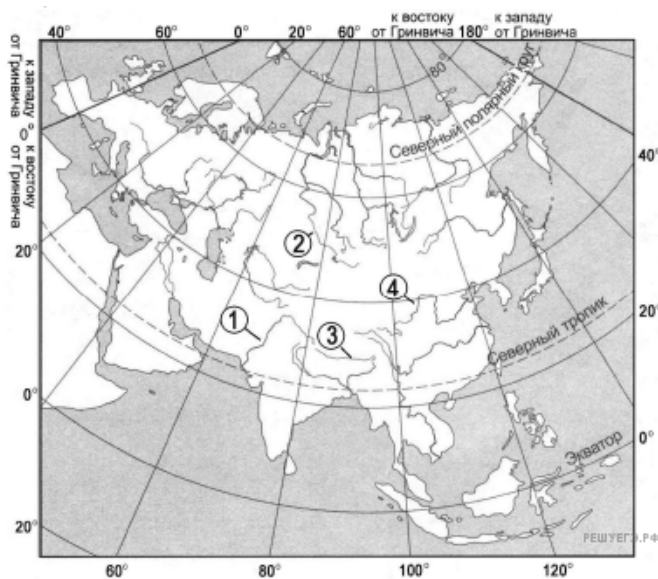
Карта составлена по состоянию на 01.01.2015

РЕКА	ОБОЗНАЧЕНИЕ НА КАРТЕ
А) Инд	1) 1
Б) Хуанхэ	2) 2
В) Амур	3) 3
	4) 4

Запишите в ответ цифры, расположив их в порядке, соответствующем буквам:

А	Б	В

20. Установите соответствие между рекой и её обозначением на карте Евразии: к каждому элементу первого столбца подберите соответствующий элемент из второго столбца.



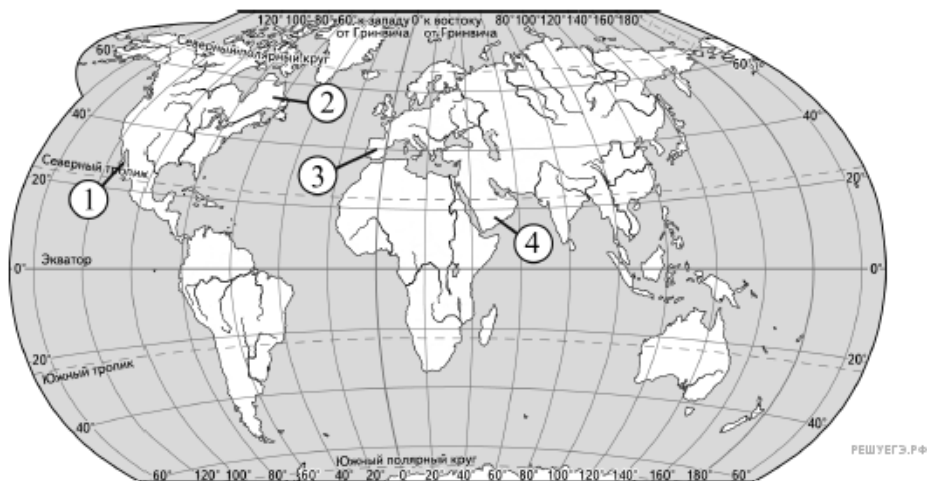
Карта составлена по состоянию на 01.01.2015

РЕКА	ОБОЗНАЧЕНИЕ НА КАРТЕ
А) Хуанхэ	1) 1
Б) Инд	2) 2
В) Брахмапутра	3) 3
	4) 4

Запишите в ответ цифры, расположив их в порядке, соответствующем буквам:

А	Б	В

21. Установите соответствие между полуостровом и его обозначением на карте мира: к каждому элементу первого столбца подберите соответствующий элемент из второго столбца.



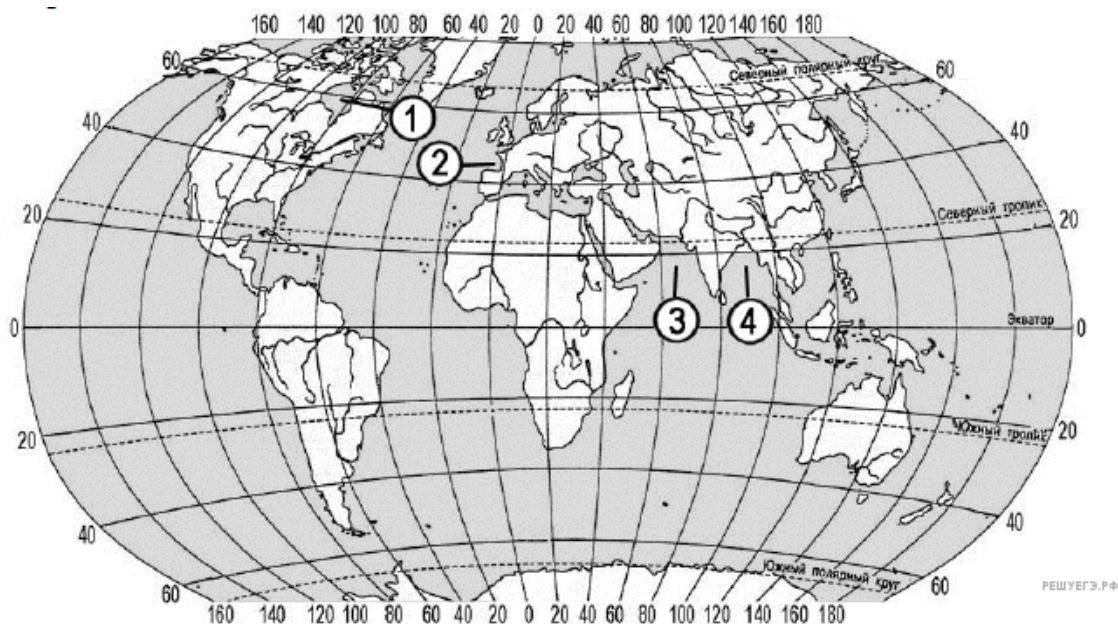
Карта составлена по состоянию на 01.01.2015

ПОЛУОСТРОВ	ОБОЗНАЧЕНИЕ НА КАРТЕ
А) Аравийский	1) 1
Б) Пиренейский	2) 2
В) Лабрадор	3) 3
	4) 4

Запишите в таблицу выбранные цифры под соответствующими буквами.

А	Б	В

22. Установите соответствие между заливом и его обозначением на карте: к каждому элементу первого столбца подберите соответствующий элемент из второго столбца.



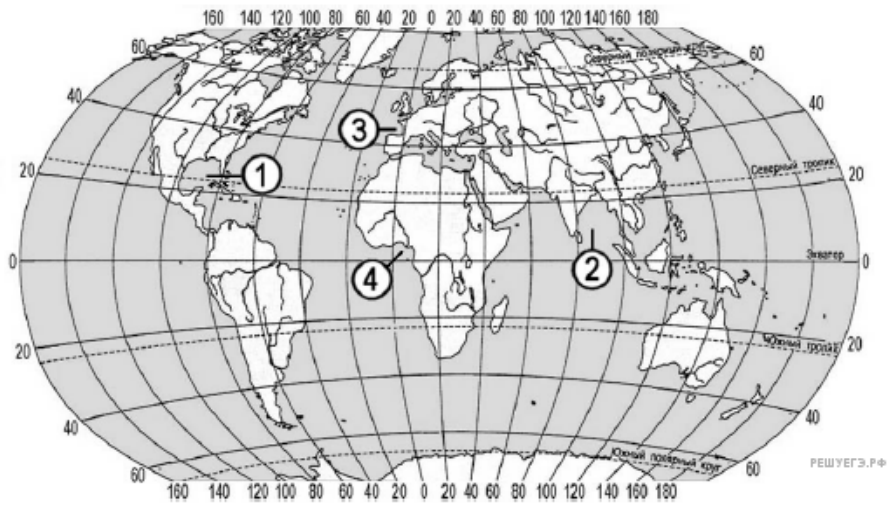
Карта составлена по состоянию на 01.01.2015

ЗАЛИВ	ОБОЗНАЧЕНИЕ НА КАРТЕ
А) Гудзонов	1) 1
Б) Бенгальский	2) 2
В) Бискайский	3) 3
	4) 4

Запишите в ответ цифры, расположив их в порядке, соответствующем буквам:

А	Б	В

23. Установите соответствие между заливом и его обозначением на карте: к каждому элементу первого столбца подберите соответствующий элемент из второго столбца.



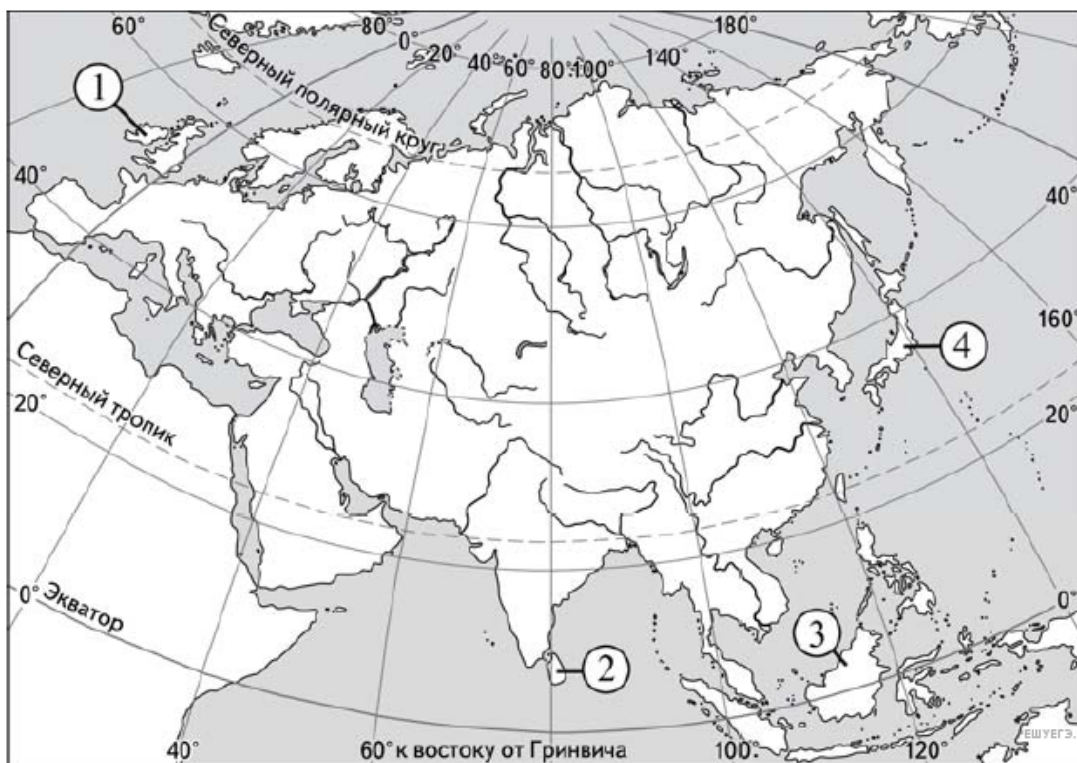
Карта составлена по состоянию на 01.01.2015

ЗАЛИВ	ОБОЗНАЧЕНИЕ НА КАРТЕ
А) Гвинейский	1) 1
Б) Бенгальский	2) 2
В) Бискайский	3) 3
	4) 4

Запишите в ответ цифры, расположив их в порядке, соответствующем буквам:

А	Б	В

24. Установите соответствие между островом и его обозначением на карте Евразии: к каждому элементу первого столбца подберите соответствующий элемент из второго столбца.



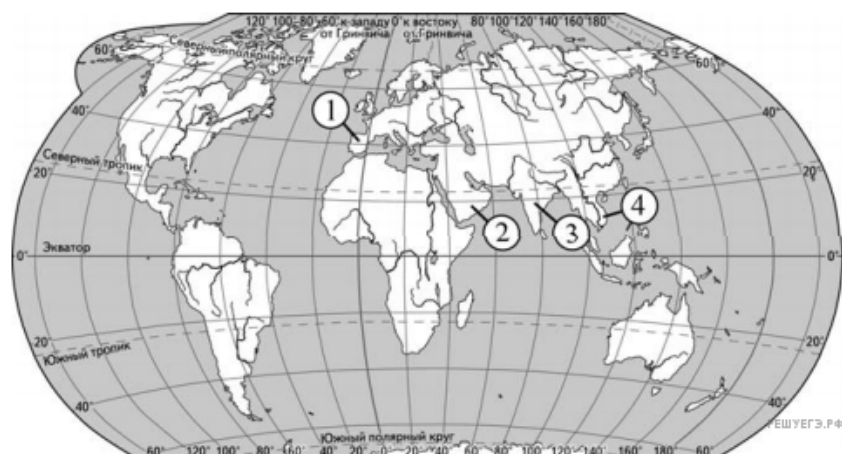
Карта составлена по состоянию на 01.01.2016

ОСТРОВ	ОБОЗНАЧЕНИЕ НА КАРТЕ
А) Шри-Ланка	1) 1
Б) Калимантан	2) 2
В) Ирландия	3) 3
	4) 4

Запишите в ответ цифры, расположив их в порядке, соответствующем буквам:

А	Б	В

25. Установите соответствие между полуостровом и его обозначением на карте мира: к каждому элементу первого столбца подберите соответствующий элемент из второго столбца.



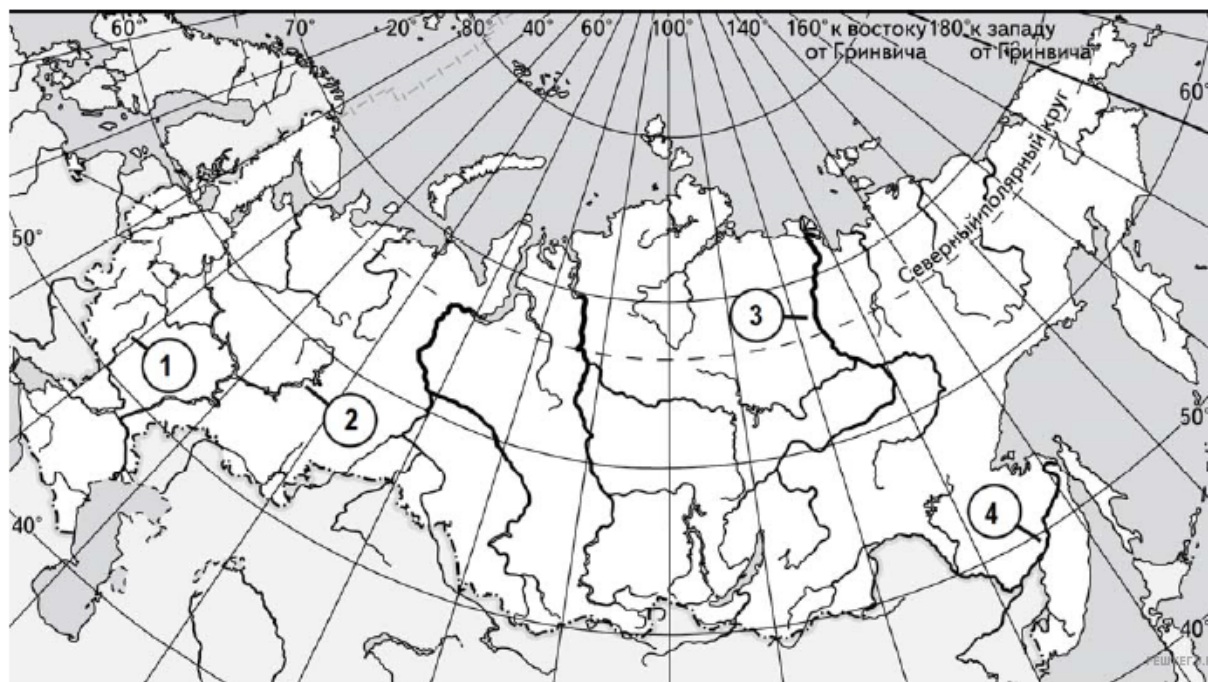
Карта составлена по состоянию на 01.01.2017

ПОЛУОСТРОВ	ОБОЗНАЧЕНИЕ НА КАРТЕ
А) Пиренейский	1) 1
Б) Индостан	2) 2
В) Индокитай	3) 3
	4) 4

Запишите в ответ цифры, расположив их в порядке, соответствующем буквам:

А	Б	В

26. Установите соответствие между рекой и её обозначением на карте: к каждому элементу первого столбца подберите соответствующий элемент из второго столбца.



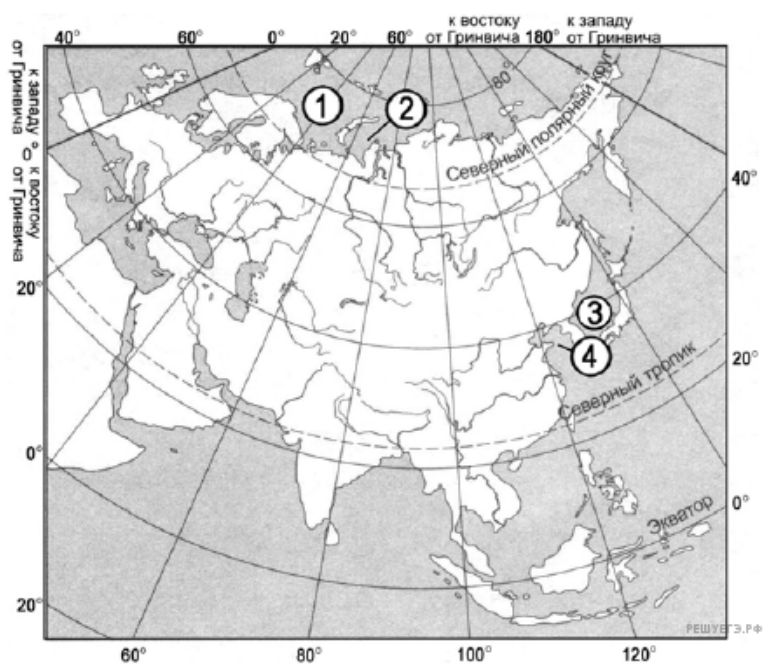
Карта составлена по состоянию на 01.01.2016

РЕКА	ОБОЗНАЧЕНИЕ НА КАРТЕ
А) Амур	1) 1
Б) Кама	2) 2
В) Лена	3) 3
	4) 4

Запишите в ответ цифры, расположив их в порядке, соответствующем буквам:

А	Б	В

27. Установите соответствие между морем и его обозначением на карте: к каждому элементу первого столбца подберите соответствующий элемент из второго столбца.



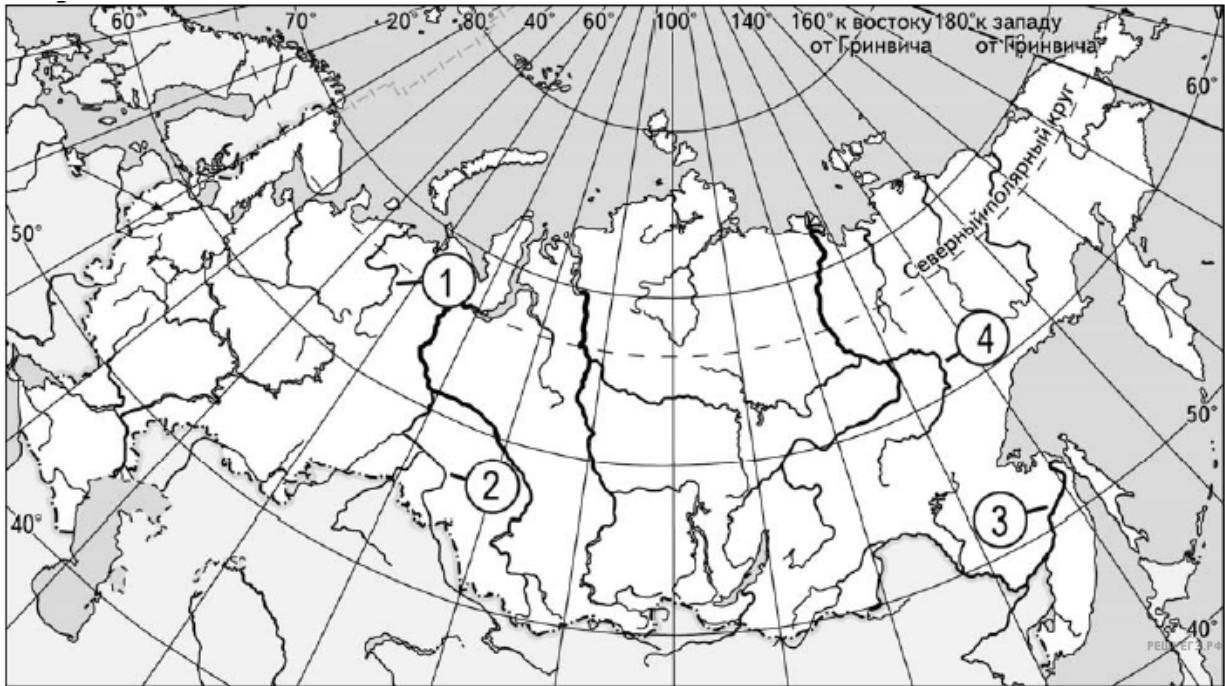
Карта составлена по состоянию на 01.01.2017

МОРЕ	ОБОЗНАЧЕНИЕ НА КАРТЕ
А) Баренцево	1) 1
Б) Жёлтое	2) 2
В) Японское	3) 3
	4) 4

Запишите в ответ цифры, расположив их в порядке, соответствующем буквам:

А	Б	В

28. Установите соответствие между рекой и её обозначением на карте: к каждому элементу первого столбца подберите соответствующий элемент из второго столбца.



Карта составлена по состоянию на 01.01.2017

РЕКА	ОБОЗНАЧЕНИЕ НА КАРТЕ
А) Алдан	1) 1
Б) Иртыш	2) 2
В) Печора	3) 3
	4) 4

Запишите в ответ цифры, расположив их в порядке, соответствующем буквам:

А	Б	В

29. Расположите перечисленные моря с юга на север в том порядке, в котором они располагаются на карте мира, начиная с самого южного.

1. Берингово.
2. Жёлтое.
3. Охотское.

Запишите в таблицу получившуюся последовательность цифр.

30. Расположите перечисленные части Мирового океана с запада на восток в том порядке, в котором они располагаются на карте мира, начиная с самого западного.

1. Гибралтарский пролив.
2. Мексиканский залив.
3. Персидский залив.

Запишите получившуюся последовательность цифр.

31. Расположите перечисленные моря с запада на восток в том порядке, в котором они располагаются на карте России, начиная с самого западного.

1. Баренцево.
2. Карское.
3. Море Лаптевых.

Запишите в таблицу получившуюся последовательность цифр.

32. Расположите части Атлантического океана с запада на восток в том порядке, в котором они располагаются на карте мира, начиная с самого западного.

1. Залив Ла-Плата.
2. Мексиканский залив.
3. Бискайский залив.

Запишите в таблицу получившуюся последовательность цифр.

33. Расположите части Мирового океана с востока на запад (от 180° долготы) в том порядке, в котором они располагаются на карте мира, начиная с самого восточного.

1. Саргассово море.
2. Персидский залив.
3. Пролив Ла-Манш.

Запишите в таблицу получившуюся последовательность цифр.

34. Расположите перечисленные заливы с запада на восток в том порядке, в котором они располагаются на карте мира, начиная с самого западного.

1. Мексиканский.
2. Персидский.
3. Бенгальский.

Запишите в ответ получившуюся последовательность цифр.

35. Расположите перечисленные горные системы с запада на восток в том порядке, в котором они располагаются на карте мира, начиная с самой западной.

1. Альпы.
2. Аппалачи.
3. Памир.

Запишите в ответ получившуюся последовательность цифр.

36. Расположите перечисленные горные системы с севера на юг в том порядке, в котором они располагаются на карте мира, начиная с самой северной.

1. Альпы.
2. Атлас.
3. Скандинавские горы.

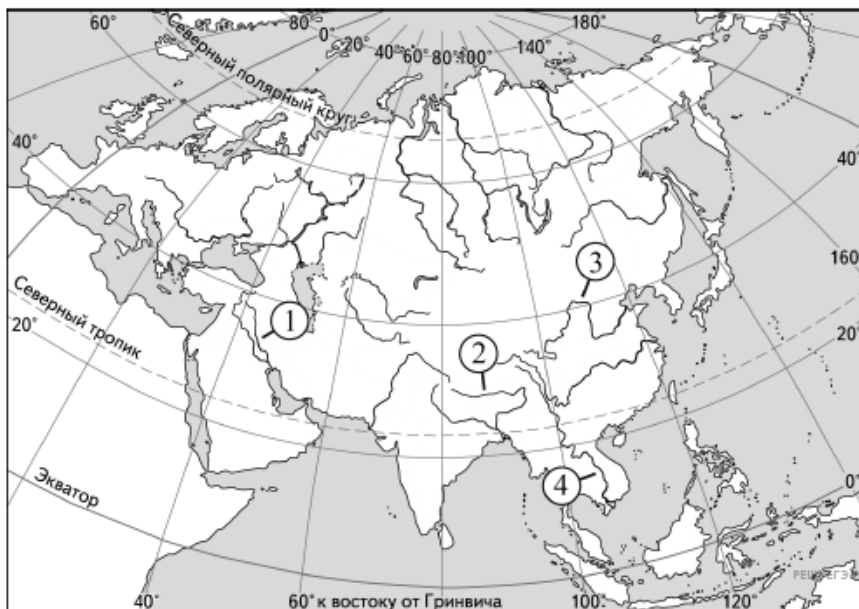
Запишите в ответ получившуюся последовательность цифр.

37. Расположите перечисленные части Мирового океана с юга на север в том порядке, в котором они располагаются на карте мира, начиная с самого южного.

1. Красное море.
2. Белое море.
3. Чёрное море.

Запишите в ответ получившуюся последовательность цифр.

38. Установите соответствие между рекой и её обозначением на карте Евразии: к каждому элементу первого столбца подберите соответствующий элемент из второго столбца.



Карта составлена по состоянию на 01.01.2019

РЕКА	ОБОЗНАЧЕНИЕ НА КАРТЕ
А) Тигр	1) 1
Б) Меконг	2) 2
В) Хуанхэ	3) 3
	4) 4

Запишите в ответ цифры, расположив их в порядке, соответствующем буквам:

А	Б	В

39. Расположите перечисленные горные страны с севера на юг в том порядке, в котором они располагаются на карте мира в справочных материалах, начиная с самой северной.

1. Атлас.
2. Карпаты.
3. Скандинавские горы.

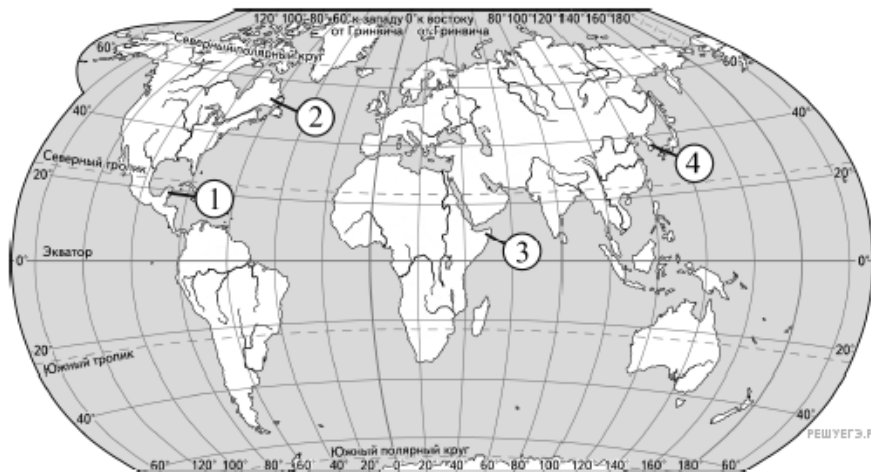
Запишите в таблицу получившуюся последовательность цифр.

40. Расположите перечисленные горные страны с запада на восток в том порядке, в котором они располагаются на карте мира в справочных материалах, начиная с самой западной.

1. Пиренеи.
2. Аппалачи.
3. Памир.

Запишите в таблицу получившуюся последовательность цифр.

41. Установите соответствие между полуостровом и его обозначением на карте мира: к каждому элементу первого столбца подберите соответствующий элемент из второго столбца.



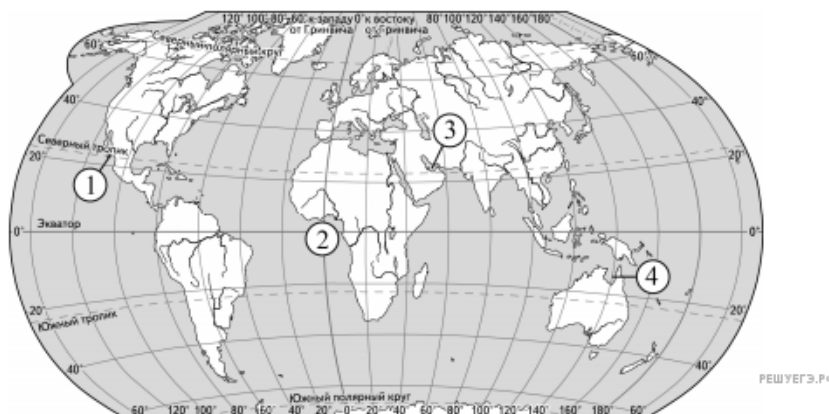
Карта составлена по состоянию на 01.01.2020

ПОЛУОСТРОВ	ОБОЗНАЧЕНИЕ НА КАРТЕ
А) Сомали	1) 1
Б) Лабрадор	2) 2
В) Юкатан	3) 3
	4) 4

Запишите в ответ цифры, расположив их в порядке, соответствующем буквам:

А	Б	В

42. Установите соответствие между заливом и его обозначением на карте мира: к каждому элементу первого столбца подберите соответствующий элемент из второго столбца.



Карта составлена по состоянию на 01.01.2020

ЗАЛИВ

ОБОЗНАЧЕНИЕ НА КАРТЕ

- | | |
|-------------------|------|
| А) Персидский | 1) 1 |
| Б) Калифорнийский | 2) 2 |
| В) Гвинейский | 3) 3 |
| | 4) 4 |

Запишите в ответ цифры, расположив их в порядке, соответствующем буквам:

А	Б	В

43. Расположите перечисленные моря с юга на север в том порядке, в котором они располагаются на карте мира, начиная с самого южного.

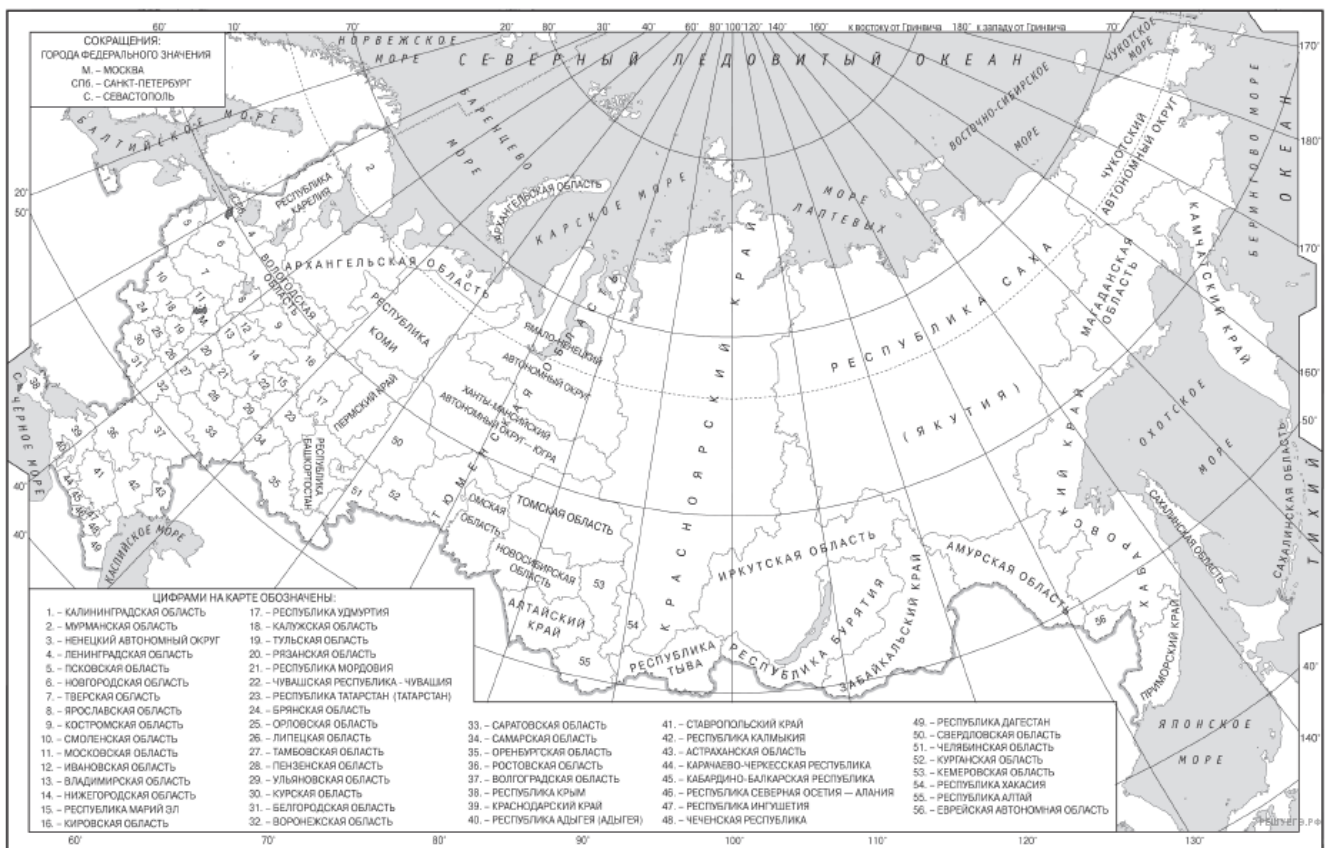
1. Берингово.
2. Японское.
3. Охотское.

44. Расположите перечисленные моря с юга на север в том порядке, в котором они располагаются на карте мира, начиная с самого южного.

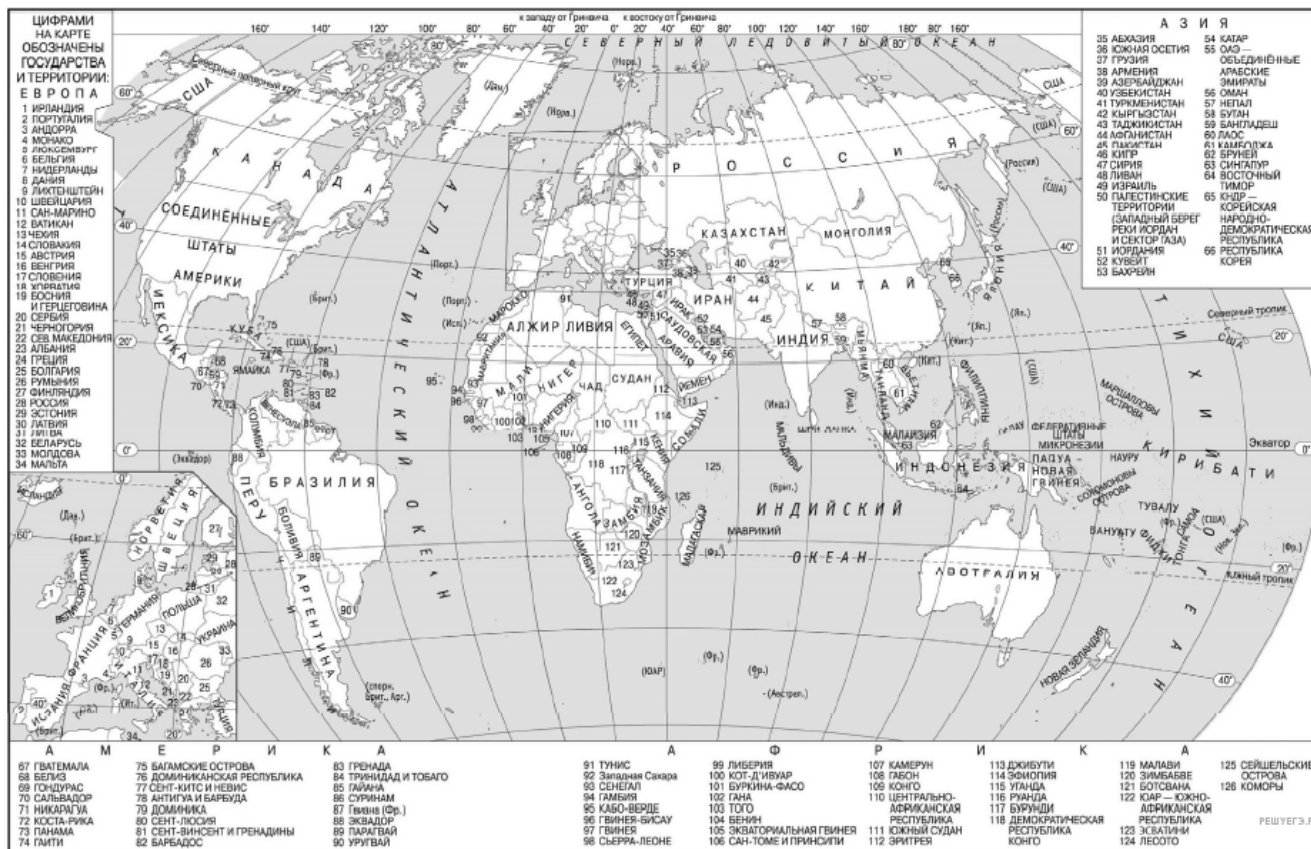
1. Чукотское.
2. Жёлтое.
3. Охотское.

45. Расположите перечисленные острова с запада на восток в том порядке, в котором они располагаются на карте мира в справочных материалах, начиная с самого западного.

1. Калимантан.
2. Куба.
3. Шри-Ланка.



Карта составлена по состоянию на 01.01.2021



Карта составлена по состоянию на 01.01.2021

46. Расположите перечисленные части Мирового океана с запада на восток в том порядке, в котором они расположены на карте мира и в справочных материалах, начиная с самой западной.

1. Аравийское море.
2. Бенгальский залив.
3. Гвинейский залив.

Запишите получившуюся последовательность цифр.

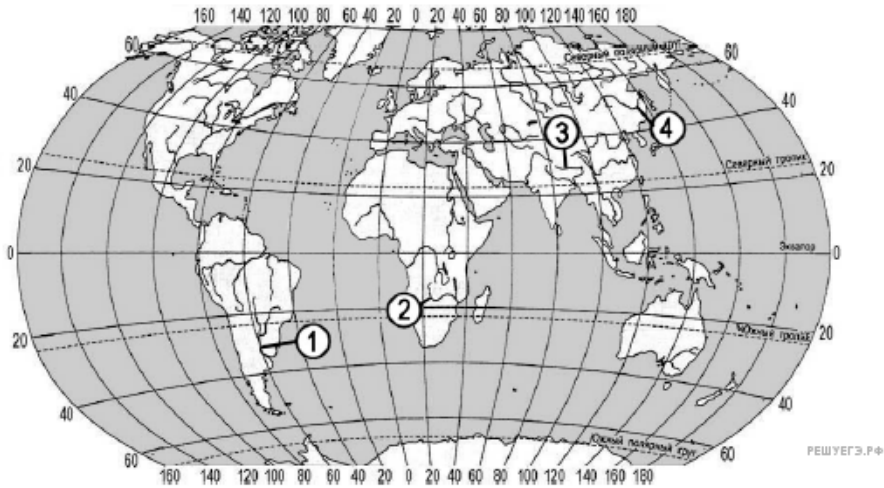
47. Расположите перечисленные горные страны с севера на юг в том порядке, в котором они располагаются на карте мира, начиная с самой северной.

1. Атлас.
2. Карпаты.
3. Драконовы горы.

48. Расположите перечисленные географические объекты с запада на восток в том порядке, в котором они располагаются на карте мира, начиная с самого западного.

1. Озеро Виктория.
2. Река Амазонка.
3. Река Конго.

49. Установите соответствие между рекой и её обозначением на карте: к каждому элементу первого столбца подберите соответствующий элемент из второго столбца.



Карта составлена по состоянию на 01.01.2021

РЕКА	ОБОЗНАЧЕНИЕ НА КАРТЕ
А) Амур	1) 1
Б) Брахмапутра	2) 2
В) Парана	3) 3
	4) 4

Запишите в таблицу выбранные цифры под соответствующими буквами.

50. Расположите перечисленные реки с запада на восток в том порядке, в котором они располагаются на карте Евразии, начиная с самой западной.

1. Лена.
2. Днепр.
3. Енисей.

Запишите в таблицу получившуюся последовательность цифр.

51. Расположите перечисленные части Мирового океана с запада на восток в том порядке, в котором они располагаются на карте мира, начиная с самой западной.

1. Бенгальский залив.
2. Красное море.
3. Карибское море.

Запишите в таблицу выбранные цифры под соответствующими буквами.

52. Расположите перечисленные острова с запада на восток в том порядке, в котором они располагаются на карте мира в справочных материалах, начиная с самого западного.

1. Сицилия.
2. Ньюфаундленд.
3. Хонсю.

Запишите в таблицу получившуюся последовательность цифр.

53. Установите соответствие между полуостровом и его обозначением на карте мира: к каждому элементу первого столбца подберите соответствующий элемент из второго столбца.



Карта составлена по состоянию на 01.09.2023

ПОЛУОСТРОВ	ОБОЗНАЧЕНИЕ НА КАРТЕ
А) Камчатка	1) 1
Б) Кейп-Йорк	2) 2
В) Калифорния	3) 3
	4) 4

Запишите в таблицу выбранные цифры под соответствующими буквами:

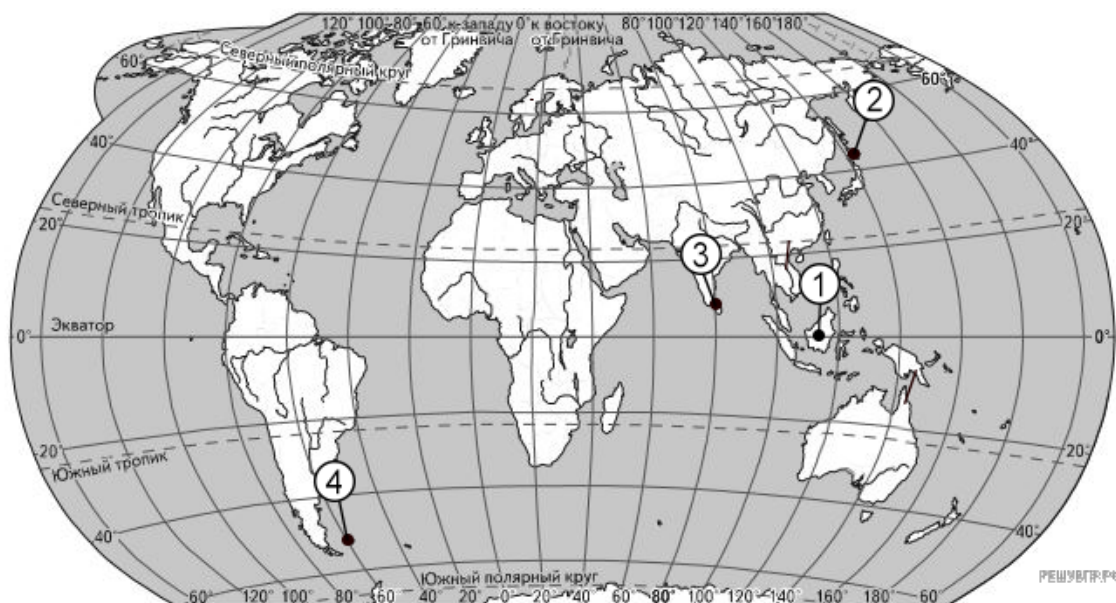
А	Б	В

54. Расположите перечисленные реки с запада на восток в том порядке, в котором они расположе- ны на карте Евразии, начиная с самой западной.

1. Енисей.
2. Лена.
3. Дунай.

Запишите получившуюся последовательность цифр.

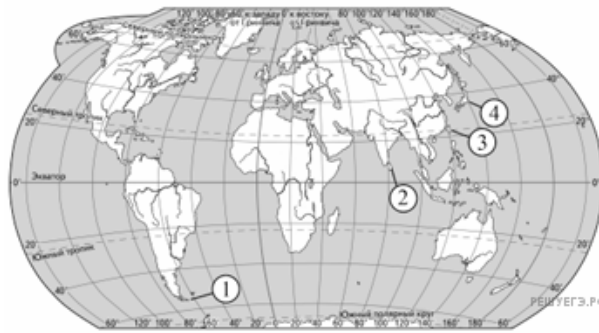
55. Соотнесите острова и их обозначения на карте.



Карта составлена по состоянию на 01.01.2024

- А) Хоккайдо
- Б) Калимантан
- В) Шри-Ланка

56. Установите соответствие между островом и его обозначением на карте мира: к каждому элементу первого столбца подберите соответствующий элемент из второго столбца.



ОСТРОВ	ОБОЗНАЧЕНИЕ НА КАРТЕ
А) Хонсю	1) 1
Б) Огненная Земля	2) 2
В) Шри-Ланка	3) 3
	4) 4

Запишите в таблицу выбранные цифры под соответствующими буквами.

А	Б	В

57. Расположите перечисленные озера с запада на восток в том порядке, в котором они располагаются на карте мира справочных материалов, начиная с самого западного.

- 1) Балхаш
- 2) Ханка
- 3) Балатон

Запишите получившуюся последовательность чисел.

58. Расположите перечисленные заливы с севера на юг в том порядке, в котором они располагаются на карте мира справочных материалов, начиная с самого северного.

- 1) Бискайский
- 2) Бенгальский
- 3) Гудзонов

Запишите получившуюся последовательность цифр.