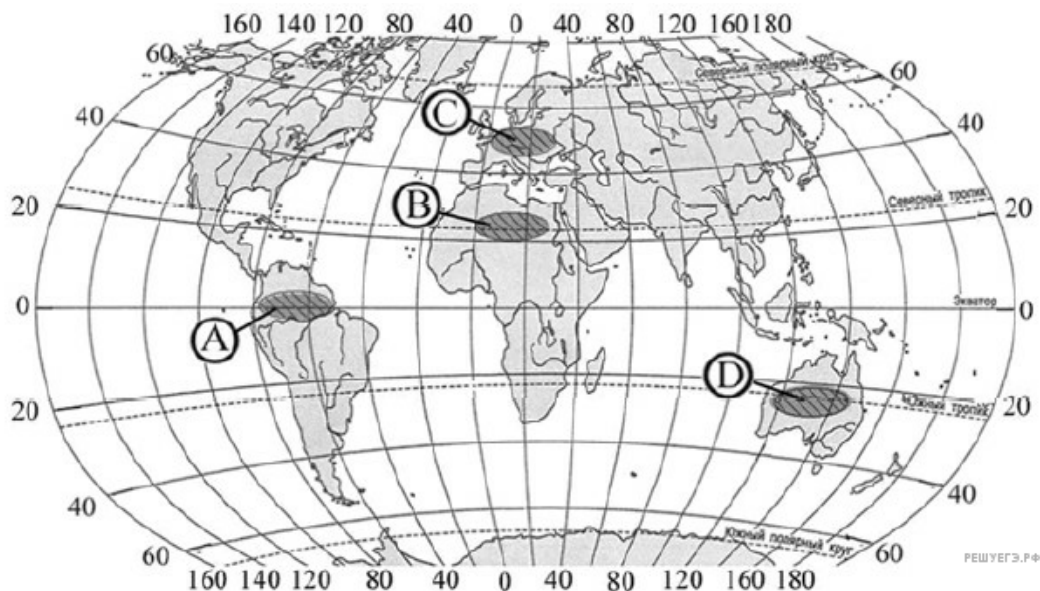


1. В какой из перечисленных стран средняя плотность населения наибольшая?

- 1) Япония
- 2) Турция
- 3) Бразилия
- 4) Мексика

2. Какой из регионов, обозначенных буквами на карте мира, является наиболее густонаселённым?



- 1) A
- 2) B
- 3) C
- 4) D

3. В какой из перечисленных стран средняя плотность населения наименьшая?

- 1) Бангладеш
- 2) Монголия
- 3) Германия
- 4) Швеция

4. В какой из перечисленных стран средняя плотность населения наибольшая?

- 1) Австралия
- 2) Индия
- 3) Бразилия
- 4) Канада

5. Какая из перечисленных стран имеет наибольшую среднюю плотность населения?

- 1) Канада
- 2) Монголия
- 3) Япония
- 4) Ливия

6. В какой из перечисленных стран средняя плотность населения наименьшая?

- 1) Германия
- 2) Швеция
- 3) Бангладеш
- 4) Монголия

7. В какой из перечисленных стран средняя плотность населения наименьшая?

- 1) Таиланд
- 2) Япония
- 3) Саудовская Аравия
- 4) Бангладеш

8. В какой из перечисленных стран средняя плотность населения наибольшая?

- 1) Египет
- 2) Бразилия
- 3) Франция
- 4) Бангладеш

9. Какой из перечисленных регионов наиболее густо заселён?

1. Полуостров Индостан
2. Аравийский полуостров
3. Западно-Сибирская равнина
4. Амазонская низменность

10. В какой из перечисленных стран средняя плотность населения наибольшая?

- 1) Саудовская Аравия
- 2) Индия
- 3) Монголия
- 4) Австралия

11. В какой из перечисленных стран средняя плотность населения наибольшая?

- 1) Монголия
- 2) Россия
- 3) Канада
- 4) Италия

12. В какой из перечисленных стран средняя плотность населения наибольшая?

- 1) Канада
- 2) Япония
- 3) Алжир
- 4) Бразилия

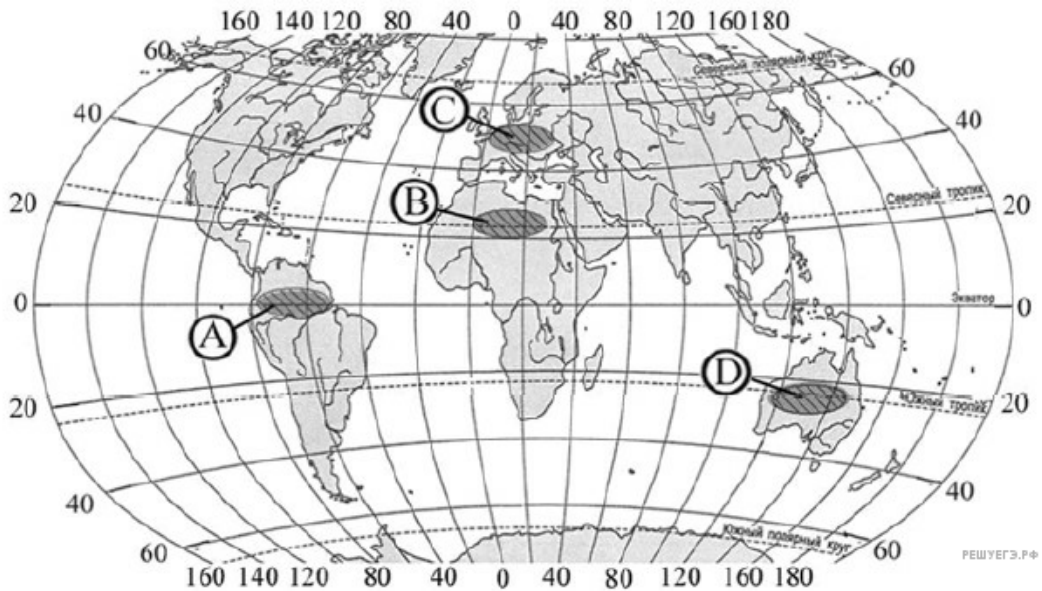
13. В какой из перечисленных стран средняя плотность населения наименьшая?

- 1) Австралия
- 2) Бельгия
- 3) Великобритания
- 4) Италия

14. В какой из перечисленных стран средняя плотность населения наименьшая?

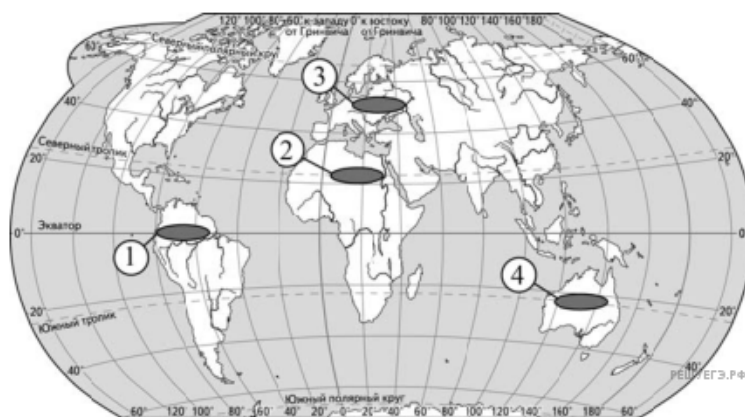
- 1) Италия
- 2) Бельгия
- 3) Австралия
- 4) Великобритания

15. Какой из регионов, обозначенных буквами на карте мира, является наиболее густонаселённым?



- 1) A
- 2) B
- 3) C
- 4) D

16. Какой из регионов, обозначенных цифрами на карте мира, является наиболее густонаселённым?



- 1) 1
- 2) 2
- 3) 3
- 4) 4

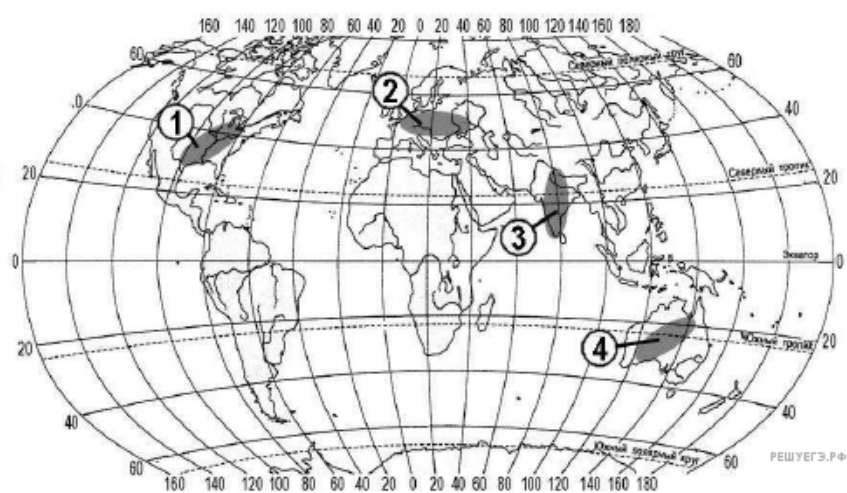
17. В каком из перечисленных регионов средняя плотность населения наименьшая?

- 1) Северная Африка
- 2) Юго-Западная Азия
- 3) Южная Азия
- 4) зарубежная Европа

18. Какой из перечисленных полуостровов имеет наибольшую плотность населения?

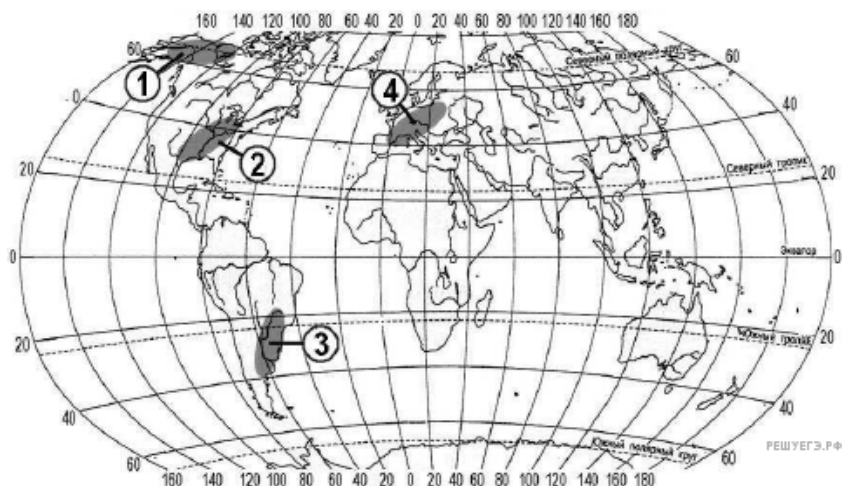
- 1) Лабрадор
- 2) Индостан
- 3) Аляска
- 4) Чукотский

19. В пределах какой из территорий, обозначенных цифрами на карте, средняя плотность населения наименьшая?



- 1) 1
- 2) 2
- 3) 3
- 4) 4

20. В пределах какой из территорий, обозначенных буквами на карте, средняя плотность населения наименьшая?



- 1) 1
- 2) 2
- 3) 3
- 4) 4

21. В какой из перечисленных стран средняя плотность населения наименьшая?

- 1) Польша
- 2) Канада
- 3) Индия
- 4) Франция

22. В какой из перечисленных стран средняя плотность населения наибольшая?

- 1) Австралия
- 2) Австрия
- 3) Канада
- 4) Монголия

23. В какой из перечисленных стран средняя плотность населения наименьшая?

- 1) Германия
- 2) Мексика
- 3) Канада
- 4) Австрия