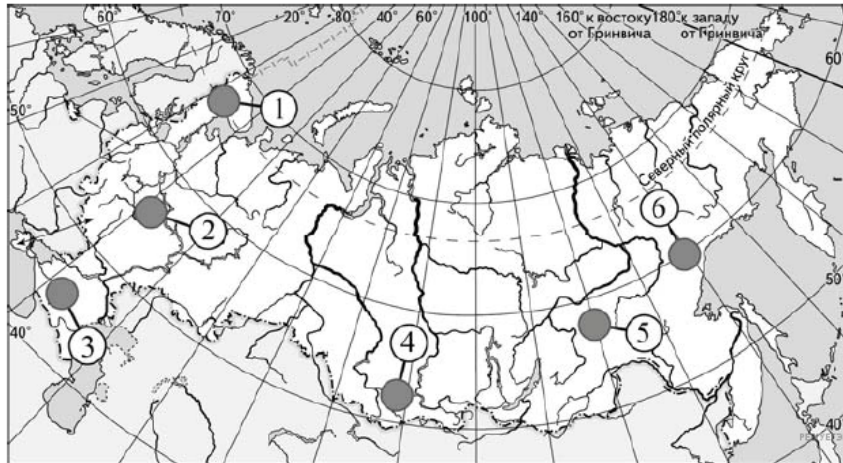
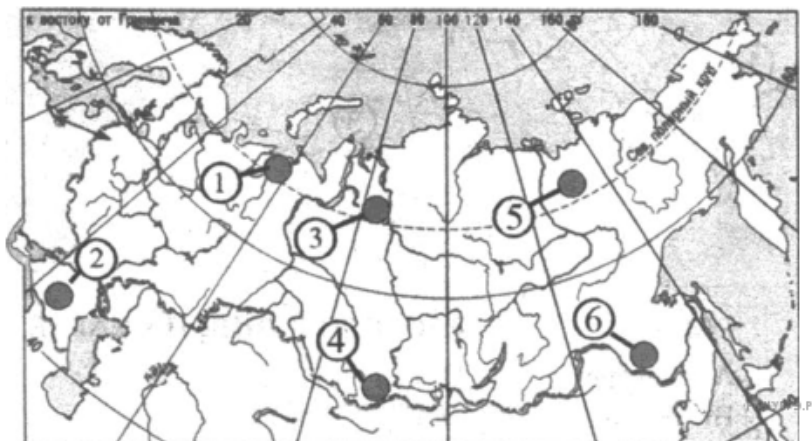


1. Какие три из обозначенных на карте России территории имеют наибольшую среднюю плотность населения? Запишите в ответ цифры в порядке возрастания цифр ответа, под которыми указаны эти территории.



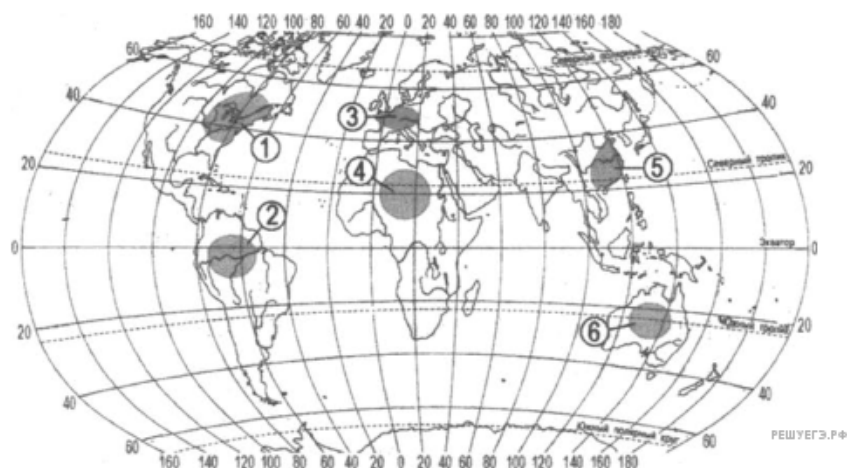
- 1) 1
- 2) 2
- 3) 3
- 4) 4
- 5) 5
- 6) 6

2. Какие три из обозначенных на карте России территории имеют наибольшую среднюю плотность населения? Запишите в ответ цифры в порядке возрастания номеров ответа, под которыми указаны эти территории.



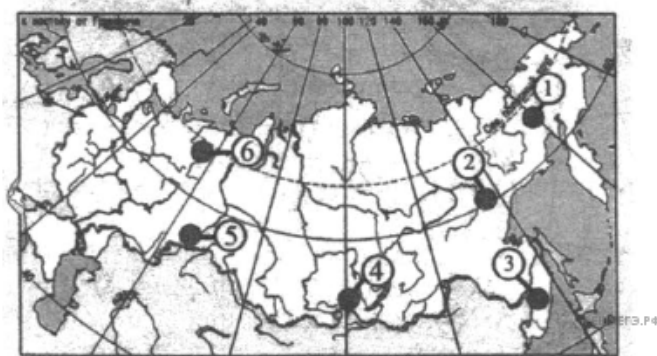
- 1) 1
- 2) 2
- 3) 3
- 4) 4
- 5) 5
- 6) 6

3. Какие три из обозначенных на карте территорий расположены в наименее густонаселенных регионах мира? Запишите в ответ цифры в порядке возрастания, под которыми указаны эти территории.



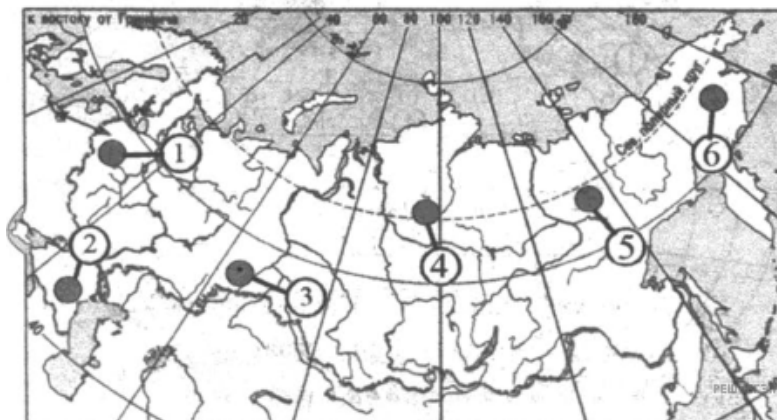
- 1) 1
- 2) 2
- 3) 3
- 4) 4
- 5) 5
- 6) 6

4. Какие три территории, из обозначенных на карте России, имеют наибольшую среднюю плотность населения? Запишите в ответ цифры в порядке возрастания, под которыми указаны эти территории.



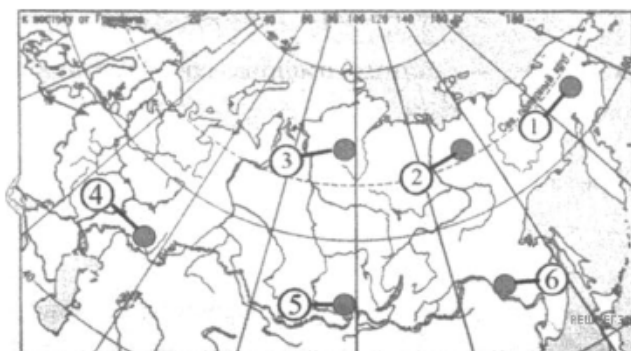
- 1) 1
- 2) 2
- 3) 3
- 4) 4
- 5) 5
- 6) 6

5. Какие три территории, из обозначенных на карте России, имеют наибольшую среднюю плотность населения? Запишите в ответ цифры в порядке возрастания, под которыми указаны эти территории.



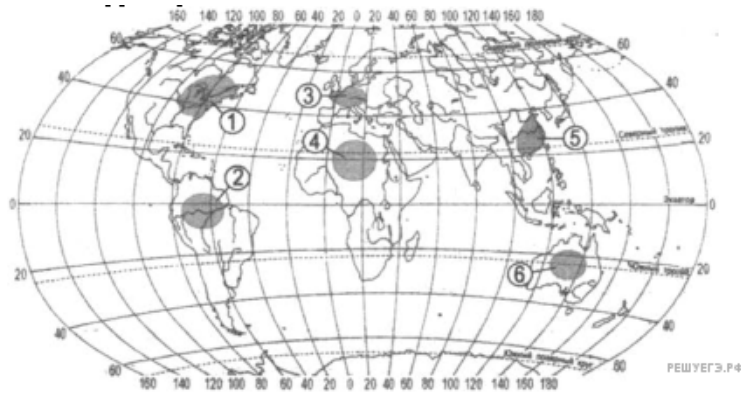
- 1) 1
- 2) 2
- 3) 3
- 4) 4
- 5) 5
- 6) 6

6. Какие три из обозначенных на карте России территорий имеют наибольшую среднюю плотность населения? Запишите в ответ цифры в порядке возрастания, под которыми указаны эти территории.



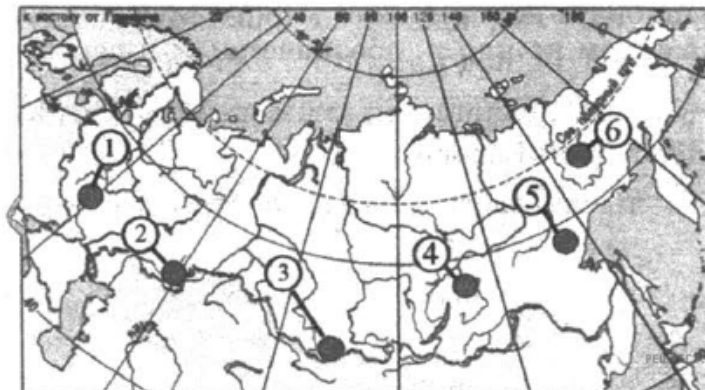
- 1) 1
- 2) 2
- 3) 3
- 4) 4
- 5) 5
- 6) 6

7. Какие три из обозначенных на карте территорий расположены в наиболее густонаселенных регионах мира? Запишите в ответ цифры в порядке возрастания, под которыми указаны эти территории.



- 1) 1
- 2) 2
- 3) 3
- 4) 4
- 5) 5
- 6) 6

8. Какие три из обозначенных на карте территорий имеют наибольшую среднюю плотность населения? Запишите в ответ цифры в порядке возрастания, под которыми указаны эти территории.



- 1) 1
- 2) 2
- 3) 3
- 4) 4
- 5) 5
- 6) 6

9. Какие три из перечисленных регионов России имеют наибольшую среднюю плотность населения? Запишите в ответ цифры в порядке возрастания, под которыми указаны эти территории.

- 1) Архангельская область
- 2) Рязанская область
- 3) Республика Якутия
- 4) Республика Алтай
- 5) Псковская область
- 6) Омская область

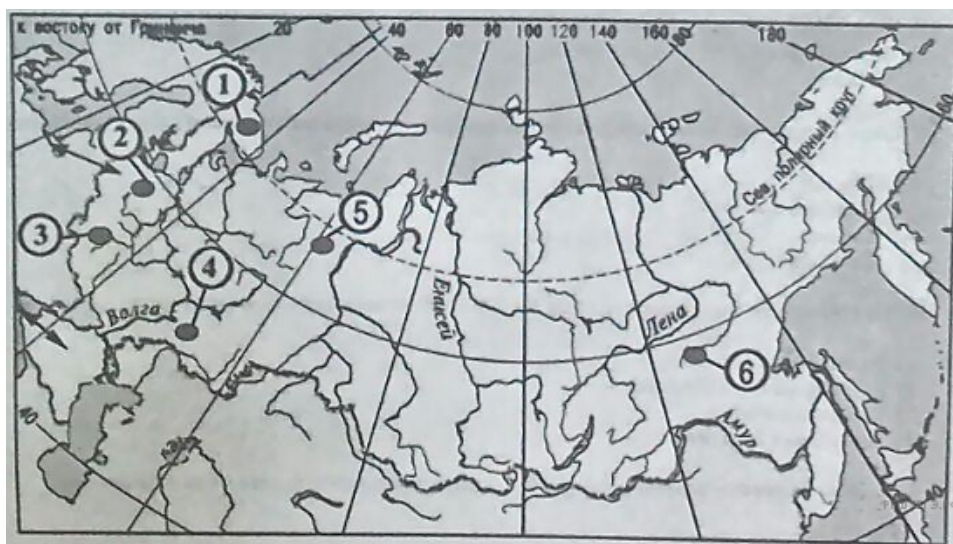
10. Какие три из перечисленных регионов России имеют наибольшую среднюю плотность населения? Запишите в ответ цифры в порядке возрастания, под которыми указаны эти территории.

- 1) Курская область
- 2) Тверская область
- 3) Республика Чувашия
- 4) Архангельская область
- 5) Мурманская область
- 6) Магаданская область

11. Какие три из перечисленных регионов России имеют наибольшую среднюю плотность населения? Запишите в ответ цифры в порядке возрастания, под которыми указаны эти территории.

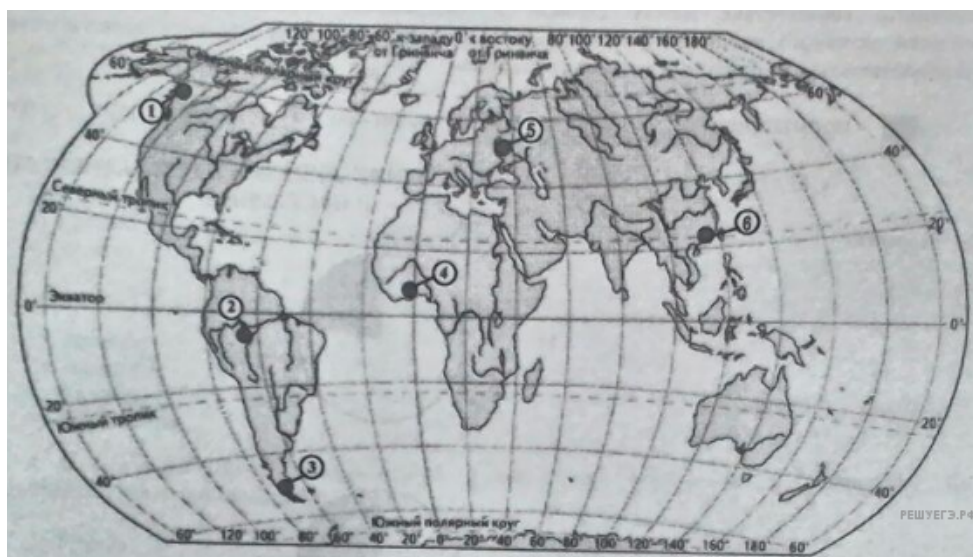
- 1) Архангельская область
- 2) Волгоградская область
- 3) Республика Татарстан
- 4) Республика Алтай
- 5) Красноярский край
- 6) Краснодарский край

12. Какие три из обозначенных на карте России территории имеют наибольшую среднюю плотность населения? Запишите в ответ цифры в порядке возрастания, под которыми указаны эти территории.



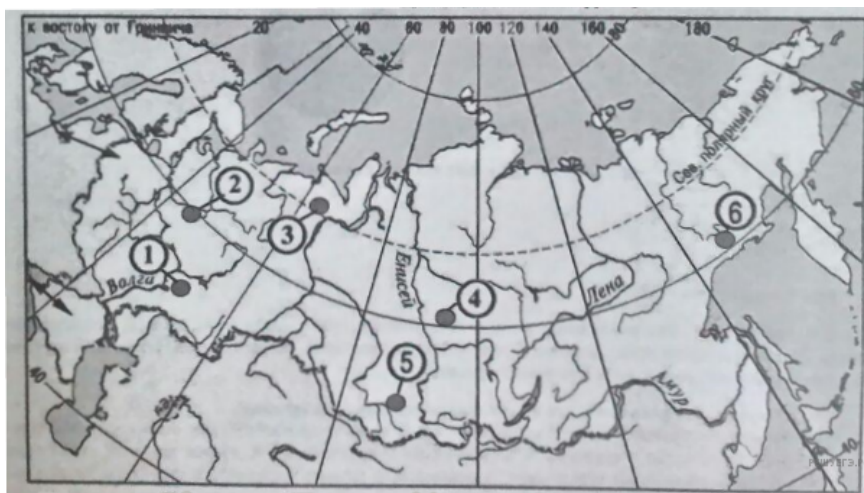
- 1) 1
- 2) 2
- 3) 3
- 4) 4
- 5) 5
- 6) 6

13. Какие три из обозначенных на карте территории имеют наибольшую среднюю плотность населения? Запишите в ответ цифры в порядке возрастания, под которыми указаны эти территории.



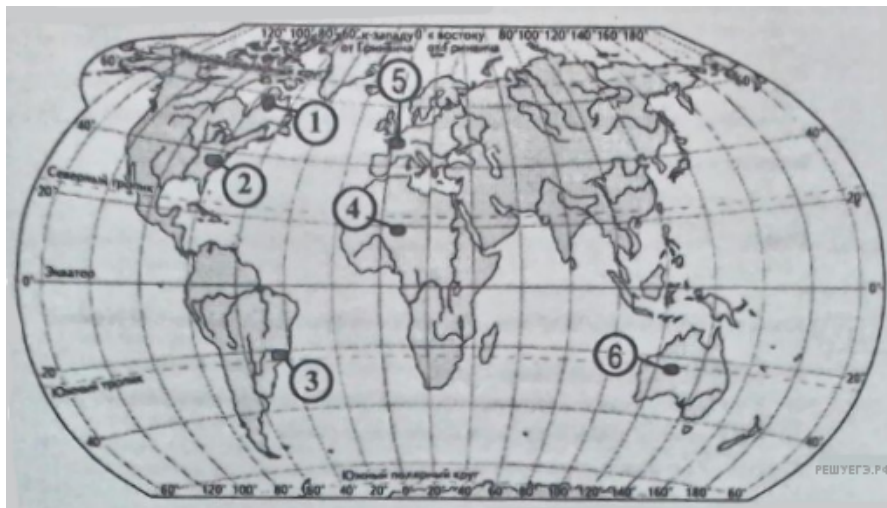
- 1) 1
- 2) 2
- 3) 3
- 4) 4
- 5) 5
- 6) 6

14. Какие три из обозначенных на карте России территории имеют наибольшую среднюю плотность населения? Запишите в ответ цифры в порядке возрастания, под которыми указаны эти территории.



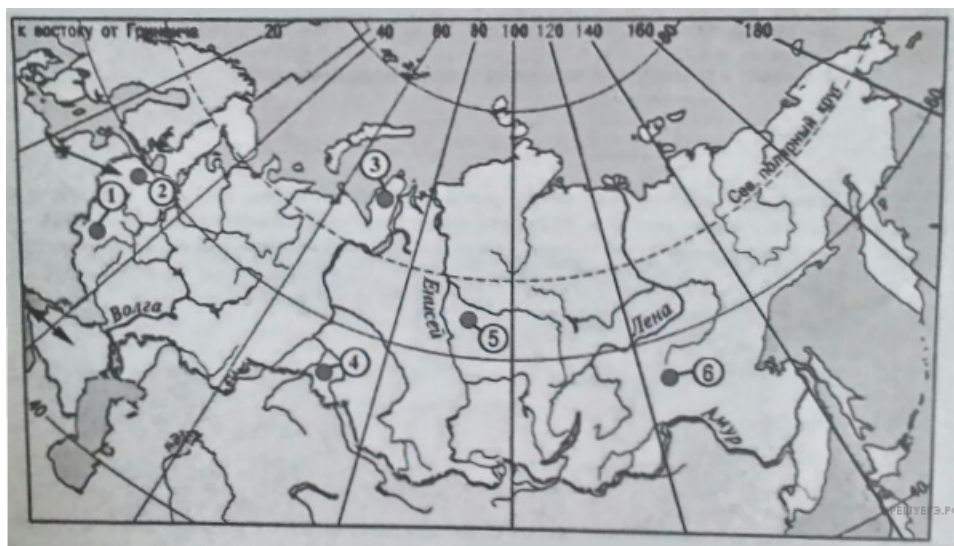
- 1) 1
- 2) 2
- 3) 3
- 4) 4
- 5) 5
- 6) 6

15. Какие три из обозначенных на карте территорий мира имеют наибольшую среднюю плотность населения? Запишите в ответ цифры в порядке возрастания, под которыми указаны эти территории.



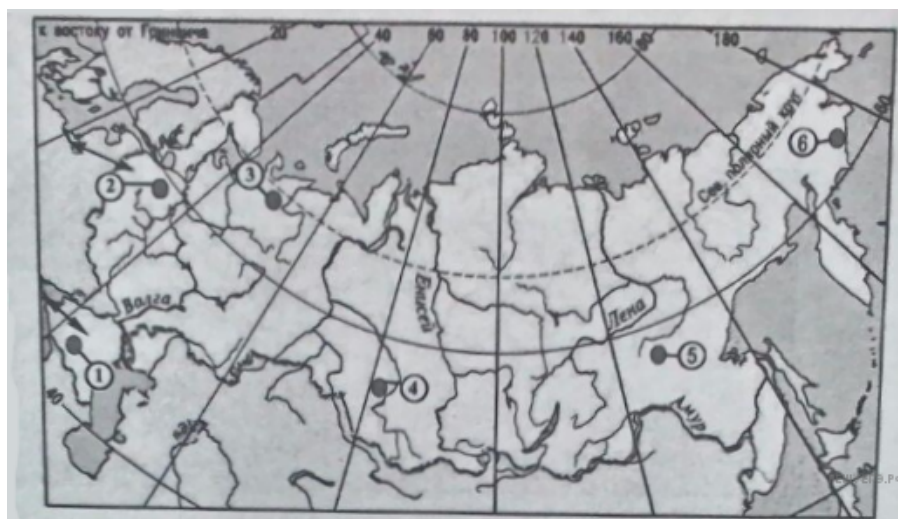
- 1) 1
- 2) 2
- 3) 3
- 4) 4
- 5) 5
- 6) 6

16. Какие три из обозначенных на карте России территории имеют наибольшую среднюю плотность населения? Запишите в ответ цифры в порядке возрастания, под которыми указаны эти территории.



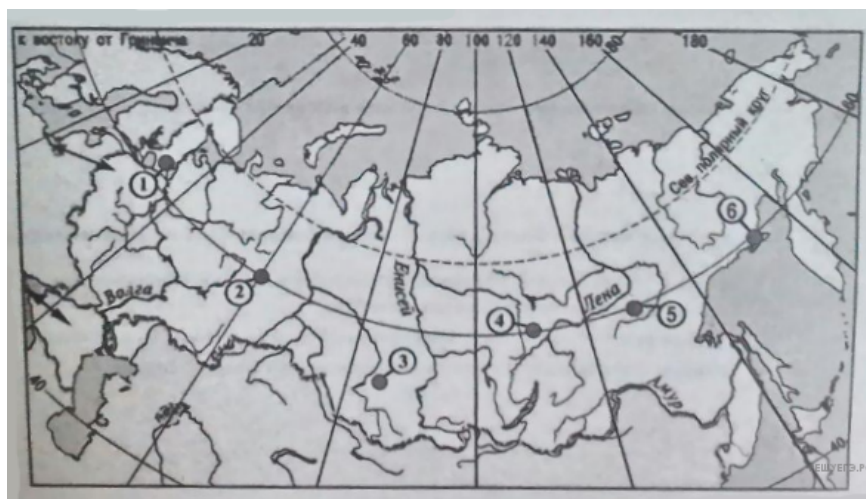
- 1) 1
- 2) 2
- 3) 3
- 4) 4
- 5) 5
- 6) 6

17. Какие три из обозначенных на карте России территории имеют наибольшую среднюю плотность населения? Запишите в ответ цифры в порядке возрастания, под которыми указаны эти территории.



- 1) 1
- 2) 2
- 3) 3
- 4) 4
- 5) 5
- 6) 6

18. Какие три из обозначенных на карте России территории имеют наибольшую среднюю плотность населения? Запишите в ответ цифры в порядке возрастания, под которыми указаны эти территории.



- 1) 1
- 2) 2
- 3) 3
- 4) 4
- 5) 5
- 6) 6

19. Какие три из перечисленных регионов России имеют наибольшую среднюю плотность населения?

- 1) Архангельская область
- 2) Тверская область
- 3) Республика Марий Эл
- 4) Курская область
- 5) Мурманская область
- 6) Магаданская область

20. Какие три из перечисленных регионов России имеют наименьшую среднюю плотность населения?

- 1) Архангельская область
- 2) Тульская область
- 3) Чувашская Республика
- 4) Магаданская область
- 5) Мурманская область
- 6) Кемеровская область

21. Какие три из перечисленных регионов России имеют наибольшую среднюю плотность населения? Запишите в таблицу цифры, под которыми указаны эти регионы.

- 1) Архангельская область
- 2) Белгородская область
- 3) Краснодарский край
- 4) Республика Саха (Якутия)
- 5) Хабаровский край
- 6) Курская область

22. Какие три из перечисленных стран имеют наибольшую среднюю плотность населения? Запишите в таблицу цифры, под которыми указаны эти страны.

- 1) Казахстан
- 2) Канада
- 3) Австрия
- 4) Япония
- 5) Пакистан
- 6) Австралия

23. Какие три из перечисленных стран имеют наименьшую среднюю плотность населения? Запишите в таблицу цифры, под которыми указаны эти страны.

- 1) Австралия
- 2) Болгария
- 3) Венгрия
- 4) Индия
- 5) Казахстан
- 6) Канада

24. Какие три из перечисленных регионов России имеют наибольшую среднюю плотность населения? Запишите в таблицу цифры, под которыми указаны эти страны.

- 1) Красноярский край
- 2) Республика Коми
- 3) Краснодарский край
- 4) Курская область
- 5) Республика Бурятия
- 6) Тамбовская область

25. Какие три из перечисленных стран имеют наибольшую среднюю плотность населения? Запишите в таблицу цифры, под которыми указаны эти страны.

- 1) Австралия
- 2) Румыния
- 3) Венгрия
- 4) Индия
- 5) Казахстан
- 6) Монголия

26. Какие три из перечисленных регионов России имеют наибольшую среднюю плотность населения? Запишите в таблицу цифры, под которыми указаны эти регионы.

- 1) Камчатский край
- 2) Республика Коми
- 3) Республика Татарстан
- 4) Тамбовская область
- 5) Республика Бурятия
- 6) Кемеровская область

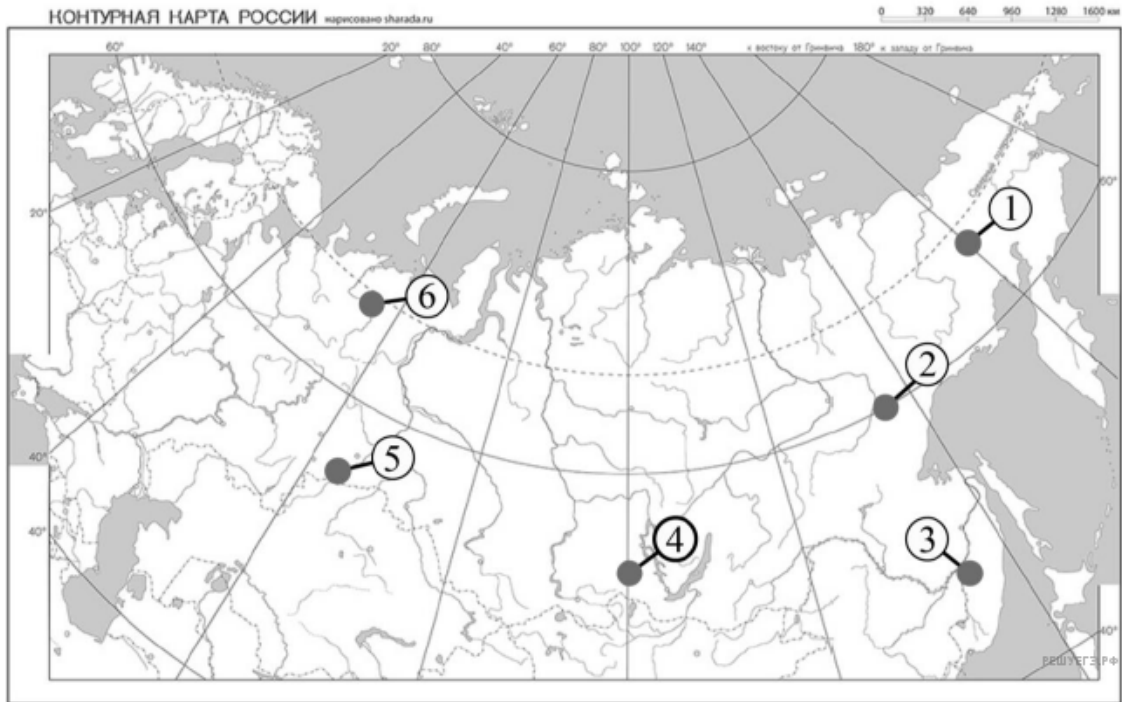
27. Какие три из перечисленных стран имеют наибольшую среднюю плотность населения? Запишите в таблицу цифры, под которыми указаны эти страны.

- 1) Индонезия
- 2) Россия
- 3) Бангладеш
- 4) Франция
- 5) Канада
- 6) Монголия

28. Какие три из перечисленных стран имеют наибольшую среднюю плотность населения? Запишите в таблицу цифры, под которыми указаны эти страны.

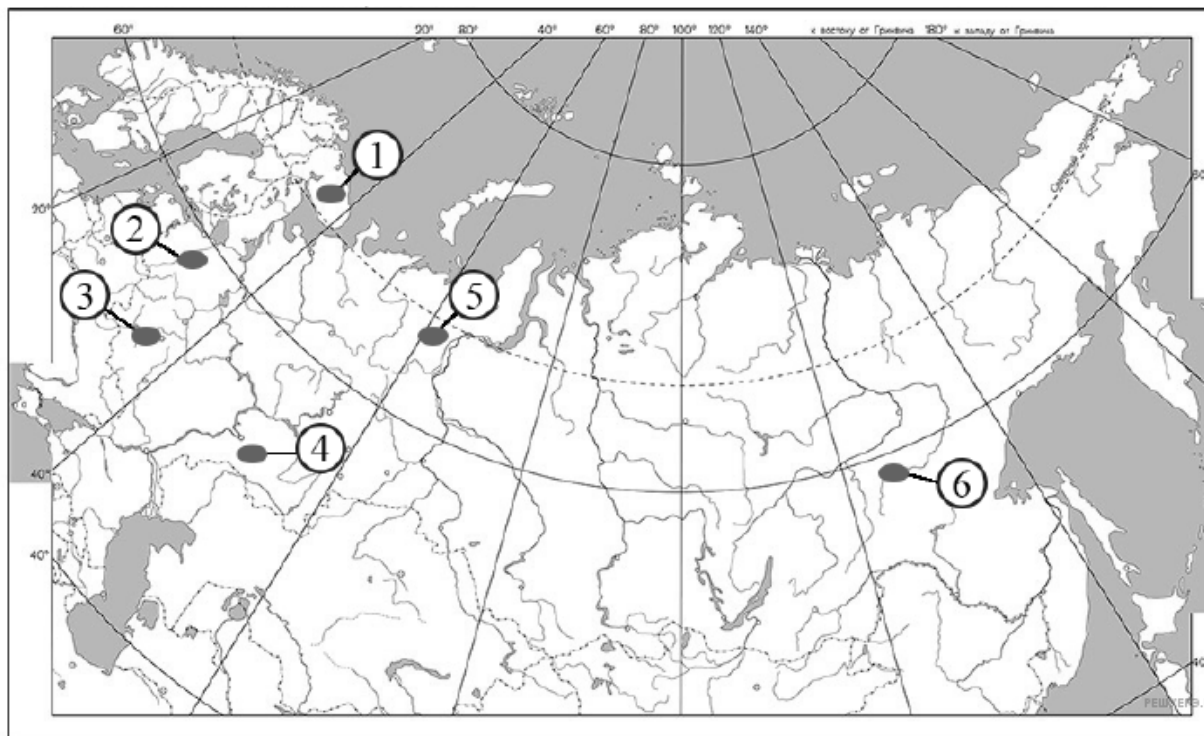
- 1) Индия
- 2) Монголия
- 3) Австралия
- 4) Республика Корея
- 5) Россия
- 6) Германия

29. Какие три обозначенные на карте России территории имеют наименьшую среднюю плотность населения? Запишите в таблицу цифры, под которыми указаны эти территории.



- 1) 1
- 2) 2
- 3) 3
- 4) 4
- 5) 5
- 6) 6

30. Какие три обозначенные на карте России территории имеют наибольшую среднюю плотность населения? Запишите в таблицу цифры, под которыми указаны эти территории.



- 1) 1
- 2) 2
- 3) 3
- 4) 4
- 5) 5
- 6) 6

31. Какие три из перечисленных регионов России имеют наибольшую среднюю плотность населения? Запишите в таблицу цифры, под которыми указаны эти регионы.

- 1) Архангельская область
- 2) Республика Коми
- 3) Республика Татарстан
- 4) Рязанская область
- 5) Республика Алтай
- 6) Кемеровская область

32. Какие три из перечисленных регионов России имеют наибольшую среднюю плотность населения? Запишите в таблицу цифры, под которыми указаны эти регионы.

- 1) Магаданская область
- 2) Республика Коми
- 3) Республика Марий Эл
- 4) Тамбовская область
- 5) Республика Тыва
- 6) Краснодарский край

33. Какие три из перечисленных стран имеют наибольшую среднюю плотность населения? Запишите в таблицу цифры, под которыми указаны эти страны.

- 1) Саудовская Аравия
- 2) Бангладеш
- 3) Канада
- 4) Бельгия
- 5) Монголия
- 6) Япония

34. Какие три из перечисленных регионов России имеют наименьшую среднюю плотность населения? Запишите в таблицу цифры, под которыми указаны эти регионы.

- 1) Архангельская область
- 2) Республика Коми
- 3) Удмуртская Республика
- 4) Брянская область
- 5) Республика Алтай
- 6) Кемеровская область

35. Какие три из перечисленных регионов России имеют наибольшую среднюю плотность населения? Запишите в таблицу цифры, под которыми указаны эти регионы.

- 1) Ростовская область
- 2) Воронежская область
- 3) Хабаровский край
- 4) Ямало-Ненецкий автономный округ
- 5) Республика Татарстан
- 6) Красноярский край

36. Какие три из перечисленных регионов России имеют наибольшую среднюю плотность населения? Запишите в таблицу цифры, под которыми указаны эти регионы.

- 1) Воронежская область
- 2) Красноярский край
- 3) Ставропольский край
- 4) Чукотский автономный округ
- 5) Вологодская область
- 6) Кемеровская область

37. Какие три из перечисленных стран имеют наибольшую среднюю плотность населения? Запишите в таблицу цифры, под которыми указаны эти страны.

- 1) Австрия
- 2) Австралия
- 3) Казахстан
- 4) Канада
- 5) Бангладеш
- 6) Япония

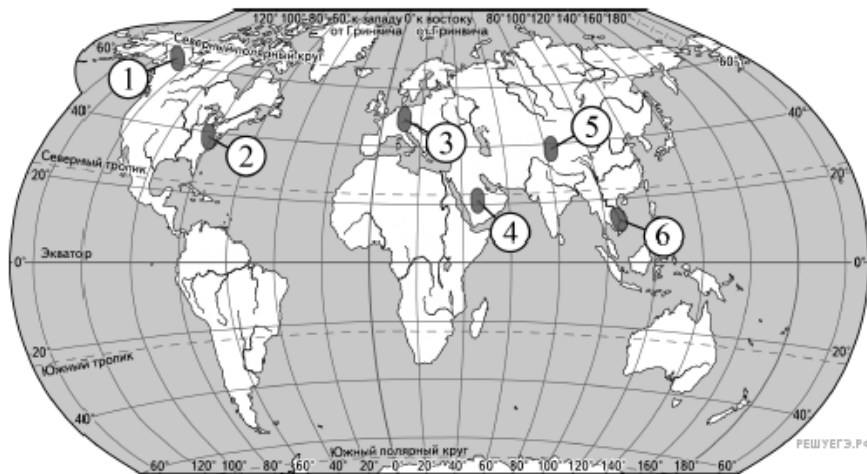
38. Какие три из перечисленных стран имеют наименьшую среднюю плотность населения? Запишите в таблицу цифры, под которыми указаны эти страны.

- 1) Таиланд
- 2) Саудовская Аравия
- 3) Канада
- 4) Бельгия
- 5) Монголия
- 6) Япония

39. Какие три из перечисленных регионов России имеют наибольшую среднюю плотность населения? Запишите в таблицу цифры, под которыми указаны эти регионы.

- 1) Брянская область
- 2) Хабаровский край
- 3) Ставропольский край
- 4) Ненецкий автономный округ
- 5) Магаданская область
- 6) Кемеровская область

40. Какие три из обозначенных на карте мира территорий имеют наименьшую среднюю плотность населения? Запишите в таблицу цифры, под которыми указаны эти территории.



- 1) 1
- 2) 2
- 3) 3
- 4) 4
- 5) 5
- 6) 6

41. Какие три из перечисленных регионов России имеют наибольшую среднюю плотность населения? Запишите в таблицу цифры, под которыми указаны эти регионы.

- 1) Иркутская область
- 2) Республика Коми
- 3) Свердловская область
- 4) Красноярский край
- 5) Удмуртская Республика
- 6) Краснодарский край

42. Какие три из перечисленных стран имеют **наименьшую** среднюю плотность населения? Запишите в таблицу **цифры**, под которыми указаны эти страны.

- 1) Индия
- 2) Монголия
- 3) Австралия
- 4) Республика Корея
- 5) Канада
- 6) США

43. Какие три из перечисленных регионов России имеют **наименьшую** среднюю плотность населения? Запишите в таблицу **цифры**, под которыми указаны эти регионы.

- 1) Камчатский край
- 2) Республика Коми
- 3) Республика Татарстан
- 4) Тамбовская область
- 5) Республика Бурятия
- 6) Кемеровская область

44. Какие три из перечисленных регионов России имеют наибольшую среднюю плотность населения? Запишите в таблицу цифры, под которыми указаны эти регионы.

- 1) Смоленская область
- 2) Свердловская область
- 3) Красноярский край
- 4) Камчатский автономный округ
- 5) Магаданская область
- 6) Ростовская область

45. Какие три из перечисленных стран имеют наименьшую среднюю плотность населения? Запишите в таблицу цифры, под которыми указаны эти страны.

- 1) Австралия
- 2) Бангладеш
- 3) Бельгия
- 4) Саудовская Аравия
- 5) Монголия
- 6) Республика Корея

46. Какие три из перечисленных стран имеют наибольшую среднюю плотность населения? Запишите в таблицу цифры, под которыми указаны эти страны.

- 1) Таиланд
- 2) Саудовская Аравия
- 3) Россия
- 4) Республика Корея
- 5) Монголия
- 6) Великобритания

47. Какие три из перечисленных регионов России имеют наибольшую среднюю плотность населения? Запишите в таблицу цифры, под которыми указаны эти регионы.

- 1) Республика Башкортостан
- 2) Забайкальский край
- 3) Республика Карелия
- 4) Хабаровский край
- 5) Новосибирская область
- 6) Тамбовская область

48. Какие три из перечисленных стран имеют наибольшую среднюю плотность населения? Запишите в таблицу цифры, под которыми указаны эти страны.

- 1) Австралия
- 2) Япония
- 3) Чехия
- 4) Монголия
- 5) Италия
- 6) Алжир

49. Какие три из перечисленных регионов России имеют наименьшую среднюю плотность населения? Запишите в таблицу цифры, под которыми указаны эти регионы.

- 1) Республика Коми
- 2) Забайкальский край
- 3) Мурманская область
- 4) Кемеровская область
- 5) Новосибирская область
- 6) Орловская область

50. Какие три из перечисленных регионов России имеют наибольшую среднюю плотность населения? Запишите в таблицу цифры, под которыми указаны эти регионы.

- 1) Республика Карелия
- 2) Забайкальский край
- 3) Иркутская область
- 4) Кемеровская область
- 5) Тульская область
- 6) Чувашская Республика