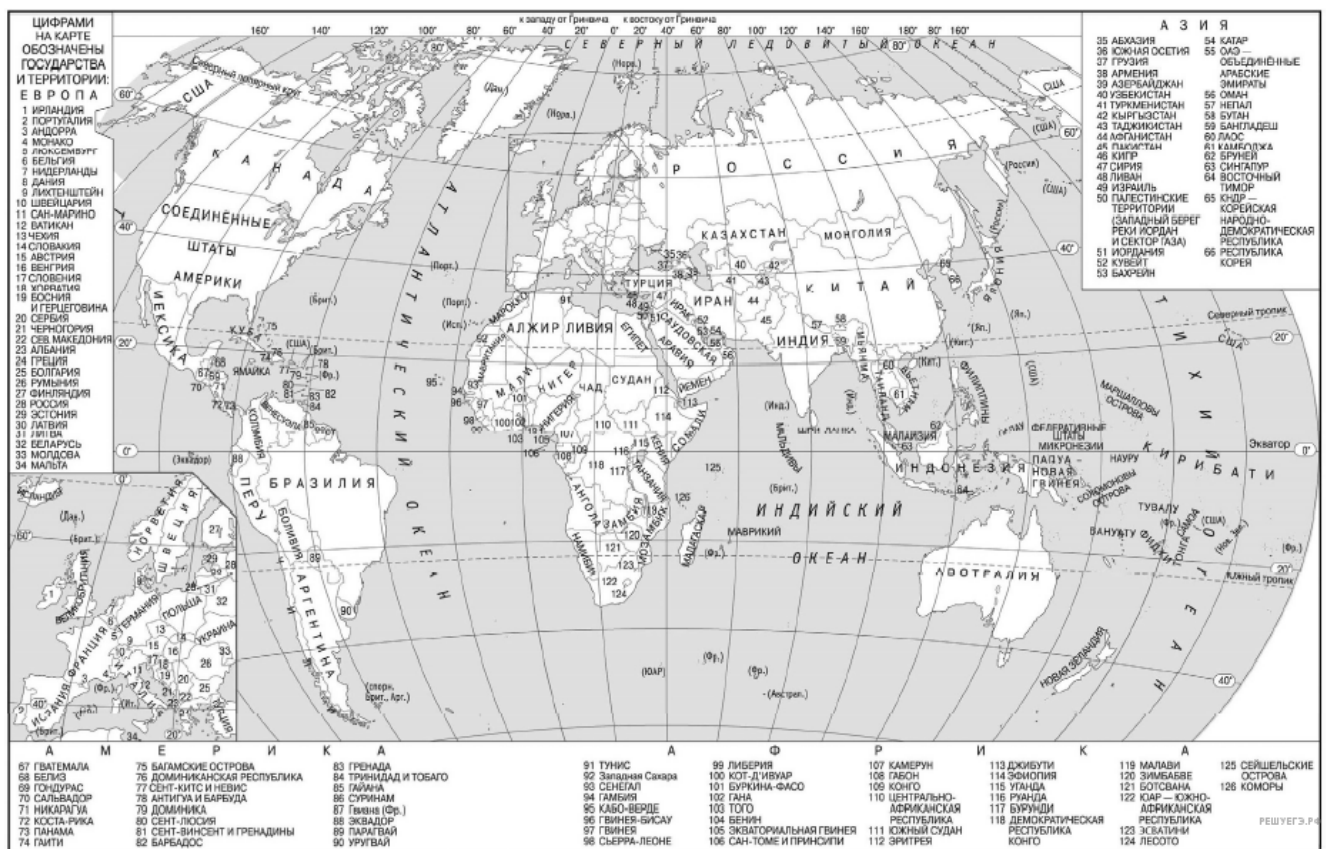


Карта составлена по состоянию на 01.01.2021



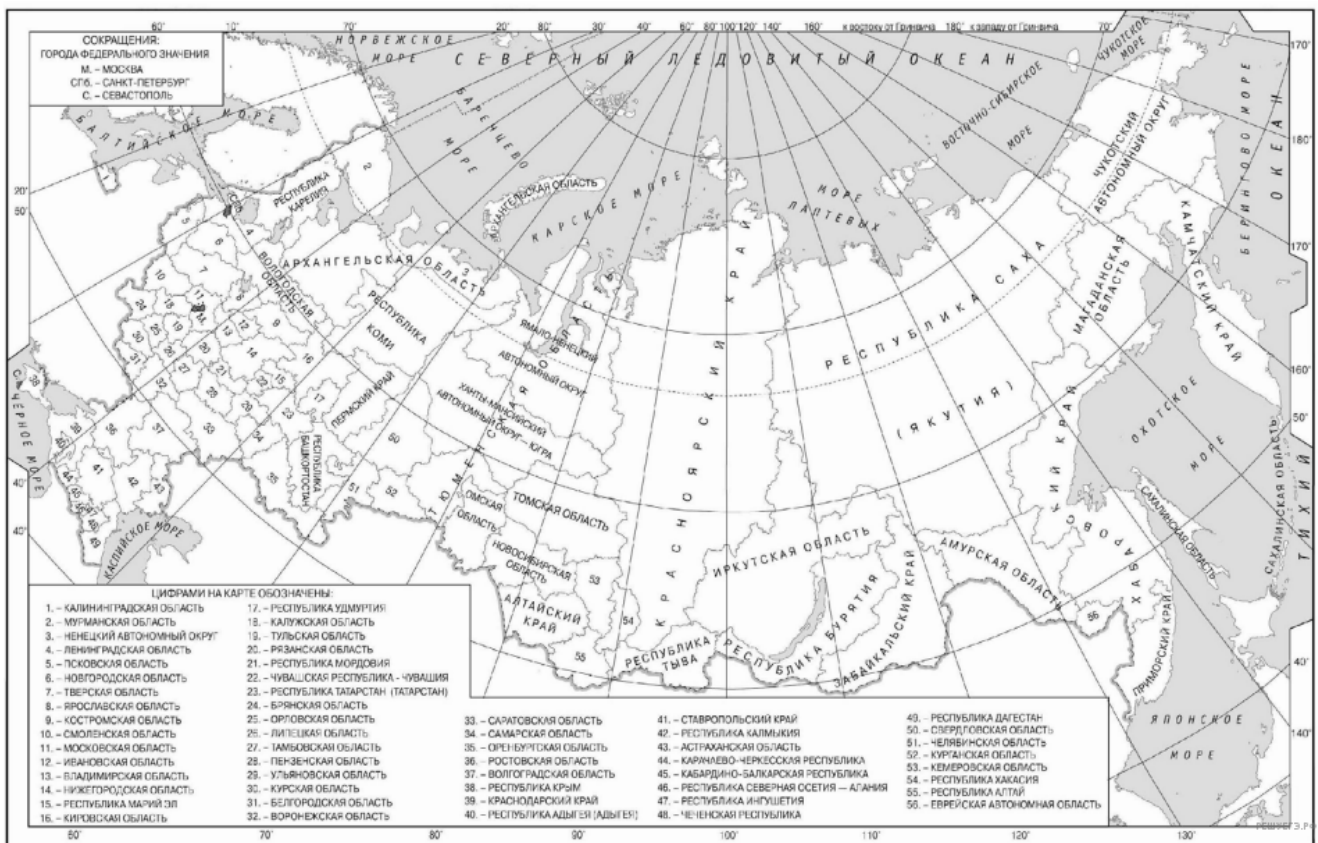
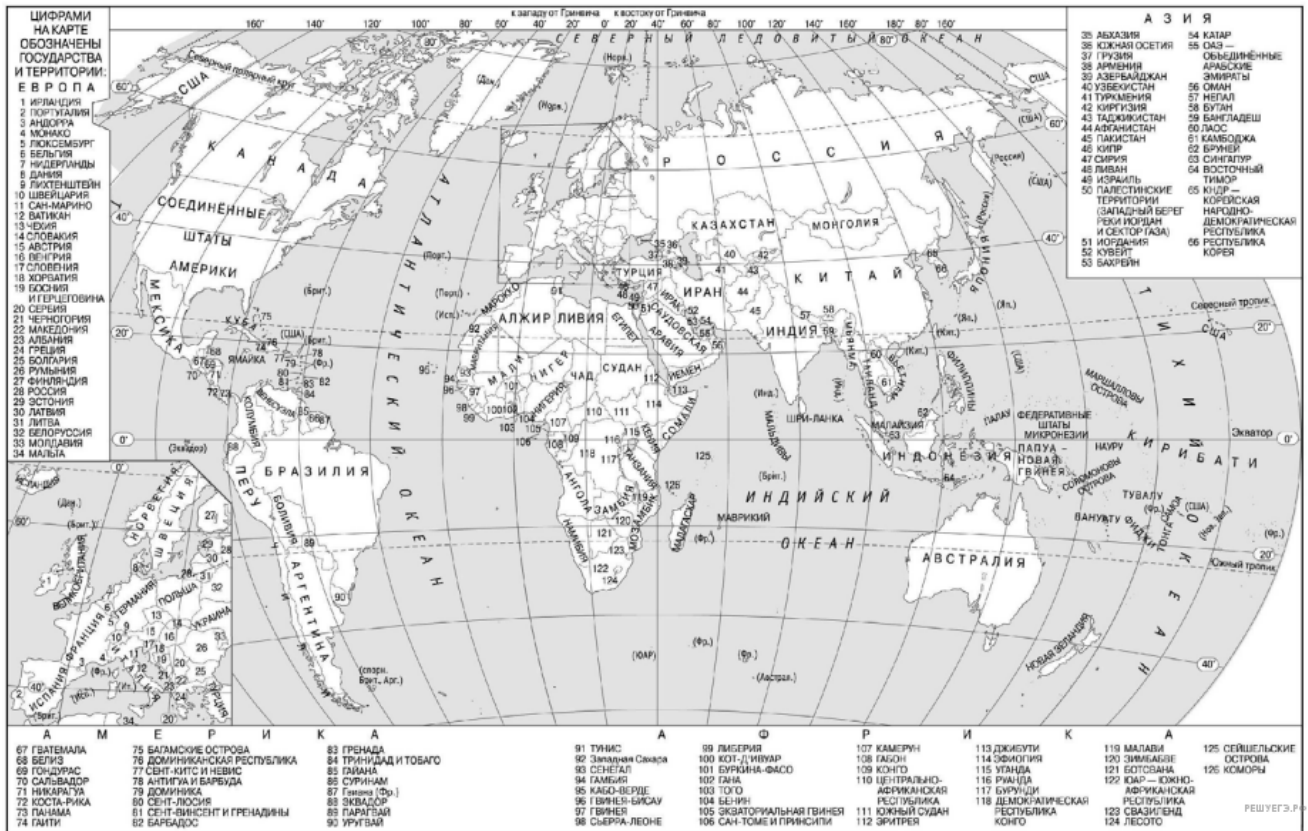
Карта составлена по состоянию на 01.01.2021

1. Город Арлит имеет географические координаты 18° 44' с. ш. 7° 23' в. д. Определите, на территории какого государства находится этот город.

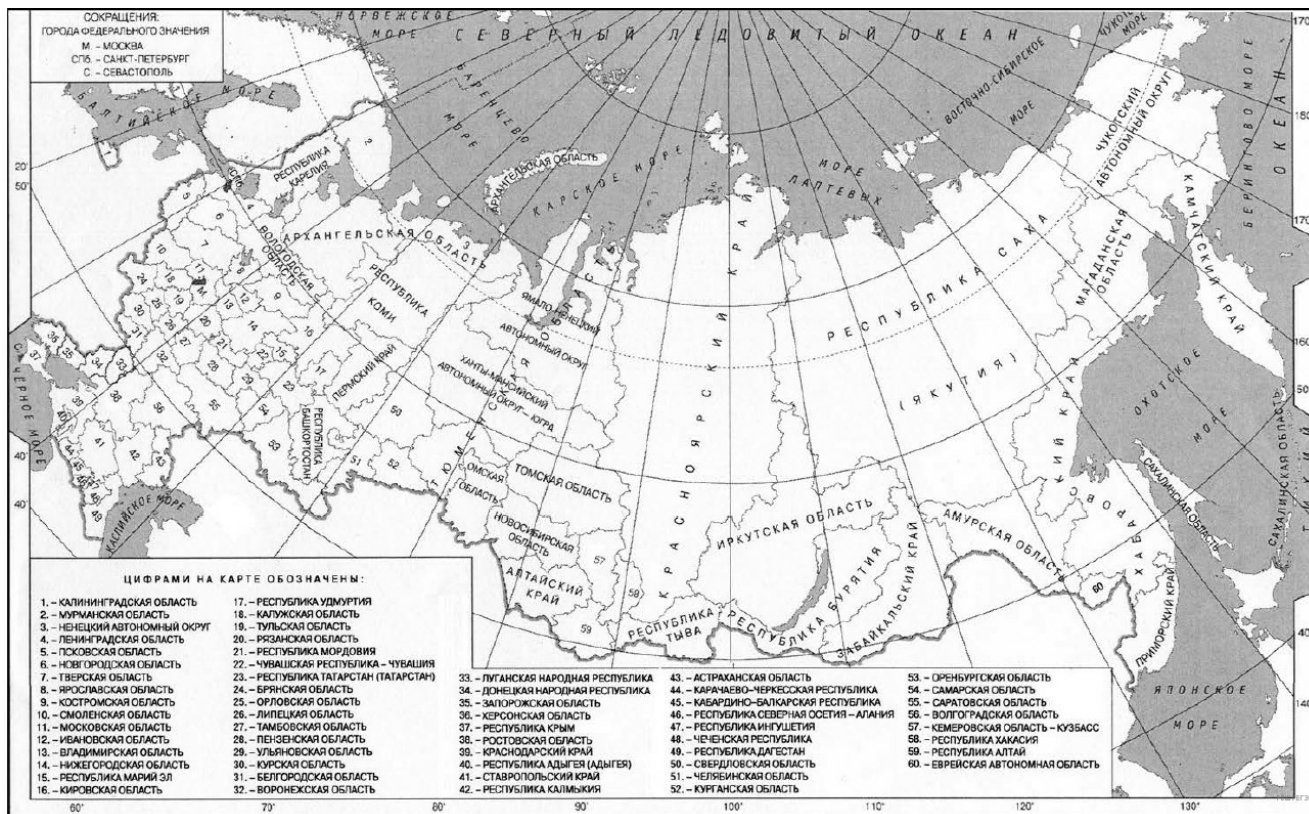
2. Город Потоси имеет географические координаты $19^{\circ} 35'$ ю. ш. $65^{\circ} 45'$ з. д. Определите, на территории какого государства находится этот город. Для выполнения задания воспользуйтесь политической картой мира в атласе.
3. $25^{\circ} 40'$ с. ш. $100^{\circ} 18'$ з. д. Определите, на территории какого государства находится этот город. Для выполнения задания воспользуйтесь политической картой мира в атласе.
4. Город Росарио имеет географические координаты $32^{\circ} 57'$ ю. ш. $60^{\circ} 39'$ з. д. Определите, на территории какого государства находится этот город. Для выполнения задания воспользуйтесь политической картой мира в атласе.
5. Город Эспоо имеет географические координаты $60^{\circ} 13'$ с. ш. $24^{\circ} 49'$ в. д. Определите, на территории какого государства находится этот город. Для выполнения задания воспользуйтесь политической картой мира в атласе.
6. Город Баликпапан имеет географические координаты $1^{\circ} 16'$ ю. ш. $116^{\circ} 50'$ в. д. Определите, на территории какого государства находится этот город. Для выполнения задания воспользуйтесь политической картой мира в атласе.
7. Город Черчилл имеет географические координаты $58^{\circ} 28'$ с. ш. $94^{\circ} 06'$ з. д. Определите, на территории какого государства находится этот город. Для выполнения задания воспользуйтесь политической картой мира в атласе.
8. Город Хобарт имеет географические координаты $42^{\circ} 53'$ ю. ш. $147^{\circ} 19'$ в. д. Определите, на территории какого государства находится этот город. Для выполнения задания воспользуйтесь политической картой мира в атласе.
9. Город Кано имеет географические координаты $12^{\circ} 00'$ с. ш. $8^{\circ} 31'$ в. д. Определите, на территории какого государства находится этот город. Для выполнения задания воспользуйтесь политической картой мира в атласе.
10. Город Орск имеет географические координаты $51^{\circ} 12'$ с. ш. $58^{\circ} 37'$ в. д. Определите, на территории какого субъекта РФ находится этот город. Для выполнения задания воспользуйтесь картой федеративного устройства Российской Федерации в атласе.
11. Город Солнечный имеет географические координаты $50^{\circ} 43'$ с. ш. $136^{\circ} 38'$ в. д. Определите, на территории какого субъекта РФ находится этот город. Для выполнения задания воспользуйтесь картой федеративного устройства Российской Федерации в атласе.
12. Город Ома имеет географические координаты $41^{\circ} 32'$ с. ш. $140^{\circ} 54'$ в. д. Определите, на территории какого государства находится этот город.
13. Город Руфино имеет географические координаты $34^{\circ} 27'$ ю. ш. $64^{\circ} 70'$ з. д. Определите, на территории какого государства находится этот город.
14. Город Норфолк имеет географические координаты $36^{\circ} 85'$ с. ш. $76^{\circ} 28'$ з. д. Определите, на территории какого государства находится этот город.
15. Город Газни имеет географические координаты $33^{\circ} 55'$ с. ш. $68^{\circ} 42'$ в. д. Определите, на территории какого государства находится этот город.
16. Город Сурабая имеет географические координаты $7^{\circ} 25'$ ю. ш. $112^{\circ} 75'$ в. д. Определите, на территории какого государства находится этот город.
17. Город Ричмонд имеет географические координаты $38^{\circ} 01'$ с. ш. $77^{\circ} 46'$ з. д. Определите, на территории какого государства находится этот город.
18. Город Мерсин имеет географические координаты $36^{\circ} 47'$ с. ш. $34^{\circ} 37'$ в. д. Определите, на территории какого государства находится этот город.
19. Город Хихон имеет географические координаты $43^{\circ} 53'$ с. ш. $5^{\circ} 66'$ з. д. Определите, на территории какого государства находится этот город.

20. Город Артёмовский имеет географические координаты $57^{\circ} 22'$ с. ш. $61^{\circ} 52'$ в. д. Определите, на территории какого субъекта Федерации находится этот город.
21. Город Юргамыш имеет географические координаты $55^{\circ} 23'$ с. ш. $64^{\circ} 28'$ в. д. Определите, на территории какого субъекта Федерации находится этот город.
22. Город Токантис имеет географические координаты $2^{\circ} 52'$ ю. ш. $67^{\circ} 48'$ з. д. Определите, на территории какого государства находится этот город.
23. Город Эрдекан имеет географические координаты $32^{\circ} 18'$ с. ш. $54^{\circ} 01'$ в. д. Определите, на территории какого государства находится этот город.
24. Город Арвайхээр имеет географические координаты $46^{\circ} 16'$ с. ш. $102^{\circ} 46'$ в. д. Определите, на территории какого государства находится этот город.
25. Населённый пункт Сокол имеет географические координаты $59^{\circ} 54'$ с. ш. $150^{\circ} 44'$ в. д. Определите, на территории какой области РФ находится этот населённый пункт.
26. Населённый пункт Оротукан имеет географические координаты $62^{\circ} 16'$ с. ш. $151^{\circ} 40'$ в. д. Определите, на территории какой области РФ находится этот населённый пункт.
27. Населённый пункт Ижма имеет географические координаты $65^{\circ} 01'$ с. ш. $53^{\circ} 55'$ в. д. Определите, на территории какого субъекта РФ находится этот населённый пункт.
28. Город Кота имеет географические координаты $25^{\circ} 10'$ с. ш. $75^{\circ} 51'$ в. д. Определите, на территории какого государства находится этот город.
29. Город Куэнка имеет географические координаты $40^{\circ} 04'$ с. ш. $02^{\circ} 08'$ з. д. Определите, на территории какого государства находится этот город.
30. Город Баия-Бланка имеет географические координаты $38^{\circ} 43'$ ю. ш. и $62^{\circ} 16'$ з. д. Определите, на территории какого государства находится этот город.
31. Город Лубанго имеет географические координаты $14^{\circ} 55'$ ю. ш. и $13^{\circ} 30'$ в. д. Определите, на территории какого государства находится этот город.
32. Город Адрар имеет географические координаты $27^{\circ} 52'$ с. ш. $0^{\circ} 17'$ з. д. Определите, на территории какого государства находится этот населённый пункт.
33. Город Квито имеет географические координаты $12^{\circ} 23'$ ю. ш. $16^{\circ} 66'$ в. д. Определите, на территории какого государства находится этот город.
34. Населённый пункт Юргинское имеет географические координаты $56^{\circ} 49'$ с. ш. $67^{\circ} 23'$ в. д. Определите, на территории какого субъекта РФ находится этот населённый пункт.
35. Город Канск имеет географические координаты $56^{\circ} 12'$ с. ш. $95^{\circ} 42'$ в. д. Определите, на территории какого субъекта РФ находится этот населённый пункт.
36. Населённый пункт Кохлу имеет географические координаты $29^{\circ} 53'$ с. ш. $69^{\circ} 15'$ в. д. Определите, на территории какого государства находится этот населённый пункт.
37. Город Кашан имеет географические координаты $33^{\circ} 59'$ с. ш. $51^{\circ} 26'$ в. д. Определите, на территории какого государства находится этот город.
38. Посёлок Свирск имеет географические координаты $53^{\circ} 05'$ с. ш. $103^{\circ} 20'$ в. д. Определите, на территории какого субъекта РФ находится этот населённый пункт.
39. Посёлок Солнечный имеет географические координаты $50^{\circ} 43'$ с. ш. $136^{\circ} 38'$ в. д. Определите, на территории какого субъекта РФ находится этот посёлок.
40. Город Лович имеет географические координаты $52^{\circ} 06'$ с. ш. $19^{\circ} 56'$ в. д. Определите, на территории какого государства находится этот город.

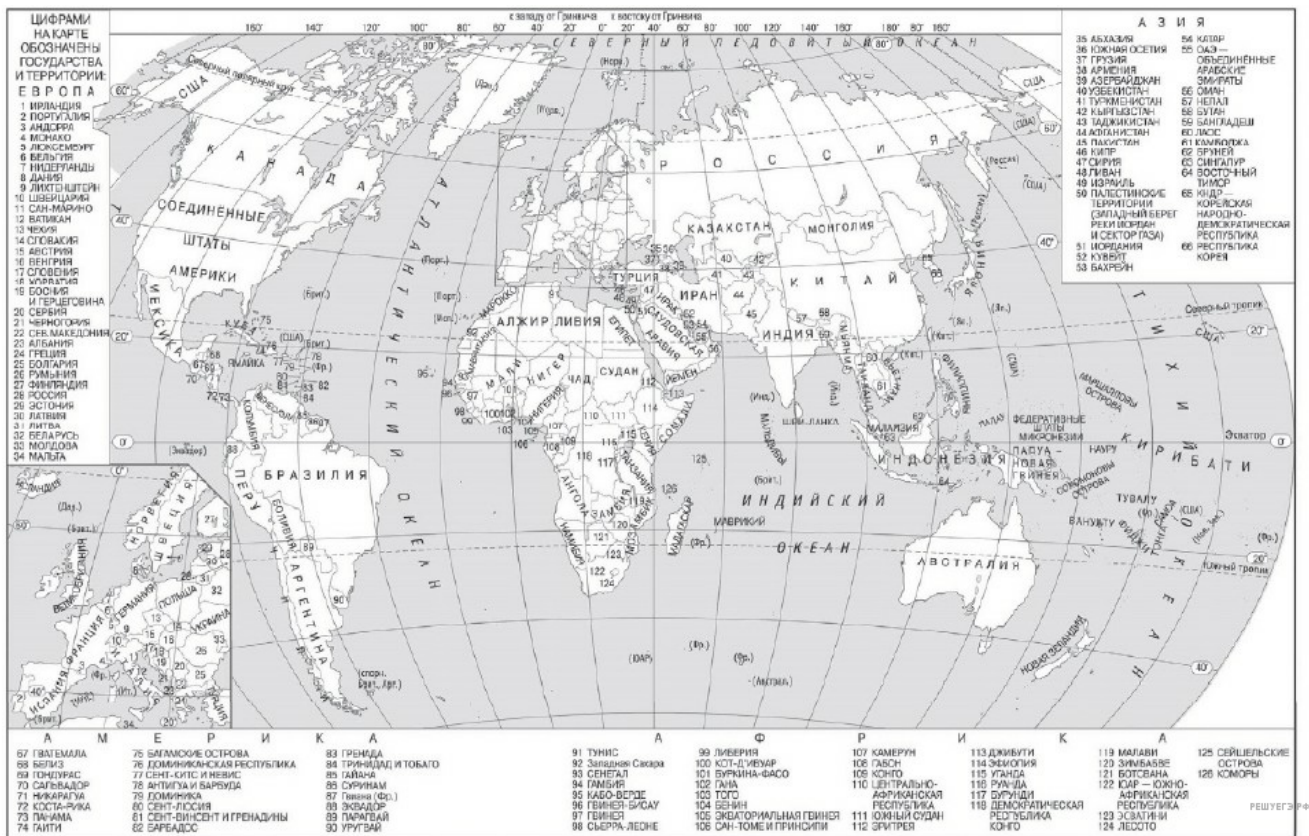
41. Населённый пункт Бафк имеет географические координаты $31^{\circ} 36'$ с. ш. $55^{\circ} 24'$ в. д. Определите, на территории какого государства находится этот населённый пункт.
42. Город Кордова имеет географические координаты $31^{\circ} 25'$ ю. ш. $64^{\circ} 11'$ з. д. Определите, на территории какого государства находится этот город.
43. Населённый пункт Ижма имеет географические координаты $65^{\circ} 01'$ с. ш. $53^{\circ} 55'$ в. д. Определите, на территории какого субъекта РФ находится этот населённый пункт.
44. Город Манаус имеет географические координаты $03^{\circ} 06'$ ю. ш. $60^{\circ} 01'$ з. д. Определите, на территории какого государства находится этот город.
45. Город Свирск имеет географические координаты $53^{\circ} 05'$ с. ш. $103^{\circ} 20'$ в. д. Определите, на территории какого субъекта РФ находится этот населённый пункт.
46. Город Омдурман имеет географические координаты $15^{\circ} 41'$ с. ш. $32^{\circ} 28'$ в. д. Определите, на территории какого государства находится этот город.
47. Город Фианаранцуа имеет географические координаты $21^{\circ} 26'$ ю. ш. $47^{\circ} 05'$ в. д. Определите, на территории какого государства находится этот город.
48. Город Кампинас имеет географические координаты $22^{\circ} 53'$ ю. ш. $47^{\circ} 01'$ з. д. Определите, на территории какого государства находится этот город.
49. Город Артёмовский имеет географические координаты $57^{\circ} 20'$ с. ш. $61^{\circ} 53'$ в. д. Определите, на территории какой области находится этот город.
50. Город Медвежьегорск имеет географические координаты $62^{\circ} 55'$ с. ш. $34^{\circ} 27'$ в. д. Определите, на территории какой Республики РФ находится этот город.
51. Посёлок Омсукчан имеет географические координаты $62^{\circ} 31'$ с. ш. $155^{\circ} 46'$ в. д. Определите, на территории какого субъекта РФ находится этот посёлок.
52. Населённый пункт Ижма имеет географические координаты $65^{\circ} 01'$ с. ш. $53^{\circ} 55'$ в. д. Определите, на территории какого субъекта РФ находится этот населённый пункт.
53. Город Куэнка имеет географические координаты $40^{\circ} 04'$ с. ш. $02^{\circ} 08'$ з. д. Определите, на территории какого государства находится этот город.
54. Посёлок Муторай имеет географические координаты $61^{\circ} 20'$ с. ш. $100^{\circ} 29'$ в. д. Определите, на территории какого субъекта РФ находится этот посёлок.
55. Город Оса имеет географические координаты $57^{\circ} 17'$ с. ш. $55^{\circ} 27'$ в. д. Определите, на территории какого субъекта Российской Федерации находится этот город.
56. Город Валенсия имеет географические координаты $10^{\circ} 10'$ с. ш. $68^{\circ} 05'$ з. д. Определите, на территории какого государства находится этот город.
57. Город Ибаге имеет географические координаты $04^{\circ} 26'$ с. ш. $75^{\circ} 14'$ з. д. Определите, на территории какого государства находится этот город.



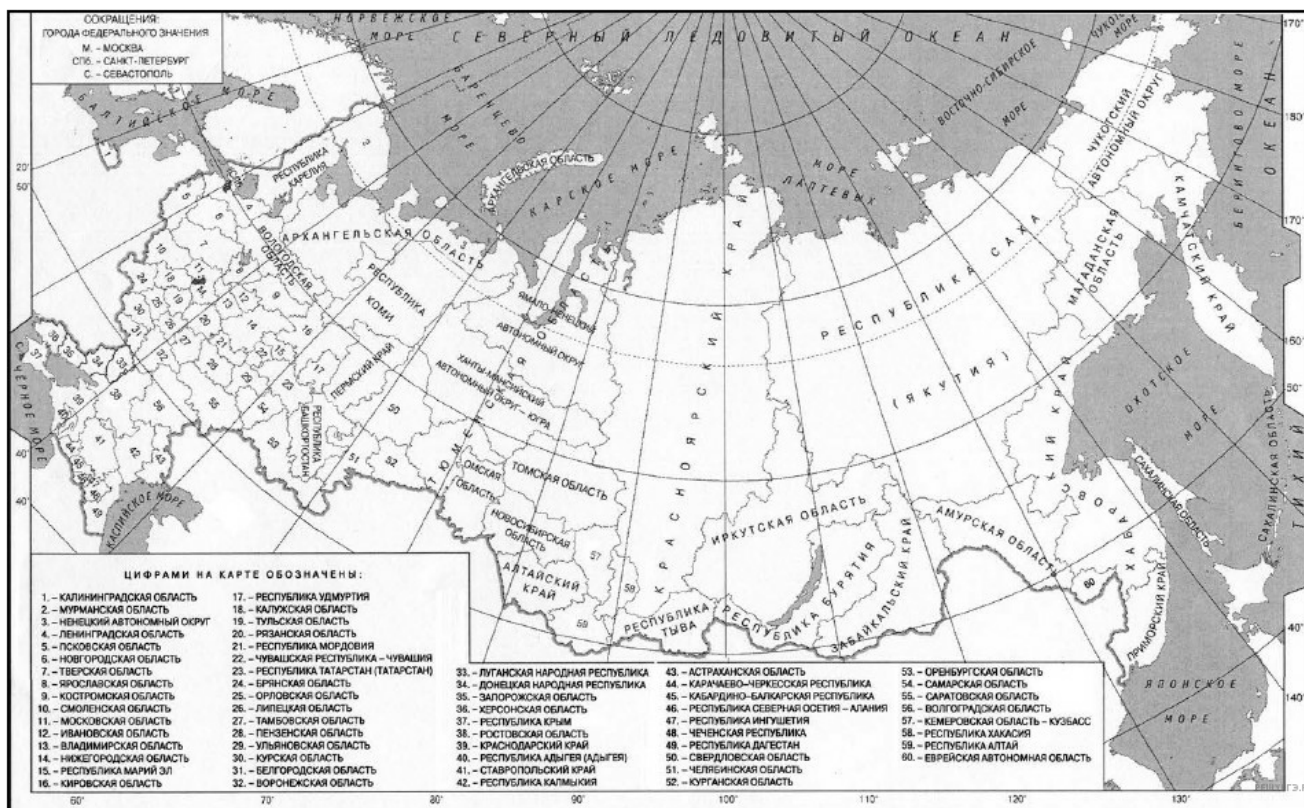
59. Город Сьюдад-Пиар имеет географические координаты 7° 27' с. ш. 63° 21' з. д. Определите, на территории какого государства находится этот город.



63. Город Реж имеет географические координаты $57^{\circ} 37'$ с. ш. $61^{\circ} 40'$ в. д. Определите, на территории какой области находится этот город.

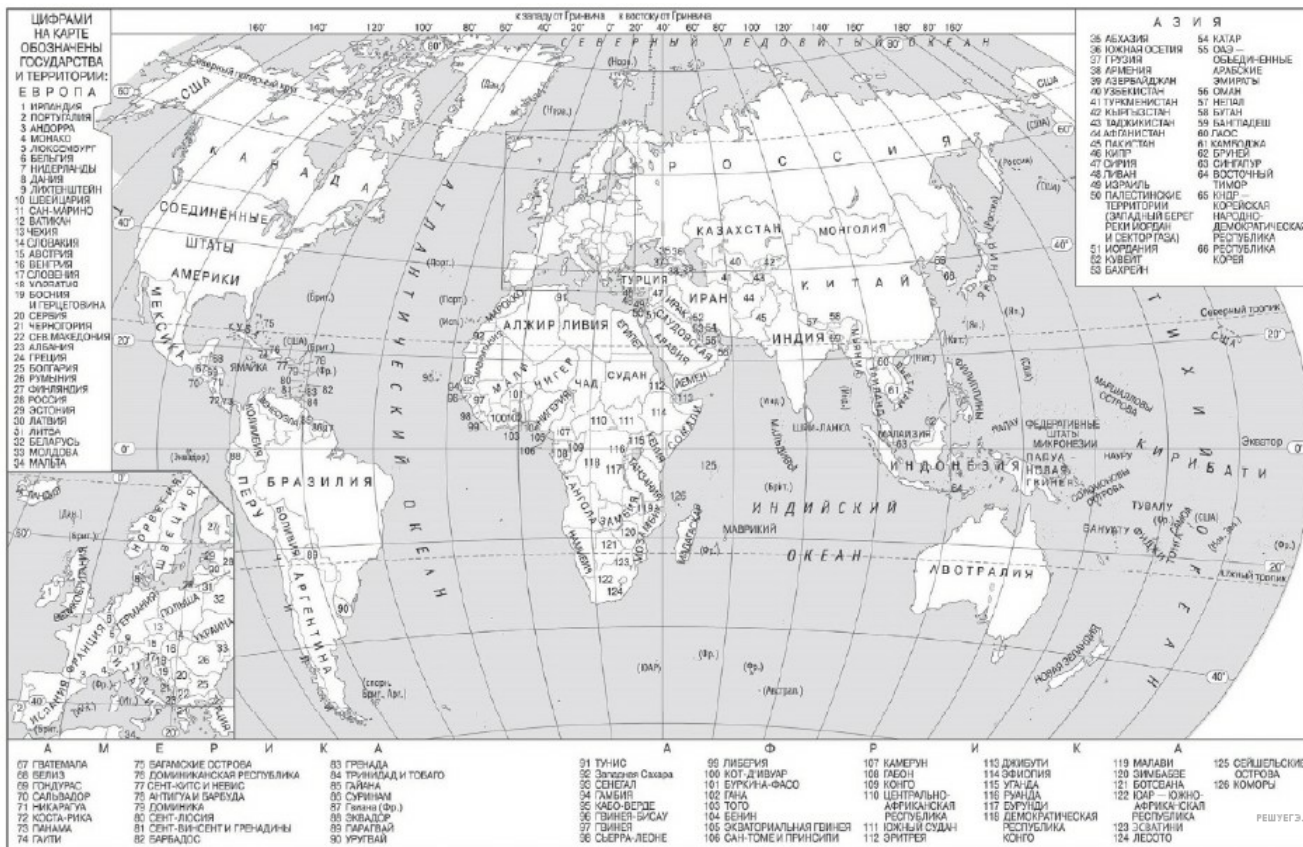


Карта составлена по состоянию на 01.01.2023

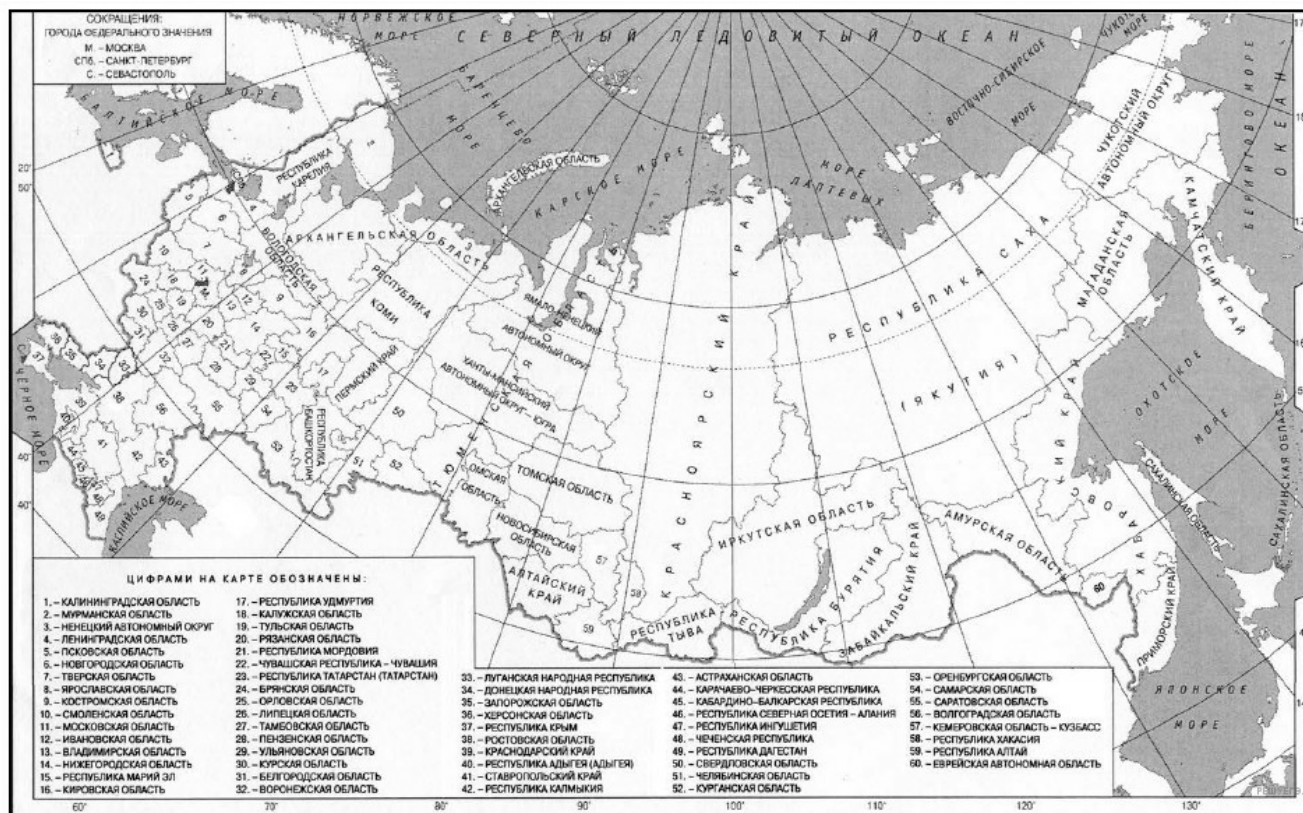


Карта составлена по состоянию на 01.01.2023

64. Посёлок Енотаевка имеет географические координаты 47° 24' с. ш. 47° 02' в. д. Определите, на территории какой области находится этот посёлок.

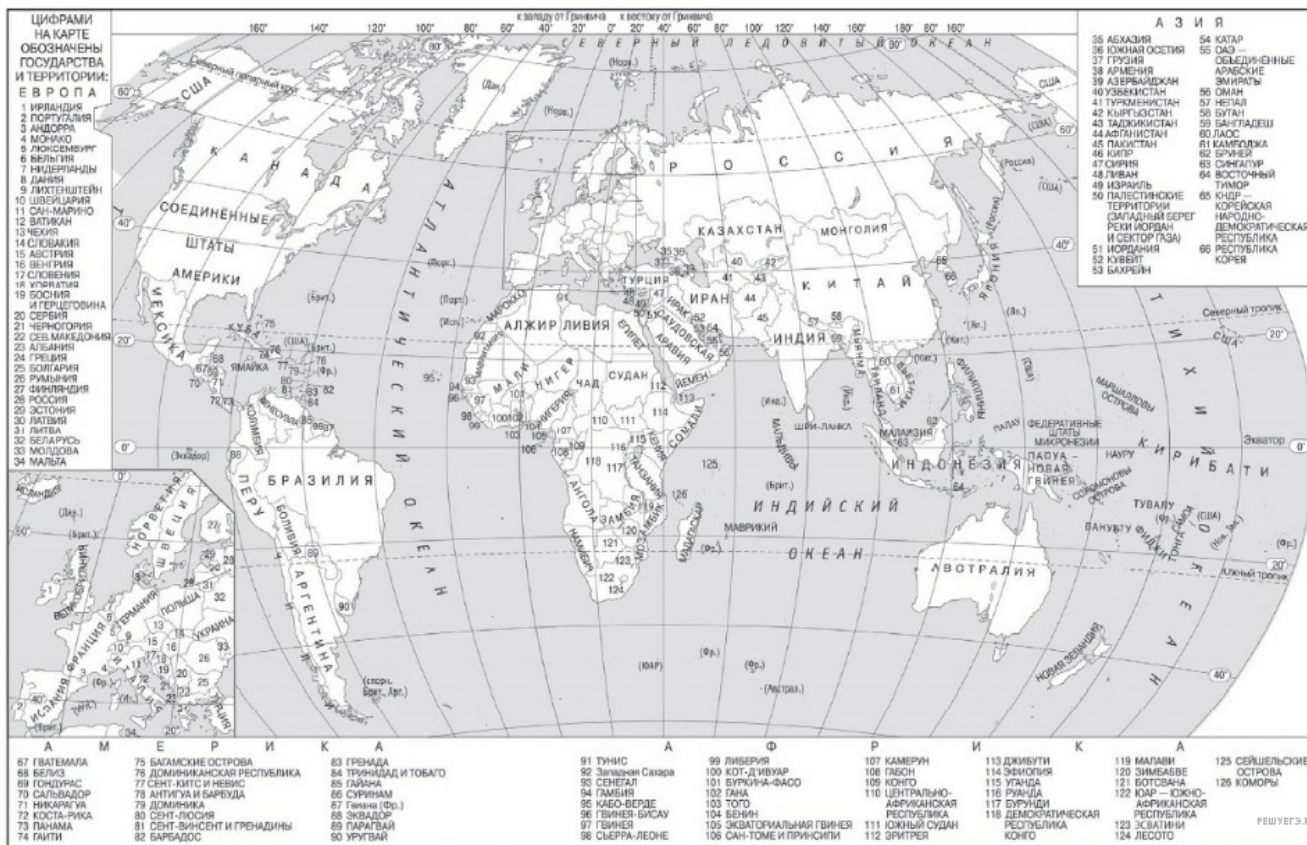


Карта составлена по состоянию на 01.01.2024

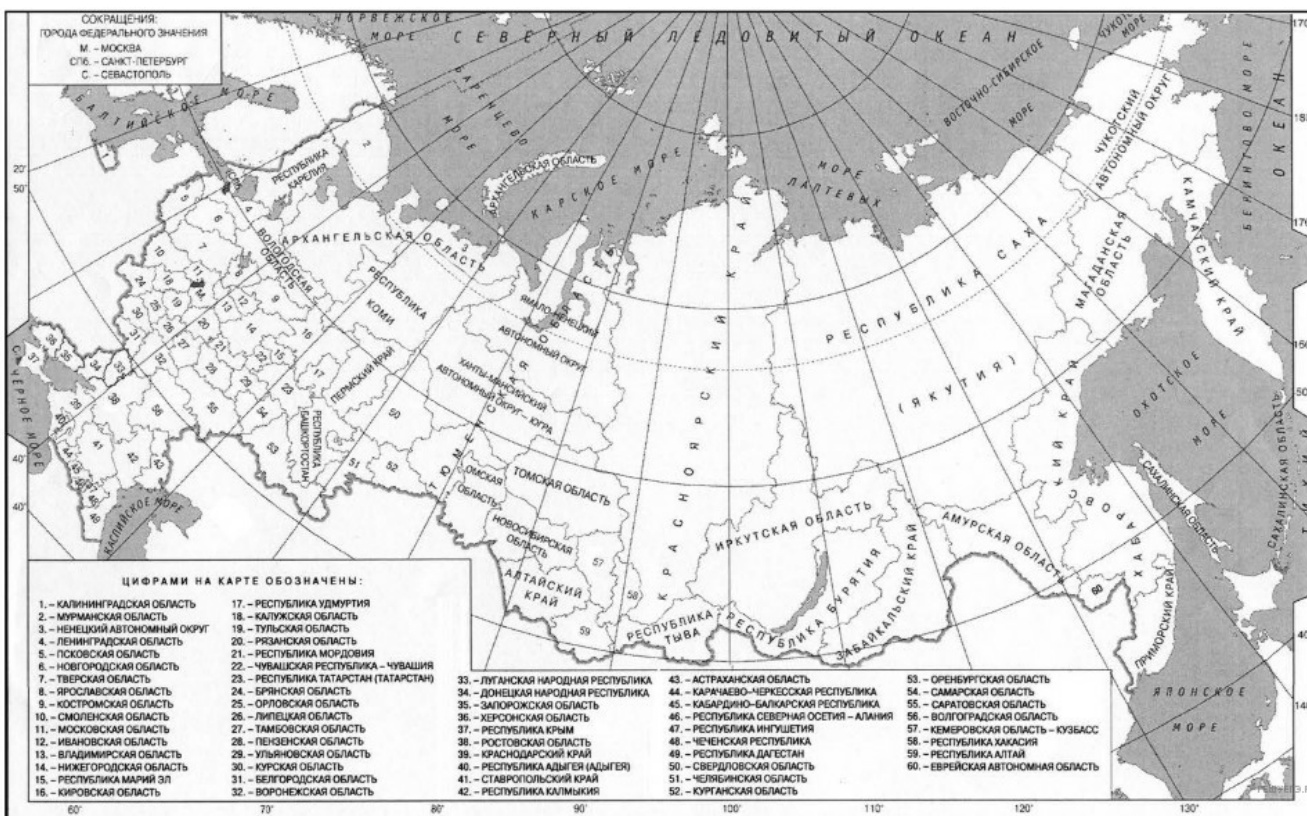


Карта составлена по состоянию на 01.01.2024

65. Город Эль-Обейд имеет географические координаты 13° 11' с. ш. 30° 13' в. д. Определите, на территории какого государства находится этот город.



Карта составлена по состоянию на 01.01.2024

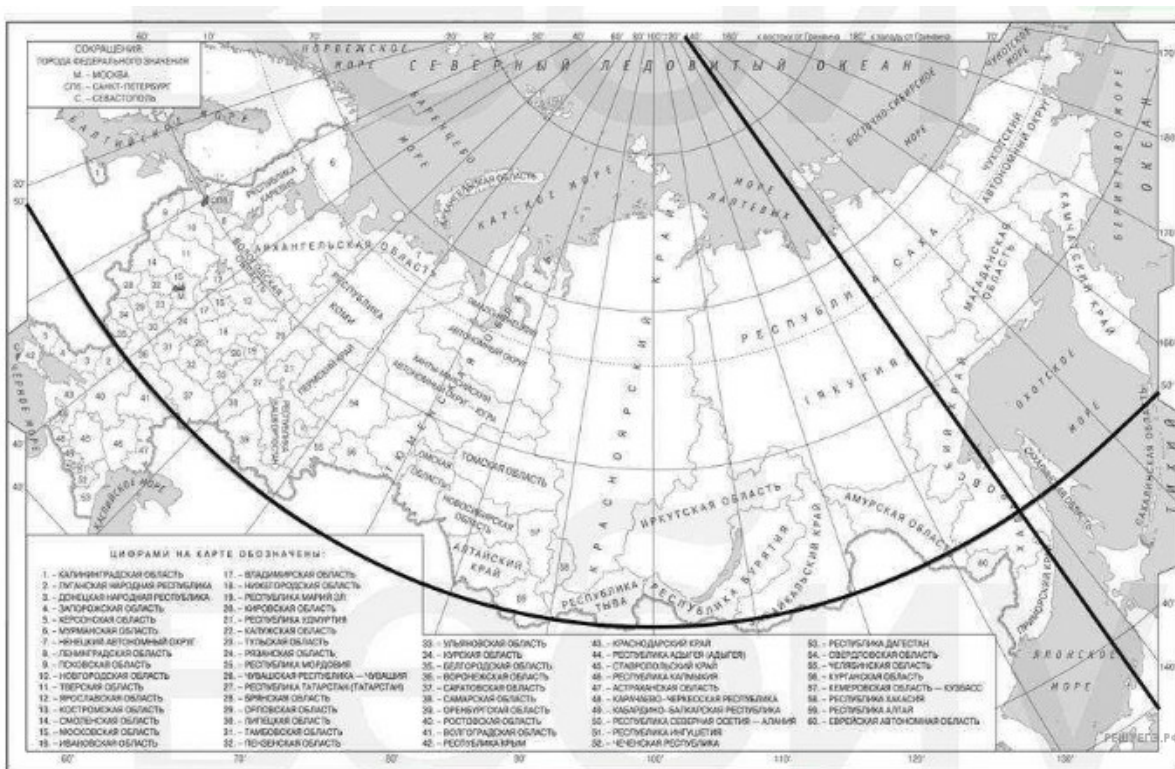


Карта составлена по состоянию на 01.01.2024

67. Город Перейра имеет географические координаты 4° 49' с. ш. 75° 41' з. д. Определите, на территории какого государства находится этот город.

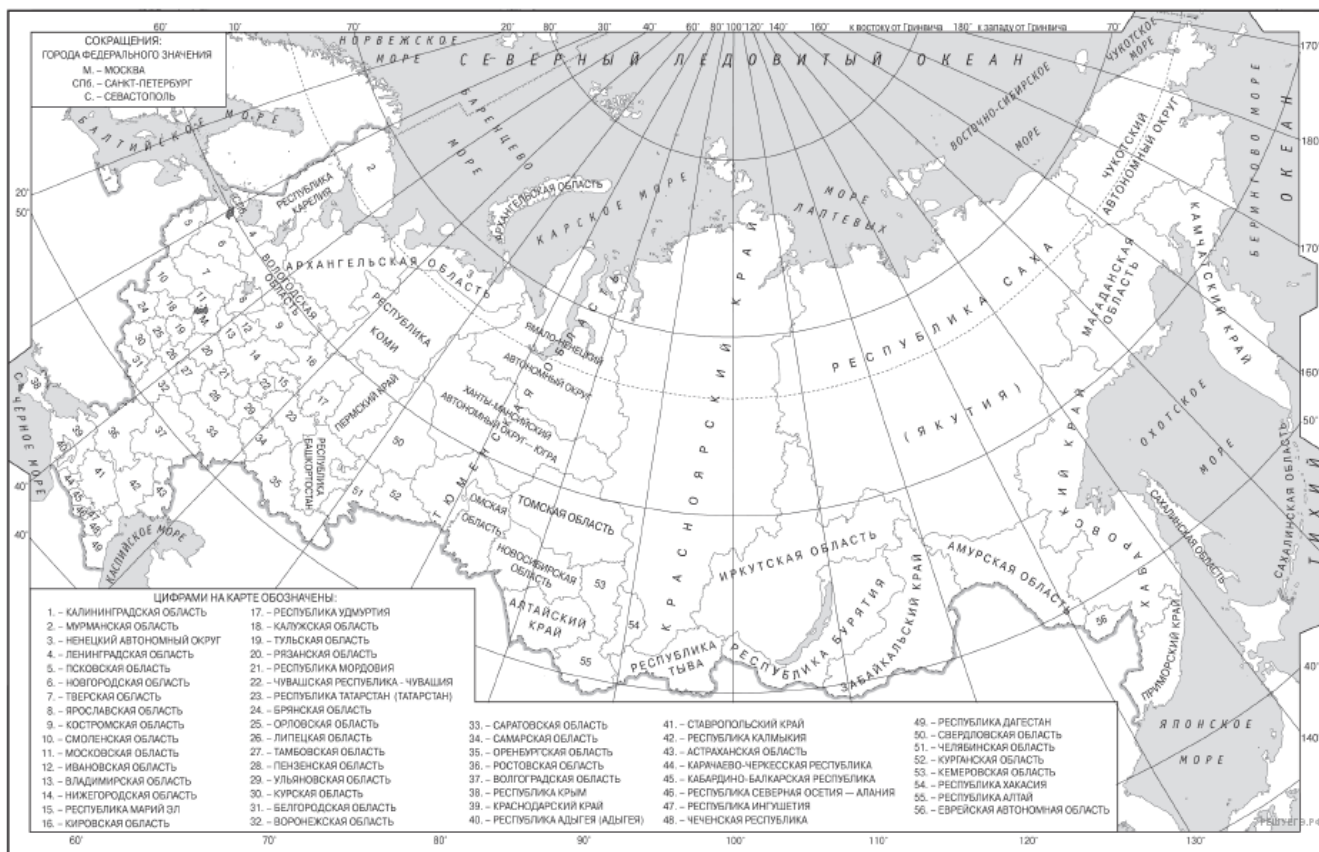
68. Город Каражал имеет географические координаты 47° 56' с. ш. 70° 49' в. д. Определите, на территории какого государства находится этот город.

69. Населённый пункт имеет географические координаты 50° с. ш. 137° в. д. Определите, на территории какого субъекта РФ расположен этот населённый пункт.

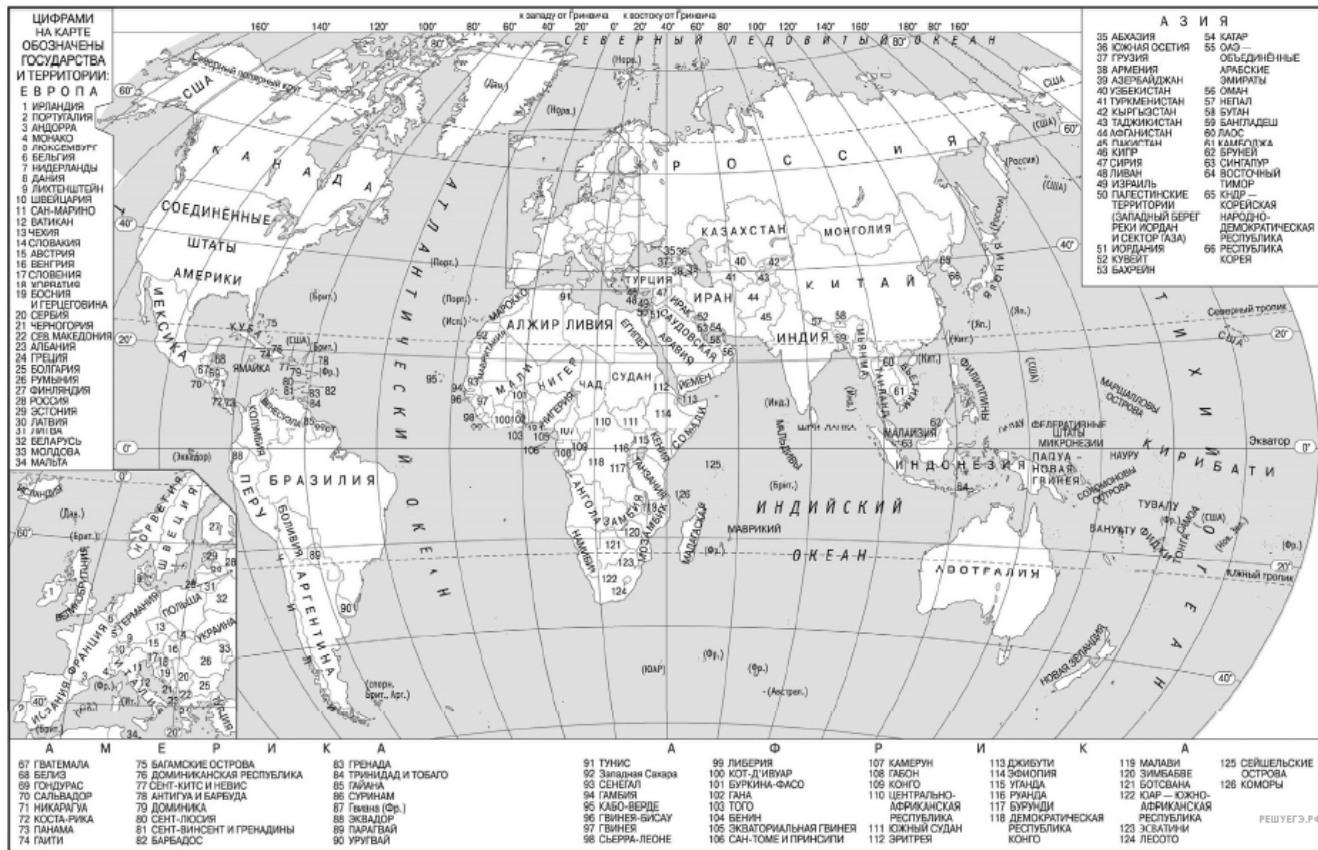


Карта составлена по состоянию на 01.01.2024

70. Город Лабулайе имеет географические координаты 34° 08' ю. ш. 63° 23' з. д. Определите, на территории какого государства находится этот город.



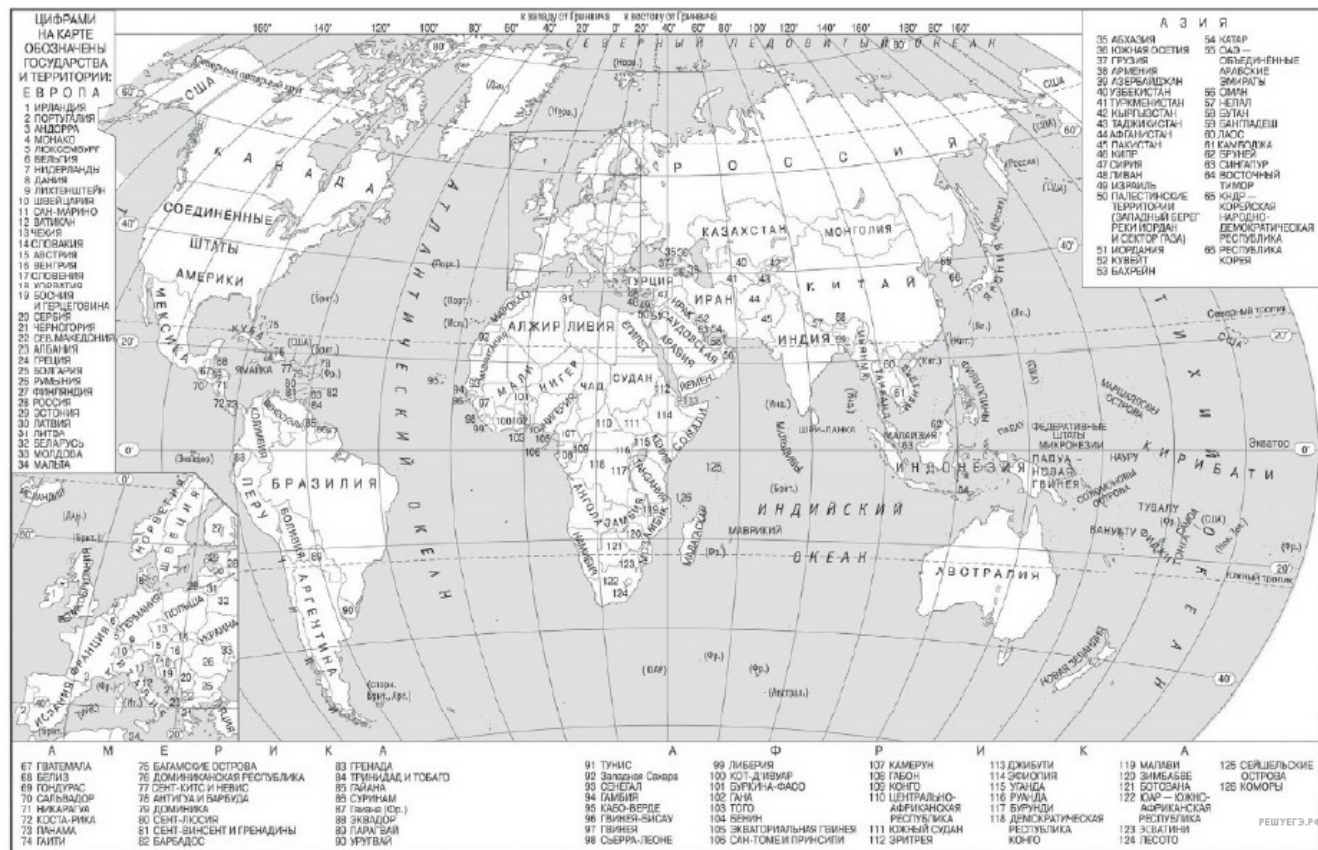
Карта составлена по состоянию на 01.01.2021



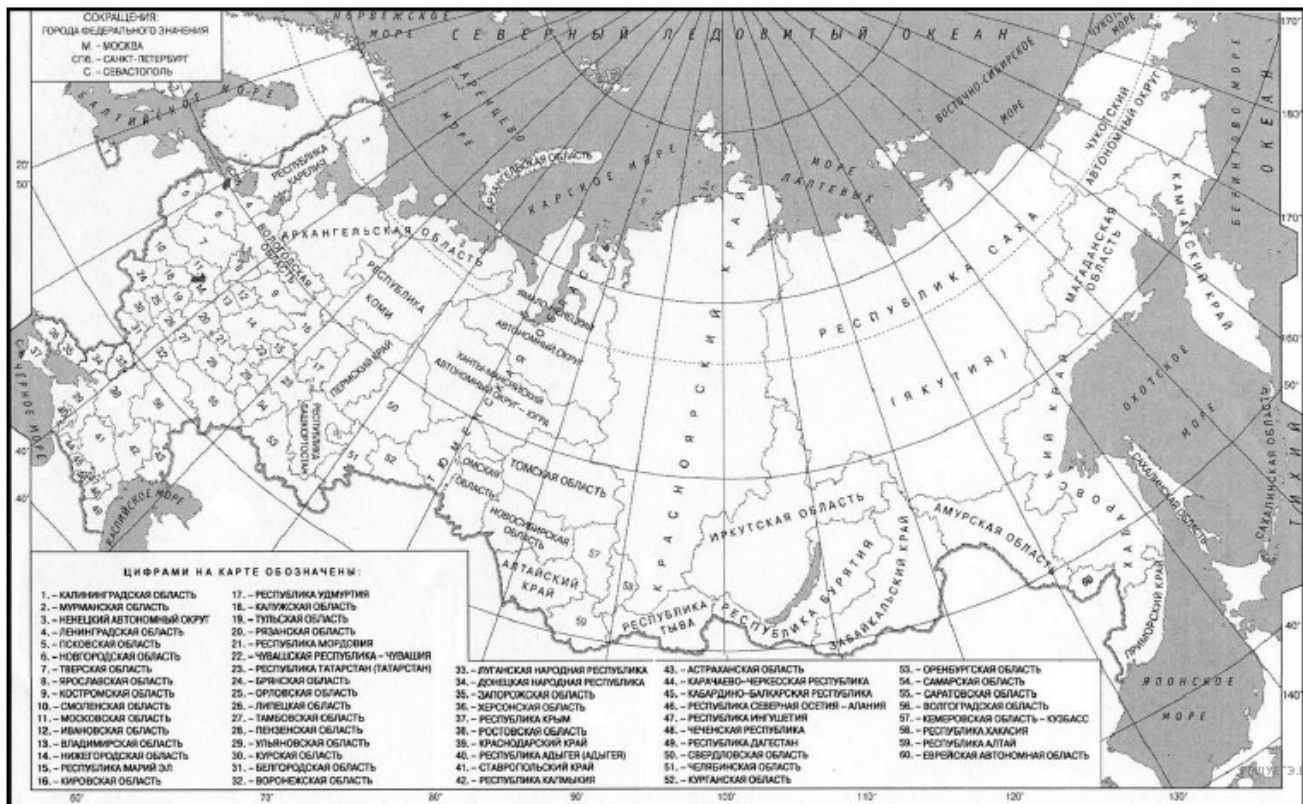
Карта составлена по состоянию на 01.01.2021

71. Город Ин-Салах имеет географические координаты $27^{\circ} 15'$ с. ш. $2^{\circ} 31'$ в. д. Определите, на территории какого государства находится этот город.

72. Населённый пункт Эль-Джуфра имеет географические координаты $30^{\circ} 00'$ с. ш. $16^{\circ} 00'$ в. д. Определите, на территории какого государства находится этот населённый пункт.



Карта составлена по состоянию на 01.01.2024



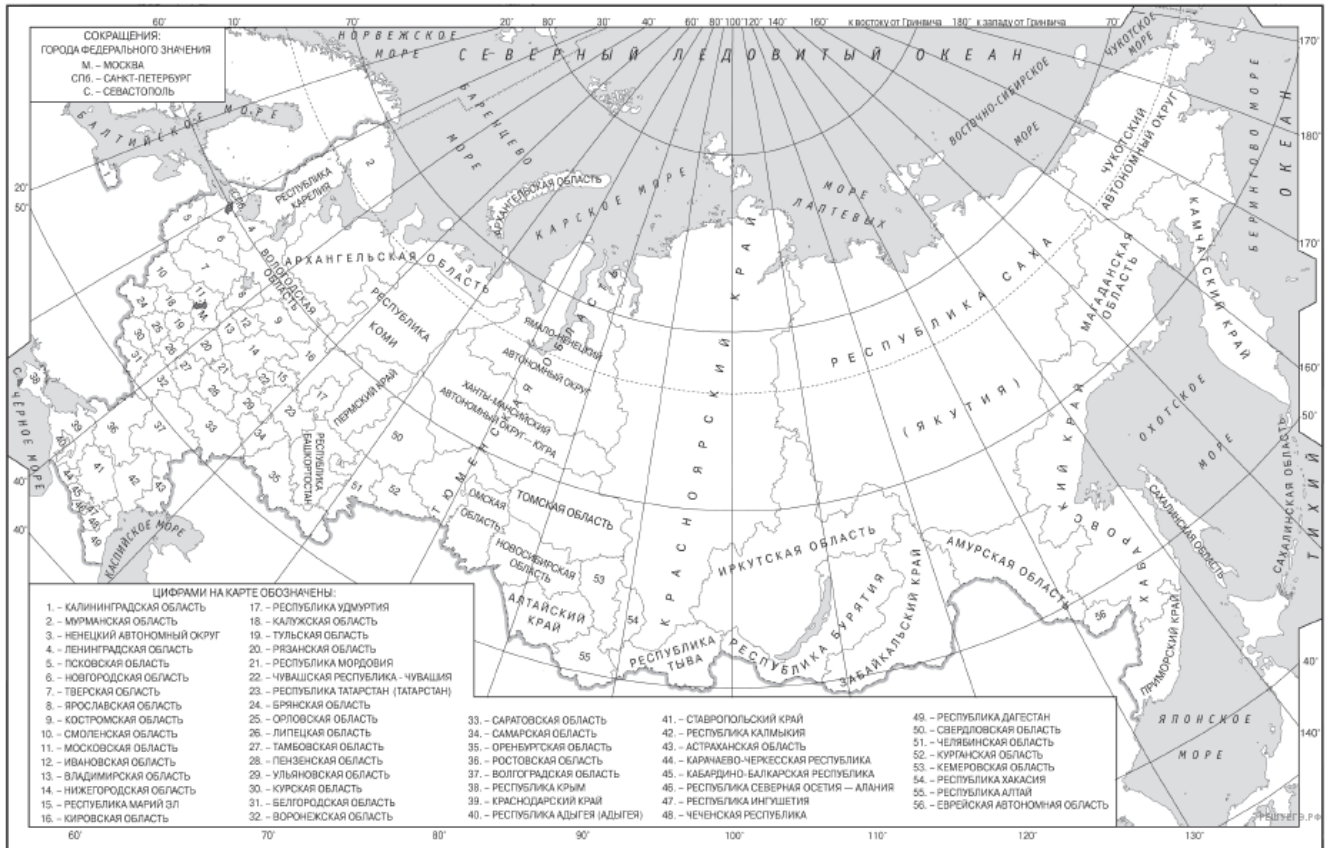
Карта составлена по состоянию на 01.01.2024

73. Посёлок Октябрьский имеет географические координаты 52° 37' с. ш. 156° 16' в. д. Определите, на территории какого субъекта РФ находится этот посёлок.

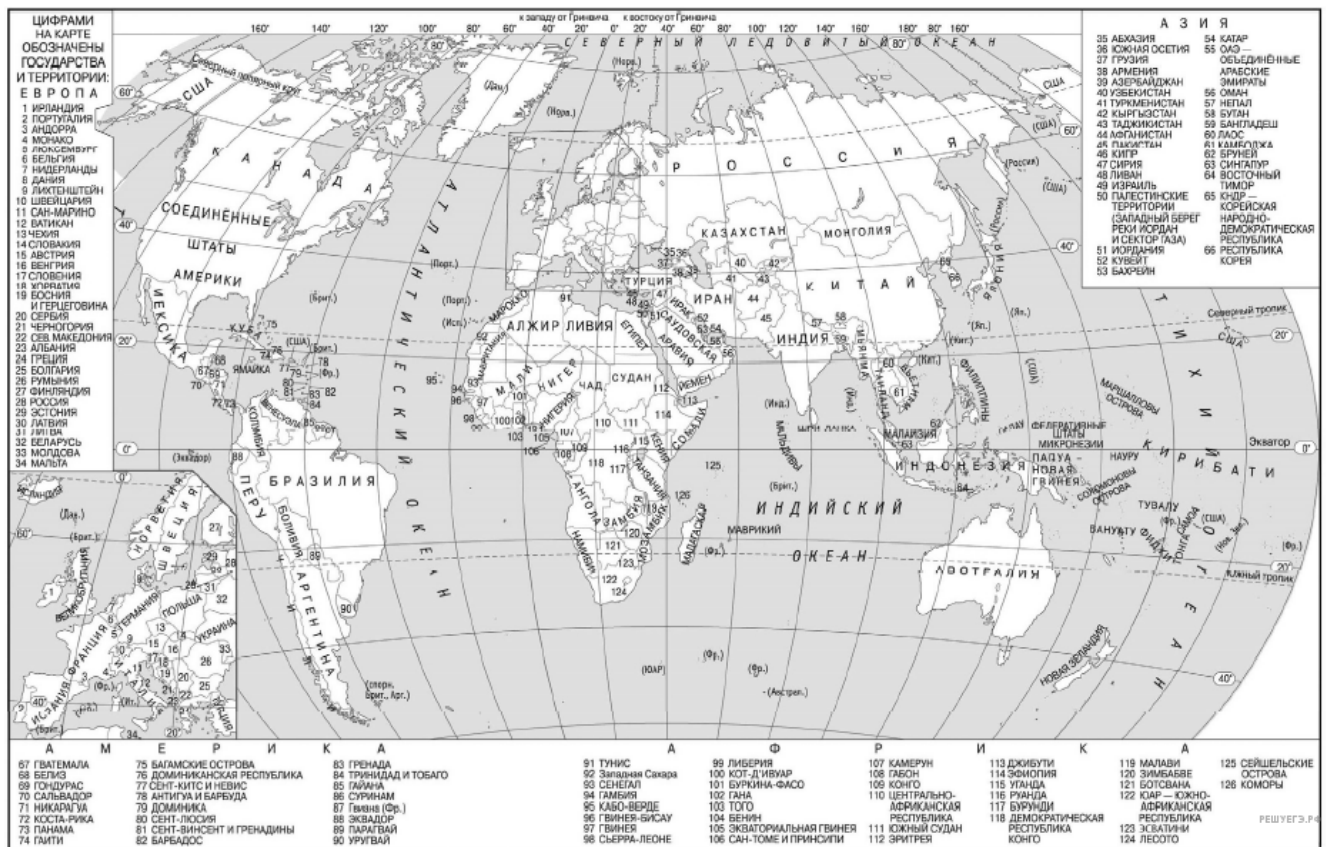
74. Город Фианаранцуа имеет географические координаты 21° 26' ю. ш. 47° 05' в. д. Определите, на территории какого государства находится этот город.

75. Населённый пункт Марла имеет географические координаты 27° 20' ю. ш. 133° 32' в. д. Определите, на территории какого государства находится этот населённый пункт.

76. Город Даду имеет географические координаты 26° 44' с. ш. 67° 47' в. д. Определите, на территории какого государства находится этот город.



Карта составлена по состоянию на 01.01.2021

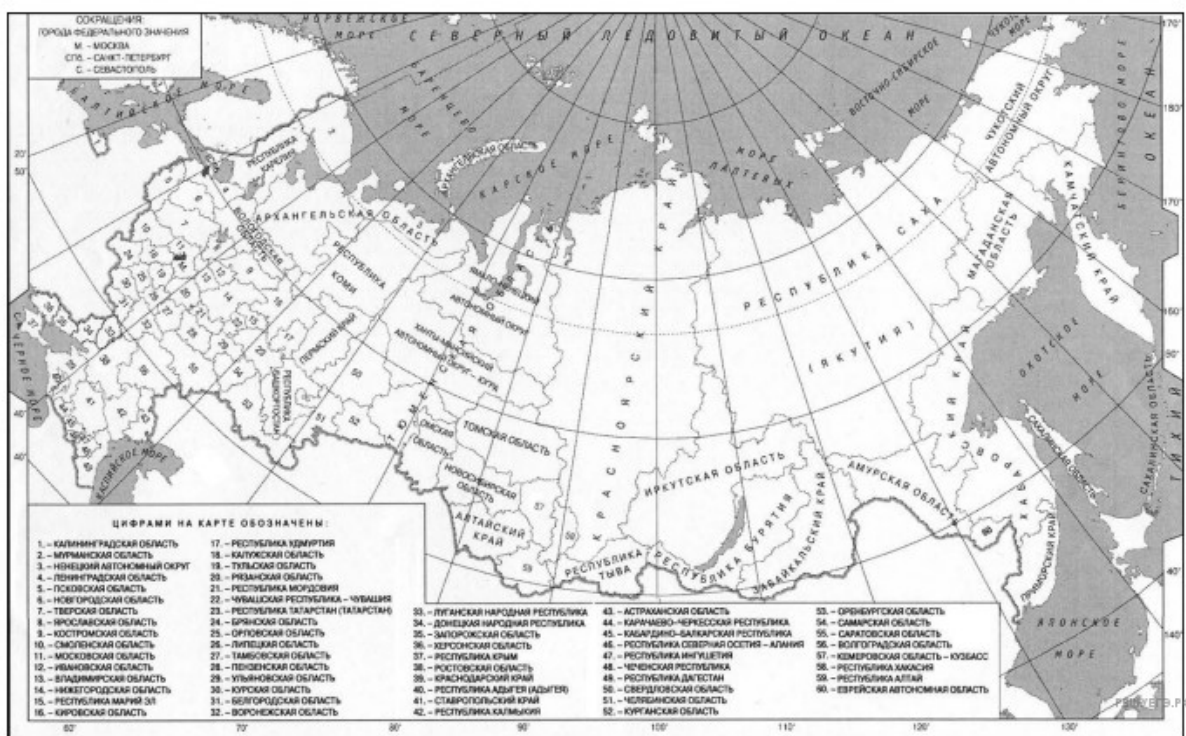
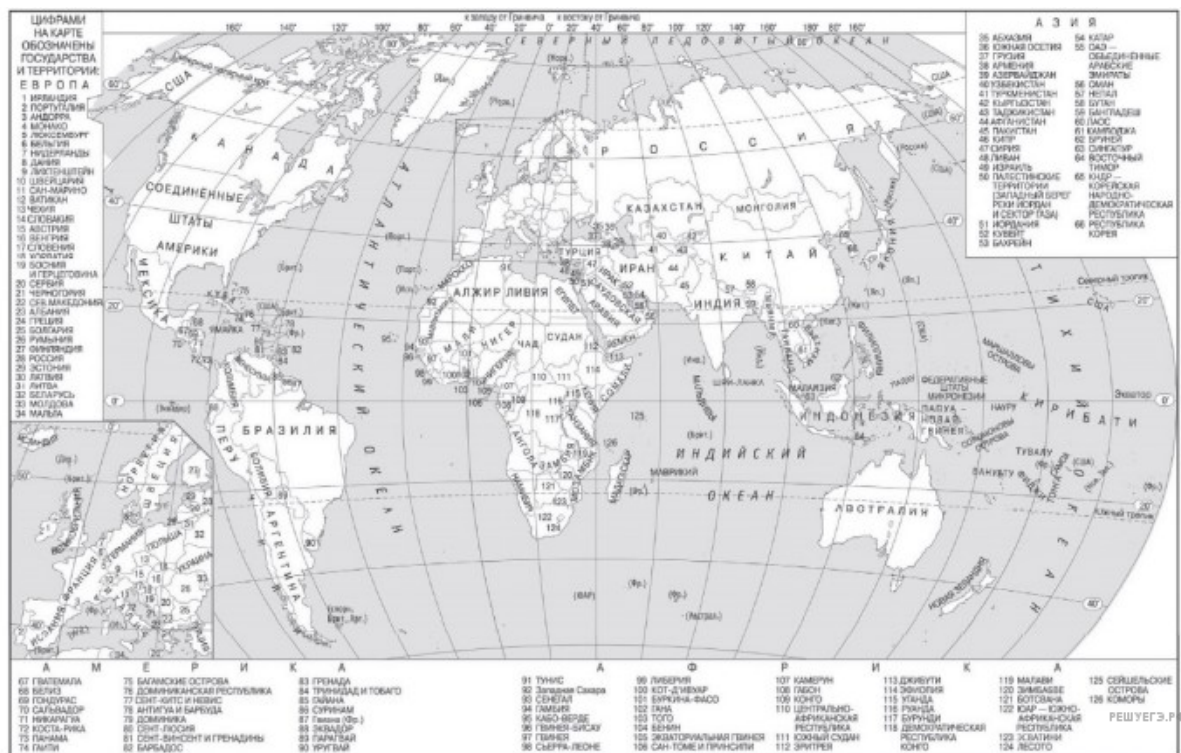


Карта составлена по состоянию на 01.01.2021

77. Город Сфакс имеет географические координаты 34° 40' с. ш. 10° 39' в. д. Определите, на территории какого государства находится этот город.

78. Город Тулуз имеет географические координаты 54° 34' с. ш. 100° 34' в. д. Определите, на территории какого субъекта Российской Федерации находится этот город.

79. Село Долиновка имеет географические координаты $55^{\circ} 07'$ с. ш. $159^{\circ} 04'$ в. д. Определите, на территории какого субъекта Российской Федерации находится это село.



80. Город Карнвуд имеет географические координаты $53^{\circ} 11'$ с. ш. $114^{\circ} 38'$ з. д. Определите, на территории какого государства находится этот город.

81. Город Тулон имеет географические координаты $41^{\circ} 06'$ с. ш. $89^{\circ} 52'$ з. д. Определите, на территории какого государства находится этот город.