

1. В каком из перечисленных регионов России средняя плотность населения наименьшая?

- 1) Архангельская область
- 2) Воронежская область
- 3) Краснодарский край
- 4) Ставропольский край

2. Какой из регионов, обозначенных буквами на карте России, имеет наибольшую среднюю плотность населения?



- 1) A
- 2) B
- 3) C
- 4) D

3. Народы какой языковой семьи составляют большинство в населении России?

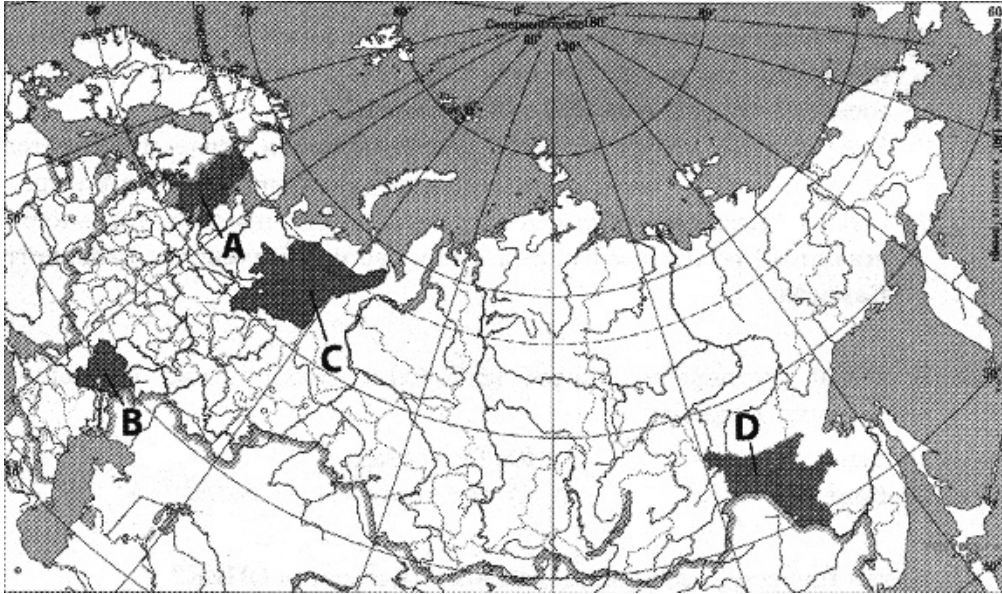
1. Индоевропейской
2. Уральской
3. Алтайской
4. Северокавказской

4. Какой из регионов, обозначенных буквами на карте России, имеет наибольшую среднюю плотность населения?



- 1) A
- 2) B
- 3) C
- 4) D

5. Какой из обозначенных на карте России регионов имеет наибольшую среднюю плотность населения?



- 1) A
- 2) B
- 3) C
- 4) D

6. Какая из перечисленных областей имеет наибольшую среднюю плотность населения?

- 1) Архангельская
- 2) Ростовская
- 3) Мурманская
- 4) Омская

7. Какой из регионов, обозначенных буквами на карте России, имеет наибольшую среднюю плотность населения?



- 1) A
- 2) B
- 3) C
- 4) D

8. В каком из перечисленных регионов средняя плотность населения наименьшая?

- 1) Алтайский край
- 2) Краснодарский край
- 3) Республика Коми
- 4) Республика Чувашия

9. В каком из перечисленных регионов средняя плотность населения наибольшая?

- 1) Алтайский край
- 2) Красноярский край
- 3) Республика Коми
- 4) Архангельская область

10. Какой из перечисленных регионов России имеет наибольшую среднюю плотность населения?

- 1) Белгородская область
- 2) Тюменская область
- 3) Республика Бурятия
- 4) Республика Карелия

11. В каком из перечисленных регионов России средняя плотность населения наибольшая?

- 1) Архангельская область
- 2) Краснодарский край
- 3) Республика Коми
- 4) Хабаровский край

12. Какой из обозначенных буквами на карте России регионов имеет наименьшую среднюю плотность населения?



- 1) A
- 2) B
- 3) C
- 4) D

13. В какой из перечисленных областей средняя плотность населения наименьшая?

- 1) Псковская
- 2) Сахалинская
- 3) Свердловская
- 4) Брянская

14. В каком из перечисленных регионов России средняя плотность населения наибольшая?

- 1) Архангельская область
- 2) Краснодарский край
- 3) Республика Коми
- 4) Хабаровский край

15. Какой из регионов, обозначенных буквами на карте России, имеет наибольшую среднюю плотность населения?



- 1) A
- 2) B
- 3) C
- 4) D

16. В каком из регионов, обозначенных буквами на карте России, средняя плотность населения наибольшая?

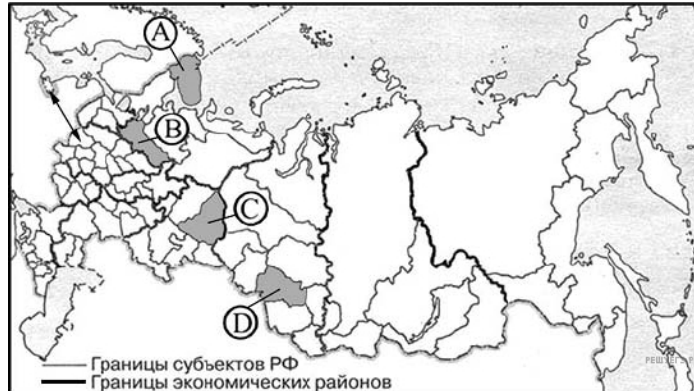


- 1) A
- 2) B
- 3) C
- 4) D

17. В каком из перечисленных регионов средняя плотность населения наименьшая?

- 1) Алтайский край
- 2) Краснодарский край
- 3) Республика Коми
- 4) Республика Чувашия

18. Какой из обозначенных буквами на карте России регионов имеет наименьшую среднюю плотность населения?



- 1) A
- 2) B
- 3) C
- 4) D

19. В каком из перечисленных регионов России средняя плотность населения наибольшая?

- 1) Краснодарский край
- 2) Архангельская область
- 3) Республика Коми
- 4) Хабаровский край

20. В каком из перечисленных регионов России средняя плотность населения наибольшая?

- 1) Вологодская область
- 2) Воронежская область
- 3) Республика Карелия
- 4) Мурманская область

21. В каком из перечисленных регионов России средняя плотность населения **наименьшая**?

- 1) Белгородская область
- 2) Республика Коми
- 3) Ростовская область
- 4) Краснодарский край

22. Какой из регионов, обозначенных буквами на карте России, имеет наибольшую среднюю плотность населения?



- 1) A
- 2) B
- 3) C
- 4) D

23. Какой из регионов, обозначенных буквами на карте России, имеет наибольшую среднюю плотность населения?



- 1) A
- 2) B
- 3) C
- 4) D

24. Какая из обозначенных буквами на карте России территорий имеет **наименьшую** среднюю плотность населения?



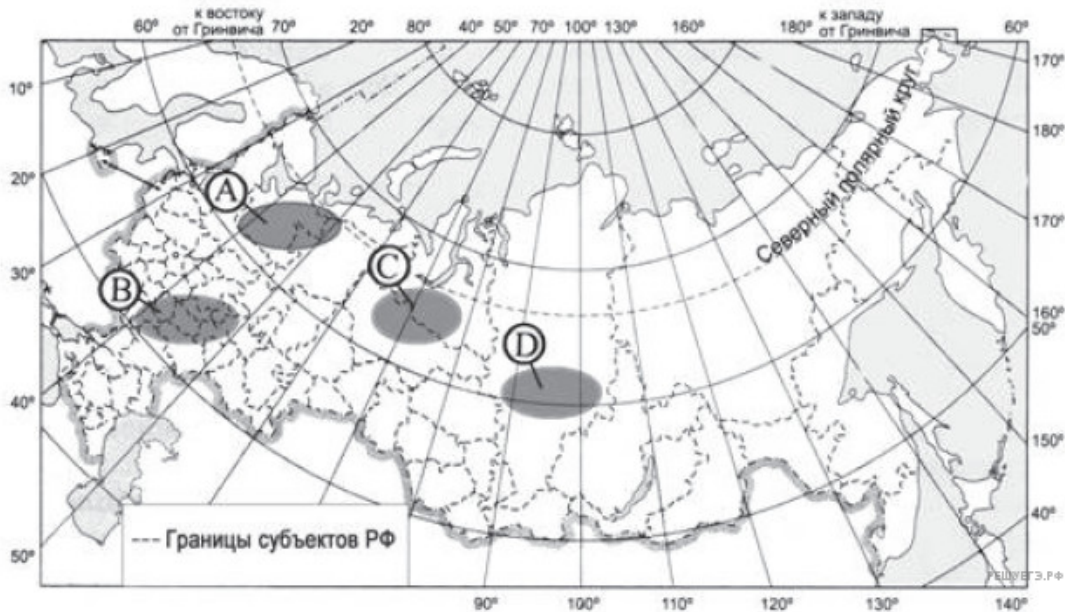
- 1) A
- 2) B
- 3) C
- 4) D

25. Какая из обозначенных буквами на карте России территорий имеет **наименьшую** среднюю плотность населения?



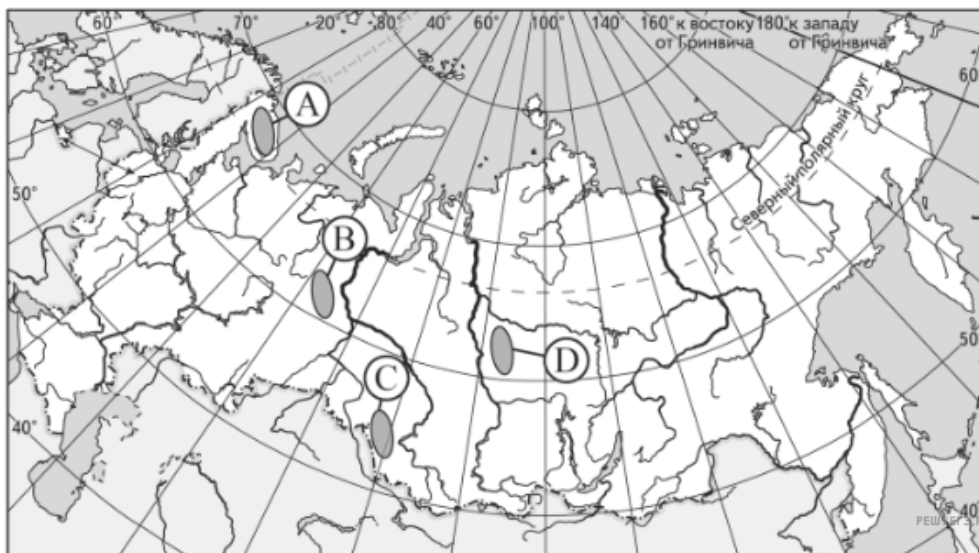
- 1) A
- 2) B
- 3) C
- 4) D

26. Какая из территорий, обозначенных на карте России, имеет наибольшую среднюю плотность населения?



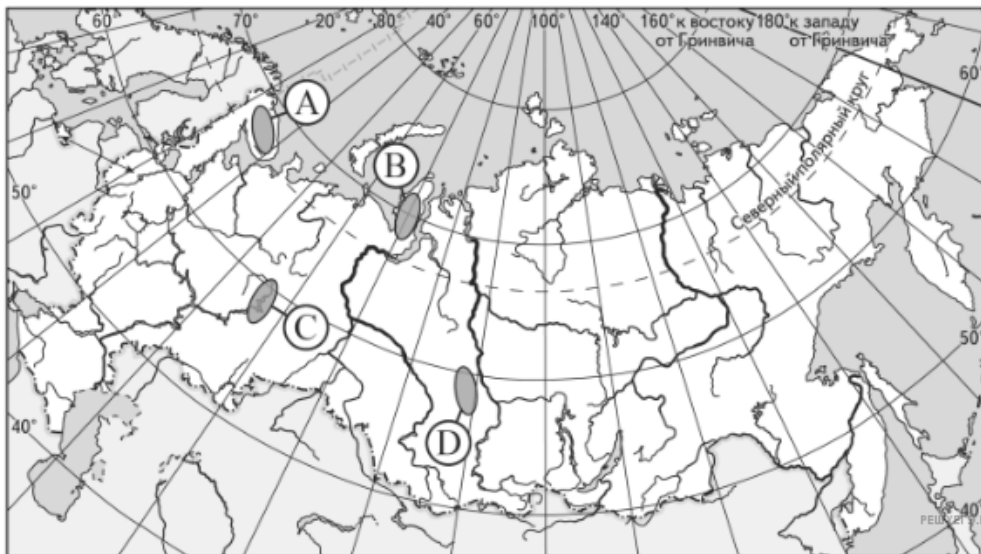
- 1) A
- 2) B
- 3) C
- 4) D

27. Какая из территорий, обозначенных буквами на карте России, имеет наибольшую среднюю плотность населения?



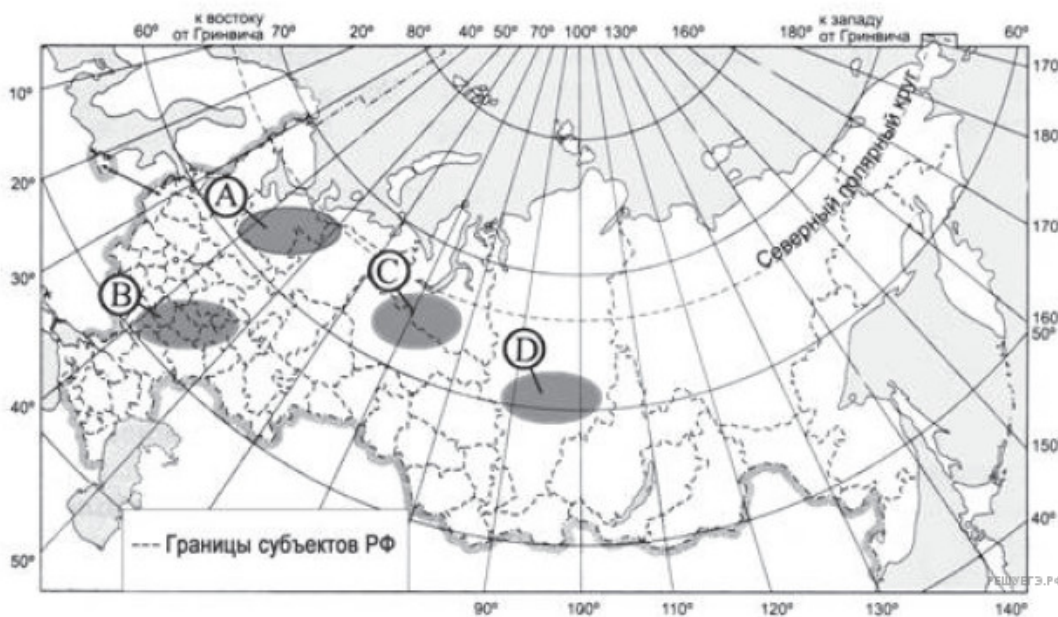
- 1) A
- 2) B
- 3) C
- 4) D

28. Какая из территорий, обозначенных буквами на карте России, имеет наибольшую среднюю плотность населения?



- 1) A
- 2) B
- 3) C
- 4) D

29. Какая из территорий, обозначенных на карте России, имеет наибольшую среднюю плотность населения?



- 1) A
- 2) B
- 3) C
- 4) D