

1. Используя данные таблицы, определите показатель естественного прироста населения в ‰ в 2008 г. для Мурманской области.

Численность и естественный прирост населения Мурманской области

Показатель	2007 г.	2008 г.
Среднегодовая численность населения, человек	853 949	846 691
Естественный прирост населения, человек, значение показателя за год	-1190	-1060

Полученный результат округлите до целого числа.

2. Расположите перечисленные страны в порядке возрастания в них рождаемости (на 1 тыс. жителей). Укажите ответ в виде последовательности буквенных обозначений выбранных элементов без пробелов.

- А) Бразилия
- Б) США
- В) Эфиопия
- Г) Чехия

3. Используя данные таблицы, определите показатель естественного прироста населения в ‰ в 2008 г. для Владимирской области. Полученный результат округлите до целого числа.

Год	2007	2008
Среднегодовая численность населения, чел.	1 454 525	1 444 618
Естественный прирост населения, чел., значение показателя за год.	-12 422	-11 550

4. Расположите страны в порядке возрастания в них рождаемости (на 1 тыс. жителей). Укажите ответ в виде последовательности буквенных обозначений выбранных элементов без пробелов.

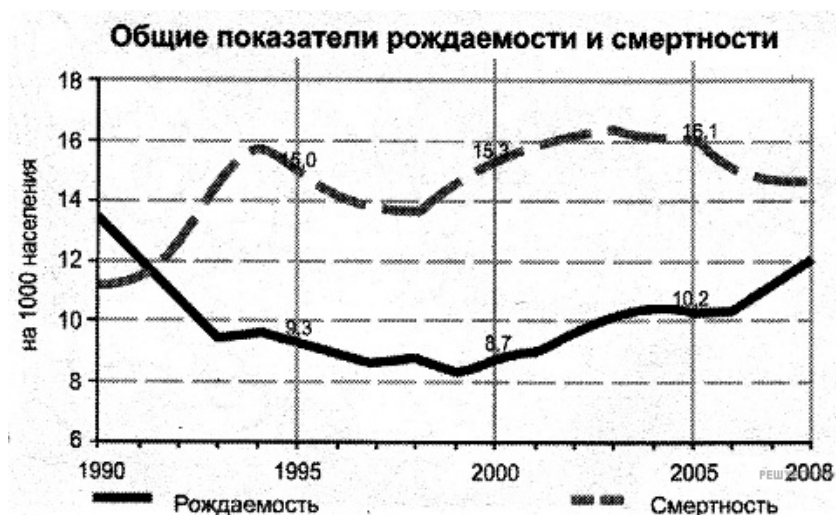
- А) Австралия
- Б) Чили
- В) Судан
- Г) Польша

5. Используя данные таблицы, определите показатель естественного прироста населения в ‰ в 2008 г. для Тульской области. Полученный результат округлите до целого числа.

Численность и естественный прирост населения Тульской области

Год	2007	2008
Среднегодовая численность населения, чел.	1 573 413	1 559 720
Естественный прирост населения, чел., значение показателя за год.	-18 933	-17 742

6. Определите по графику величину естественного прироста населения в России (в расчете на 1 тыс. чел.) в 1995 г. Ответ запишите цифрами.

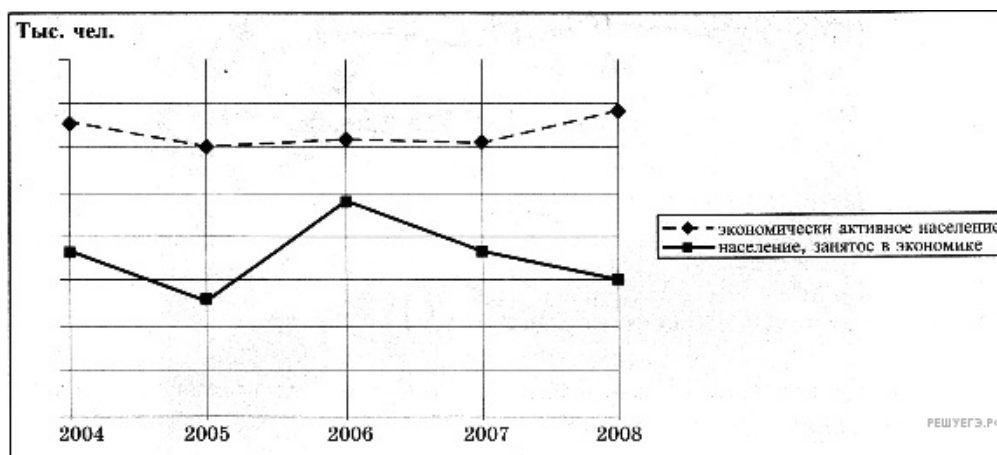


7. Расположите страны в порядке возрастания в них рождаемости (на 1 тыс. жителей).

- А) Финляндия
- Б) США
- В) Нигерия
- Г) Бразилия

Запишите в таблицу получившуюся последовательность букв.

8. В каком году за период, показанный на графике (2004-2008 гг.), количество безработных в Карелии было наименьшим? Ответ запишите цифрами.

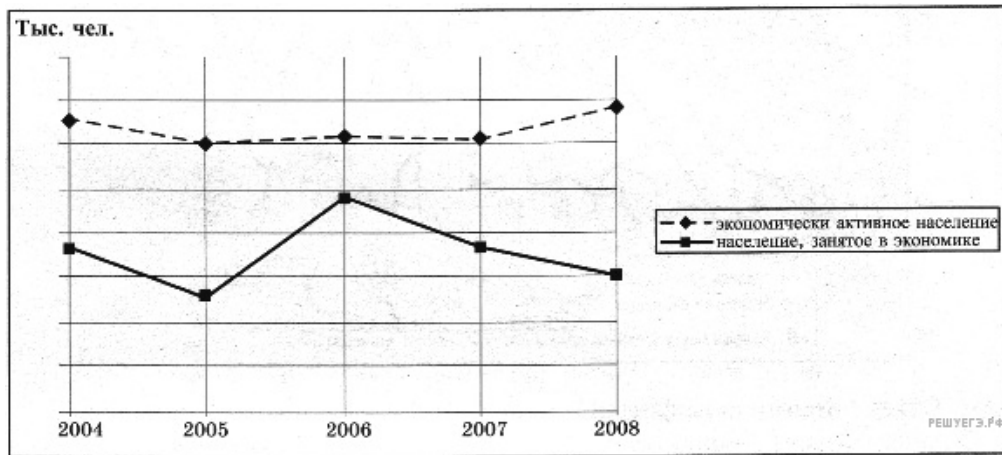


9. Расположите страны в порядке возрастания в них рождаемости (на 1 тыс. жителей).

- А) Нигерия
- Б) Аргентина
- В) Италия
- Г) США

Запишите в таблицу получившуюся последовательность букв.

10. В каком году за период, показанный на графике (2004-2008 гг.), количество безработных в Карелии было наибольшим? Ответ запишите цифрами.

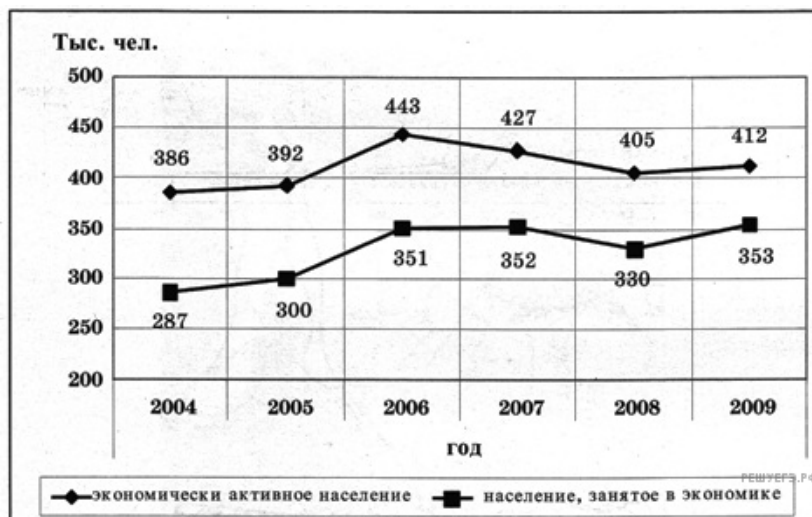


11. Расположите перечисленные страны в порядке возрастания в них естественного прироста населения (на 1 тыс. жителей).

- А) Бразилия
- Б) Кения
- В) Австралия
- Г) Латвия

Запишите получившуюся последовательность букв.

12. В каком году, из показанных на графике, количество безработных в Кабардино-Балкарской республике было наименьшим? Ответ запишите цифрами.

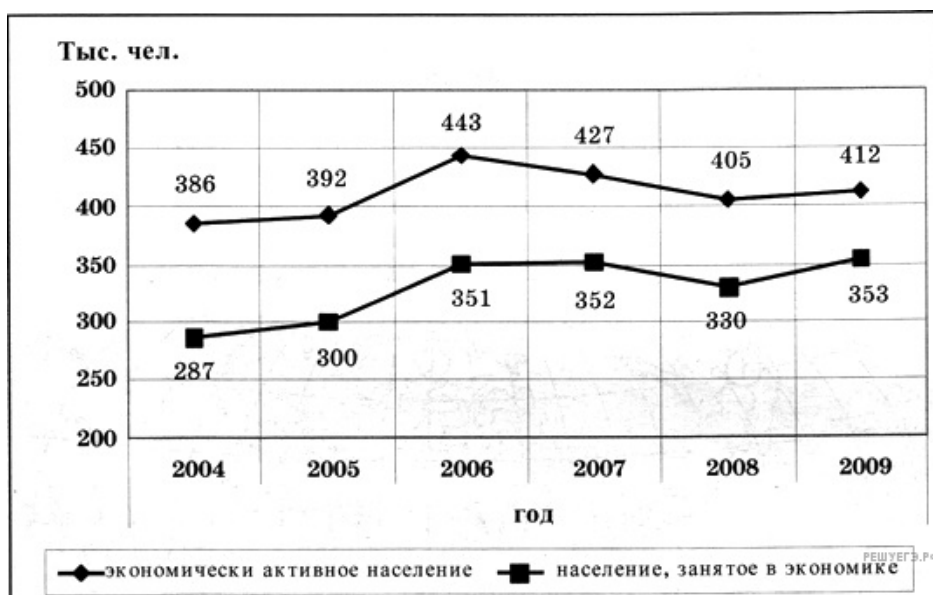


13. Расположите перечисленные страны в порядке возрастания естественного прироста населения (на тыс. жителей).

- А) Аргентина
- Б) Австралия
- В) Эфиопия
- Г) Эстония

Запишите получившуюся последовательность букв.

14. В каком году, из показанных на графике, количество безработных в Кабардино-Балкарской республике было наименьшим? Ответ запишите цифрами.



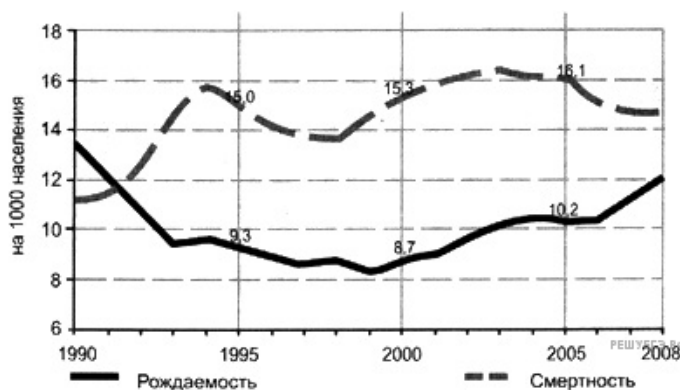
15. Расположите страны в порядке возрастания в них рождаемости (на 1 тыс. жителей).

- А) Аргентина
- Б) Ангола
- В) Италия
- Г) Канада

Запишите в таблицу получившуюся последовательность букв.

16. Определите по графику, в каком году за период, показанный на графике (1990-2008 гг.), в России наблюдалась наименьшая естественная убыль населения. Ответ запишите цифрами.

Общие показатели рождаемости и смертности

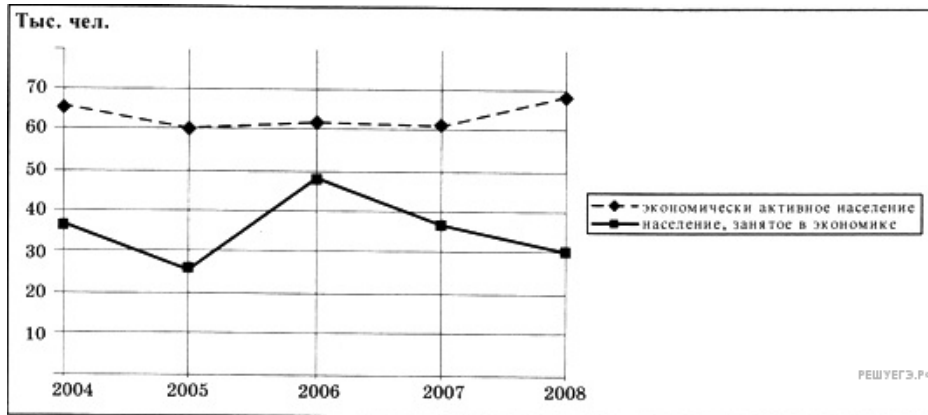


17. Расположите перечисленные страны в порядке возрастания естественного прироста населения (на 1 тыс. жителей).

- А) Болгария
- Б) Сенегал
- В) Австралия
- Г) Аргентина

Запишите получившуюся последовательность букв.

18. Определите количество безработных в Карелии в 2007 г. Ответ запишите цифрами.



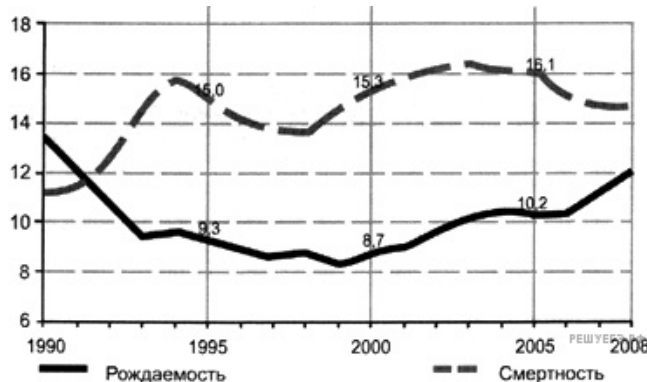
19. Расположите перечисленные страны в порядке возрастания естественного прироста населения (на 1 тыс. жителей).

- А) Замбия
- Б) Китай
- В) Германия
- Г) Канада

Запишите получившуюся последовательность букв.

20. Определите по графику величину естественного прироста населения в России (в расчете на 1 тыс. чел.) в 2000 г. Ответ запишите цифрами.

Общие показатели рождаемости и смертности



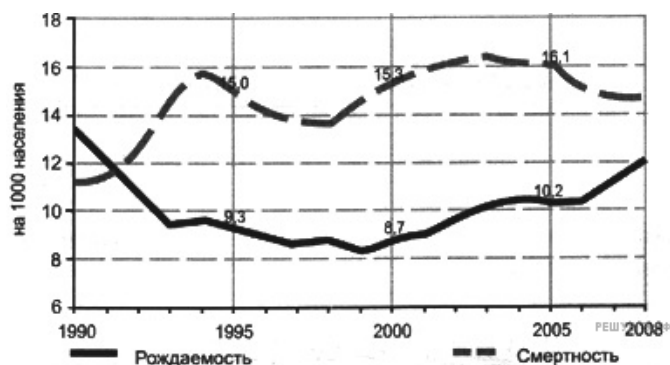
21. Расположите страны в порядке возрастания в них рождаемости (на 1 тыс. жителей).

- А) США
- Б) Чили
- В) Польша
- Г) Намибия

Запишите в таблицу получившуюся последовательность букв.

22. Определите по графику, в каком году за период, показанный на графике (1990-2008 гг.), в России наблюдался наибольший естественный прирост населения. Ответ запишите цифрами.

Общие показатели рождаемости и смертности

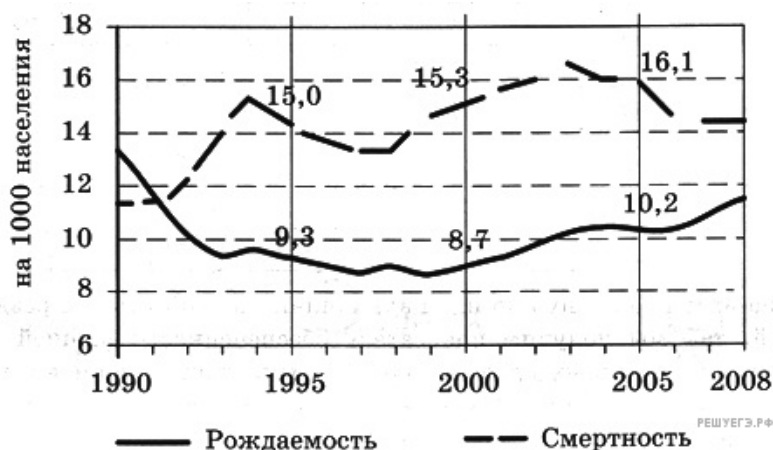


23. Расположите страны в порядке возрастания в них рождаемости (на 1 тыс. жителей).

- А) Кения
- Б) Мексика
- В) Германия
- Г) Канада

Запишите получившуюся последовательность букв.

24. Определите по графику, в каком году за период, показанный на графике (1990-2008 гг.), в России наблюдался наибольший естественный прирост населения. Ответ запишите цифрами.



25. Расположите перечисленные страны в порядке возрастания в них естественного прироста населения (на тыс. жителей).

- А) Бразилия
- Б) Австралия
- В) Эфиопия
- Г) Эстония

Запишите в таблицу получившуюся последовательность букв.

26. Определите по графику величину естественного прироста населения в России (в расчете на 1 тыс. чел.) в 1995 г. Ответ запишите цифрами.



27. Расположите перечисленные страны в порядке возрастания естественного прироста населения (на 1 тыс. жителей).

- А) Болгария
- Б) Сенегал
- В) Австралия
- Г) Аргентина

Запишите получившуюся последовательность букв.

28. Определите по графику, в каком году за период, показанный на графике (1990-2008 гг.), в России наблюдалась наименьшая естественная убыль населения. Ответ запишите цифрами.

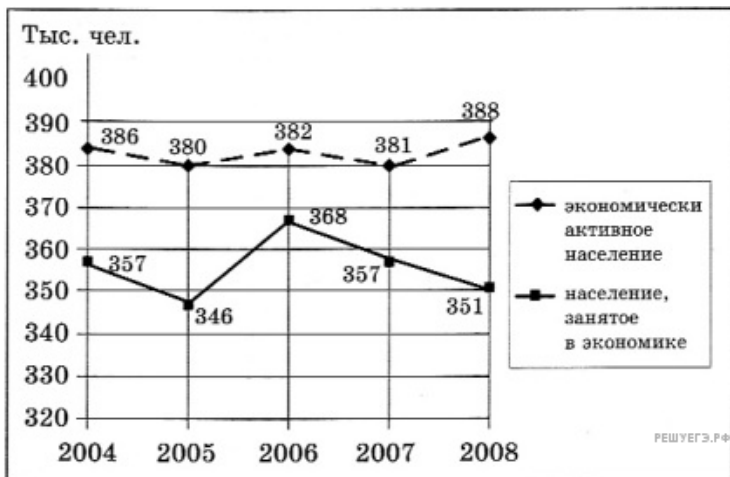


29. Расположите страны в порядке возрастания в них естественного прироста населения (на 1 тыс. жителей).

- А) Судан
- Б) Канада
- В) Аргентина
- Г) Украина

Запишите получившуюся последовательность букв.

30. В каком году за период, показанный на графике (2004–2008 гг.), количество безработных в Карелии было наименьшим? Ответ запишите цифрами.



31. Определите по графику величину естественной убыли населения в России (в расчете на 1 тыс. чел.) в 2005 г. Ответ запишите цифрами. Буквы, соответствующие выбранным ответам, запишите в алфавитном порядке.

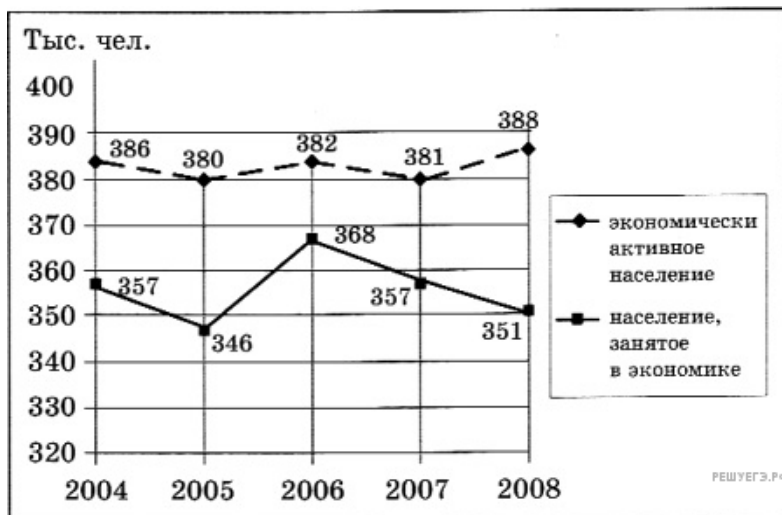


32. Расположите страны в порядке возрастания в них естественного прироста населения (на 1 тыс. жителей).

- А) Бразилия
- В) Бангладеш
- Б) Франция
- Г) Канада

Запишите получившуюся последовательность букв.

33. В каком году за период, показанный на графике (2004-2008 гг.), количество безработных в Карелии было наибольшим? Ответ запишите цифрами.



34. Расположите страны в порядке возрастания в них коэффициента рождаемости (на 1 тыс. жителей). Укажите ответ в виде последовательности буквенных обозначений выбранных элементов.

- А) Камерун
- Б) Венгрия
- В) США
- Г) Мексика

35. Используя данные таблицы, определите показатель естественного прироста населения в ‰ в 2008 г. для Республики Тыва.

Численность и естественный прирост населения Республики Тыва

Год	2007	2008
Среднегодовая численность населения, человек	310529	312780
Естественный прирост населения, человек, значение показателя за год	3881	4340

Полученный результат округлите до целого числа.

36. Расположите страны в порядке возрастания в них коэффициента рождаемости (на 1 тыс. жителей). Укажите ответ в виде последовательности буквенных обозначений выбранных элементов.

- А) США
- Б) Бразилия
- В) Ангола
- Г) Чехия

37. Расположите страны в порядке возрастания в них естественного прироста населения (на 1 тыс. жителей). Укажите ответ в виде последовательности буквенных обозначений выбранных элементов.

- А) Ангола
- Б) Украина
- В) США
- Г) Перу

38. Расположите страны в порядке возрастания в них естественного прироста населения (на 1 тыс. жителей). Укажите ответ в виде последовательности буквенных обозначений выбранных элементов.

- А) Кения
- Б) США
- В) Украина
- Г) Перу

39. Расположите страны в порядке возрастания в них естественного прироста населения (на 1 тыс. жителей). Укажите ответ в виде последовательности буквенных обозначений выбранных элементов.

- А) Канада
- Б) Мексика
- В) Испания
- Г) Нигерия

40. Расположите страны в порядке возрастания в них естественного прироста населения (на 1 тыс. жителей). Укажите ответ в виде последовательности буквенных обозначений выбранных элементов.

- А) Австрия
- Б) Австралия
- В) Перу
- Г) Танзания

41. Расположите страны в порядке возрастания в них естественного прироста населения (на 1 тыс. жителей). Укажите ответ в виде последовательности буквенных обозначений выбранных элементов.

- А) США
- Б) Венесуэла
- В) Уганда
- Г) Италия

42. Расположите страны в порядке возрастания в них естественного прироста населения (на 1 тыс. жителей).

- 1) Австрия
- 2) Австралия
- 3) Мозамбик
- 4) Мексика