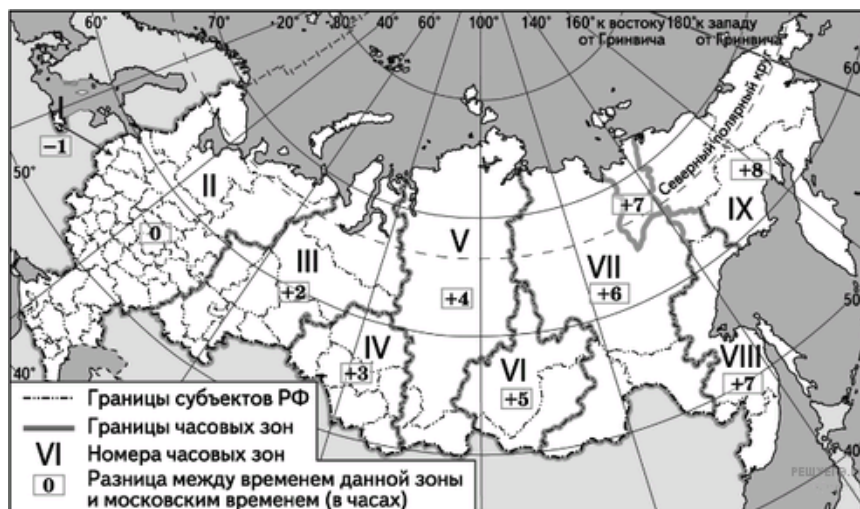


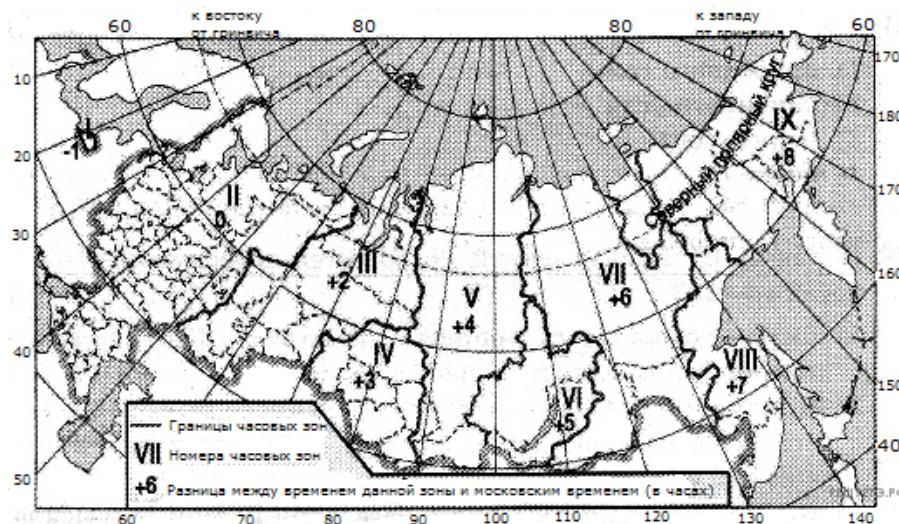
1. После отмены сезонного перевода часов в России московское время отличается от времени, действующего на территории Франции: летом на 2 часа, а зимой — на 3. С помощью карты «Часовые зоны России» определите, сколько времени будет в Красноярске (V часовая зона) 1 декабря, когда в Париже 10 часов.



Карта составлена по состоянию на 01.01.2014

Ответ запишите цифрами.

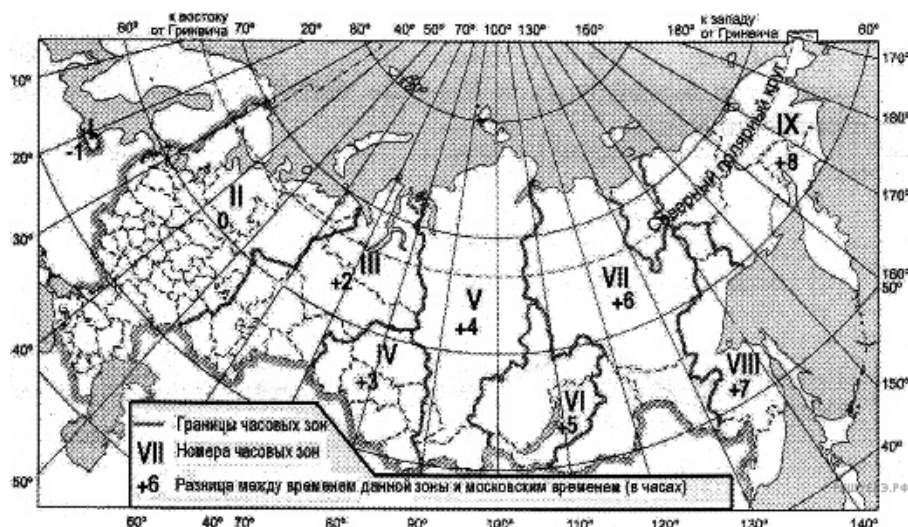
2. После отмены сезонного перевода часов в России московское время отличается от времени, действующего на территории Великобритании: летом на 3 часа, а зимой — на 4. С помощью карты «Часовые зоны России» определите, сколько времени будет в Лондоне 1 июня, когда в Челябинске (III часовая зона) полдень.



Карта составлена по состоянию на 01.01.2014

Ответ запишите цифрами.

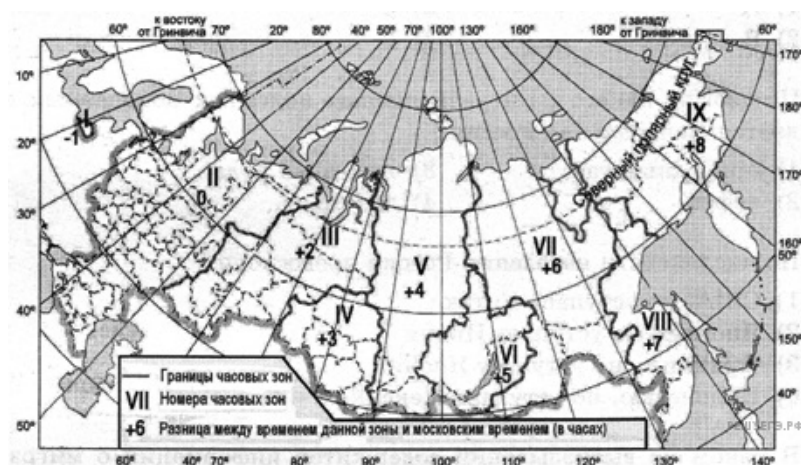
3. С помощью карты «Часовые зоны России» определите, сколько времени будет в Санкт-Петербурге (II часовая зона), когда в Челябинске (III часовая зона) полдень.



Карта составлена по состоянию на 01.01.2014

Ответ запишите цифрами.

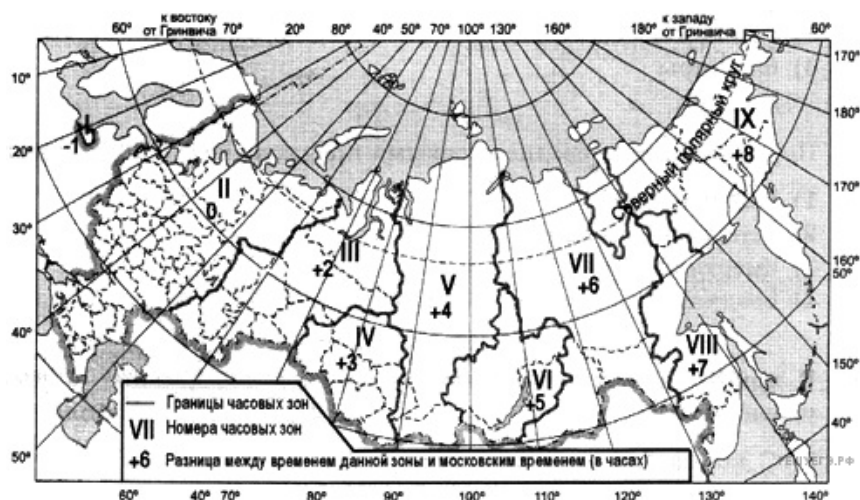
4. После отмены сезонного перевода часов в России московское время отличается от времени, действующего на территории Великобритании: летом на 3 часа, а зимой — на 4. С помощью карты «Часовые зоны России» определите, сколько времени будет в Иркутске (VI часовая зона) 1 декабря, когда в Лондоне полдень.



Карта составлена по состоянию на 01.01.2017

Ответ запишите цифрами.

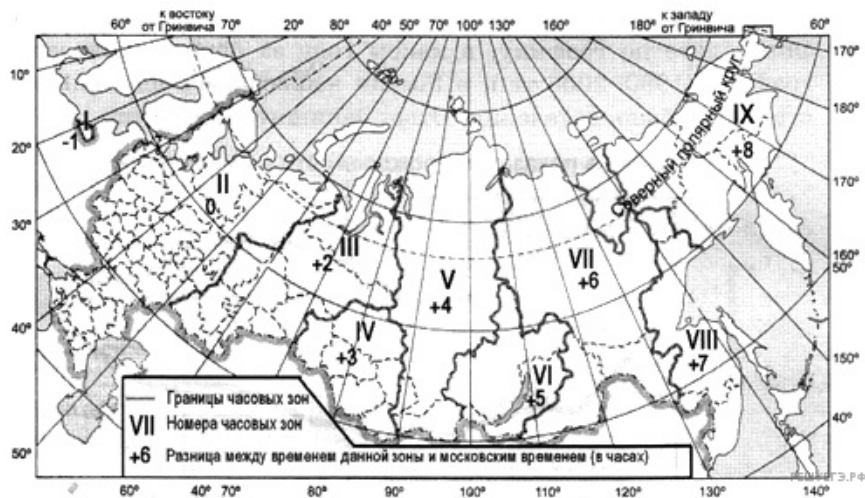
5. С помощью карты «Часовые зоны России» определите, сколько времени будет в Красноярске (V часовая зона), когда в Якутске (VII часовая зона) 14 часов.



Карта составлена по состоянию на 01.01.2017

Ответ запишите цифрами.

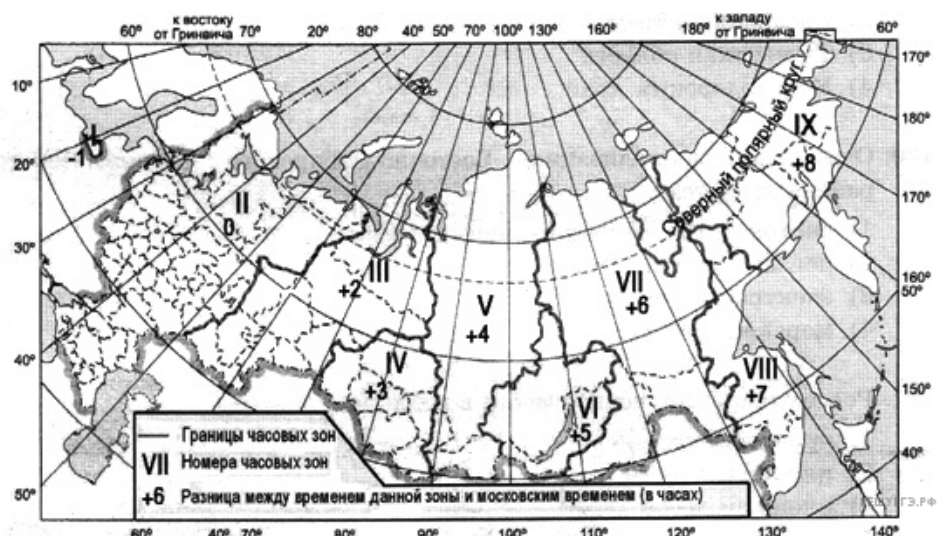
6. С помощью карты «Часовые зоны России» определите, сколько времени будет в Хабаровске (VIII часовая зона), когда в Тюмени (III часовая зона) 10 часов.



Карта составлена по состоянию на 01.01.2017

Ответ запишите цифрами.

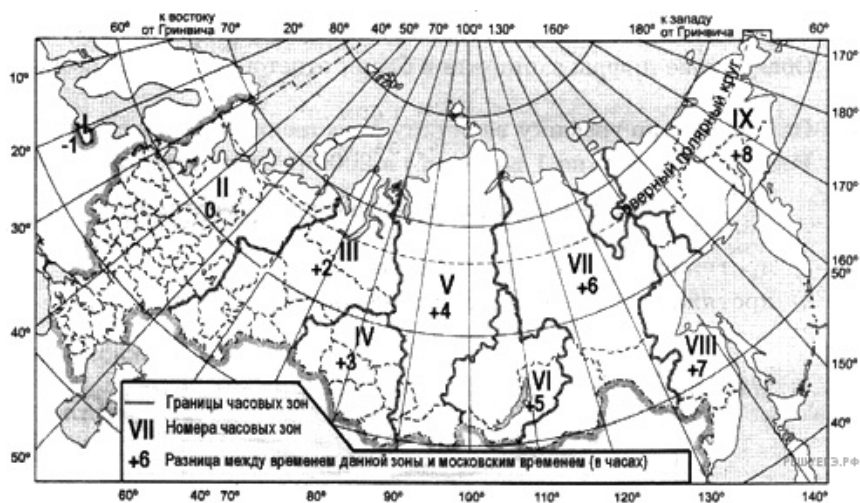
7. С помощью карты «Часовые зоны России» определите, сколько времени будет в Калининграде (I часовая зона) когда в Омске (IV часовая зона) полдень.



Карта составлена по состоянию на 01.01.2014

Ответ запишите цифрами.

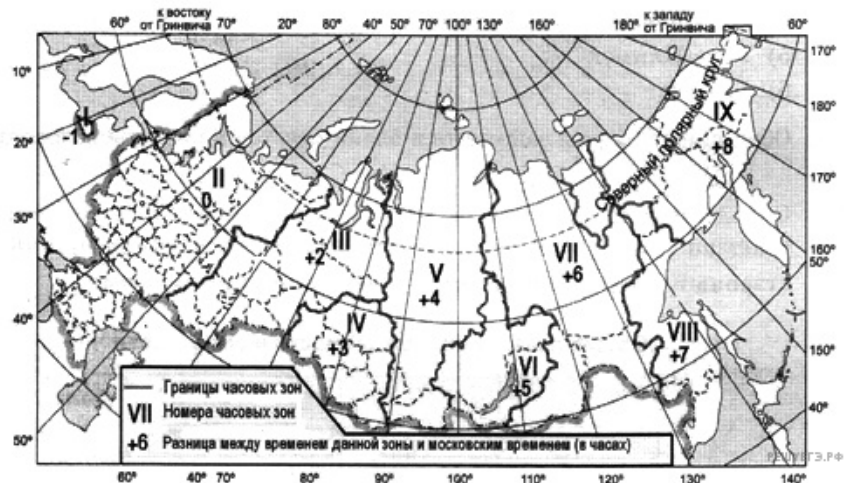
8. Самолёт вылетел из Воронежа (II часовая зона) в Оренбург (III часовая зона) в 9 часов по московскому времени. Расчётное время полёта составляет 2 часа. С помощью карты «Часовые зоны России» определите, сколько времени будет в Оренбурге, когда самолёт приземлится.



Карта составлена по состоянию на 01.01.2014

Ответ запишите цифрами.

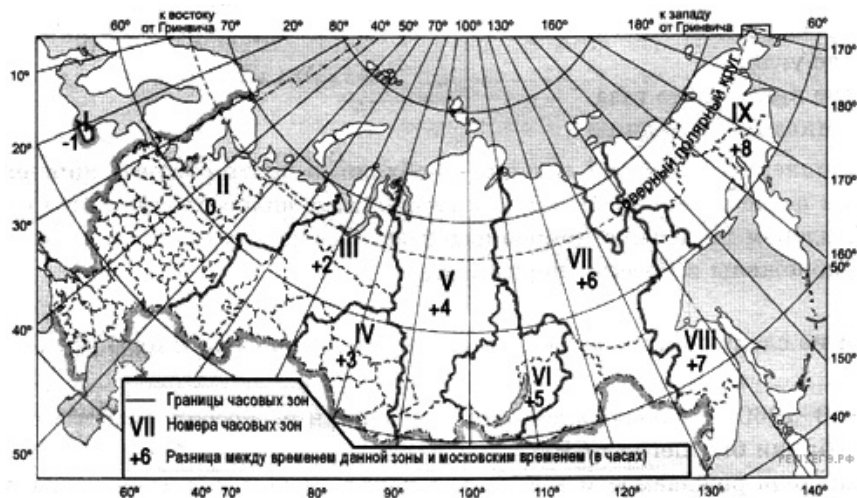
9. После отмены сезонного перевода часов в России московское время отличается от времени, действующего на территории Франции: летом на 2 часа, а зимой — на 3. С помощью карты «Часовые зоны России» определите, сколько времени будет в Париже 1 июня, когда в Омске (IV часовая зона) 14 часов.



Карта составлена по состоянию на 01.01.2017

Ответ запишите цифрами.

10. С помощью карты «Часовые зоны России» определите, сколько времени будет в Магадане (IX часовая зона), когда в Воронеже (II часовая зона) 10 часов.



Карта составлена по состоянию на 01.01.2014

Ответ запишите цифрами.



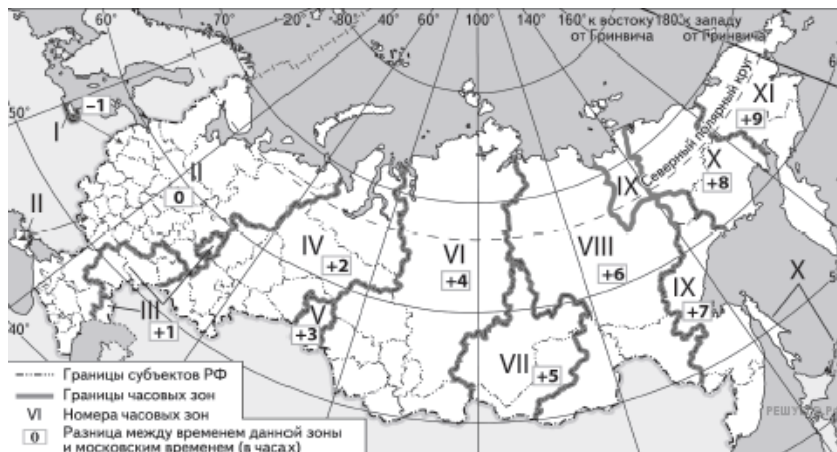
11. В соответствии с Законом «Об исчислении времени» и постановлением Правительства РФ с сентября 2011 г. на территории страны установлено 9 часовых зон (см. карту).



Карта составлена по состоянию на 01.09.2011

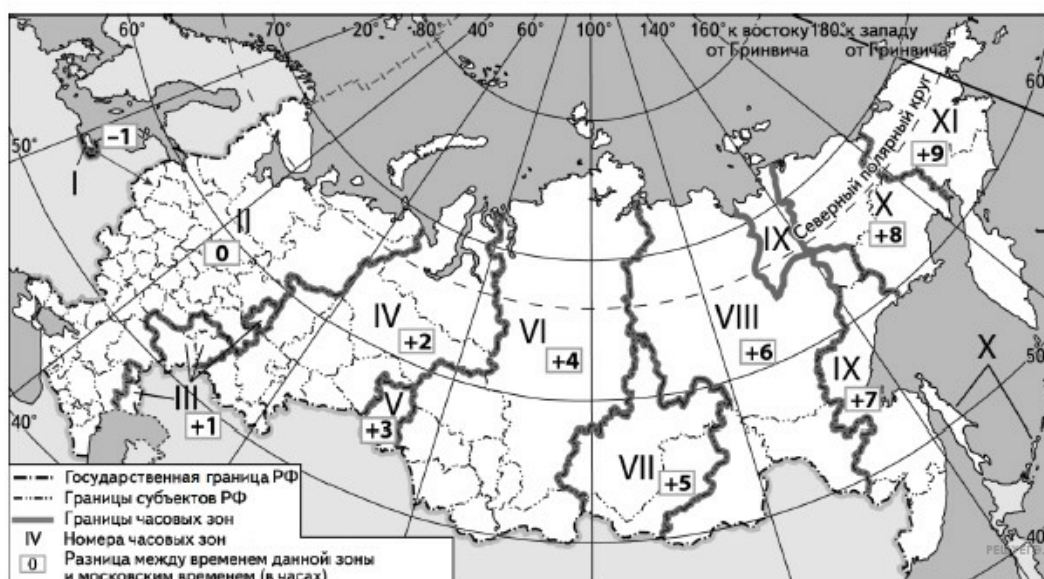
Самолёт вылетел из Хабаровска (VIII часовая зона) в Красноярск (V часовая зона) в 13 часов по местному времени Хабаровска. Расчётное время полёта составляет 5 часов. Сколько времени будет в Красноярске, когда самолёт приземлится? Ответ запишите цифрами.

12. Прямая трансляция матча за Суперкубок России между футбольными командами «Зенит» и «Локомотив» началась 6 июля 2019 г. в 19 ч по московскому времени. Используя карту, определите, во сколько часов по местному времени эта трансляция началась в Ханты-Мансийске. Ответ запишите в виде числа.



Карта составлена по состоянию на 06.07.2019

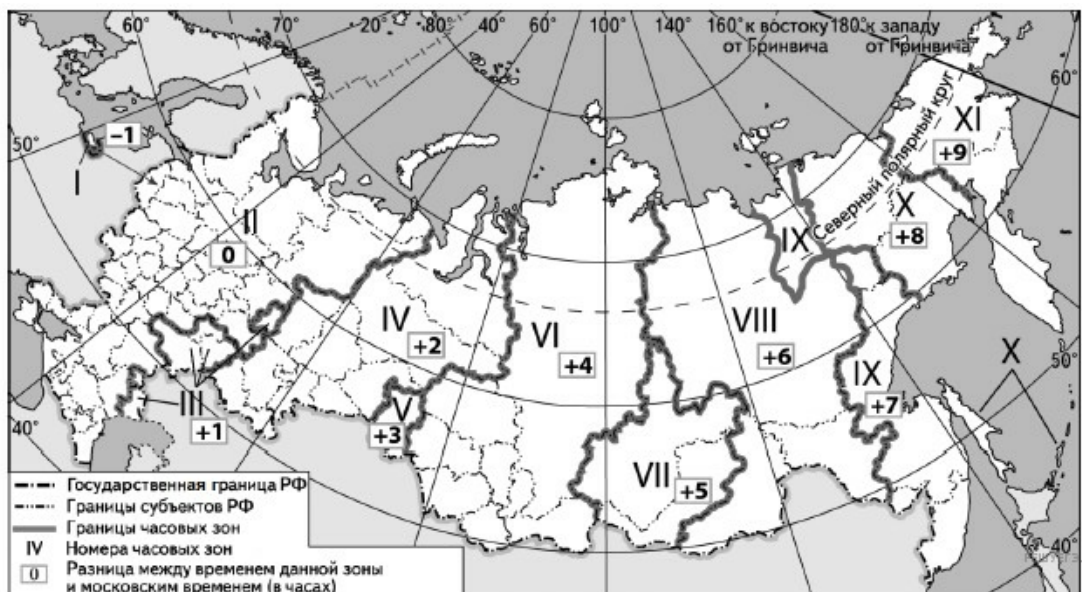
13. В единый день голосования 10 сентября 2023 г. избирательные участки во всех регионах России открылись в восемь утра по местному времени Используя карту, определите, во сколько по московскому времени открылись избирательные участки в Омске.



Карта составлена по состоянию на 10.09.2023

Ответ запишите в виде числа.

14. В единый день голосования 10 сентября 2023 г. избирательные участки во всех регионах России открылись в восемь утра по местному времени Используя карту, определите, во сколько часов по московскому времени открылись избирательные участки в Улан-Удэ.

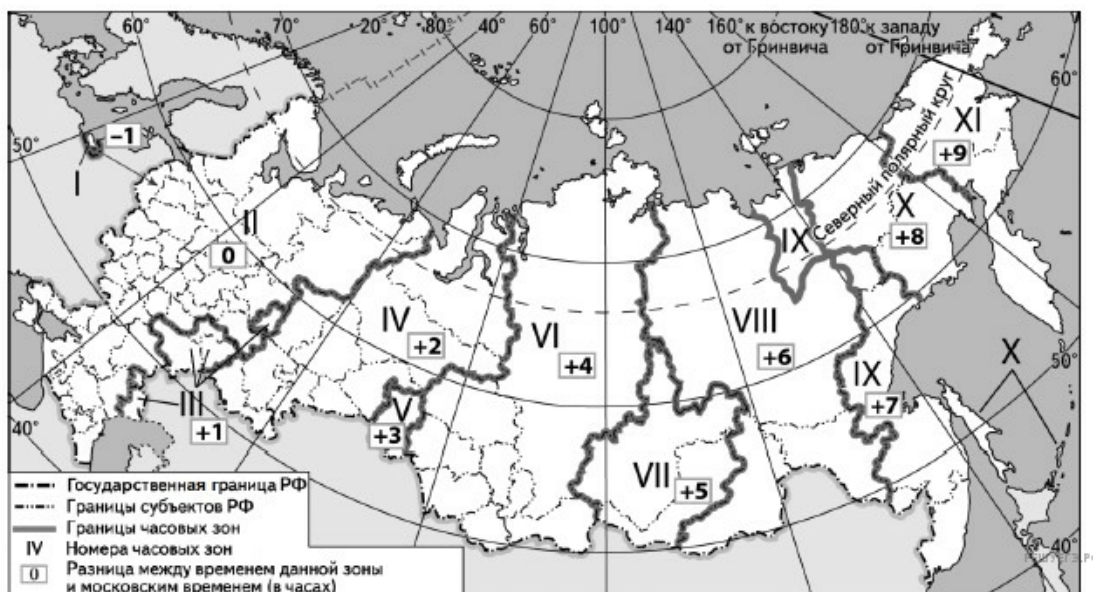


Карта составлена по состоянию на 10.09.2023

Ответ запишите в виде числа.

15. В единый день голосования 10 сентября 2023 г. избирательные участки во всех регионах России открылись в восемь утра по местному времени

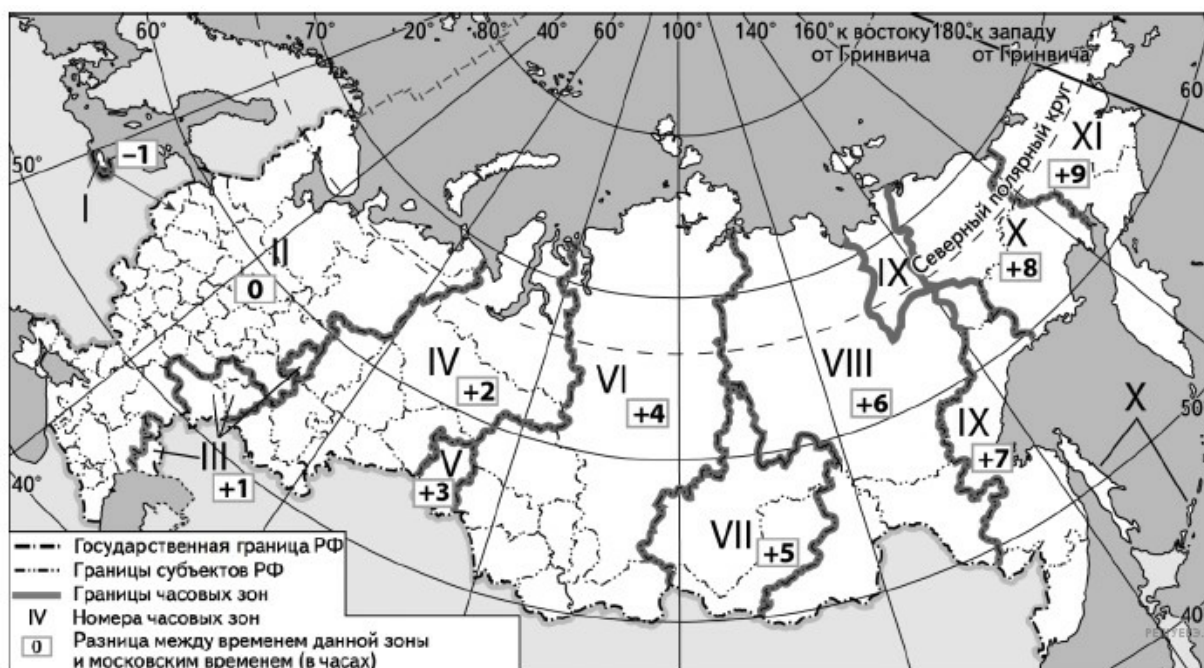
Используя карту, определите, во сколько по московскому времени открылись избирательные участки в Кемерово.



Карта составлена по состоянию на 10.09.2023

Ответ запишите в виде числа.

16. Прямая трансляция футбольного матча Спартак М — ЦСКА 11-го тура Чемпионата России по футболу началась 8 октября 2023 г. в 19 ч по московскому времени. Используя карту, определите, во сколько часов по местному времени эта трансляция началась в Ханты-Мансийске.

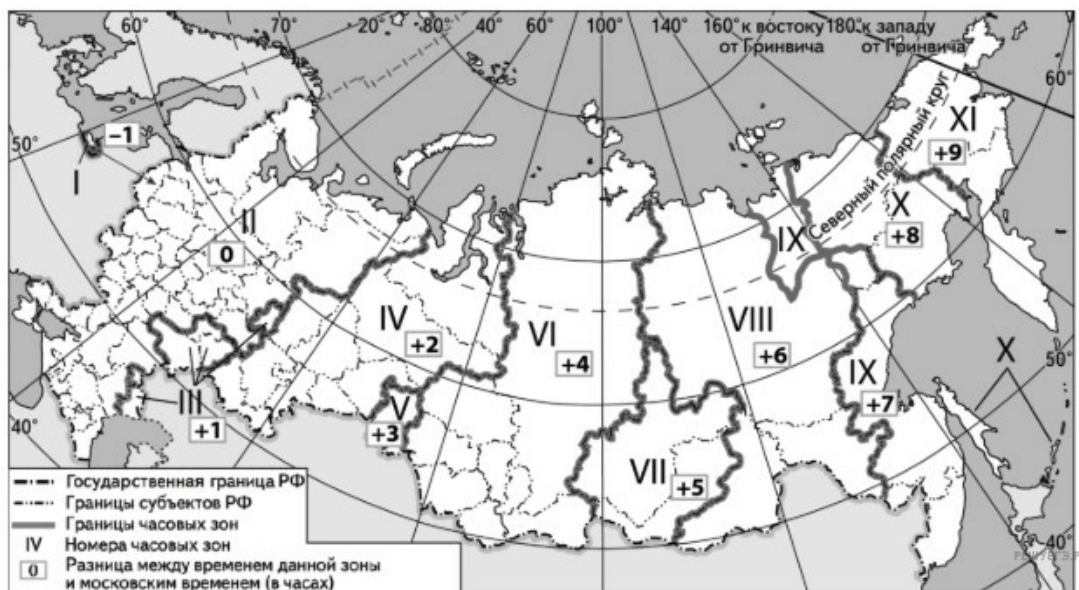


Карта составлена по состоянию на 08.10.2023

Ответ запишите в виде числа.



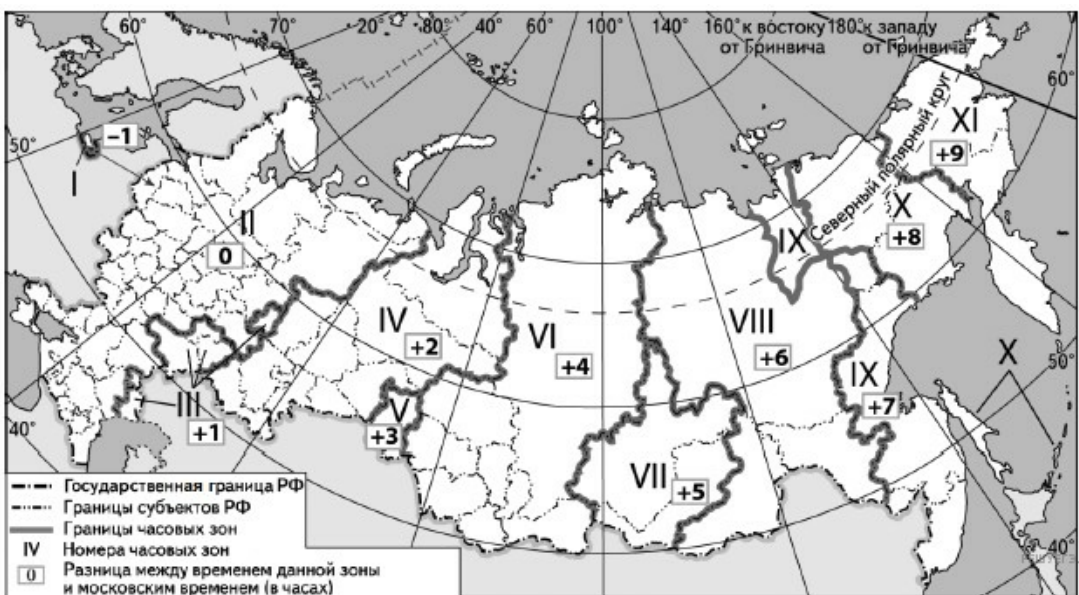
17. Прямая телевизионная трансляция матча 1/4 финала Кубка России по футболу «Зенит» — «Динамо» началась 13 марта 2024 г. в 20 часов по московскому времени. Используя карту, определите, во сколько часов по местному времени эта трансляция началась в Астрахани.



Карта составлена по состоянию на 13.03.2024

Ответ запишите в виде числа.

18. Прямая трансляция открытия Олимпийских игр в Туле начинается в 9 ч по местному времени. Сколько времени будет в Амурской области, когда трансляция начнётся.



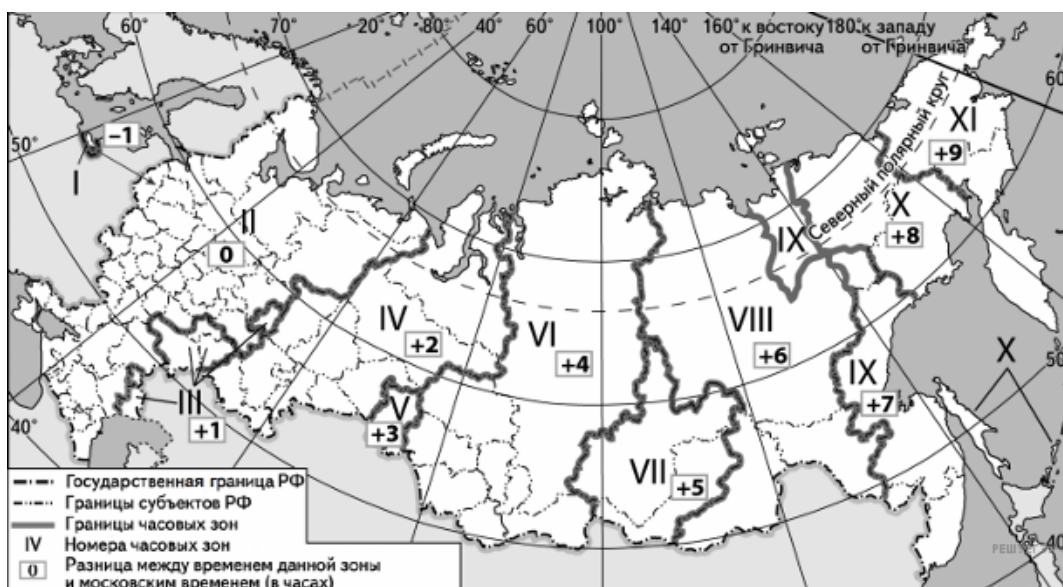
Карта составлена по состоянию на 01.01.2024

19. Прямая трансляция футбольного матча Российской Премьер Лиги между командами «Крылья Советов» и «Акрон» началась 9 марта 2025 г. в 18 ч по местному времени Самары. Используя карту, определите, во сколько часов по местному времени эта трансляция началась в Москве.



Ответ запишите в виде числа.

20. Прямая трансляция футбольного матча Чемпионата России между командами «Спартак» и «Зенит» началась 16 марта 2025 г. в 20 ч по московскому времени. Используя карту, определите, во сколько часов по местному времени эта трансляция началась в Самаре.



Ответ запишите в виде числа.