

1. Какие из перечисленных гор Евразии имеют наибольшую абсолютную высоту?

- 1) Скандинавские
- 2) Пиренеи
- 3) Уральские
- 4) Кавказ

2. Какие из перечисленных гор Евразии имеют наибольшую абсолютную высоту?

- 1) Апеннины
- 2) Пиренеи
- 3) Уральские
- 4) Кавказ

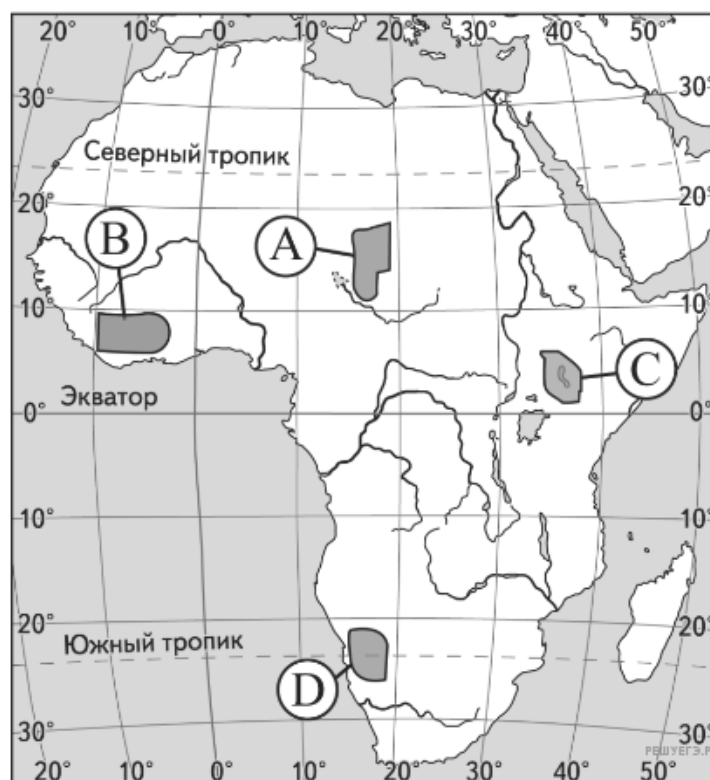
3. В какой из перечисленных стран Азии есть действующие вулканы?

- 1) Индонезия
- 2) Индия
- 3) Саудовская Аравия
- 4) Иран

4. Какие из перечисленных гор Евразии имеют наибольшую абсолютную высоту?

- 1) Памир
- 2) Скандинавские
- 3) Пиренеи
- 4) Уральские

5. Какой буквой на карте Африки обозначена территория, находящаяся в пределах рифтовой зоны?



- 1) A
- 2) B
- 3) C
- 4) D

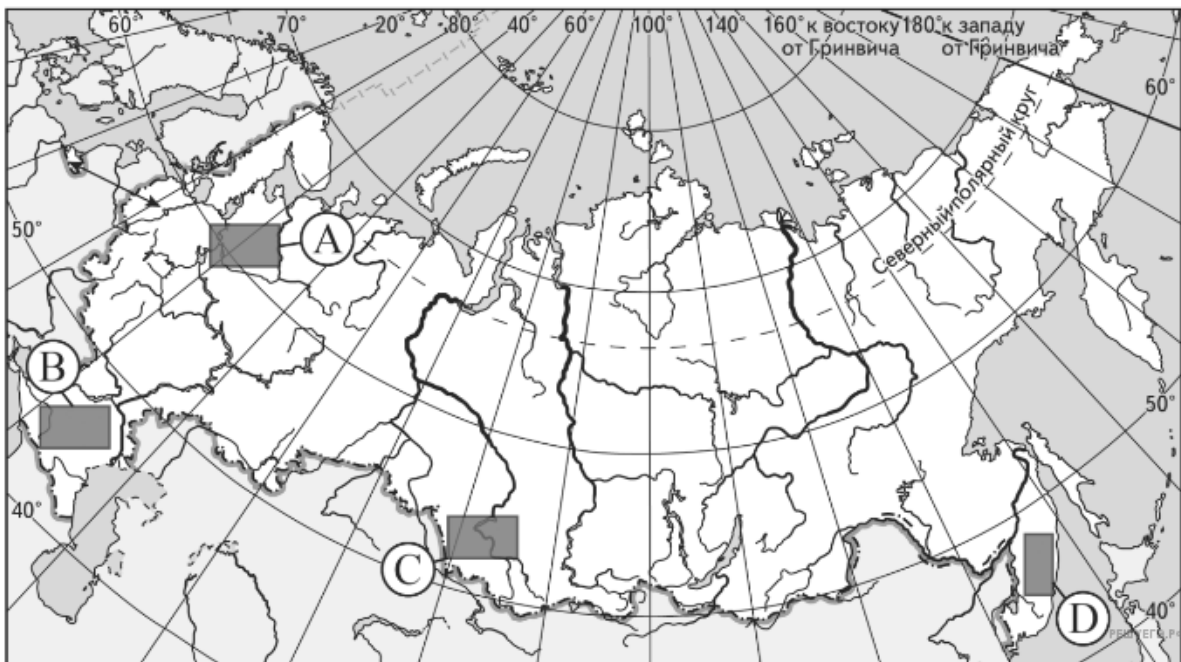
6. В какой из перечисленных стран Азии есть действующие вулканы?

- 1) Саудовская Аравия
- 2) Индонезия
- 3) Иран
- 4) Индия

7. В пределах одного материка расположены

- 1) Анды и Драконовы горы
- 2) Гималаи и Кордильеры
- 3) Альпы и Гималаи
- 4) Альпы и Анды

8. На рельеф какой из обозначенных на карте России территорий древние покровные оледенения оказали наибольшее влияние?



- 1) A
- 2) B
- 3) C
- 4) D

9. Какая из перечисленных территорий Евразии имеет наибольшую абсолютную высоту?

- 1) Аравийское плоскогорье
- 2) нагорье Тибет
- 3) Иранское нагорье
- 4) Среднесибирское плоскогорье

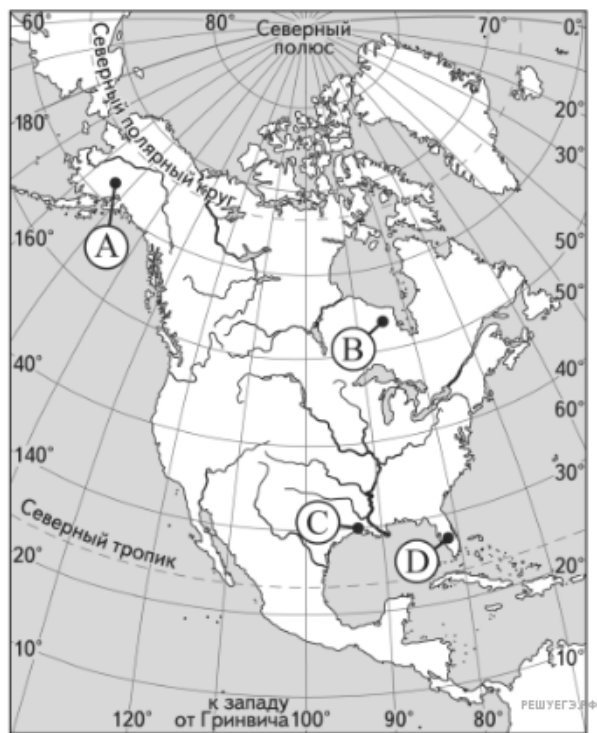
10. В пределах одного материка расположены

- 1) Альпы и Анды
- 2) Альпы и Гималаи
- 3) Гималаи и Кордильеры
- 4) Анды и Драконовы горы

11. Какие из перечисленных гор относятся к поясу гор Южной Сибири?

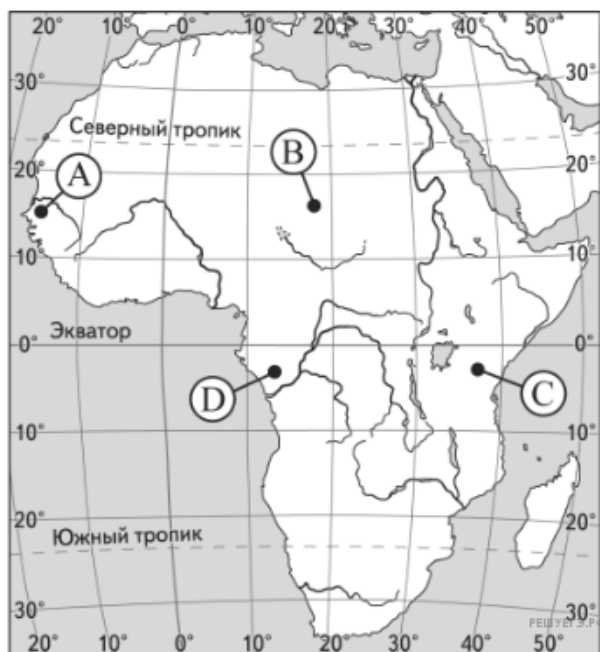
- 1) Верхоянский хребет
- 2) Алтай
- 3) Хибины
- 4) Сихотэ-Алинь

12. Какой буквой на карте Северной Америки обозначена гора Мак-Кинли?



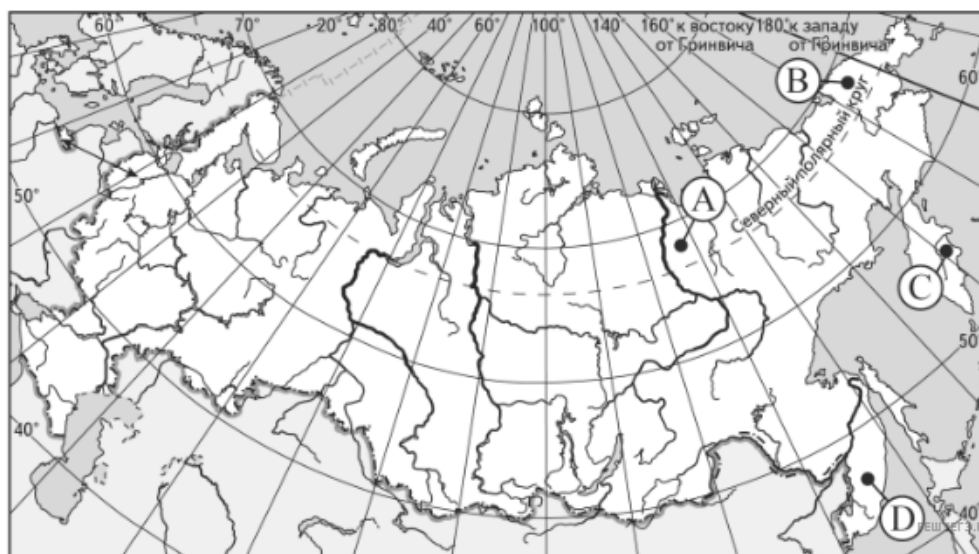
- 1) A
- 2) B
- 3) C
- 4) D

13. Какой буквой на карте Африки обозначен вулкан Килиманджаро?



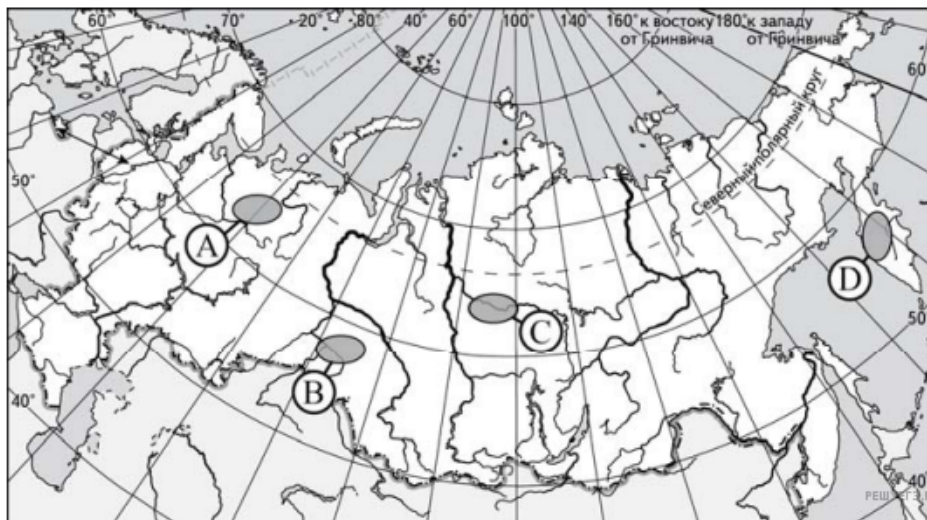
- 1) A
- 2) B
- 3) C
- 4) D

14. Какой буквой на карте России обозначен вулкан Ключевская Сопка?



- 1) A
- 2) B
- 3) C
- 4) D

15. Для какой из обозначенных буквами на карте России территорий характерны сильные землетрясения?



- 1) А
- 2) В
- 3) С
- 4) D

16. В каком из перечисленных городов России среднегодовое количество атмосферных осадков наименьшее?

- 1) Астрахань
- 2) Владивосток
- 3) Москва
- 4) Калининград

17. На каком из полуостровов России есть действующие вулканы?

- 1) Чукотский п-ов
- 2) п-ов Камчатка
- 3) п-ов Таймыр
- 4) Кольский п-ов

18. Какие из перечисленных гор являются наиболее высокими?

- 1) Уральские
- 2) Капские
- 3) Аппалачи
- 4) Анды

19. На территории какого из перечисленных регионов России наиболее велика вероятность сильных землетрясений?

- 1) Республика Коми
- 2) Забайкальский край
- 3) Мурманская область
- 4) Омская область

20. Для какого из перечисленных регионов России характерен муссонный тип климата?

- 1) Краснодарский край
- 2) Приморский край
- 3) Мурманская область
- 4) Калининградская область

21. В каком из перечисленных городов России средняя температура воздуха января самая низкая?

- 1) Архангельск
- 2) Новосибирск
- 3) Мурманск
- 4) Якутск

22. Какая из перечисленных горных систем Евразии имеет наибольшую абсолютную высоту?

- 1) Кавказ
- 2) Памир
- 3) Карпаты
- 4) Альпы

23. Для какой из перечисленных территорий России характерен муссонный климат?

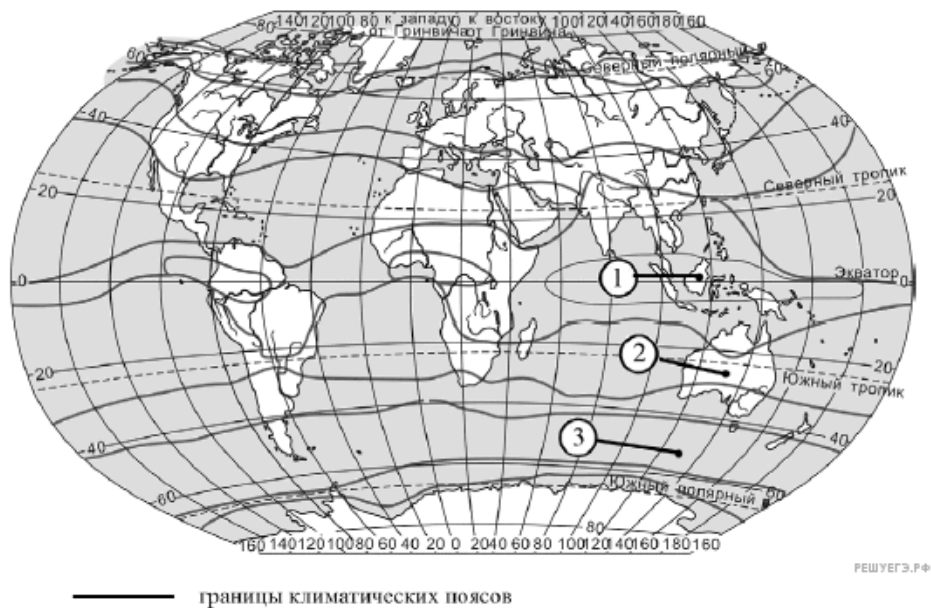
- 1) Чукотский полуостров
- 2) Забайкалье
- 3) Кольский полуостров
- 4) Приморье

24. Расположите перечисленные ниже города в порядке увеличения среднегодового количества атмосферных осадков, выпадающих в них, начиная с города с самым маленьким количеством осадков.

- 1) Тула
- 2) Астрахань
- 3) Сочи

Запишите в ответ получившуюся последовательность цифр.

25. Установите соответствие между точкой, обозначенной на карте мира, и климатическим поясом, в котором она расположена: к каждому элементу первого столбца подберите соответствующий элемент из второго столбца.



ТОЧКА	КЛИМАТИЧЕСКИЙ ПОЯС
А) 1	1) умеренный
Б) 2	2) тропический
В) 3	3) субэкваториальный
	4) экваториальный

Запишите в ответ цифры, расположив их в порядке, соответствующем буквам:

А	Б	В

26. Расположите пункты, обозначенные на карте цифрами, в порядке увеличения среднегодового количества атмосферных осадков, выпадающих в них, начиная с пункта с наименьшим количеством атмосферных осадков.

