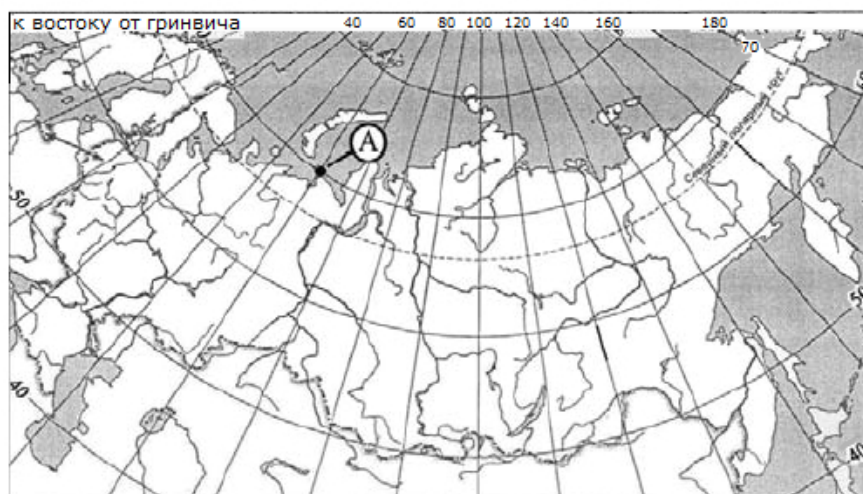
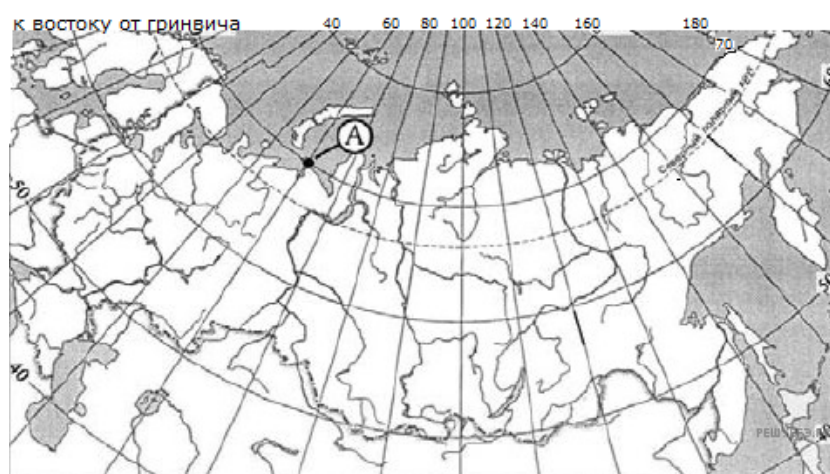


1. Какие географические координаты имеет точка, обозначенная на карте России буквой А?



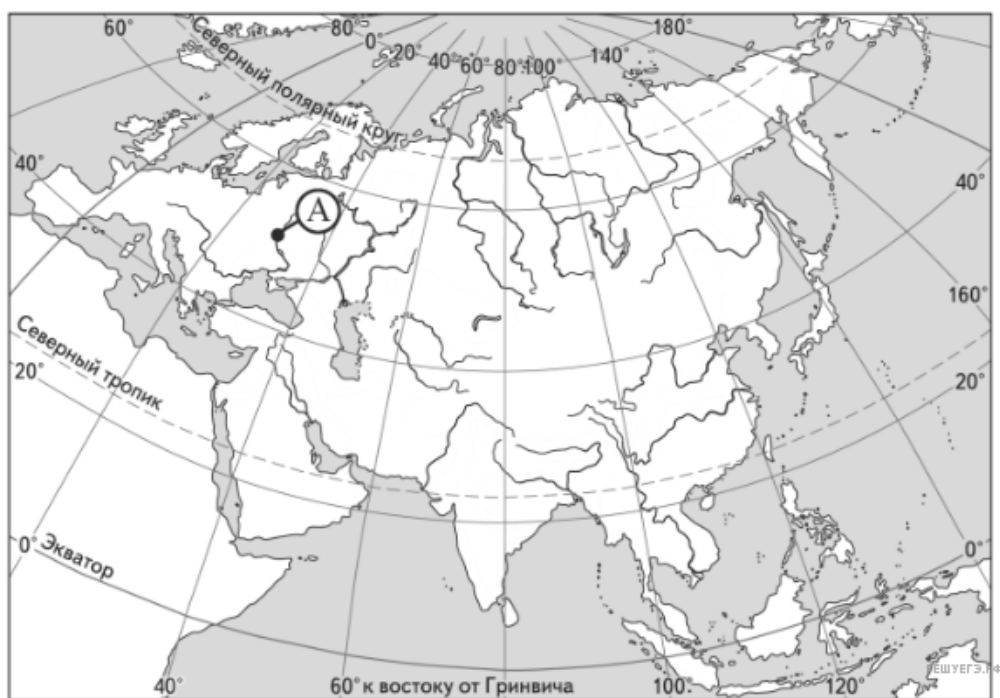
1.  $70^{\circ}$  с. ш.  $60^{\circ}$  в. д.
2.  $60^{\circ}$  с. ш.  $70^{\circ}$  в. д.
3.  $70^{\circ}$  с. ш.  $60^{\circ}$  з. д.
4.  $60^{\circ}$  с. ш.  $70^{\circ}$  з. д.

2. Какие географические координаты имеет точка, обозначенная на карте России буквой А?



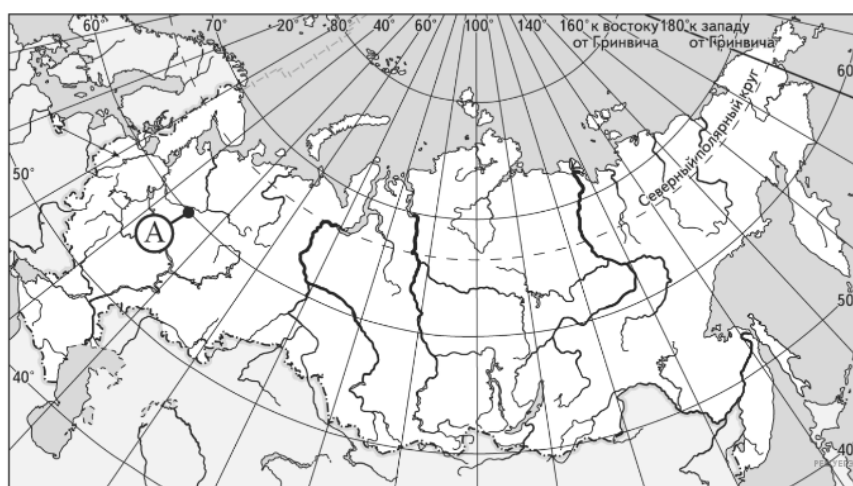
1.  $70^{\circ}$  с. ш.  $60^{\circ}$  в. д.
2.  $60^{\circ}$  с. ш.  $70^{\circ}$  в. д.
3.  $70^{\circ}$  с. ш.  $60^{\circ}$  з. д.
4.  $60^{\circ}$  с. ш.  $70^{\circ}$  з. д.

3. Какие географические координаты имеет точка, обозначенная на карте Евразии буквой А?



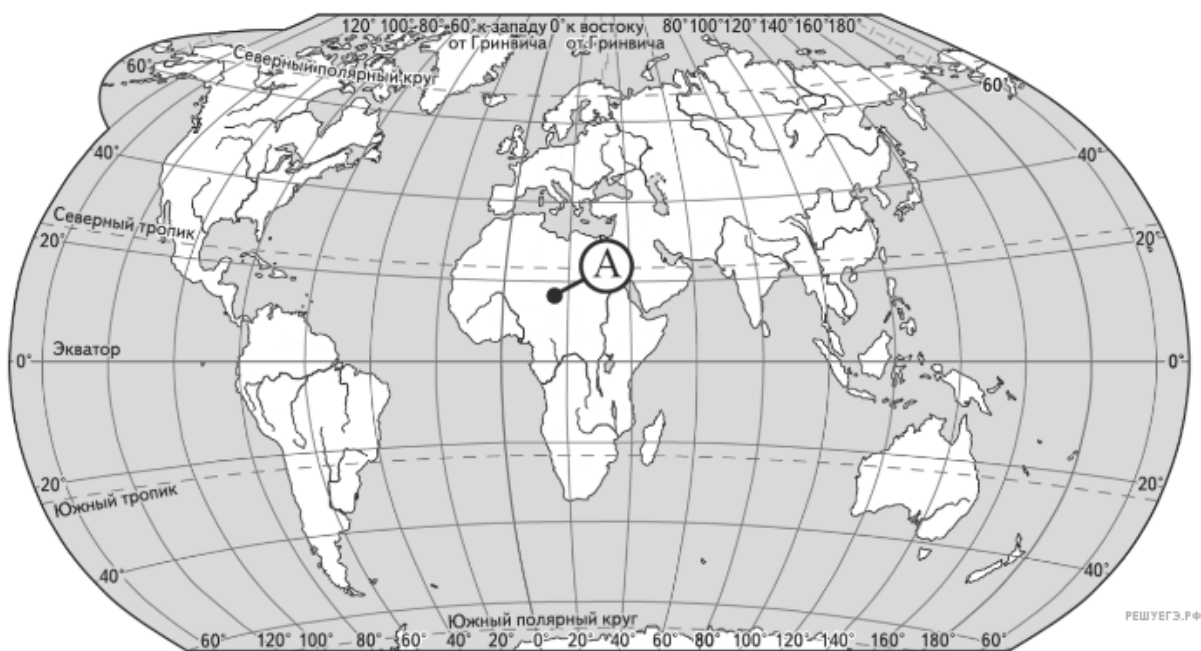
1.  $50^{\circ}$  с. ш.  $30^{\circ}$  в. д.
2.  $50^{\circ}$  с. ш.  $30^{\circ}$  з. д.
3.  $30^{\circ}$  с. ш.  $50^{\circ}$  в. д.
4.  $30^{\circ}$  с. ш.  $50^{\circ}$  з. д.

4. Какие географические координаты имеет точка, обозначенная на карте России буквой А?



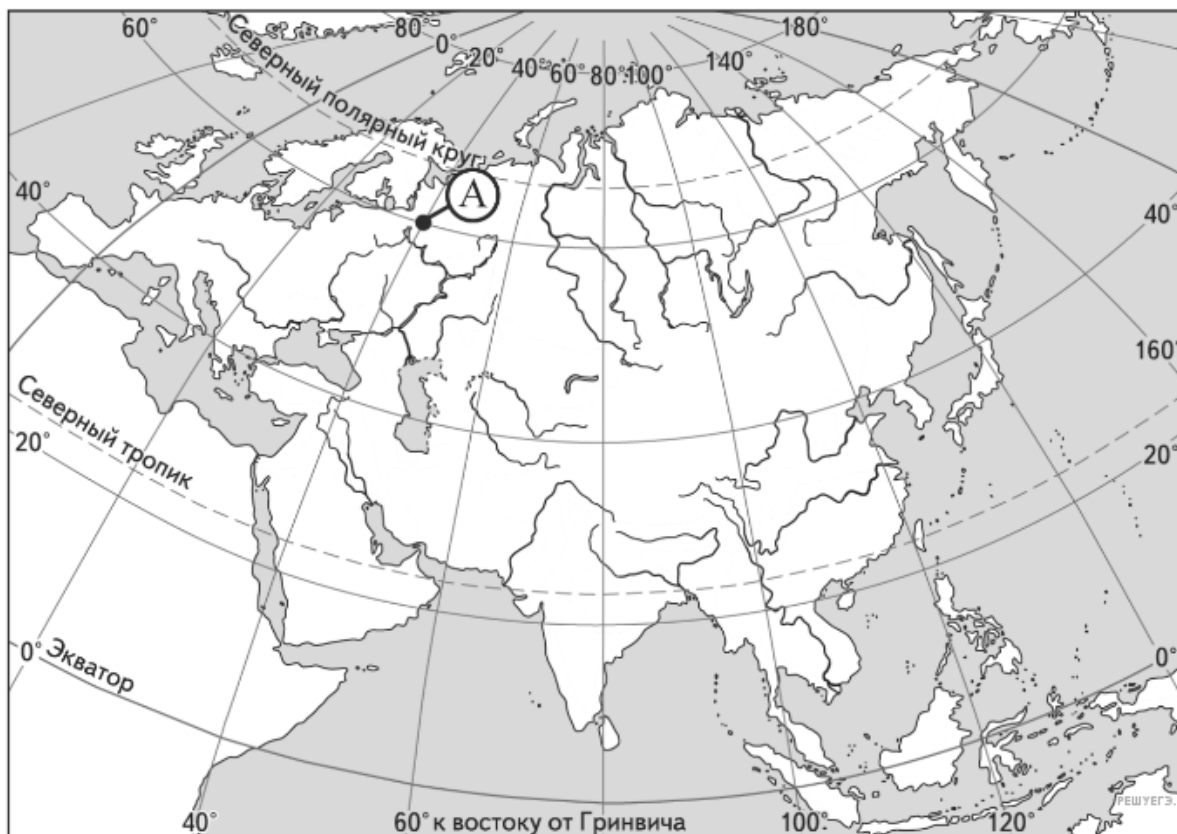
1.  $45^{\circ}$  с. ш.  $60^{\circ}$  в. д.
2.  $45^{\circ}$  с. ш.  $60^{\circ}$  з. д.
3.  $60^{\circ}$  с. ш.  $45^{\circ}$  в. д.
4.  $60^{\circ}$  с. ш.  $45^{\circ}$  з. д.

5. Какие географические координаты имеет точка, обозначенная на карте мира буквой А?



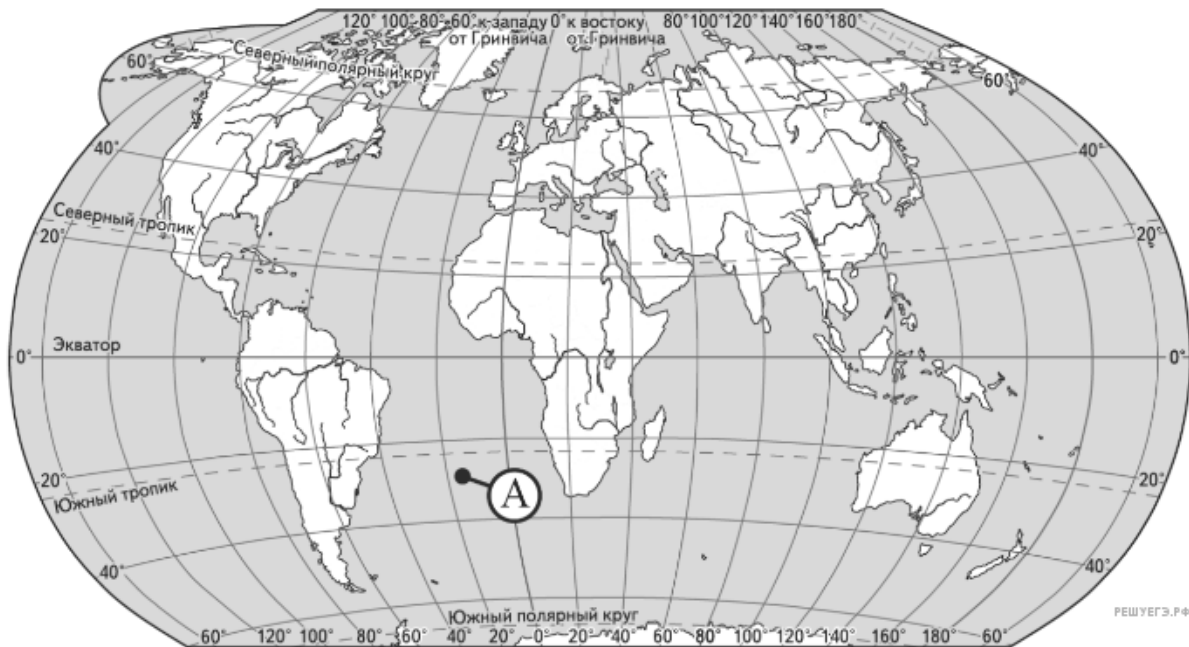
1.  $22^{\circ}$  с. ш.  $22^{\circ}$  з. д.
2.  $18^{\circ}$  с. ш.  $18^{\circ}$  в. д.
3.  $18^{\circ}$  с. ш.  $18^{\circ}$  з. д.
4.  $22^{\circ}$  с. ш.  $18^{\circ}$  в. д.

6. Какие географические координаты имеет точка, обозначенная на карте Евразии буквой А?



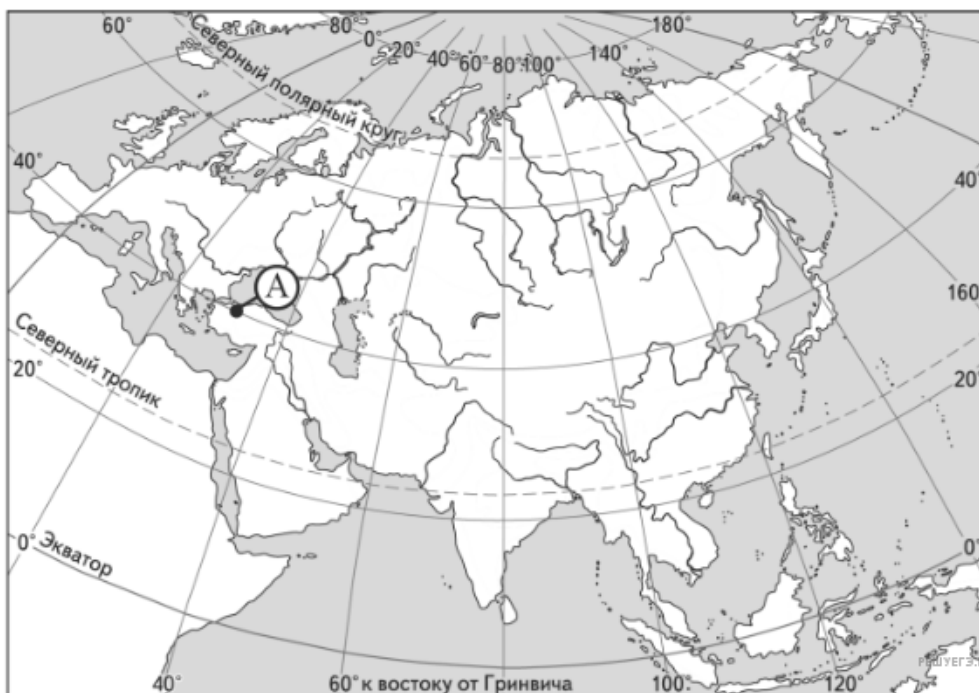
1.  $40^\circ$  с. ш.  $60^\circ$  в. д.
2.  $60^\circ$  с. ш.  $40^\circ$  в. д.
3.  $60^\circ$  с. ш.  $40^\circ$  з. д.
4.  $40^\circ$  с. ш.  $60^\circ$  з. д.

7. Какие географические координаты имеет точка, обозначенная на карте мира буквой А?



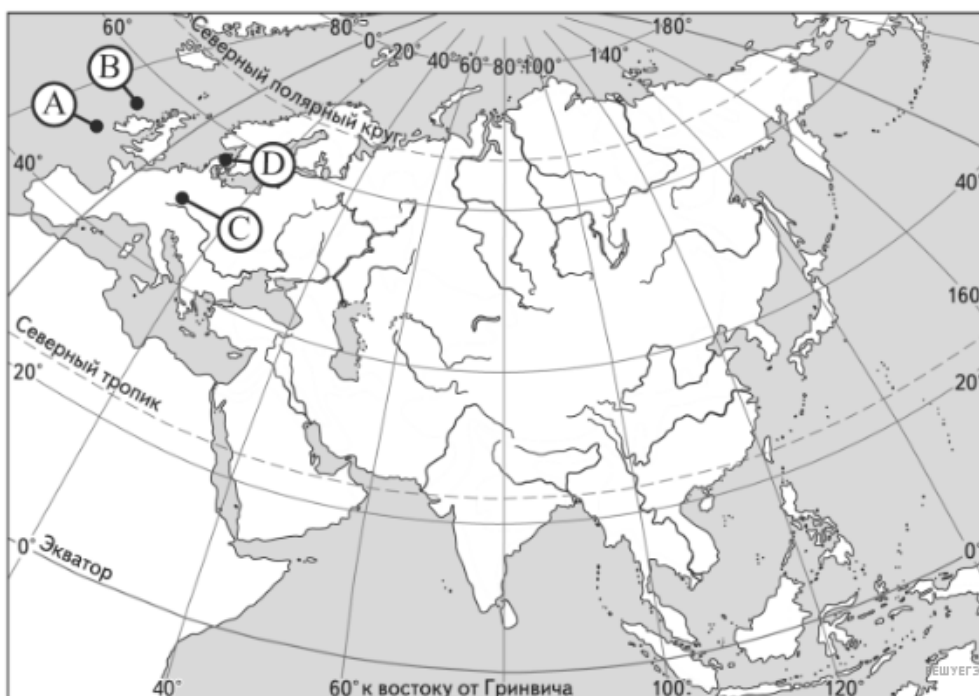
1.  $22^\circ$  ю. ш.  $17^\circ$  в. д.
2.  $30^\circ$  ю. ш.  $17^\circ$  в. д.
3.  $30^\circ$  ю. ш.  $17^\circ$  з. д.
4.  $22^\circ$  ю. ш.  $17^\circ$  з. д.

8. Какие географические координаты имеет точка, обозначенная на карте Евразии буквой А?



1.  $40^\circ$  с. ш.  $30^\circ$  з. д.
2.  $30^\circ$  с. ш.  $40^\circ$  з. д.
3.  $30^\circ$  с. ш.  $40^\circ$  в. д.
4.  $40^\circ$  с. ш.  $30^\circ$  в. д.

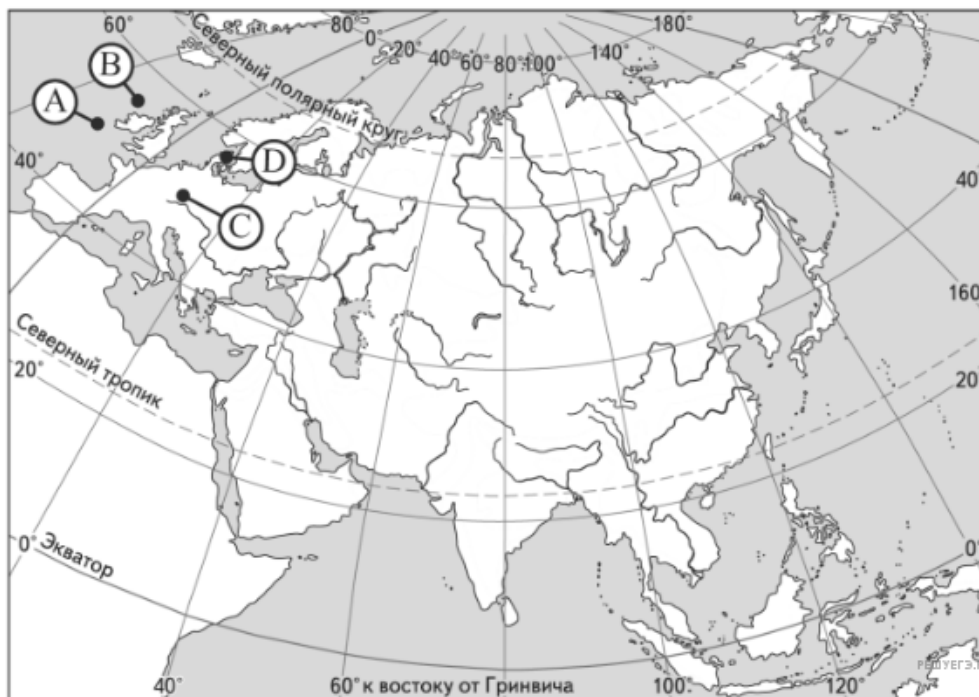
9. Какая из точек, обозначенных буквами на карте Евразии, имеет географические координаты  $50^\circ$  с. ш.  $10^\circ$  в. д.?



1. А;

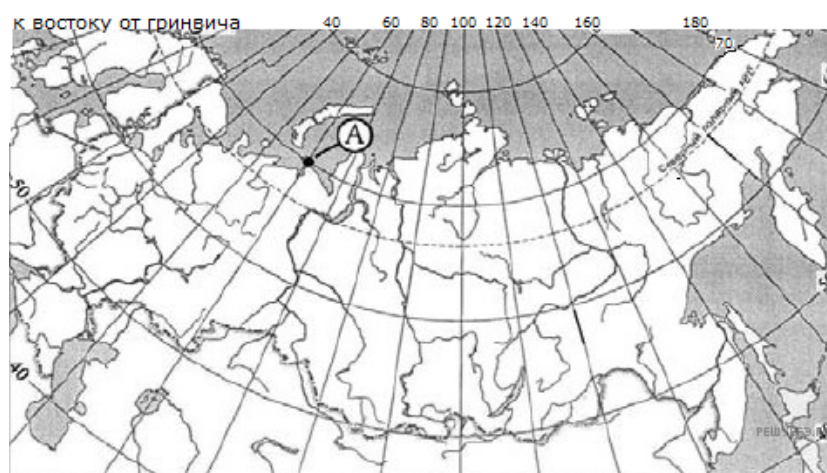
2. В;
3. С;
4. D.

10. Какая из точек, обозначенных буквами на карте Евразии, имеет географические координаты  $50^{\circ}$  с. ш.  $10^{\circ}$  в. д.?



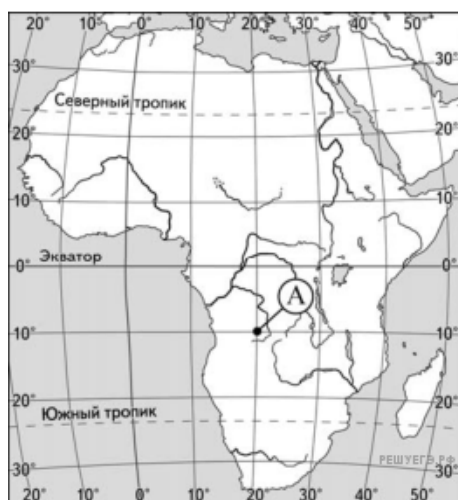
1. A;
2. В;
3. С;
4. D.

11. Какие географические координаты имеет точка, обозначенная на карте России буквой А?



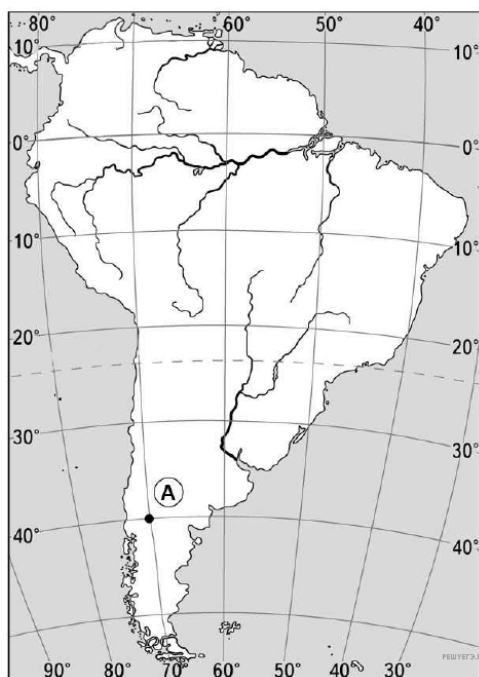
1.  $70^{\circ}$  с. ш.  $60^{\circ}$  в. д.
2.  $60^{\circ}$  с. ш.  $70^{\circ}$  в. д.
3.  $70^{\circ}$  с. ш.  $60^{\circ}$  з. д.
4.  $60^{\circ}$  с. ш.  $70^{\circ}$  з. д.

12. Какие географические координаты имеет точка, обозначенная на карте Африки буквой А?



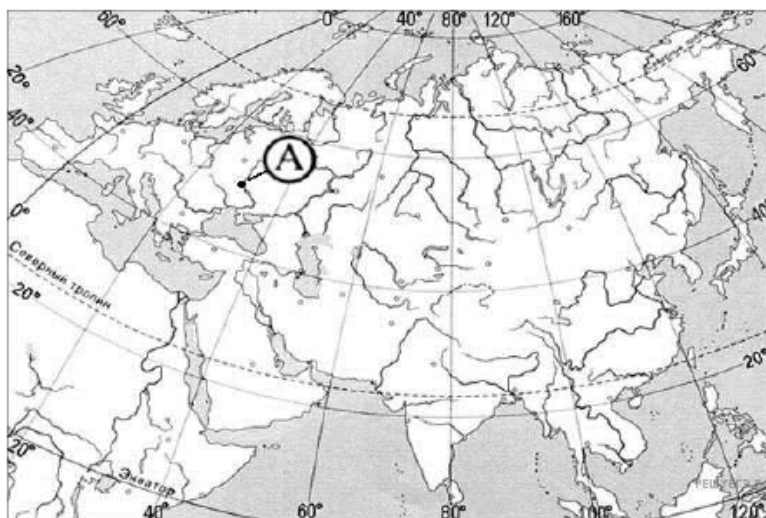
1. 20° ю. ш. 10° з. д.
2. 10° ю. ш. 20° з. д.
3. 20° ю. ш. 10° в. д.
4. 10° ю. ш. 20° в. д.

13. Какие географические координаты имеет точка, обозначенная на карте Южной Америки буквой А?



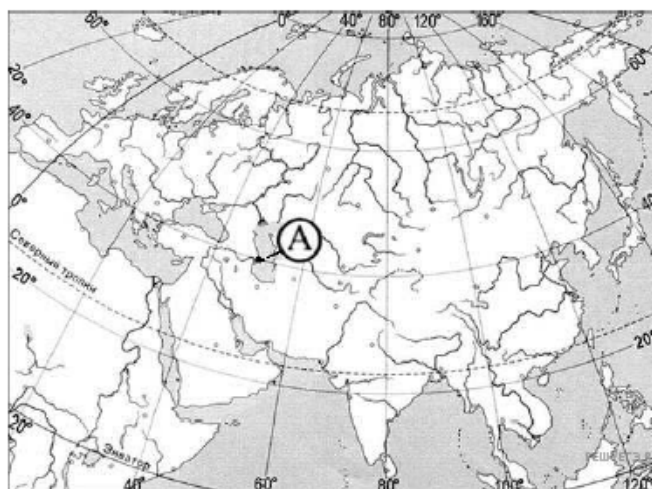
1. 30° ю. ш., 70° з. д.
2. 40° ю. ш., 70° з. д.
3. 30° ю. ш., 70° в. д.
4. 40° ю. ш., 70° в. д.

14. Какие географические координаты имеет точка, обозначенная на карте буквой А?



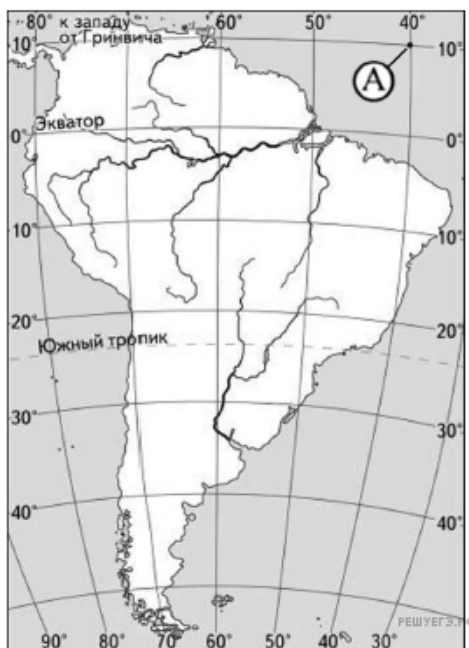
1.  $50^\circ$  с. ш.  $30^\circ$  з. д.
2.  $30^\circ$  с. ш.  $50^\circ$  в. д.
3.  $30^\circ$  с. ш.  $50^\circ$  з. д.
4.  $50^\circ$  с. ш.  $30^\circ$  в. д.

15. Какие географические координаты имеет точка, обозначенная на карте буквой А?



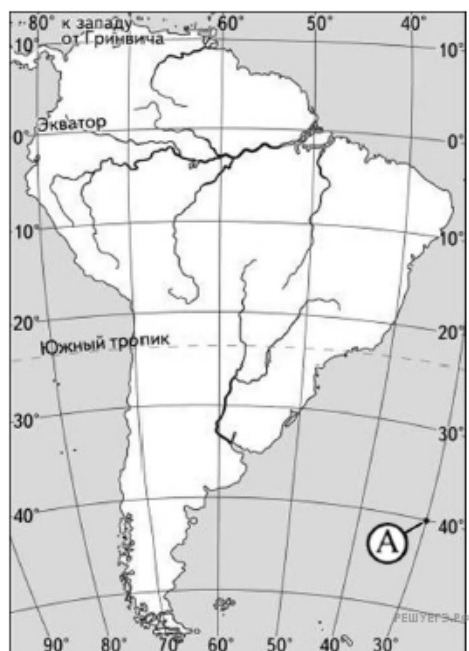
1.  $50^\circ$  с. ш.  $40^\circ$  з. д.
2.  $40^\circ$  с. ш.  $50^\circ$  в. д.
3.  $40^\circ$  с. ш.  $50^\circ$  з. д.
4.  $50^\circ$  с. ш.  $40^\circ$  в. д.

16. Какие географические координаты имеет точка, обозначенная на карте буквой А?



1.  $40^{\circ}$  с. ш.  $10^{\circ}$  в. д.
2.  $10^{\circ}$  с. ш.  $40^{\circ}$  в. д.
3.  $10^{\circ}$  с. ш.  $40^{\circ}$  з. д.
4.  $40^{\circ}$  с. ш.  $10^{\circ}$  з. д.

17. Какие географические координаты имеет точка, обозначенная на карте буквой А?



1.  $40^{\circ}$  ю. ш.  $30^{\circ}$  з. д.
2.  $40^{\circ}$  ю. ш.  $30^{\circ}$  в. д.
3.  $30^{\circ}$  ю. ш.  $40^{\circ}$  в. д.
4.  $30^{\circ}$  ю. ш.  $40^{\circ}$  з. д.

18. Какие географические координаты имеет точка, обозначенная на карте Европы буквой А?



1. 50° с. ш. 35° з. д.
2. 35° с. ш. 50° з. д.
3. 50° с. ш. 35° в. д.
4. 35° с. ш. 50° в. д.