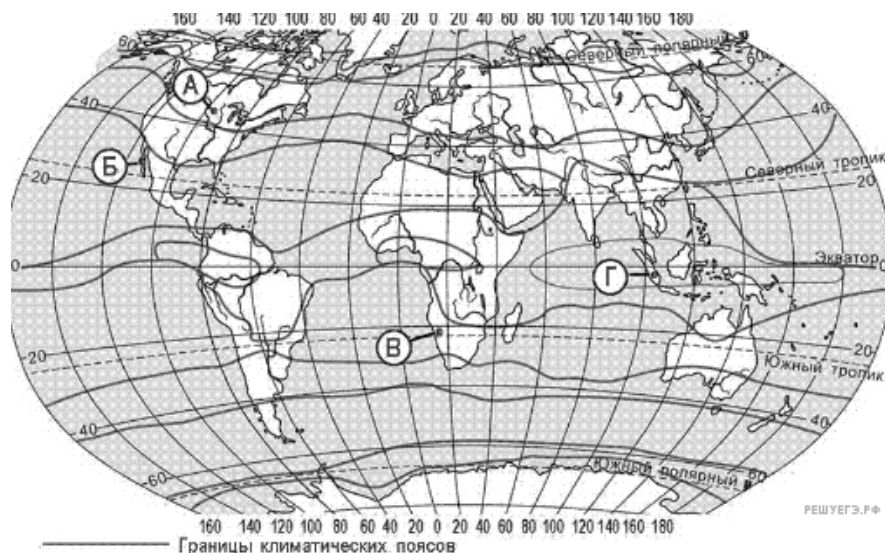


1. В каком из перечисленных городов России средние температуры воздуха в январе наиболее высокие?

- 1) Екатеринбург
- 2) Красноярск
- 3) Мурманск
- 4) Чита

2. В каком из пунктов, обозначенных буквами на карте мира среднегодовое количество атмосферных осадков наибольшее?



- 1) А
- 2) Б
- 3) В
- 4) Г

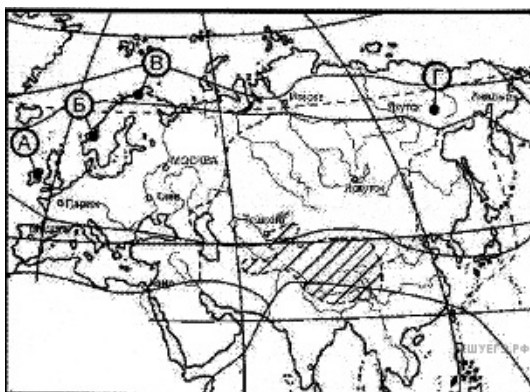
3. Какой полуостров Евразии лежит в тропическом поясе в области тропического пустынного климата?

- 1) Малакка
- 2) Индокитай
- 3) Индостан
- 4) Аравийский

4. На какой из перечисленных территорий лето обычно самое прохладное?

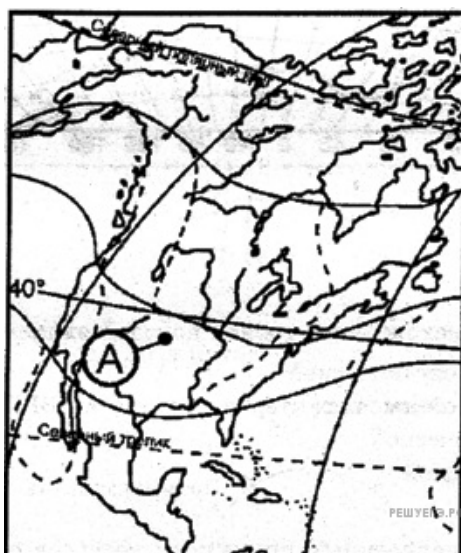
- 1) Республика Калмыкия
- 2) Астраханская область
- 3) Республика Карелия
- 4) Краснодарский край

5. В какой из точек, обозначенных на карте Евразии, средние температуры января самые низкие?



- 1) А
- 2) Б
- 3) В
- 4) Г

6. Какие воздушные массы действуют в течение года на территории, обозначенной на карте Северной Америки буквой А?



- 1) тропические и экваториальные
- 2) только тропические
- 3) тропические и умеренные
- 4) только умеренные

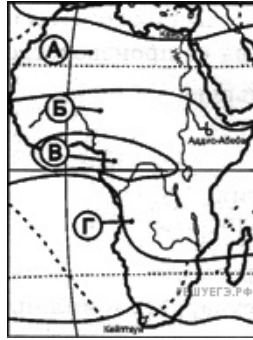
7. Какой из городов России расположен в области муссонного климата?

- 1) Мурманск
- 2) Волгоград
- 3) Владивосток
- 4) Иркутск

8. Какой климат формируется в субтропическом поясе на восточном побережье Евразии?

1. Средиземноморский
2. Континентальный
3. Муссонный
4. С равномерным увлажнением

9. В какой из обозначенных на карте Африки точек выпадает наибольшее среднегодовое количество осадков?



- 1) А
- 2) Б
- 3) В
- 4) Г

10. Для климата какой из перечисленных стран Евразии характерно наименьшее среднегодовое количество атмосферных осадков?

- 1) Индонезия
- 2) Германия
- 3) Индия
- 4) Монголия

11. В каком из перечисленных регионов России средние температуры воздуха в январе наиболее высокие?

- 1) Республика Якутия
- 2) Красноярский край
- 3) Иркутская область
- 4) Мурманская область

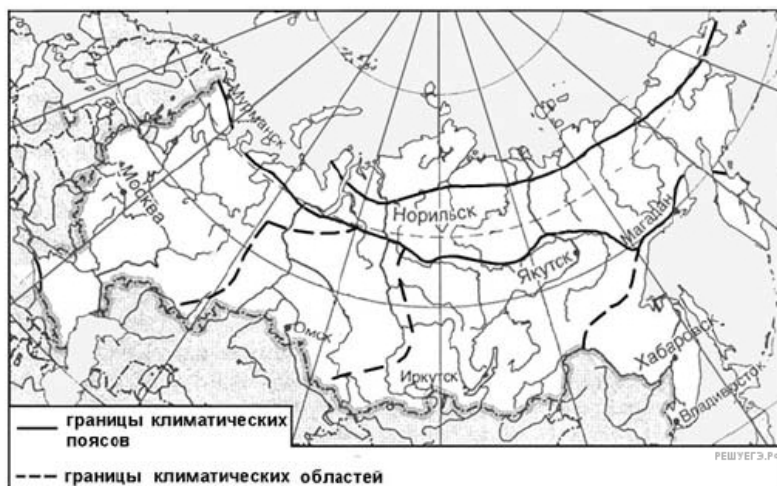
12. В каком климатическом поясе расположена территория, обозначенная на карте Северной Америки буквой А?



- 1) тропический
- 2) арктический
- 3) субтропический
- 4) умеренный

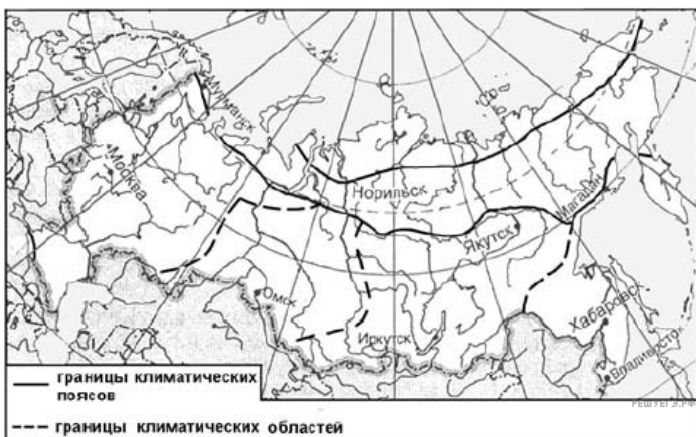
- 13.** В каком из перечисленных регионов России средние температуры воздуха в январе наиболее высокие?
- 1) Республика Якутия
 - 2) Красноярский край
 - 3) Иркутская область
 - 4) Мурманская область
- 14.** Какой из перечисленных городов расположен в области муссонного климата?
- 1) Мурманск
 - 2) Сочи
 - 3) Владивосток
 - 4) Архангельск
- 15.** В каком из перечисленных городов Евразии зима наиболее теплая?
- 1) Париж
 - 2) Киев
 - 3) Улан-Батор
 - 4) Калькутта
- 16.** Какой климат формируется в субтропическом поясе на восточном побережье Евразии?
1. Средиземноморский
 2. Континентальный
 3. Муссонный
 4. С равномерным увлажнением
- 17.** Какой полуостров Евразии лежит в тропическом поясе в области тропического пустынного климата?
- 1) Камчатка
 - 2) Пиренейский
 - 3) Индостан
 - 4) Аравийский
- 18.** Какой из перечисленных пунктов на территории России находится в области муссонного климата?
- 1) Калининград
 - 2) Якутск
 - 3) Владивосток
 - 4) Иркутск
- 19.** В каком из перечисленных городов среднемесячная температура воздуха января наиболее низкая?
- 1) Мурманск
 - 2) Санкт-Петербург
 - 3) Красноярск
 - 4) Вологда

20. Какой из обозначенных на карте городов расположен в области умеренно-континентального климата умеренного климатического пояса?



- 1) Магадан
- 2) Москва
- 3) Омск
- 4) Иркутск

21. Какой из обозначенных на карте городов расположен в области резко континентального климата умеренного климатического пояса?



- 1) Мурманск
- 2) Омск
- 3) Иркутск
- 4) Хабаровск

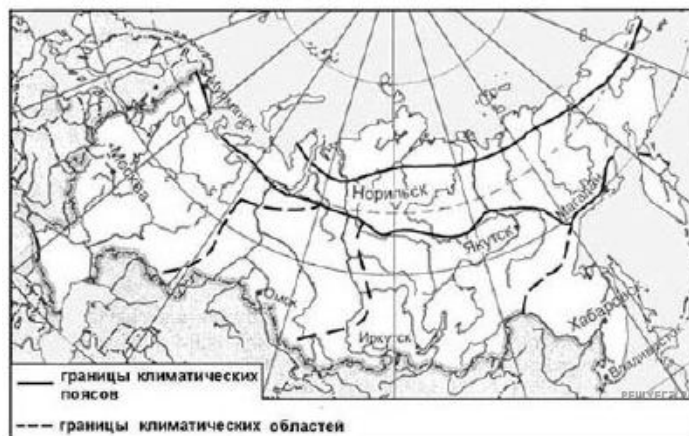
22. В каком из перечисленных городов России средние температуры воздуха в январе наиболее высокие?

- 1) Мурманск
- 2) Новосибирск
- 3) Иркутск
- 4) Чита

23. Для какого из перечисленных регионов России характерен муссонный климат?

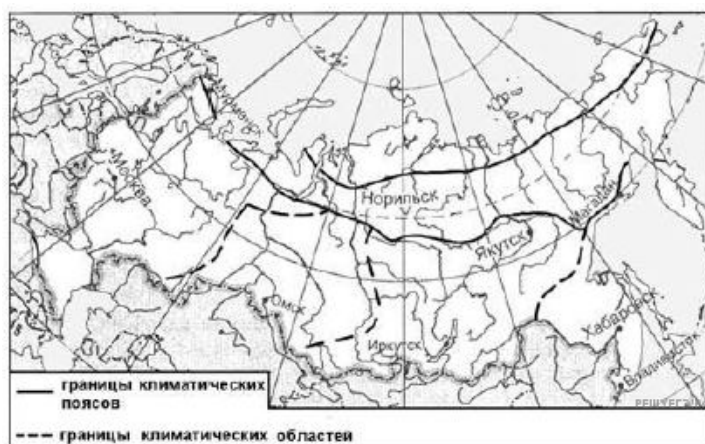
- 1) Калининградская область
- 2) Мурманская область
- 3) Краснодарский край
- 4) Приморский край

24. Какой из обозначенных на карте городов расположен в области муссонного климата умеренного климатического пояса?



- 1) Норильск
- 2) Омск
- 3) Иркутск
- 4) Хабаровск

25. Какой из обозначенных на карте городов расположен в области континентального климата умеренного климатического пояса?



- 1) Мурманск
- 2) Магадан
- 3) Омск
- 4) Владивосток

26. В каком из перечисленных городов России средняя температура воздуха в январе самая низкая?

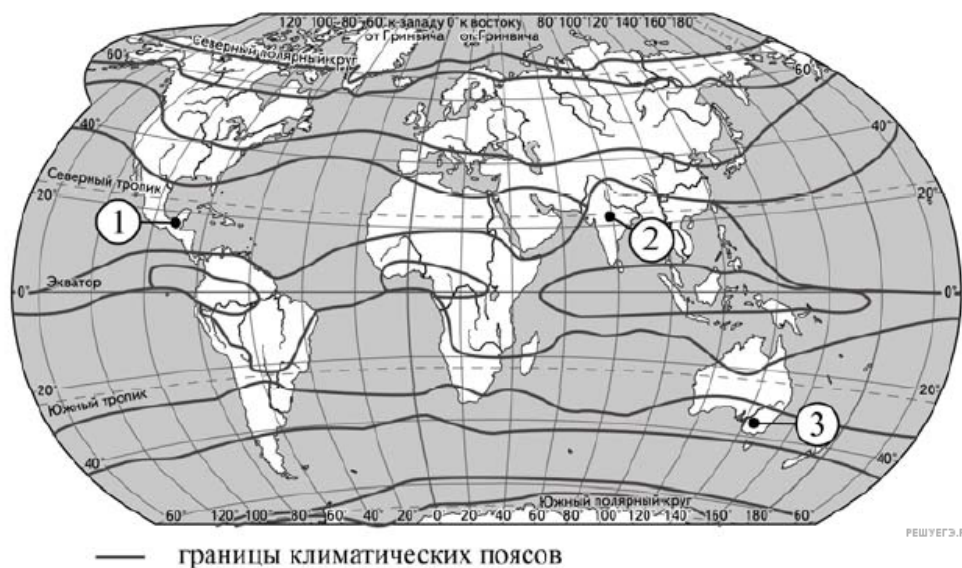
- 1) Архангельск
- 2) Мурманск
- 3) Тюмень
- 4) Якутск

27. Расположите приведённые ниже города в порядке повышения средней многолетней температуры самого холодного месяца, начиная с города с самой низкой температурой.

- 1) Ростов-на-Дону
- 2) Пермь
- 3) Якутск

Запишите в ответ получившуюся последовательность цифр.

28. Установите соответствие между точкой, обозначенной на карте мира, и климатическим поясом, в котором она расположена: к каждому элементу первого столбца подберите соответствующий элемент из второго столбца.



ТОЧКА	КЛИМАТИЧЕСКИЙ ПОЯС
А) 1	1) экваториальный
Б) 2	2) субэкваториальный
В) 3	3) тропический
	4) субтропический

Запишите в ответ цифры, расположив их в порядке, соответствующем буквам:

А	Б	В

29. Расположите перечисленные ниже города в порядке повышения средней многолетней температуры самого холодного месяца, начиная с города с самой низкой температурой.

- 1) Калининград
- 2) Екатеринбург
- 3) Чита

Запишите в таблицу получившуюся последовательность цифр.