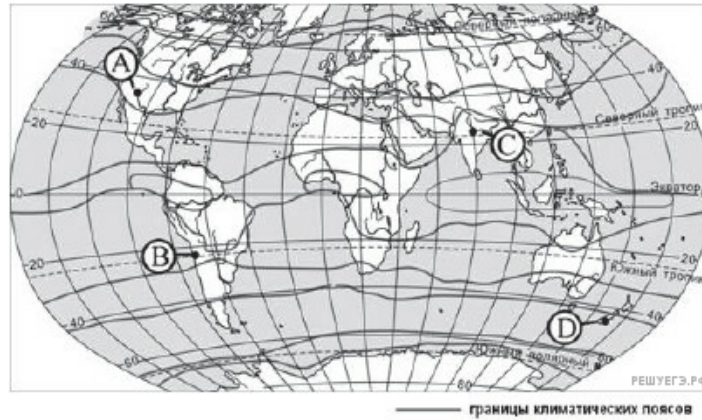


1. Для какой из перечисленных стран в Евразии характерен сухой тропический климат?

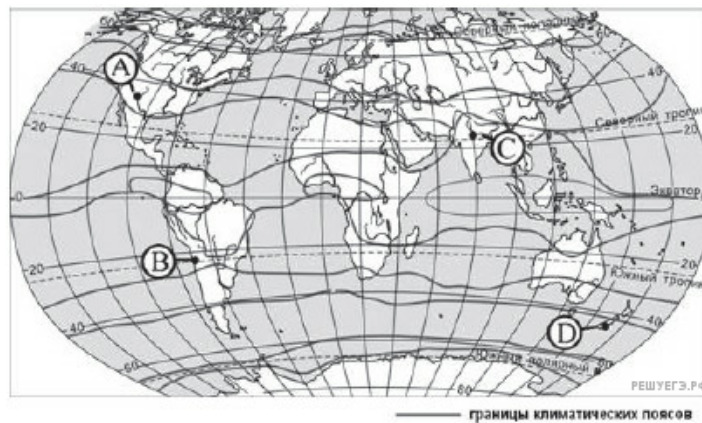
- 1) Индия
- 2) Саудовская Аравия
- 3) Монголия
- 4) Португалия

2. Какой из пунктов, обозначенных буквами на карте, расположен в субтропическом климатическом поясе?



- 1) A
- 2) B
- 3) C
- 4) D

3. Какой из пунктов, обозначенных буквами на карте, расположен в субэкваториальном климатическом поясе?



- 1) A
- 2) B
- 3) C
- 4) D

4. Какой из перечисленных городов расположен в области муссонного климата?

- 1) Париж
- 2) Пекин
- 3) Рим
- 4) Мурманск

5. В пределах какого из перечисленных климатических поясов в летнее время преобладают тропические воздушные массы?

1. Умеренный
2. Субтропический
3. Субэкваторальный
4. Экваториальный

6. В пределах какого из перечисленных климатических поясов в летнее время преобладают экваториальные воздушные массы?

1. Умеренный
2. Субтропический
3. Тропический
4. Субэкваторальный

7. В пределах какого из перечисленных климатических поясов в летнее время преобладают умеренные воздушные массы?

1. Арктический
2. Субарктический
3. Субтропический
4. Тропический

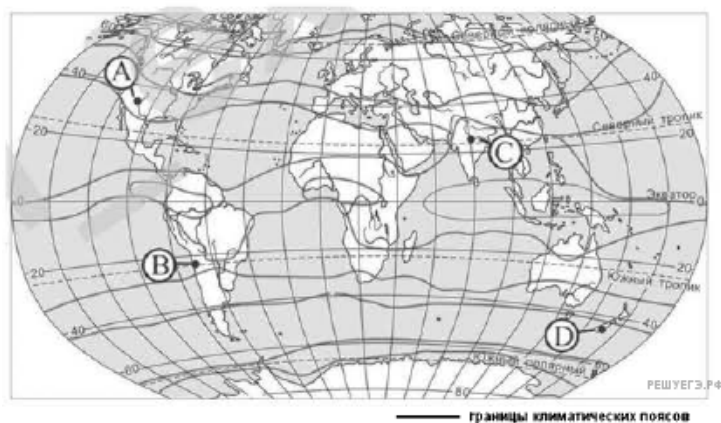
8. В пределах какого из перечисленных климатических поясов в летнее время преобладают экваториальные воздушные массы?

1. Умеренный
2. Субтропический
3. Тропический
4. Субэкваторальный

9. В пределах какого из перечисленных климатических поясов в летнее время преобладают умеренные воздушные массы?

1. Арктический
2. Субарктический
3. Субтропический
4. Тропический

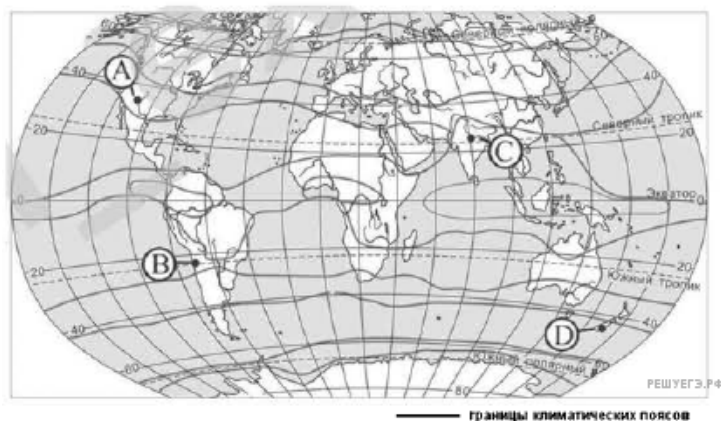
10. Какой из пунктов, обозначенных буквами на карте, расположен в тропическом климатическом поясе?



- 1) A
- 2) B

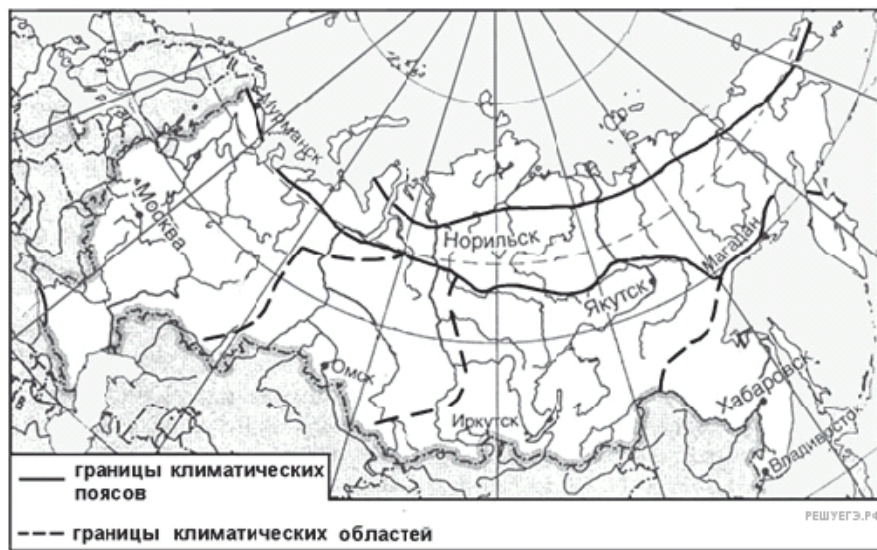
- 3) C
- 4) D

11. Какой из пунктов, обозначенных буквами на карте, расположен в умеренном климатическом поясе?



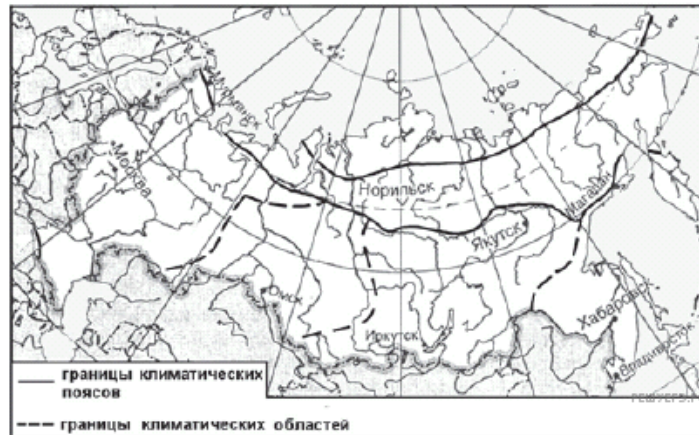
- 1) A
- 2) B
- 3) C
- 4) D

12. Какой из обозначенных на карте городов расположен в области умеренно-континентального климата умеренного климатического пояса?



- 1) Мурманск
- 2) Москва
- 3) Омск
- 4) Иркутск

13. Какой из обозначенных на карте городов расположен в области резко континентального климата умеренного климатического пояса?



- 1) Мурманск
- 2) Омск
- 3) Иркутск
- 4) Хабаровск

14. В каком из перечисленных городов России зимы наиболее холодные?

- 1) Петрозаводск
- 2) Верхоянск
- 3) Екатеринбург
- 4) Омск

15. В каком из перечисленных городов России зимы наиболее холодные?

- 1) Челябинск
- 2) Южно-Сахалинск
- 3) Якутск
- 4) Мурманск

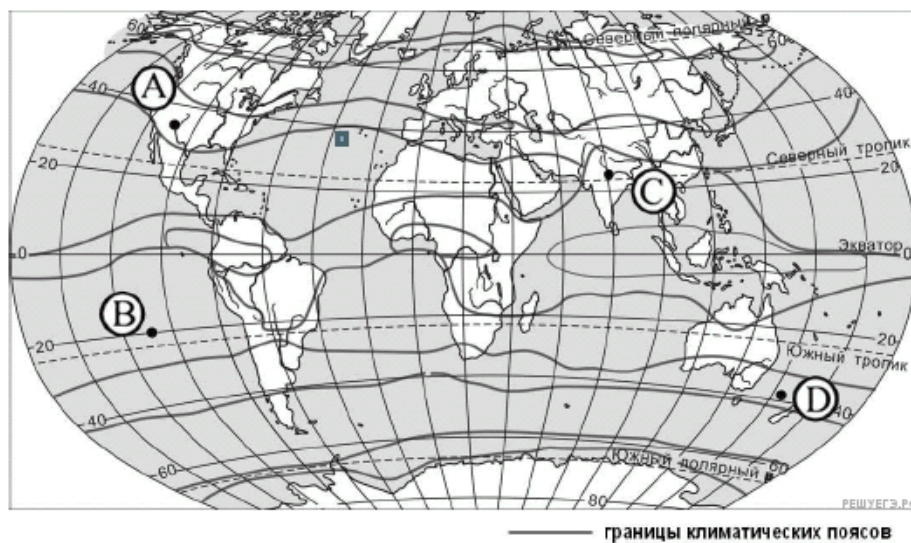
16. Для какого климатического пояса на западных побережьях материков характерно наличие областей пустынного климата?

1. Экваториального
2. Тропического
3. Субэкваториального
4. Субтропического

17. Для какого из перечисленных регионов России характерен муссонный тип климата?

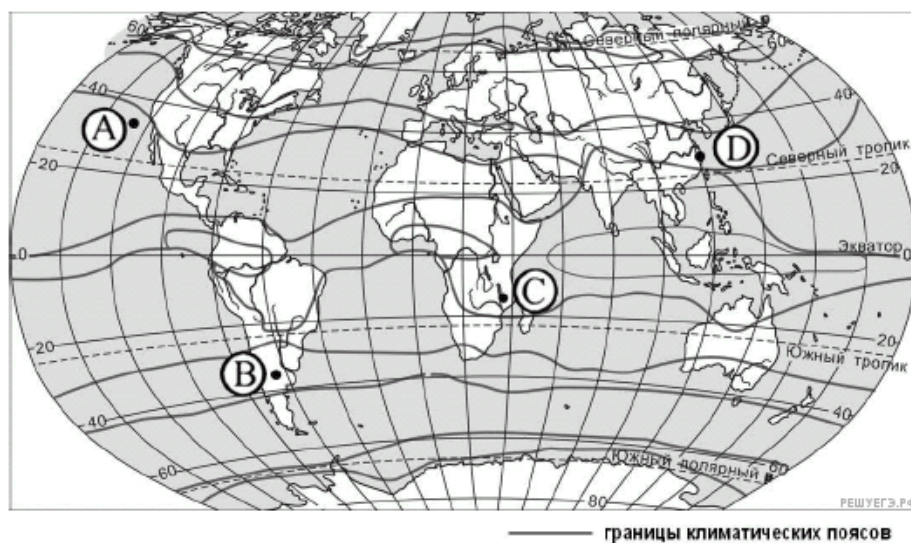
- 1) Краснодарский край
- 2) Приморский край
- 3) Мурманская область
- 4) Калининградская область

18. Какой из пунктов, обозначенных буквами на карте, расположен в субэкваториальном климатическом поясе?



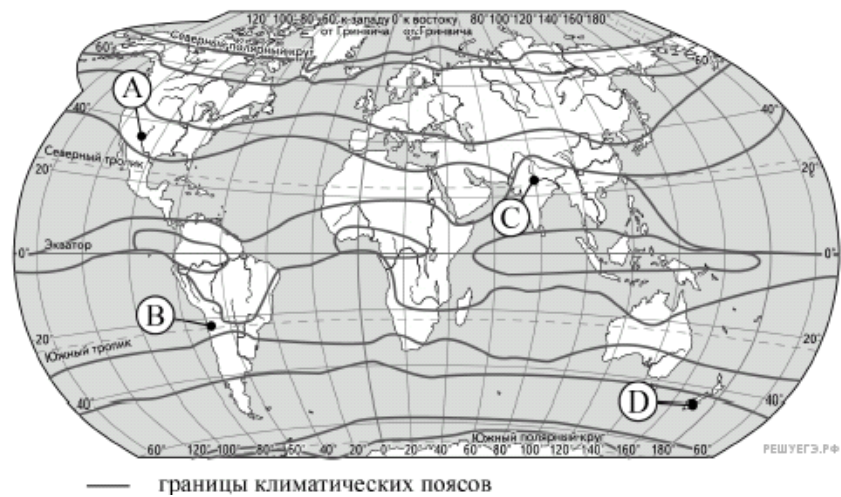
- 1) A
- 2) B
- 3) C
- 4) D

19. Какой из пунктов, обозначенных буквами на карте, расположен в субэкваториальном климатическом поясе?



- 1) A
- 2) B
- 3) C
- 4) D

20. Какой из пунктов, обозначенных буквами на карте мира, расположен в субтропическом климатическом поясе?



- 1) А
- 2) В
- 3) С
- 4) D

21. Какой из перечисленных городов России расположен в области муссонного климата умеренного климатического пояса?

- 1) Калининград
- 2) Владивосток
- 3) Мурманск
- 4) Астрахань