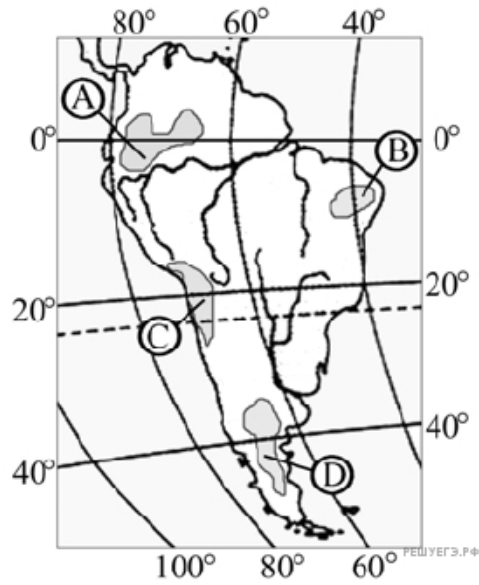
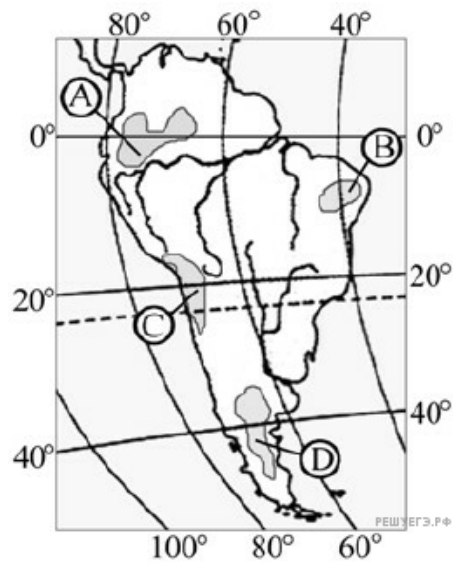


1. На какой из территорий, обозначенных буквами на карте Южной Америки, среднегодовое количество атмосферных осадков наибольшее?



- 1) A
- 2) B
- 3) C
- 4) D

2. На какой из территорий, обозначенных буквами на карте Южной Америки, среднегодовое количество атмосферных осадков наименьшее?



- 1) A
- 2) B
- 3) C
- 4) D

3. На территории какой из перечисленных стран Евразии средняя температура воздуха в январе наиболее низкая?

- 1) Япония
- 2) Ирландия
- 3) Норвегия
- 4) Монголия

4. Какое соответствие «тип климата умеренного пояса — город, для которого он характерен» является верным?

1. Континентальный — Владивосток
2. Муссонный — Калининград
3. Резко континентальный — Якутск
4. Морской — Ростов-на-Дону

5. На территории какой из перечисленных стран Евразии средняя температура воздуха в январе наиболее низкая?

- 1) Франция
- 2) Монголия
- 3) Украина
- 4) Болгария

6. На территории какой из перечисленных стран Евразии средняя температура воздуха в январе наиболее низкая?

- 1) Ирландия
- 2) Япония
- 3) Норвегия
- 4) Монголия

7. Какой из перечисленных городов России находится в области резко континентального климата умеренного климатического пояса?

- 1) Нарьян-Мар
- 2) Чита
- 3) Петропавловск-Камчатский
- 4) Южно-Сахалинск

8. Какой из перечисленных городов находится в области резко континентального климата умеренного климатического пояса?

- 1) Мурманск
- 2) Якутск
- 3) Пермь
- 4) Самара

9. Какой из перечисленных городов России находится в области муссонного климата умеренного климатического пояса?

- 1) Петрозаводск
- 2) Улан-Удэ
- 3) Салехард
- 4) Владивосток

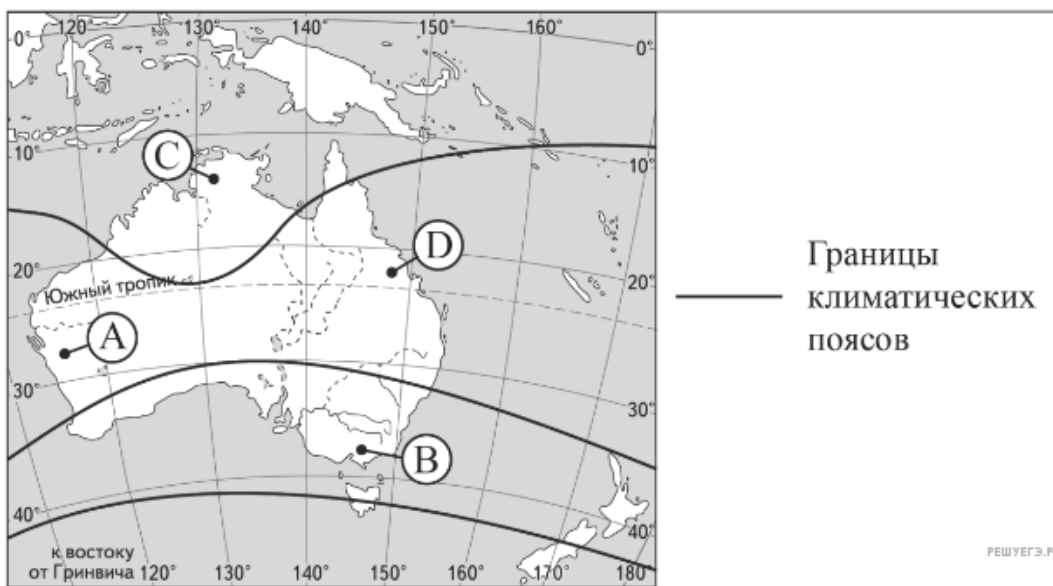
10. Какой из перечисленных городов России находится в области резко континентального климата умеренного климатического пояса?

- 1) Нарьян-Мар
- 2) Петропавловск-Камчатский
- 3) Чита
- 4) Южно-Сахалинск

11. На каком из перечисленных полуостровов Евразии среднегодовое количество атмосферных осадков наибольшее?

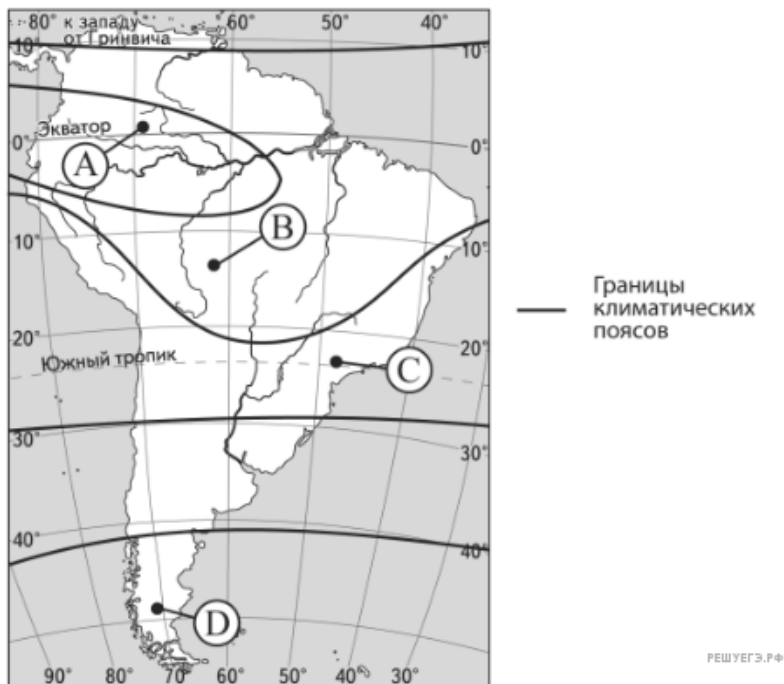
- 1) Кольский
- 2) Чукотский
- 3) Камчатка
- 4) Таймыр

12. В какой из точек, обозначенных буквами на карте Австралии, средняя температура воздуха в июле наиболее низкая?



- 1) A
- 2) B
- 3) C
- 4) D

13. В каком из пунктов, обозначенных буквами на карте Южной Америки, средняя температура воздуха в июле наиболее низкая?



- 1) А
- 2) В
- 3) С
- 4) D

14. Какой из перечисленных городов России находится в области муссонного климата умеренного климатического пояса?

- 1) Владивосток
- 2) Верхоянск
- 3) Калининград
- 4) Норильск

15. В каком из перечисленных городов России среднегодовое количество атмосферных осадков наименьшее?

- 1) Астрахань
- 2) Владивосток
- 3) Москва
- 4) Калининград