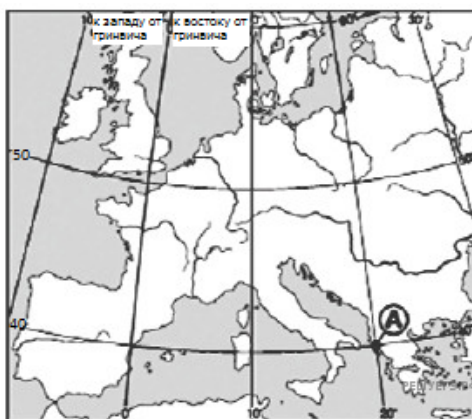


1. Какие географические координаты имеет точка, обозначенная на карте буквой А?



1.  $40^\circ$  с. ш. и  $20^\circ$  в. д.
2.  $20^\circ$  с. ш. и  $40^\circ$  з. д.
3.  $20^\circ$  с. ш. и  $40^\circ$  в. д.
4.  $40^\circ$  с. ш. и  $20^\circ$  з. д.

2. Какие географические координаты имеет точка, обозначенная на карте буквой А?



1.  $50^\circ$  ю. ш. и  $40^\circ$  в. д.
2.  $40^\circ$  ю. ш. и  $50^\circ$  з. д.
3.  $40^\circ$  ю. ш. и  $50^\circ$  в. д.
4.  $50^\circ$  ю. ш. и  $40^\circ$  з. д.

3. Какие географические координаты имеет точка, обозначенная на карте буквой А?



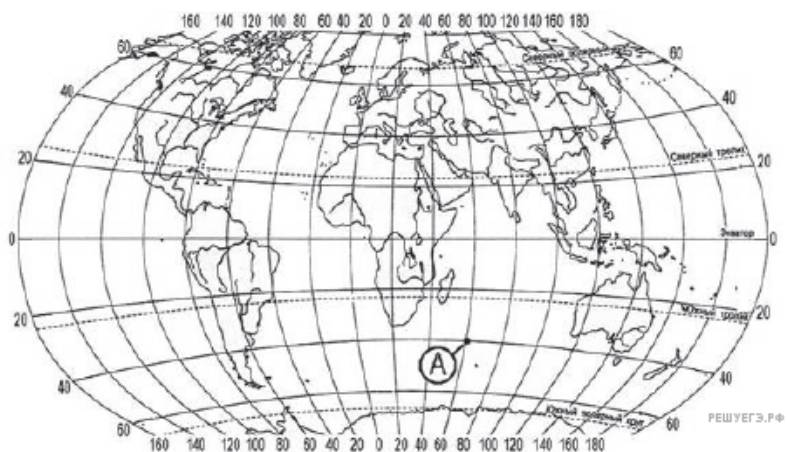
1.  $45^\circ$  с. ш. и  $10^\circ$  в. д.
2.  $45^\circ$  с. ш. и  $10^\circ$  з. д.
3.  $10^\circ$  с. ш. и  $45^\circ$  в. д.
4.  $10^\circ$  с. ш. и  $45^\circ$  з. д.

4. Какие географические координаты имеет точка, обозначенная на карте буквой А?



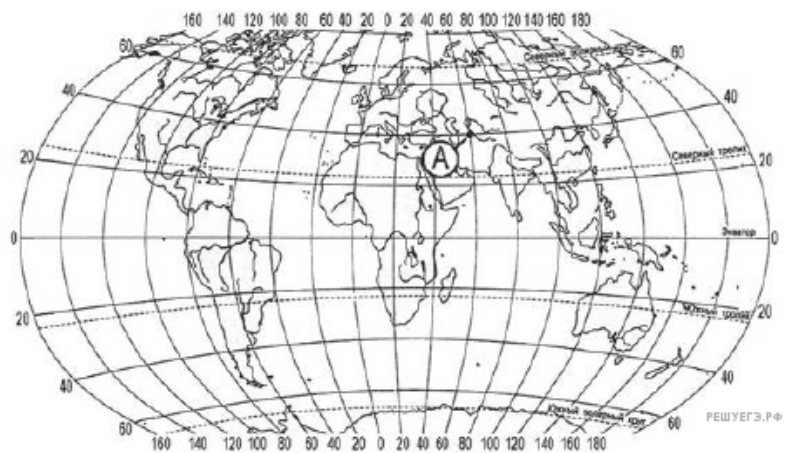
1.  $20^\circ$  с. ш. и  $65^\circ$  з. д.
2.  $65^\circ$  с. ш. и  $20^\circ$  в. д.
3.  $20^\circ$  с. ш. и  $65^\circ$  в. д.
4.  $65^\circ$  с. ш. и  $20^\circ$  з. д.

5. Какие географические координаты имеет точка, обозначенная на карте буквой А?



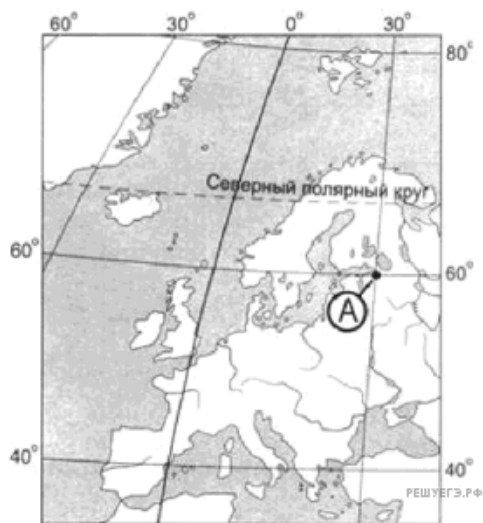
1.  $60^\circ$  ю. ш. и  $40^\circ$  в. д.
2.  $40^\circ$  ю. ш. и  $60^\circ$  з. д.
3.  $60^\circ$  ю. ш. и  $40^\circ$  з. д.
4.  $40^\circ$  ю. ш. и  $60^\circ$  в. д.

6. Какие географические координаты имеет точка, обозначенная на карте буквой А?



1.  $60^\circ$  с. ш. и  $40^\circ$  в. д.
2.  $40^\circ$  с. ш. и  $60^\circ$  з. д.
3.  $60^\circ$  с. ш. и  $40^\circ$  з. д.
4.  $40^\circ$  с. ш. и  $60^\circ$  в. д.

7. Какие графические координаты имеет точка, обозначенная на карте буквой А?



1.  $60^\circ$  с. ш. и  $30^\circ$  з. д.
2.  $60^\circ$  с. ш. и  $30^\circ$  в. д.
3.  $30^\circ$  с. ш. и  $60^\circ$  з. д.
4.  $30^\circ$  с. ш. и  $60^\circ$  в. д.

8. Какие графические координаты имеет точка, обозначенная на карте буквой А?



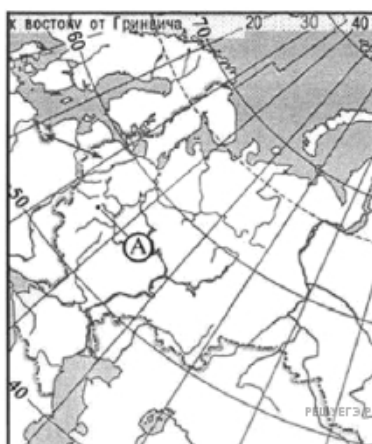
1.  $60^\circ$  с. ш. и  $30^\circ$  з. д.
2.  $60^\circ$  с. ш. и  $30^\circ$  в. д.
3.  $30^\circ$  с. ш. и  $60^\circ$  з. д.
4.  $30^\circ$  с. ш. и  $60^\circ$  в. д.

9. Какие географические координаты имеет точка, обозначенная на фрагменте карты России буквой А?



1.  $57^\circ$  с. ш.  $45^\circ$  з. д.
2.  $45^\circ$  с. ш.  $57^\circ$  в. д.
3.  $57^\circ$  с. ш.  $45^\circ$  в. д.
4.  $45^\circ$  с. ш.  $57^\circ$  з. д.

10. Какие географические координаты имеет точка, обозначенная на фрагменте карты России буквой А?



1.  $55^\circ$  с. ш.  $35^\circ$  з. д.
2.  $35^\circ$  с. ш.  $55^\circ$  в. д.
3.  $55^\circ$  с. ш.  $35^\circ$  в. д.
4.  $35^\circ$  с. ш.  $55^\circ$  з. д.

11. Какие географические координаты имеет точка, обозначенная на карте буквой А?



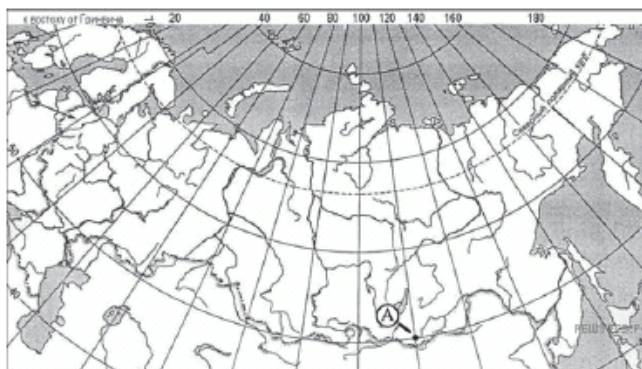
1.  $40^\circ$  с. ш.  $60^\circ$  в. д.
2.  $40^\circ$  с. ш.  $60^\circ$  з. д.
3.  $60^\circ$  с. ш.  $40^\circ$  в. д.
4.  $60^\circ$  с. ш.  $40^\circ$  з. д.

12. Какие географические координаты имеет точка, обозначенная на карте буквой А?



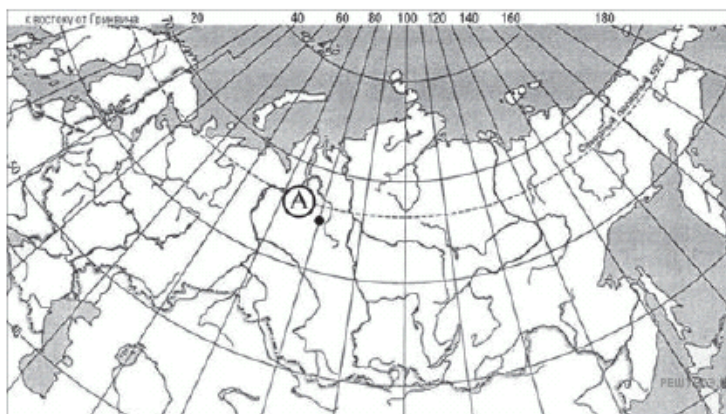
1.  $50^\circ$  с. ш.  $30^\circ$  з. д.
2.  $50^\circ$  с. ш.  $30^\circ$  в. д.
3.  $30^\circ$  с. ш.  $50^\circ$  в. д.
4.  $30^\circ$  с. ш.  $50^\circ$  з. д.

13. Какие географические координаты имеет точка, обозначенная на карте буквой А?



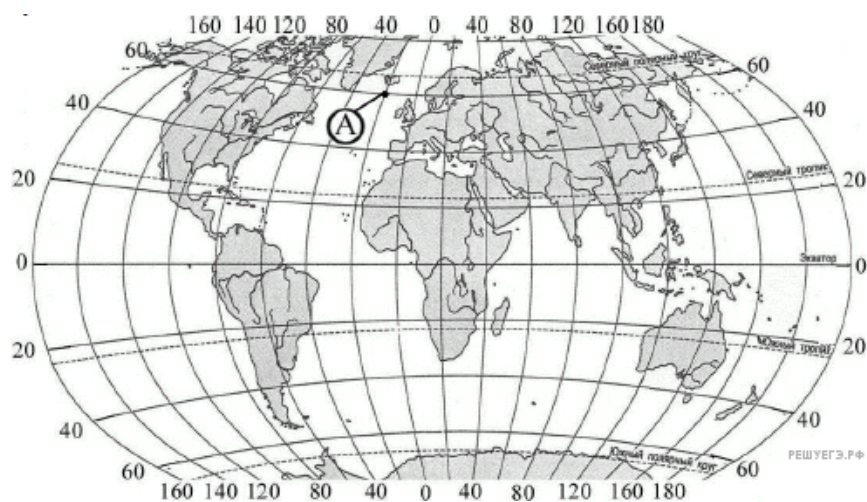
1.  $110^{\circ}$  с. ш. и  $50^{\circ}$  в. д.
2.  $50^{\circ}$  с. ш. и  $110^{\circ}$  з. д.
3.  $50^{\circ}$  с. ш. и  $110^{\circ}$  в. д.
4.  $110^{\circ}$  с. ш. и  $50^{\circ}$  з. д.

14. Какие географические координаты имеет точка, обозначенная на карте буквой А?



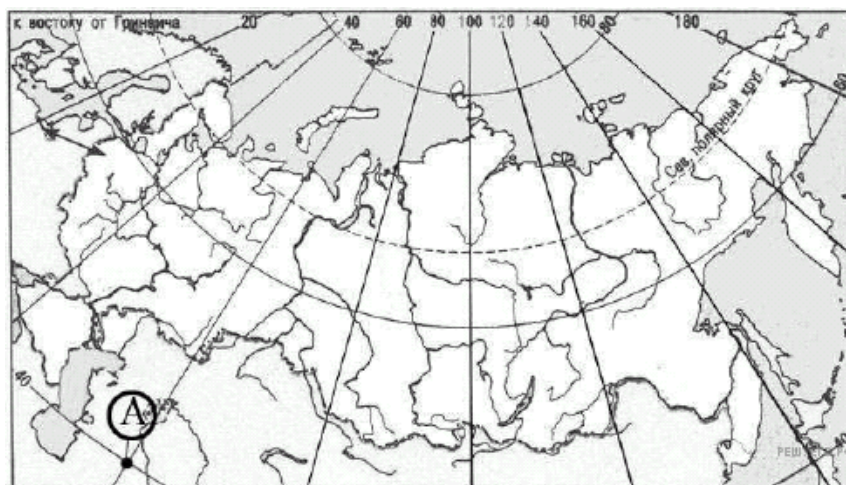
1.  $80^{\circ}$  с. ш. и  $65^{\circ}$  з. д.
2.  $65^{\circ}$  с. ш. и  $80^{\circ}$  в. д.
3.  $80^{\circ}$  с. ш. и  $65^{\circ}$  в. д.
4.  $65^{\circ}$  с. ш. и  $80^{\circ}$  з. д.

15. Какие географические координаты имеет точка, обозначенная на карте буквой А?



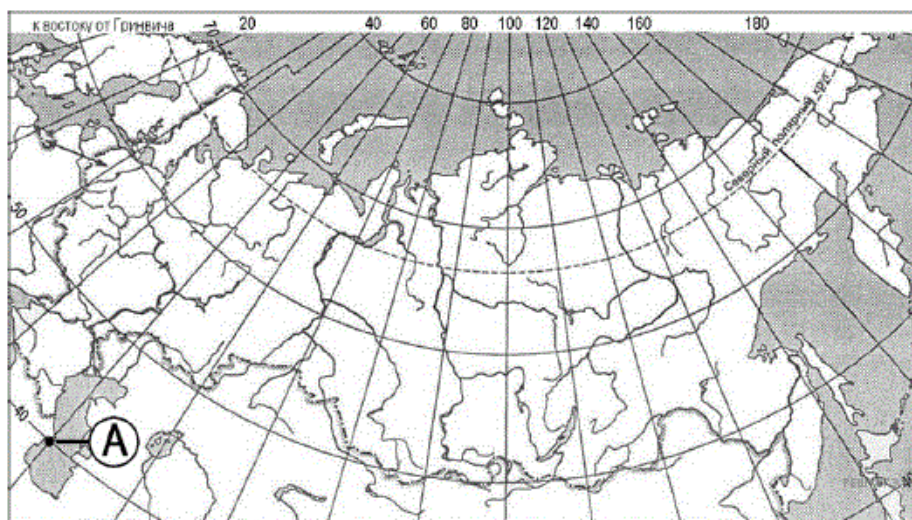
1.  $60^\circ$  с. ш.  $20^\circ$  в. д.
2.  $60^\circ$  с. ш.  $20^\circ$  з. д.
3.  $20^\circ$  с. ш.  $60^\circ$  в. д.
4.  $20^\circ$  с. ш.  $60^\circ$  з. д.

16. Какие географические координаты имеет точка, обозначенная на карте буквой А?



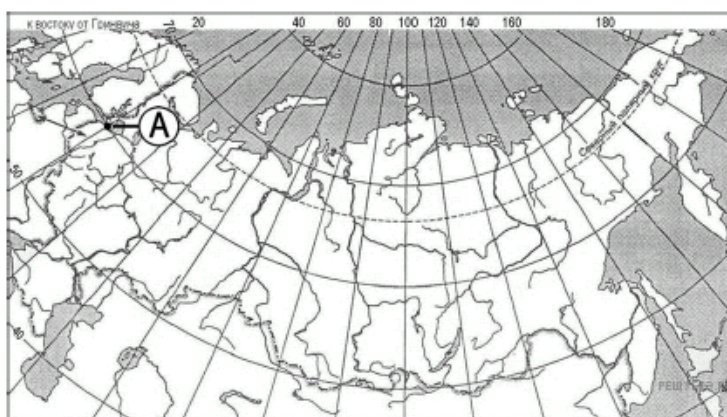
1.  $40^\circ$  с. ш.  $60^\circ$  в. д.
2.  $60^\circ$  с. ш.  $40^\circ$  з. д.
3.  $60^\circ$  с. ш.  $40^\circ$  в. д.
4.  $40^\circ$  с. ш.  $60^\circ$  з. д.

17. Какие географические координаты имеет точка, обозначенная на карте буквой А?



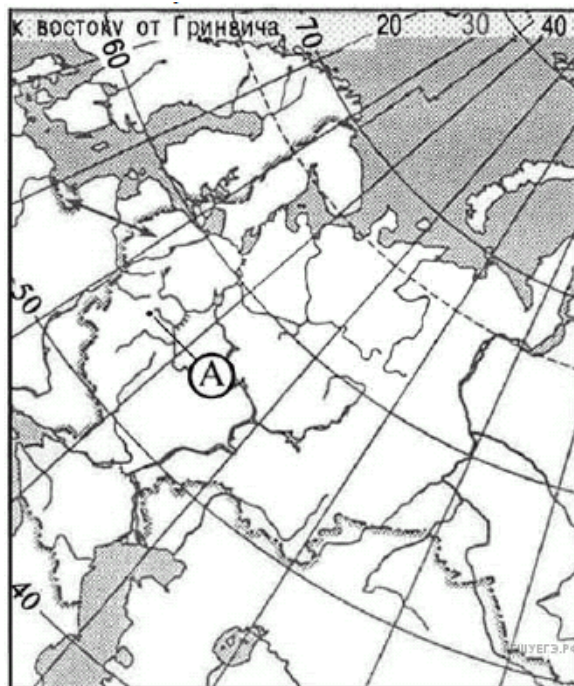
1.  $40^\circ$  с. ш.  $50^\circ$  з. д.
2.  $50^\circ$  с. ш.  $40^\circ$  з. д.
3.  $40^\circ$  с. ш.  $50^\circ$  в. д.
4.  $50^\circ$  с. ш.  $40^\circ$  в. д.

18. Какие географические координаты имеет точка, обозначенная на карте буквой А?



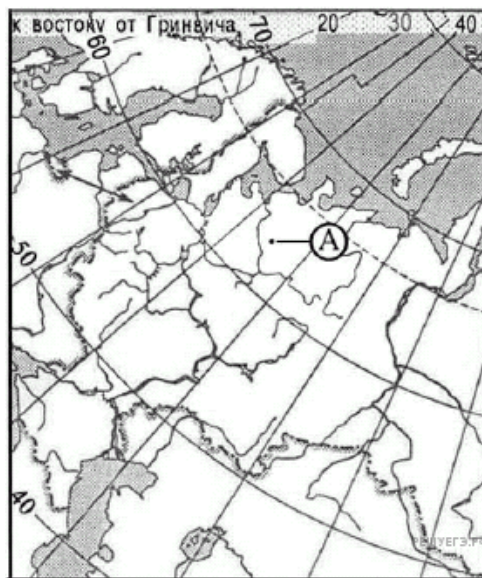
1.  $30^\circ$  с. ш.  $60^\circ$  в. д.
2.  $30^\circ$  с. ш.  $60^\circ$  з. д.
3.  $60^\circ$  с. ш.  $30^\circ$  з. д.
4.  $60^\circ$  с. ш.  $30^\circ$  в. д.

19. Какие географические координаты имеет точка, обозначенная на карте европейской части России буквой *A*?



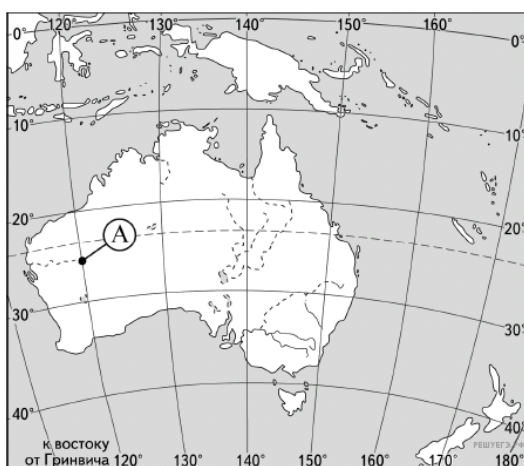
1.  $55^{\circ}$  с. ш.  $35^{\circ}$  з. д.
2.  $35^{\circ}$  с. ш.  $55^{\circ}$  в. д.
3.  $55^{\circ}$  с. ш.  $35^{\circ}$  в. д.
4.  $35^{\circ}$  с. ш.  $55^{\circ}$  з. д.

20. Какие географические координаты имеет точка, обозначенная на карте европейской части России буквой *A*?



1.  $45^{\circ}$  с. ш.  $65^{\circ}$  в. д.
2.  $45^{\circ}$  с. ш.  $65^{\circ}$  з. д.
3.  $63^{\circ}$  с. ш.  $45^{\circ}$  з. д.
4.  $63^{\circ}$  с. ш.  $45^{\circ}$  в. д.

21. Какие географические координаты имеет точка, обозначенная на карте Австралии буквой А?



1. 25° ю. ш. 120° в. д.
2. 25° ю. ш. 120° з. д.
3. 35° ю. ш. 120° в. д.
4. 35° ю. ш. 120° з. д.

22. Какие географические координаты имеет точка, обозначенная на карте Северной Америки буквой А?



1. 55° с. ш. 120° в. д.
2. 55° с. ш. 120° з. д.
3. 65° с. ш. 120° з. д.
4. 65° с. ш. 120° в. д.