

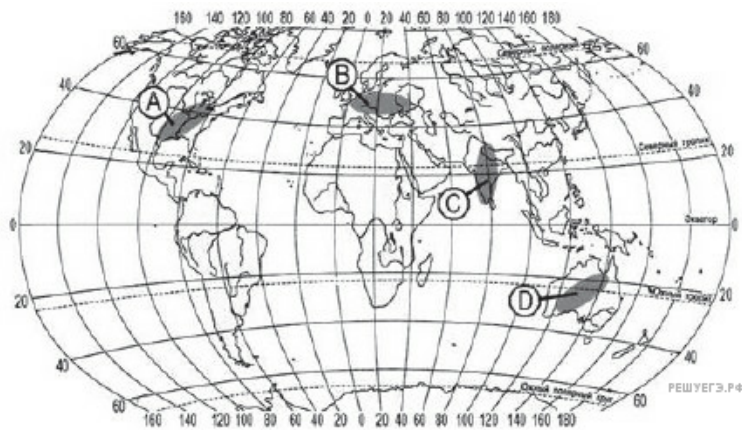
1. В какой из перечисленных стран средняя плотность населения наименьшая?

- 1) Великобритания
- 2) Канада
- 3) США
- 4) Италия

2. В какой из перечисленных стран средняя плотность населения наибольшая?

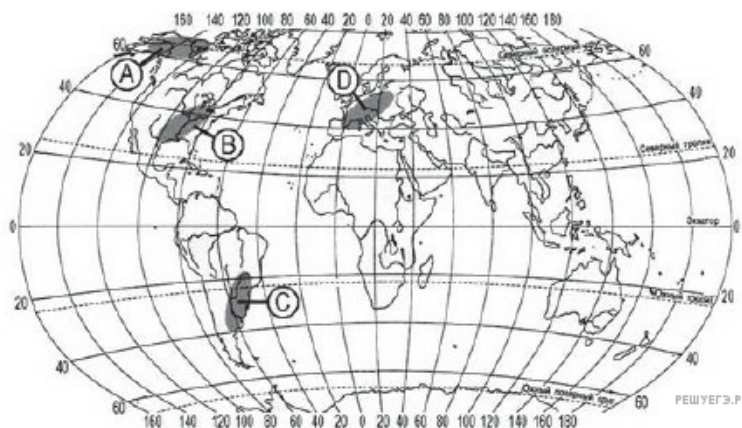
- 1) Австралия
- 2) Бельгия
- 3) Бразилия
- 4) Россия

3. В пределах какой из территорий, обозначенных буквами на карте, средняя плотность населения наименьшая?



- 1) A
- 2) B
- 3) C
- 4) D

4. В пределах какой из территорий, обозначенных буквами на карте, средняя плотность населения наименьшая?



- 1) A
- 2) B
- 3) C
- 4) D

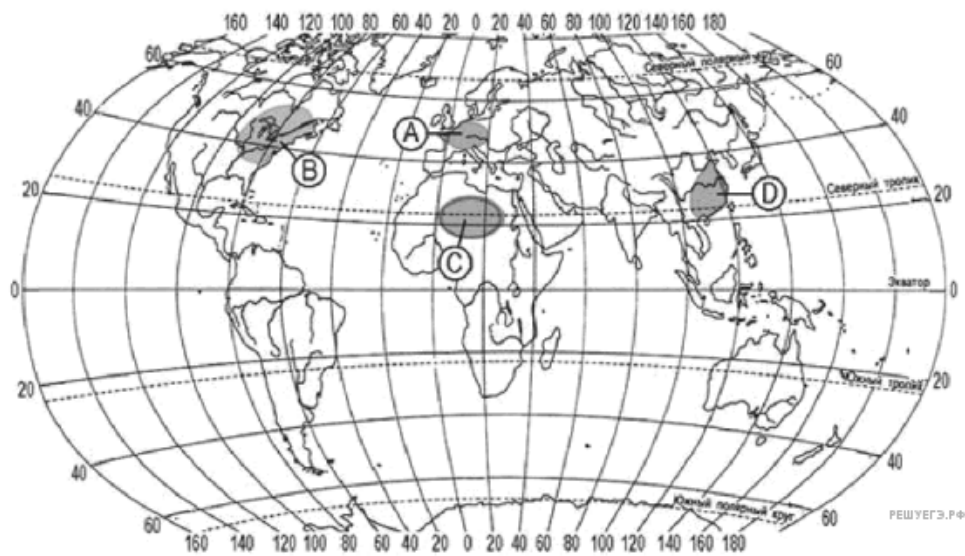
5. В какой из перечисленных стран средняя плотность населения наименьшая?

- 1) Австралия
- 2) Бельгия
- 3) США
- 4) Таиланд

6. В какой из перечисленных стран средняя плотность населения наименьшая?

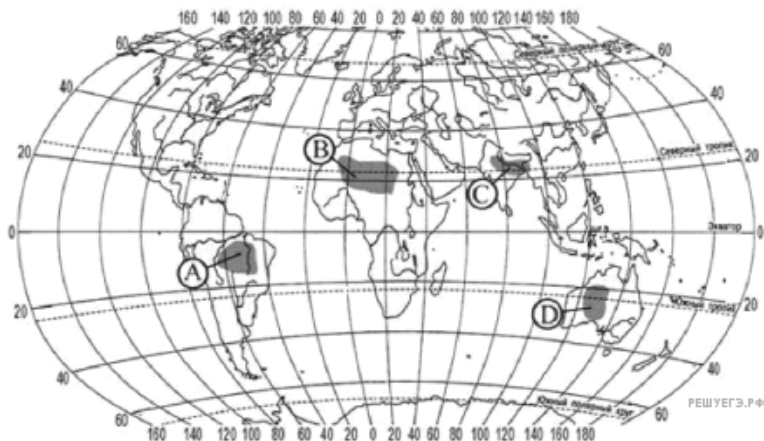
- 1) США
- 2) Канада
- 3) Франция
- 4) Республика Корея

7. Какая из территорий, обозначенных буквами на карте, имеет наименьшую среднюю плотность населения?



- 1) A
- 2) B
- 3) C
- 4) D

8. Какая из территорий, обозначенных буквами на карте, имеет наибольшую среднюю плотность населения?



- 1) A
- 2) B
- 3) C
- 4) D

9. В какой из перечисленных стран средняя плотность населения наибольшая?

- 1) Австралия
- 2) Монголия
- 3) Канада
- 4) Франция

10. В какой из перечисленных стран средняя плотность населения наименьшая?

- 1) Бангладеш
- 2) Монголия
- 3) Республика Корея
- 4) Япония

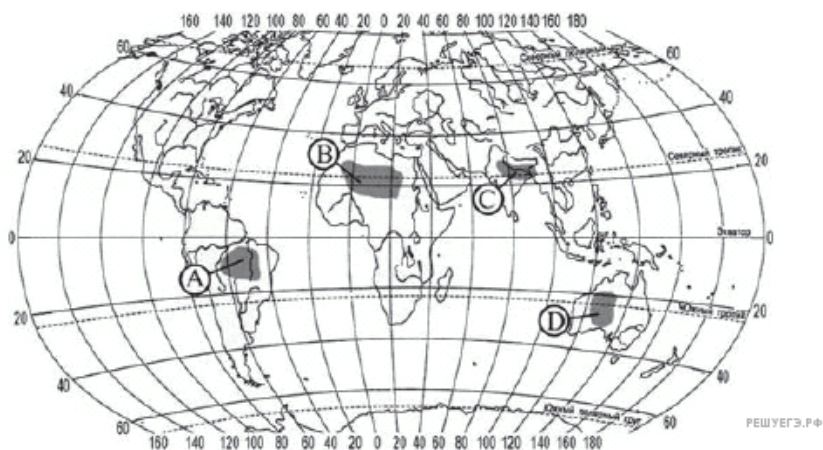
11. В какой из перечисленных стран средняя плотность населения наибольшая?

- 1) Канада
- 2) Россия
- 3) Монголия
- 4) Япония

12. В какой из перечисленных стран средняя плотность населения наибольшая?

- 1) Австралия
- 2) Россия
- 3) Канада
- 4) Швейцария

13. Какая из территорий, обозначенных буквами на карте, имеет наибольшую среднюю плотность населения?



- 1) A
- 2) B
- 3) C
- 4) D

14. Какая из территорий, обозначенных буквами на карте, имеет наибольшую среднюю плотность населения?



- 1) A
- 2) B
- 3) C
- 4) D

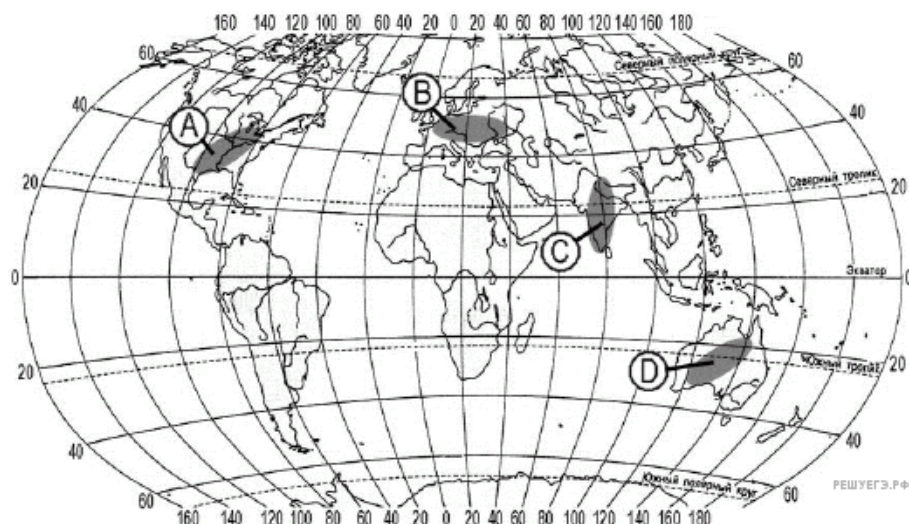
15. В какой из перечисленных стран средняя плотность населения наибольшая?

- 1) Канада
- 2) Исландия
- 3) Австралия
- 4) Бангладеш

16. В какой из перечисленных стран средняя плотность населения наибольшая?

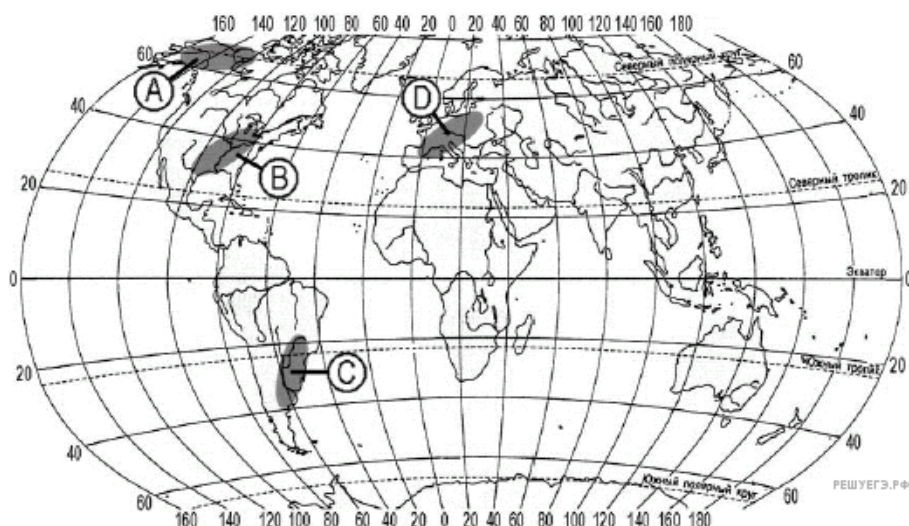
- 1) Монголия
- 2) Исландия
- 3) Великобритания
- 4) Австралия

17. В пределах какой из территорий, обозначенных буквами на карте, средняя плотность населения **наименьшая**?



- 1) A
- 2) B
- 3) C
- 4) D

18. В пределах какой из территорий, обозначенных буквами на карте, средняя плотность населения **наименьшая**?



- 1) A
- 2) B
- 3) C
- 4) D

19. В какой из перечисленных стран средняя плотность населения наибольшая?

- 1) Австралия
- 2) Вьетнам
- 3) Монголия
- 4) Россия

20. В какой из перечисленных стран средняя плотность населения **наименьшая**?

- 1) Австрия
- 2) Вьетнам
- 3) Китай
- 4) Россия

21. В какой из перечисленных стран средняя плотность населения наибольшая?

- 1) Канада
- 2) Великобритания
- 3) Алжир
- 4) Австралия

22. В какой из перечисленных стран средняя плотность населения наибольшая?

- 1) Австралия
- 2) Канада
- 3) Великобритания
- 4) Исландия