

1. В какой из перечисленных стран большая часть экономически активного населения занята в сфере услуг?

- 1) Индия
- 2) Франция
- 3) Лаос
- 4) Эфиопия

2. В структуре занятости населения какой из перечисленных стран преобладают занятые в сфере услуг?

- 1) Ангола
- 2) Великобритания
- 3) Индия
- 4) Марокко

3. Для какой из перечисленных стран характерно преобладание доли сельского хозяйства в структуре занятости экономически активного населения?

- 1) Ангола
- 2) Франция
- 3) Финляндия
- 4) Швейцария

4. Для какой из перечисленных стран характерно преобладание доли сферы услуг в структуре занятости экономически активного населения?

- 1) Ангола
- 2) Индия
- 3) Вьетнам
- 4) Испания

5. В структуре занятости населения какой из перечисленных стран преобладают занятые в сфере услуг?

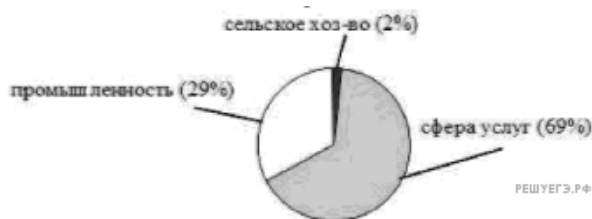
- 1) Камбоджа
- 2) Нидерланды
- 3) Мозамбик
- 4) Эфиопия

6. В структуре занятости населения какой из перечисленных стран преобладают занятые в сельском хозяйстве?

- 1) Бангладеш
- 2) Нидерланды
- 3) Испания
- 4) Финляндия

7. Для какой из перечисленных стран характерна структура ВВП, показанная на диаграмме?

Доля отдельных секторов экономики ВВП



- 1) Австрия
- 2) Ангола
- 3) Бангладеш
- 4) Камбоджа

8. Какая из перечисленных стран имеет аграрную структуру экономики?

- 1) Австрия
- 2) Италия
- 3) Финляндия
- 4) Эфиопия

9. В структуре занятости населения какой из перечисленных стран преобладают занятые в сельском хозяйстве?

- 1) Вьетнам
- 2) Греция
- 3) Канада
- 4) Италия

10. В структуре занятости населения какой из перечисленных стран преобладают занятые в сельском хозяйстве?

- 1) Непал
- 2) Франция
- 3) Испания
- 4) Чехия

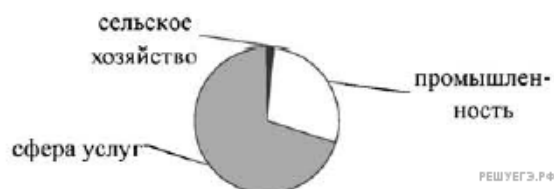
11. Для какой из перечисленных стран характерно распределение экономически активного населения по секторам экономики, показанное на диаграмме?

Распределение экономически активного населения по отдельным секторам экономики



- 1) Ангола
- 2) Испания
- 3) Франция
- 4) Финляндия

12. Для какой из перечисленных стран характерно распределение экономически активного населения по секторам экономики, показанное на диаграмме?

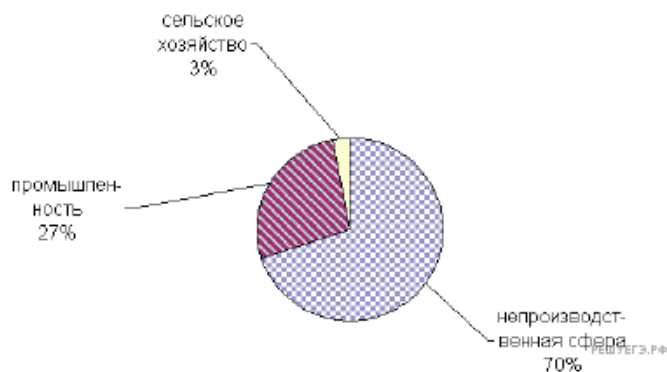


- 1) Ангола
- 2) Вьетнам
- 3) Тайланд
- 4) Швеция

13. Какая из перечисленных стран имеет аграрную структуру экономики?

- 1) Финляндия
- 2) Лаос
- 3) Швейцария
- 4) Испания

14. Для какой страны характерна структура ВВП, показанная на диаграмме?



- 1) Австралия
- 2) Камбоджа
- 3) Конго
- 4) Судан

15. В какой из перечисленных стран в структуре занятости населения преобладают занятые в сфере услуг?

- 1) Афганистан
- 2) Эфиопия
- 3) Нигерия
- 4) Бразилия

16. Для какой из перечисленных стран характерна структура занятости населения, показанная на диаграмме?

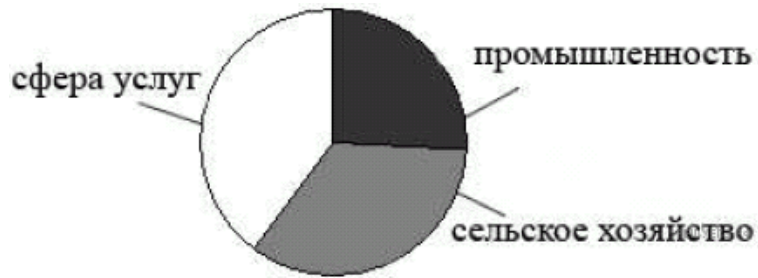
Структура занятости населения по секторам экономики



- 1) Афганистан
- 2) Ирландия
- 3) Кувейт
- 4) Чехия

17. Для какой из перечисленных стран характерна структура ВВП, показанная на диаграмме?

Структура ВВП по секторам экономики



- 1) Лаос
- 2) Канада
- 3) Испания
- 4) Швейцария

18. Для какой из перечисленных стран характерна структура ВВП, показанная на диаграмме?

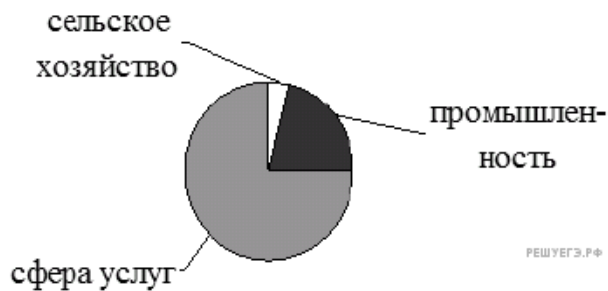
Структуры ВВП по секторам экономики



- 1) Австрия
- 2) Лаос
- 3) Бангладеш
- 4) Чад

19. Для какой из перечисленных стран характерна структура занятости населения по секторам экономики, показанная на диаграмме?

Структуры занятости населения по секторам экономики



- 1) Канада
- 2) Лаос
- 3) Бангладеш
- 4) Марокко

20. Для какой из перечисленных стран характерно показанное на диаграмме распределение экономически активного населения по секторам экономики?



- 1) Кувейт
- 2) Китай
- 3) Афганистан
- 4) Греция