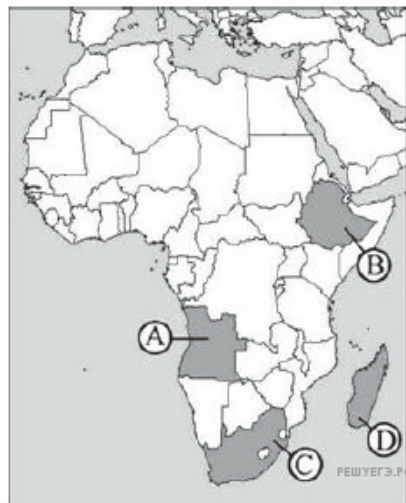
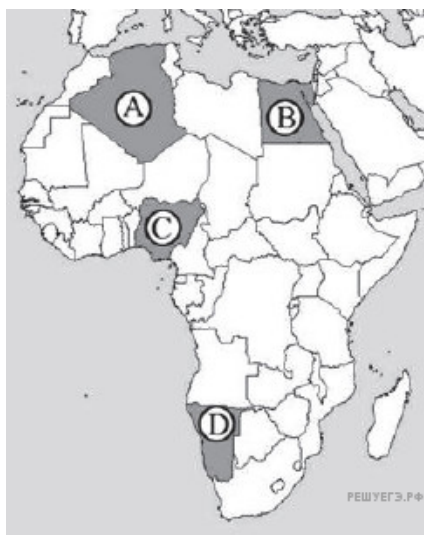


1. Какой буквой на карте обозначена территория государства ЮАР?

- 1) A
- 2) B
- 3) C
- 4) D

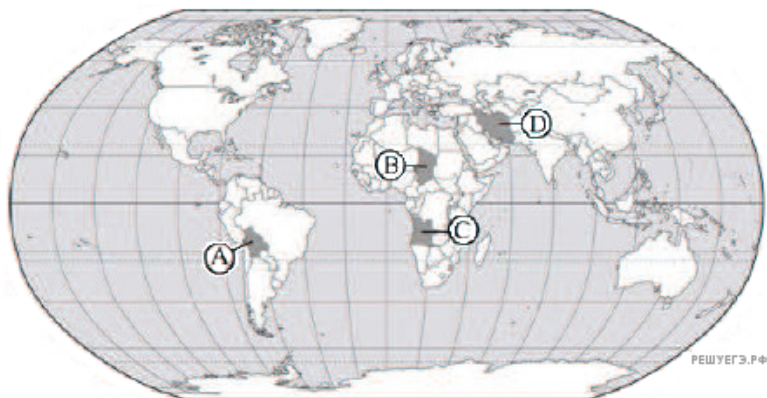


2. Какой буквой на карте обозначена территория государства Алжир?



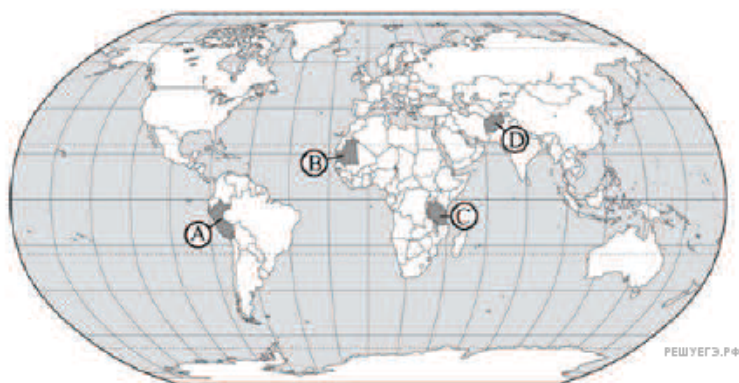
- 1) A
- 2) B
- 3) C
- 4) D

3. Какой буквой на карте обозначена территория государства Иран?



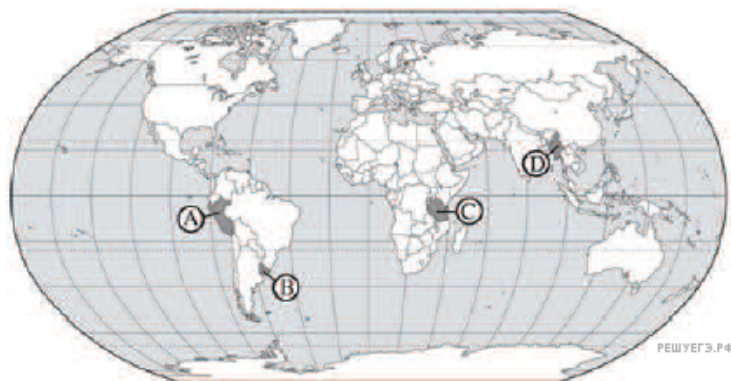
- 1) A
- 2) B
- 3) C
- 4) D

4. Какой буквой на карте обозначена территория государства Перу?



- 1) A
- 2) B
- 3) C
- 4) D

5. Какой буквой на карте обозначена территория государства Танзания?



- 1) A
- 2) B
- 3) C
- 4) D

6. Какой буквой на карте обозначена территория государства Нигерия?



- 1) A
- 2) B
- 3) C
- 4) D

7. Какой буквой на карте обозначена территория государства Ангола?



- 1) A
- 2) B
- 3) C
- 4) D

8. Какой буквой на карте обозначена территория государства Германия?



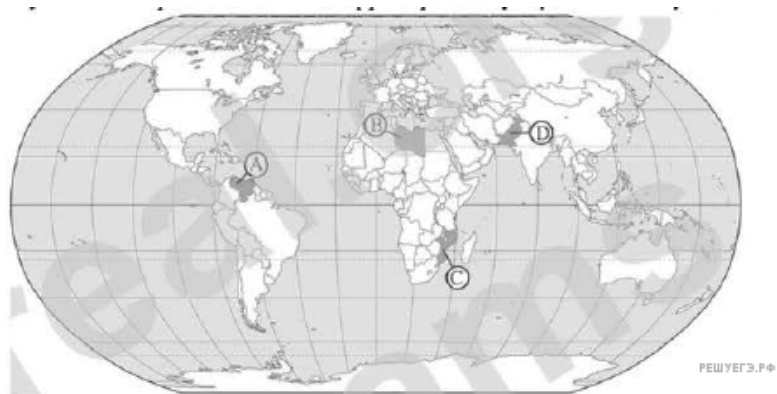
- 1) A
- 2) B
- 3) C
- 4) D

9. Какой буквой на карте обозначена территория государства Польша?



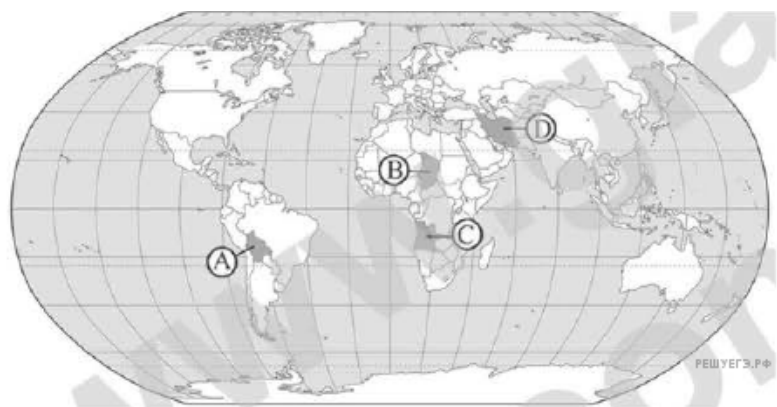
- 1) A
- 2) B
- 3) C
- 4) D

10. Какой буквой на карте мира обозначена территория государства Венесуэла?



- 1) A
- 2) B
- 3) C
- 4) D

11. Какой буквой на карте обозначена территория государства Боливия?



- 1) A
- 2) B
- 3) C
- 4) D

12. Какой буквой на картосхеме обозначено государство Перу?



- 1) A
- 2) B
- 3) C
- 4) D

13. Какой буквой на карте обозначено государство Венесуэла?



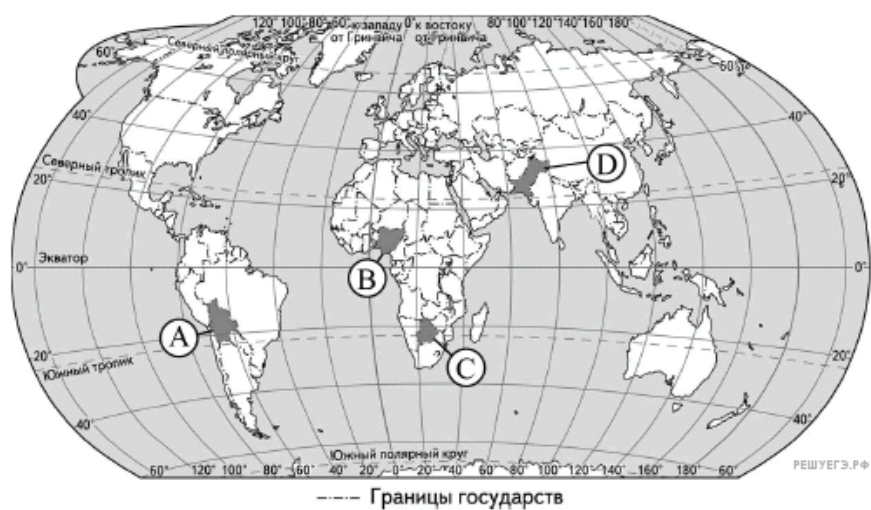
- 1) A
- 2) B
- 3) C
- 4) D

14. Какой буквой на карте Европы обозначена территория государства Чехия?



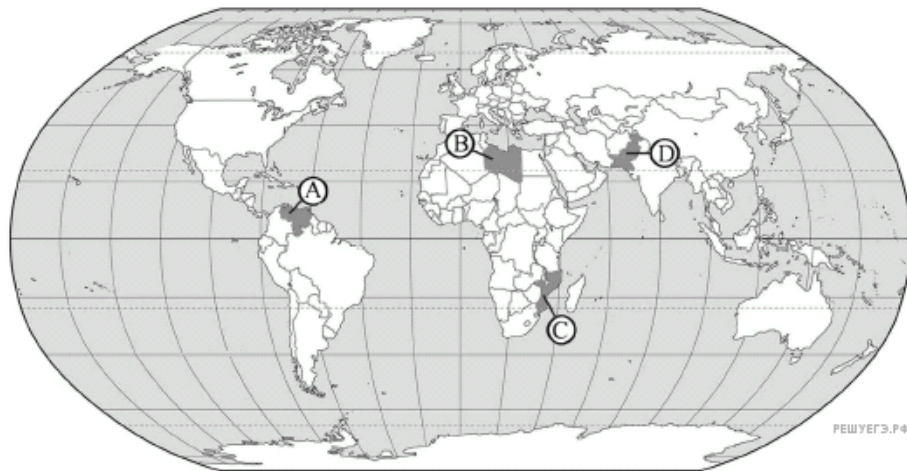
- 1) A
- 2) B
- 3) C
- 4) D

15. Какой буквой на карте мира обозначена территория государства Пакистан?



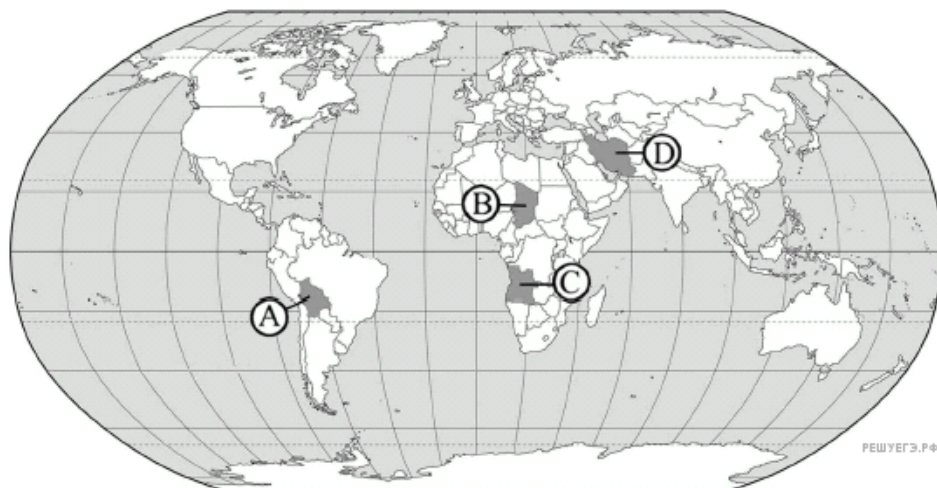
- 1) A
- 2) B
- 3) C
- 4) D

16. Какой буквой на карте обозначена территория государства Венесуэла?



- 1) A
- 2) B
- 3) C
- 4) D

17. Какой буквой на карте обозначена территория государства Боливия?



- 1) A
- 2) B
- 3) C
- 4) D

18. Какой буквой на карте обозначена территория государства Бельгия?



- 1) A
- 2) B
- 3) C
- 4) D

19. Какой буквой на карте обозначена территория государства Латвия?



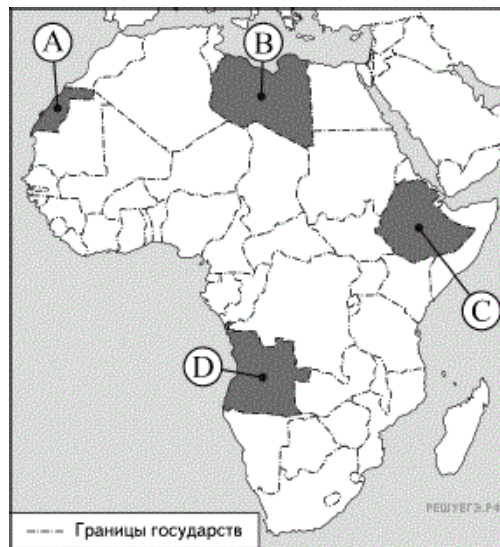
- 1) A
- 2) B
- 3) C
- 4) D

20. Какой буквой на карте Африки обозначена территория государства Ангола?



- 1) A
- 2) B
- 3) C
- 4) D

21. Какой буквой на карте Африки обозначена территория государства Эфиопия?



- 1) A
- 2) B
- 3) C
- 4) D