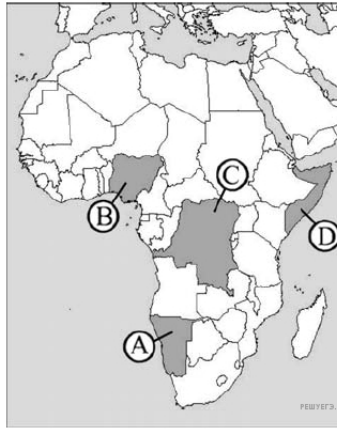
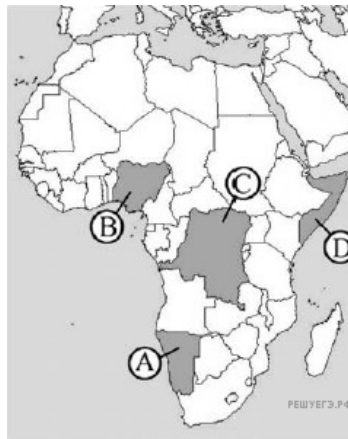


1. Какой буквой на картосхеме Африки обозначено государство ДР Конго?



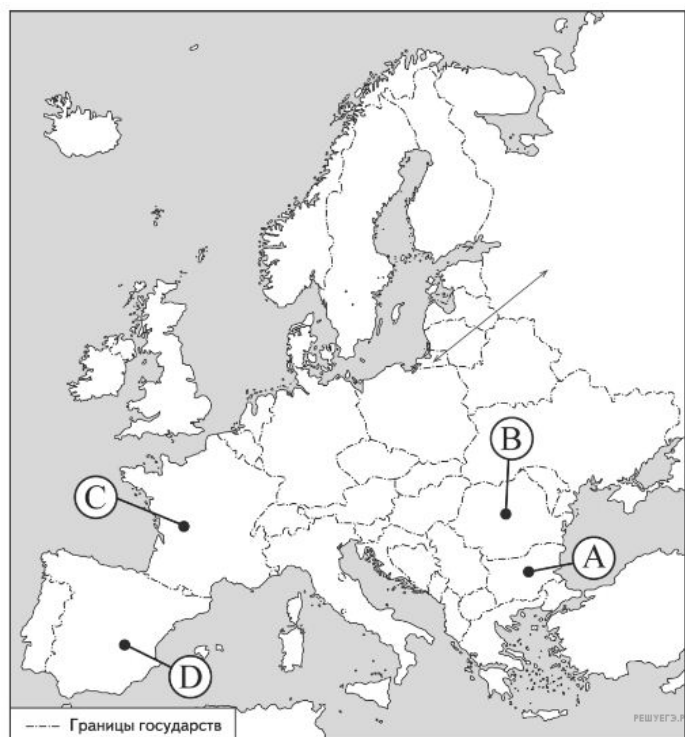
- 1) A
- 2) B
- 3) C
- 4) D

2. Какой буквой на картосхеме Африки обозначено государство Нигерия?



- 1) A
- 2) B
- 3) C
- 4) D

3. Какой буквой на карте Европы обозначена территория государства Испания?



- 1) A
- 2) B
- 3) C
- 4) D

4. Какой буквой на карте Европы обозначена территория государства Румыния?



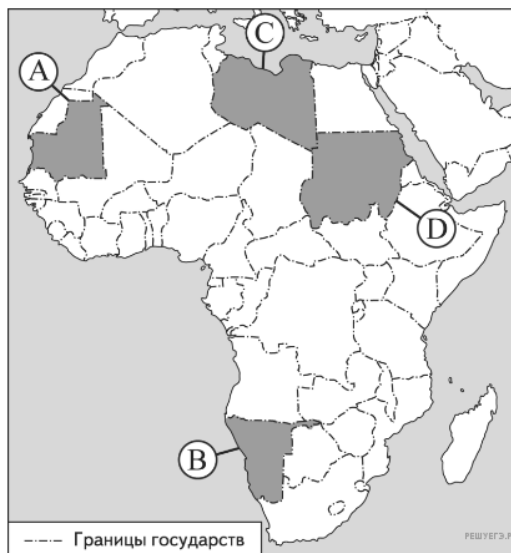
- 1) A
- 2) B
- 3) C
- 4) D

5. Какой буквой на карте Южной Америки обозначена территория государства Аргентина?



- 1) A
- 2) B
- 3) C
- 4) D

6. Какой буквой на карте Африки обозначена территория государства Ливия?



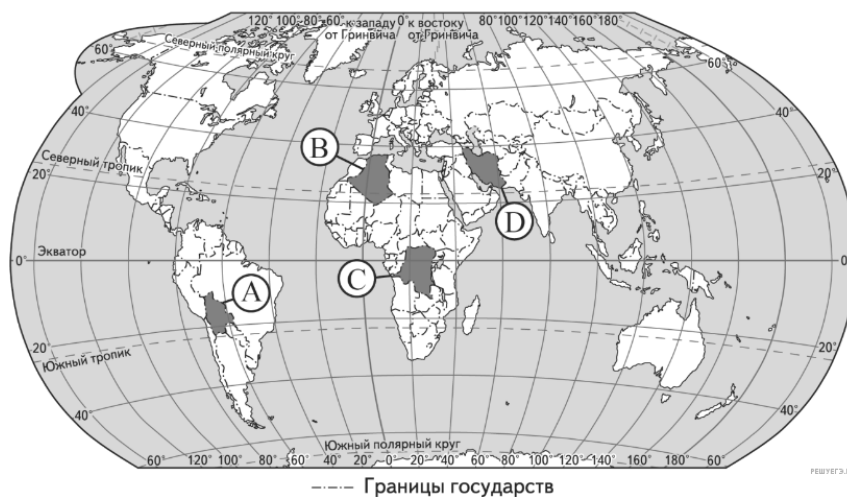
- 1) A
- 2) B
- 3) C
- 4) D

7. Какой буквой на карте Европы обозначена территория государства Нидерланды?



- 1) A
- 2) B
- 3) C
- 4) D

8. Какой буквой на карте мира обозначена территория государства ДР Конго?



- 1) A
- 2) B
- 3) C
- 4) D

9. Какой буквой на карте Южной Америки обозначена территория государства Чили?



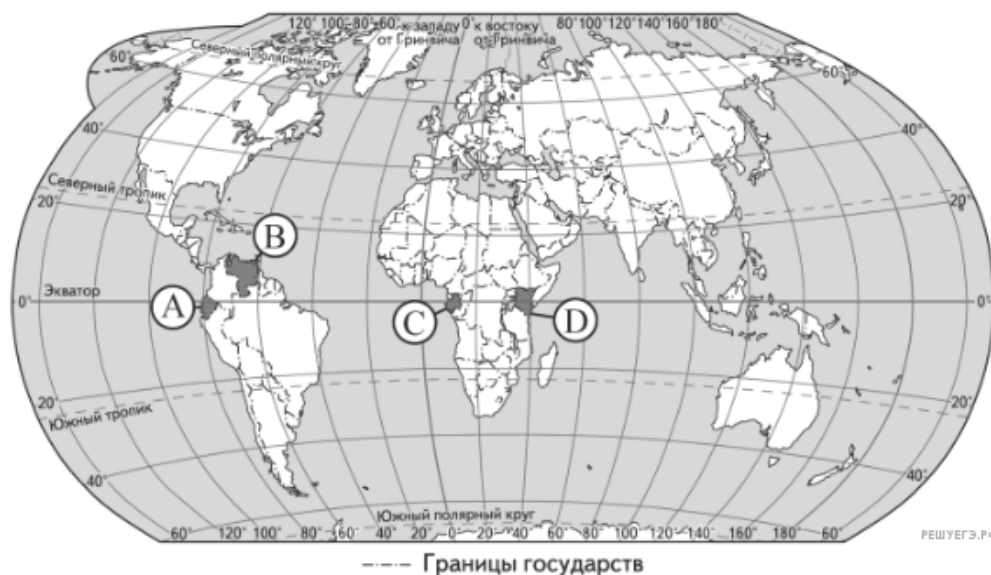
- 1) A
- 2) B
- 3) C
- 4) D

10. Какой буквой на карте Южной Америки обозначена территория государства Аргентина?



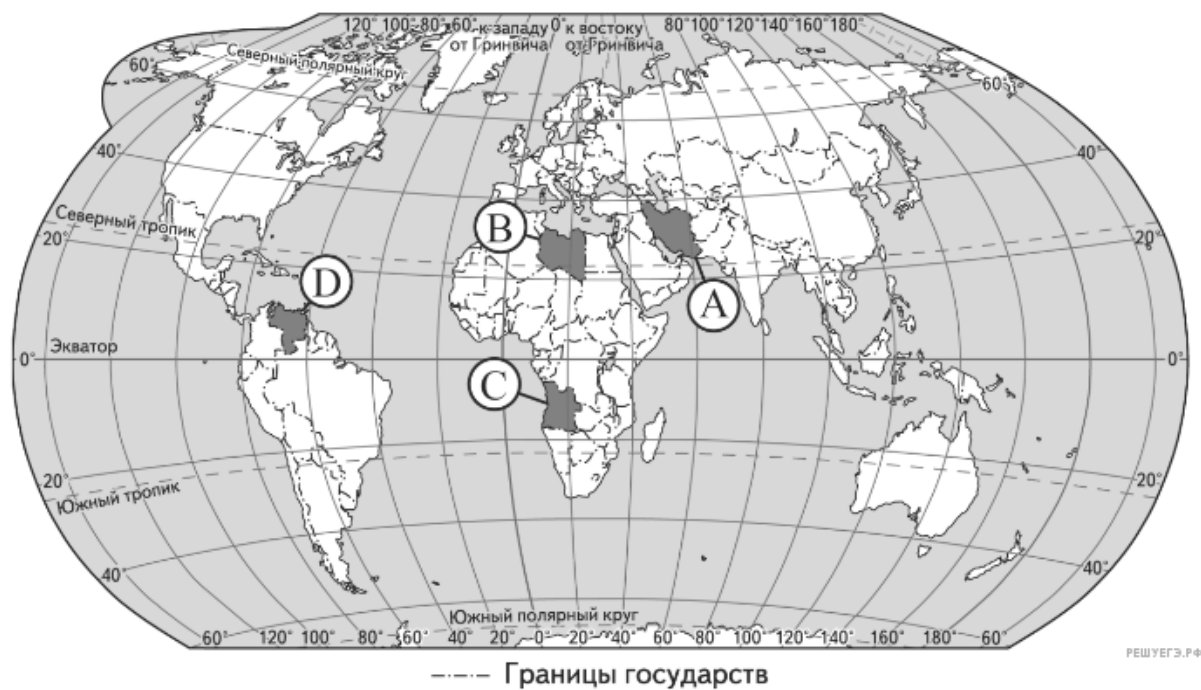
- 1) A
- 2) B
- 3) C
- 4) D

11. Какой буквой на карте мира обозначена территория государства Эквадор?



- 1) A
- 2) B
- 3) C
- 4) D

12. Какой буквой на карте мира обозначена территория государства Ливия?



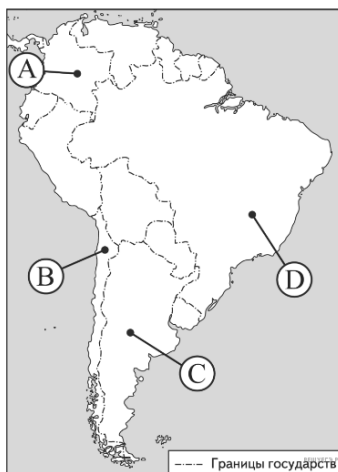
- 1) A
- 2) B
- 3) C
- 4) D

13. Какой буквой на карте Южной Америки обозначена территория государства Колумбия?



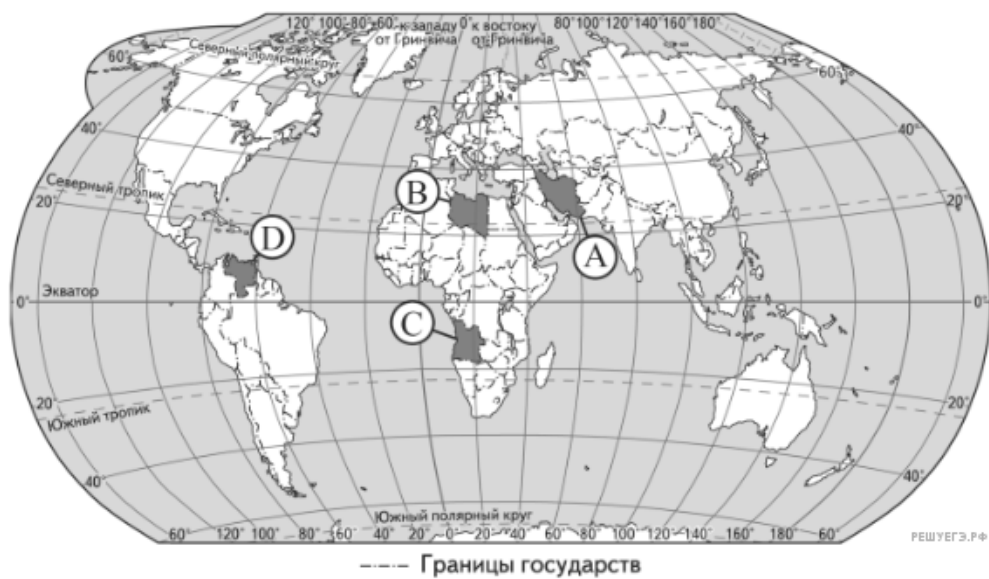
- 1) A
- 2) B
- 3) C
- 4) D

14. Какой буквой на карте Южной Америки обозначена территория государства Бразилия?



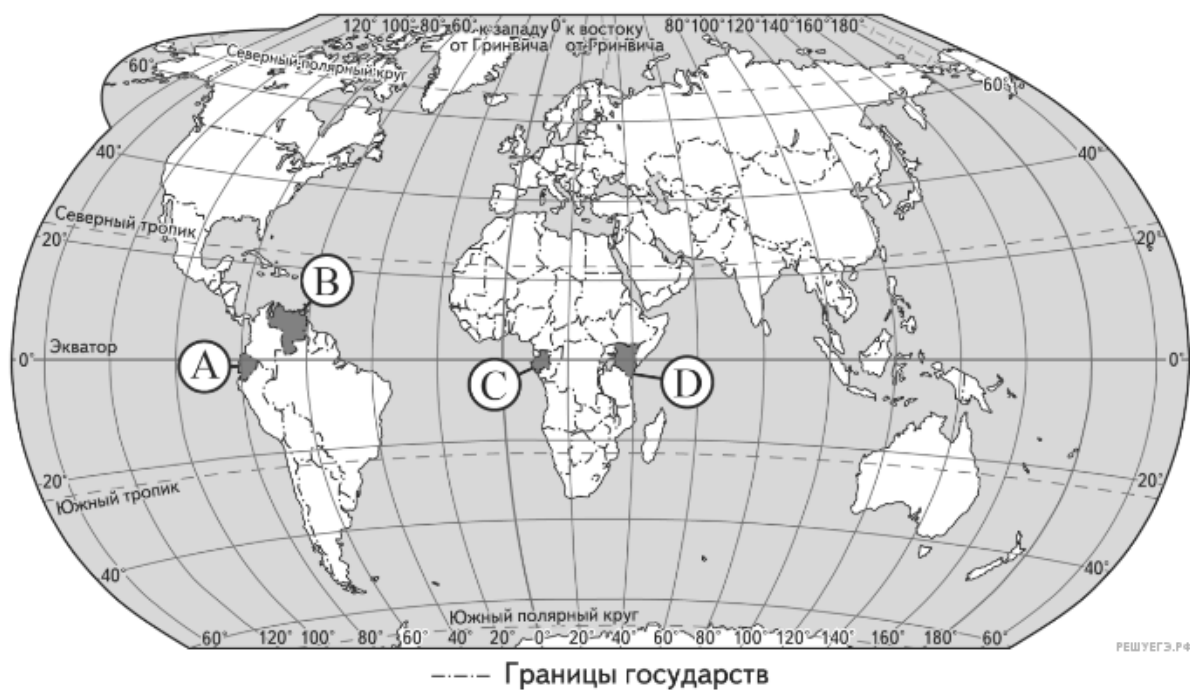
- 1) A
- 2) B
- 3) C
- 4) D

15. Какой буквой на карте мира обозначена территория государства Ангола?



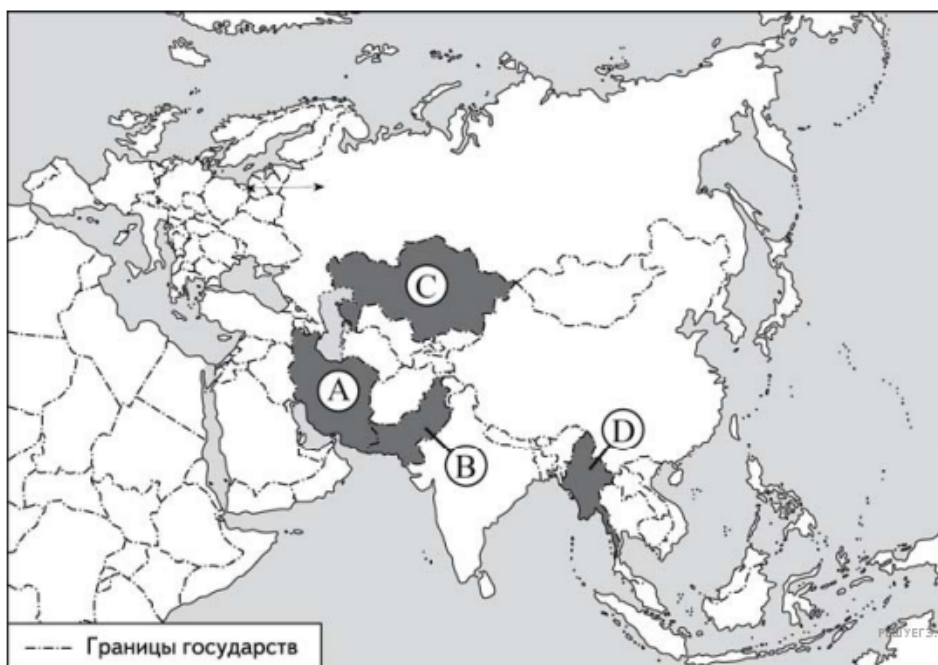
- 1) A
- 2) B
- 3) C
- 4) D

16. Какой буквой на карте мира обозначена территория государства Кения?



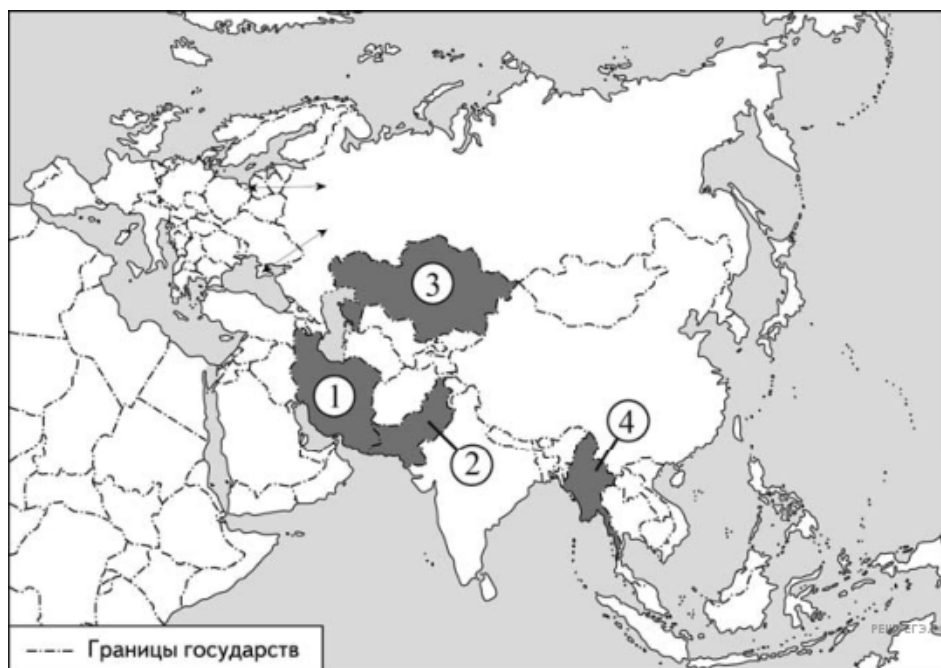
- 1) A
- 2) B
- 3) C
- 4) D

17. Какой буквой на карте Евразии обозначена территория государства Пакистан?



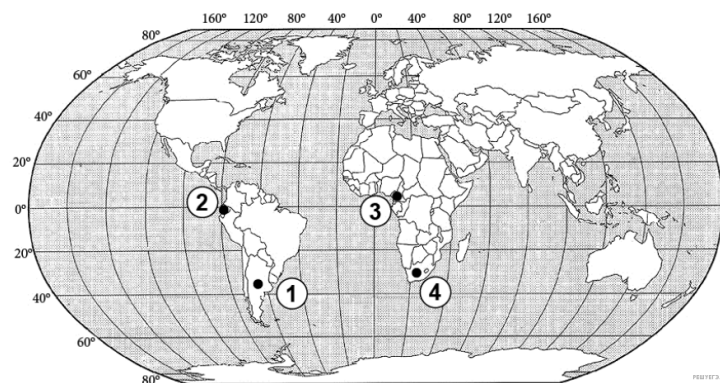
- 1) A
- 2) B
- 3) C
- 4) D

18. Какой цифрой на карте Евразии обозначена территория государства Пакистан?



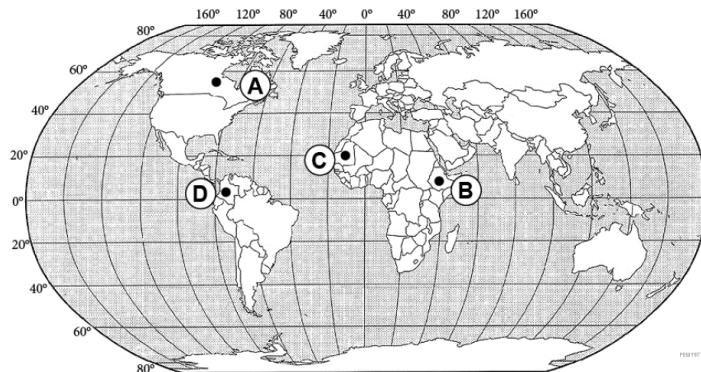
- 1) 1
- 2) 2
- 3) 3
- 4) 4

19. Какой цифрой на карте мира обозначено государство Эквадор?



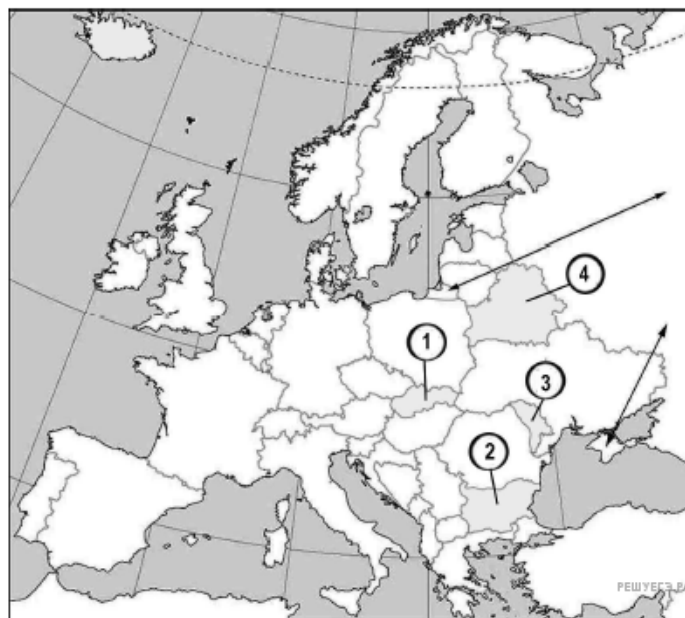
- 1) 1
- 2) 2
- 3) 3
- 4) 4

20. Какой буквой на карте мира обозначено государство Мавритания?



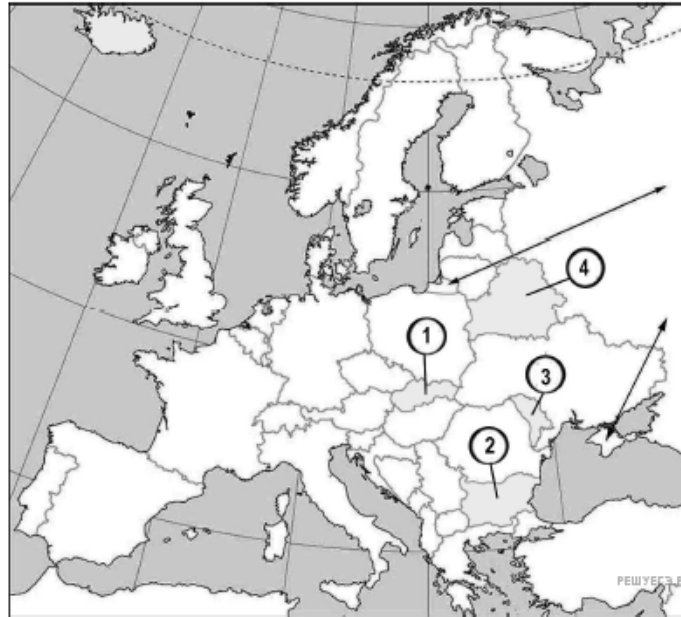
- 1) A
- 2) B
- 3) C
- 4) D

21. Какой цифрой на карте Европы обозначена территория государства Болгария?



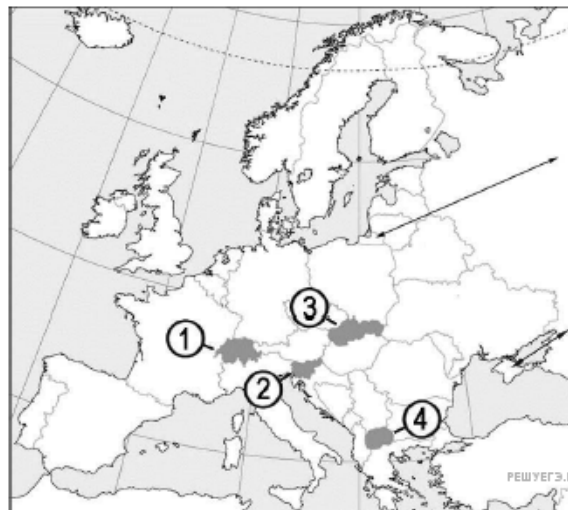
- 1) 1
- 2) 2
- 3) 3
- 4) 4

22. Какой цифрой на карте Европы обозначена территория государства Молдавия?



- 1) 1
- 2) 2
- 3) 3
- 4) 4

23. Какой цифрой на карте Европы обозначена территория государства Швейцария?



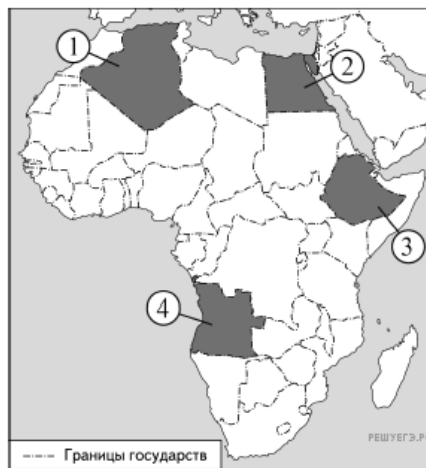
- 1) 1
- 2) 2
- 3) 3
- 4) 4

24. Какой цифрой на карте Европы обозначена территория государства Австрия?



- 1) 1
- 2) 2
- 3) 3
- 4) 4

25. Какой цифрой на карте Африки обозначена территория государства Ангола?



- 1) 1
- 2) 2
- 3) 3
- 4) 4